

**Проверочная работа
по ФИЗИКЕ**

7 класс

Вариант 2

Инструкция по выполнению работы

На выполнение работы по физике даётся 45 минут. Работа содержит 11 заданий.

Ответом на каждое из заданий 1, 3–6, 8, 9 является число или несколько чисел. В заданиях 2 и 7 нужно написать текстовый ответ. В заданиях 10 и 11 нужно написать решения задач полностью. В случае записи неверного ответа зачеркните его и запишите рядом новый.

При выполнении работы можно пользоваться непрограммируемым калькулятором.

При необходимости можно пользоваться черновиком. Записи в черновике проверяться и оцениваться не будут.

Советуем выполнять задания в том порядке, в котором они даны. Для экономии времени пропускайте задание, которое не удаётся выполнить сразу, и переходите к следующему. Постарайтесь выполнить как можно больше заданий.

Желаем успеха!

Заполняется учителем, экспертом или техническим специалистом

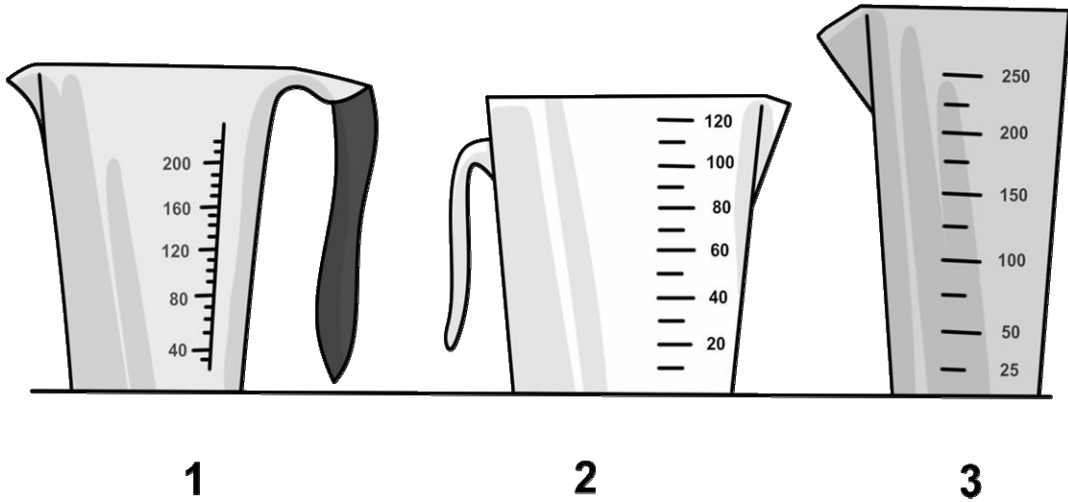
Обратите внимание: в случае, если какие-либо задания не могли быть выполнены целым классом по причинам, связанным с отсутствием соответствующей темы в реализуемой школой образовательной программе, в форме сбора результатов ВПР всем обучающимся класса за данное задание вместо балла выставляется значение «Тема не пройдена». В соответствующие ячейки таблицы заполняется н/п.

Таблица для внесения баллов участника

Номер задания	1	2	3	4	5	6	7	8	9	10	11	Сумма баллов	Отметка за работу
Баллы													

1

Для приготовления пудинга Маше нужно 140 мл молока. На рисунке изображены три мерных стакана. Чему равна цена деления того стакана, который подойдет Маше для того, чтобы наиболее точно отмерить нужный объем?



Ответ: _____ мл.

2

Ранним утром можно заметить, что трава на лугу мокрая, даже если ночью не было дождя. Водяной пар, содержащийся в воздухе, ночью выпадает на траву в виде росы. Как при этом изменяются расстояния между молекулами воды по сравнению с расстояниями между молекулами воды в паре? Изменяется ли при конденсации пара внутреннее строение молекул воды? Объясните свой ответ.

Ответ: _____

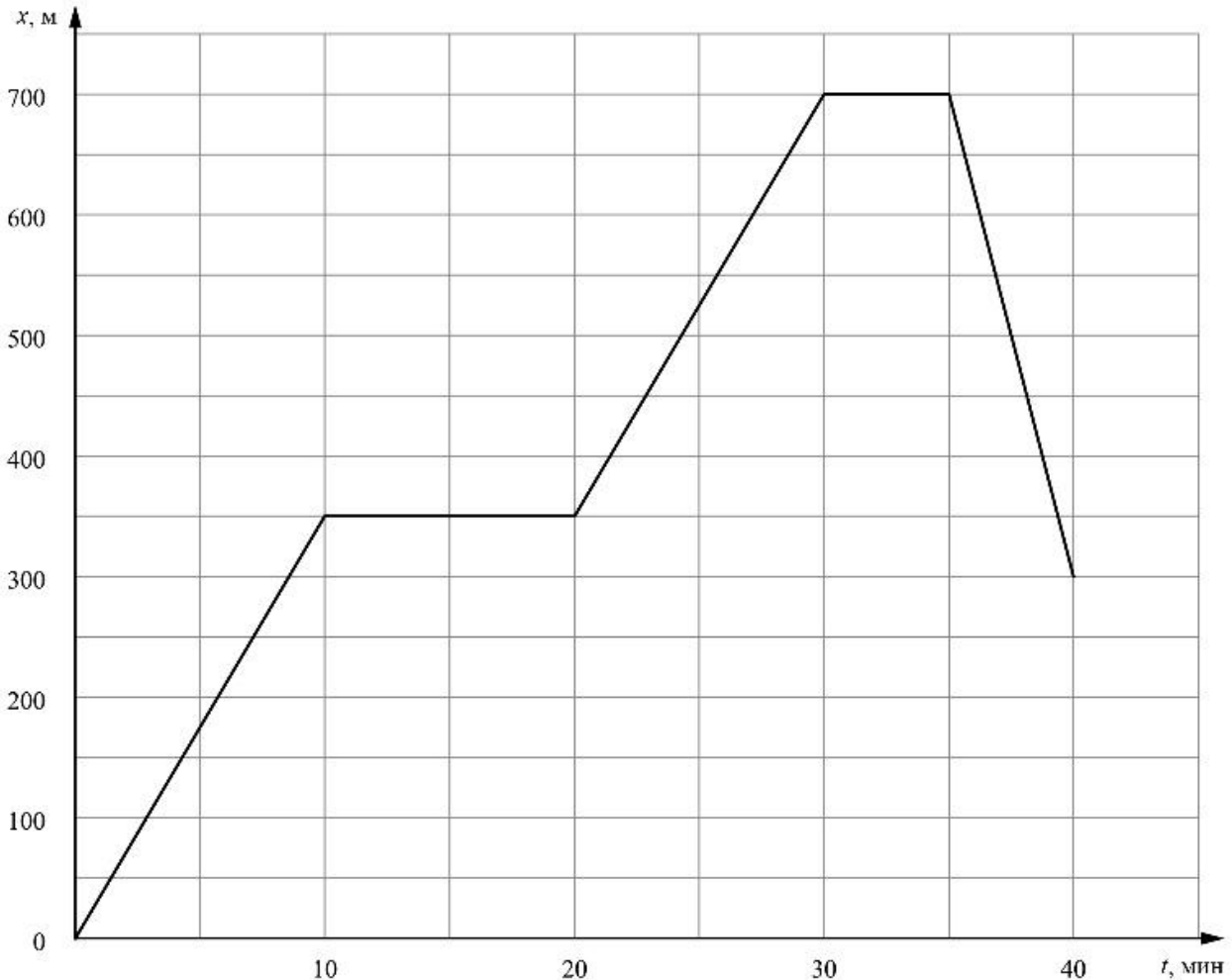
3

Средняя сила удара молотка по гвоздю составляет 23 Н. Какое давление оказывает забиваемый гвоздь на доску в процессе удара, если площадь поперечного сечения его острия $0,0000002 \text{ м}^2$?

Ответ: _____ Па.

4

Тимур гуляет со своими друзьями по прямой аллее в парке, и они играют в прятки. Когда Тимур прячется за скамейкой, он не двигается, в остальное время он бежит по дорожке в поисках укрытия. На графике показана зависимость координаты Тимура от времени. За какое время от начала игры мальчик добрался до своего первого укрытия?



Ответ: _____ мин.

5

Максим налил в стакан доверху воды. Затем в этот стакан он опустил подвешенный на нитке кусочек мела, полностью погрузив его в воду (мел не касался дна и стенок стакана). При этом из стакана вылилось 6 г воды. Определите объем кусочка мела, если плотность воды равна 1 г/см^3 .

Ответ: _____ см^3 .

6

Игорь занимается спринтерским бегом. К концу тренировки он устаёт и бежит стометровку со скоростью $6,5 \text{ м/с}$, а на соревнованиях, со свежими силами — со скоростью 7 м/с . Определите разницу во времени между результатами, показанными Игорем в тренировочном и соревновательном забегах. Ответ выразите в секундах и округлите до десятых долей.

Ответ: _____ с.

7

Надя решила проверить – справедлив ли закон Гука для резинки для волос. В кабинете физики она взяла набор одинаковых грузиков массой по 50 г каждый и стала подвешивать их к резинке. Определите, выполняется ли закон Гука для изучаемой резинки? Ответ кратко поясните.

Количество подвешенных грузиков	Длина резинки, см
1	15
2	17
3	19
4	21
5	23

Ответ: _____

8

Ходить по рыхлому снегу неудобно, так как ноги всё время проваливаются в него. Если такая прогулка всё же необходима, то используют снегоступы. Какой должна быть минимальная площадь одного снегоступа для того, чтобы человек массой 85 кг проваливался в снег не более чем на 5 см? На рыхлом снегу это условие соблюдается при давлении не более 17 кПа. Учтите, что когда человек делает шаг при ходьбе, то в какие-то промежутки времени он опирается только на одну ногу.



Ответ: _____ м².

9

Автомобиль выехал из Москвы в Санкт-Петербург. Сначала автомобиль двигался со скоростью 90 км/ч, и водитель планировал, поддерживая всё время такую скорость, доехать до пункта назначения за 8 часов. Потом оказалось, что некоторые участки дороги не скоростные, скорость движения на них ограничена, и поэтому четверть всего пути машина была вынуждена ехать со скоростью 45 км/ч (а на скоростных участках она ехала с изначально планировавшейся скоростью).

- 1) По данным задачи определите, каково расстояние между Москвой и Санкт-Петербургом.
- 2) Чему оказалась равна средняя скорость автомобиля при движении из Москвы в Санкт-Петербург?

Ответ: 1) _____ км;

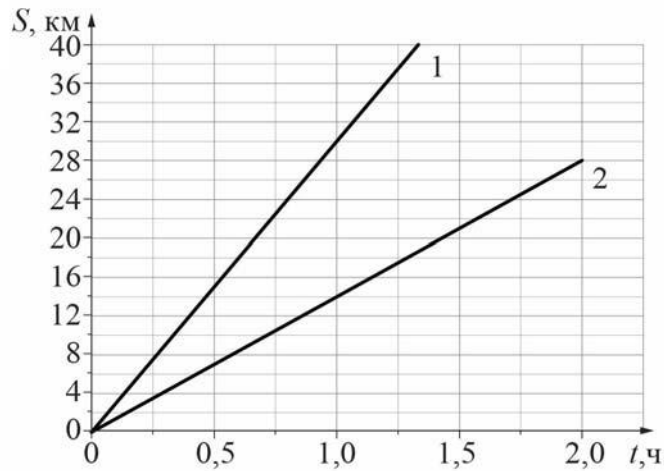
2) _____ км/ч.

10

На рисунке изображены графики зависимостей пути, пройденного грузовым теплоходом вдоль берега, от времени при движении по течению реки и против её течения.

- 1) Определите скорость теплохода при движении по течению реки.
- 2) Определите скорость теплохода при движении против течения реки.
- 3) Какой путь сможет пройти этот теплоход за 90 мин при движении по озеру?

Ответы на вопросы обоснуйте соответствующими рассуждениями или решением задачи.



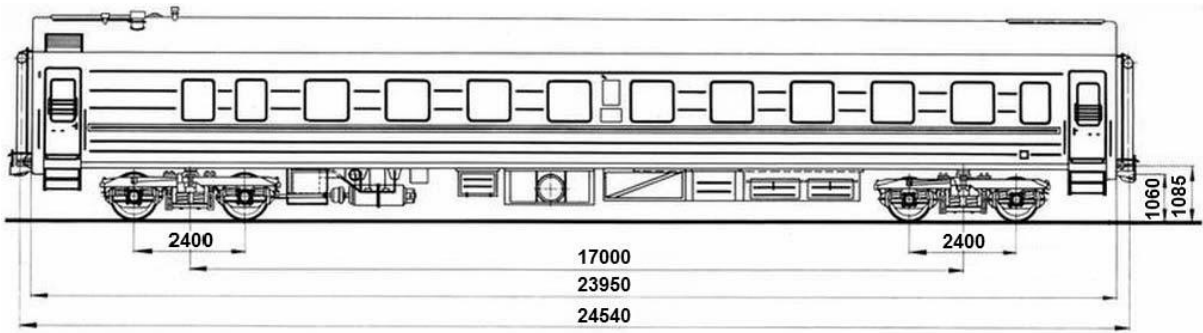
Решение:	
<div style="border: 1px solid black; width: 20px; height: 20px; display: inline-block; margin-right: 5px;"></div> Ответ:	

11

Вдоль стоящего на станции пассажирского поезда идёт обходчик. Он резко ударяет молотком по оси каждого колеса и затем на мгновение прикладывает к ней руку. Пассажир Михаил Юрьевич заметил, что вдоль всего состава обходчик проходит за 4 минут, делая при этом 56 ударов. Пользуясь чертежом вагона, оцените:

- 1) сколько вагонов в поезде?
- 2) с какой средней скоростью идёт обходчик?
- 3) чему равен минимальный интервал времени между слышимыми ударами?

Размеры на чертеже вагона приведены в миллиметрах. Напишите полное решение этой задачи.



Решение:	
Ответ:	



Система оценивания проверочной работы

Правильный ответ на каждое из заданий 1, 3-6, 8 оценивается 1 баллом.

Полный правильный ответ на задание 9 оценивается 2 баллами. Если в ответе допущена одна ошибка (одно из чисел не записано или записано неправильно), выставляется 1 балл; если оба числа записаны неправильно или не записаны – 0 баллов.

№ задания	Ответ
1	10
3	115000000
4	10
5	6
6	1,1
8	0,05
9	720; 72

Решения и указания к оцениванию заданий 2, 7, 10 и 11

2

Решение	
Уменьшаются, поскольку расстояния между частицами вещества в жидком состоянии меньше расстояний между частицами этого же вещества в газообразном состоянии. Нет, внутреннее строение молекул одного и того же вещества одинаково в любом агрегатном состоянии.	
Указания к оцениванию	Баллы
Приведены полностью правильные ответы на оба вопроса задачи и все необходимые объяснения.	2
В решении имеется один или несколько из следующих недостатков : Приведён только правильный ответ без его объяснения. И (ИЛИ) В решении даны верные ответы на оба вопроса, но имеется неточность в их объяснении.	1
Все случаи решения, которые не соответствуют вышеуказанным критериям выставления оценок в 1 или 2 балла.	0
<i>Максимальный балл</i>	
2	

7

Решение	
Да. Удлинение резинки должно быть прямо пропорционально приложенной силе, что выполняется в данном опыте.	
Указания к оцениванию	Баллы
Приведён полностью правильный ответ на вопрос и дано правильное объяснение.	2
В решении имеется один или несколько из следующих недостатков. Приведён только правильный ответ на вопрос без объяснения. ИЛИ Приведено правильное объяснение, но правильный ответ в явном виде отсутствует. И (ИЛИ) Дан правильный ответ на вопрос, но в объяснении имеется неточность.	1
Все случаи решения, которые не соответствуют вышеуказанным критериям выставления оценок в 1 или 2 балла.	0
<i>Максимальный балл</i>	
2	

10

Решение	
<p>1) Скорость относительно берега при движении по течению больше, чем при движении против него. Следовательно, график с большим наклоном соответствует движению теплохода по течению. Пользуясь графиком, определим, что скорость теплохода при движении по течению реки $v_1 = 30$ км/ч.</p> <p>2) Пользуясь графиком, определим, что скорость теплохода при движении против течения $v_2 = 14$ км/ч.</p> <p>3) Пусть скорость течения равна u. Тогда скорость теплохода в стоячей воде $v = v_1 - u = v_2 + u$, откуда скорость течения $u = (v_1 - v_2)/2 = 8$ км/ч, а скорость теплохода в стоячей воде $v = 22$ км/ч. Тогда путь, пройденный теплоходом за $t = 90$ минут = 1,5 ч, составляет $S = v \cdot t = 33$ км.</p> <p>Допускается другая формулировка рассуждений. Ответ: 1) $v_1 = 30$ км/ч; 2) $v_2 = 14$ км/ч; 3) $S = 33$ км.</p>	
Указания к оцениванию	Баллы
<p>Приведено полное решение, включающее следующие элементы: I) записаны положения теории, физические законы, закономерности, формулы и т.п., <u>применение которых необходимо</u> для решения задачи выбранным способом (в данном случае: <i>связь между скоростью, временем движения и пройденным за это время путём; закон сложения скоростей</i>); II) проведены нужные рассуждения, верно осуществлена работа с графиками, схемами, таблицами (при необходимости), сделаны необходимые математические преобразования и расчёты, приводящие к правильному числовому ответу (допускается решение «по частям» с промежуточными вычислениями; часть промежуточных вычислений может быть проведена «в уме»; задача может решаться как в общем виде, так и путём проведения вычислений непосредственно с заданными в условии численными значениями); III) представлен правильный численный ответ на все три вопроса задачи с указанием единиц измерения искомой величины.</p>	3
Приведено полное верное решение (I, II) и дан правильный ответ (III) только для двух из трёх вопросов задачи	2
Приведено полное верное решение (I, II) и дан правильный ответ (III) только для одного из трёх вопросов задачи	1
Все случаи решения, которые не соответствуют вышеуказанным критериям выставления оценок в 1, 2 или 3 балла	0
<i>Максимальный балл</i>	3

11

Решение	
<p>Рассмотрим чертёж.</p> <p>1) У вагона четыре колеса. Поэтому в поезде $56/4 = 14$ вагонов.</p> <p>2) Длина вагона примерно равна 24,5 м. Вдоль всего состава обходчик проходит за 4 мин = 240 с. Значит, длина поезда примерно равна 343 м, а средняя скорость обходчика примерно равна $343 \text{ м} / 240 \text{ с} = 1,43 \text{ м/с}$.</p> <p>3) Минимальное расстояние между осями двух соседних колёс равно 2,4 м. Поэтому минимальный интервал времени между слышимыми ударами равен $2,4 \text{ м} / 1,43 \text{ м/с} = 1,68 \text{ с}$.</p> <p>Ответ: 14 вагонов; 1,43 м/с; 1,68 с.</p> <p>Допускается другая формулировка рассуждений.</p>	
Указания к оцениванию	Баллы
<p>Приведено полное решение, включающее следующие элементы:</p> <p>I) записаны положения теории, физические законы, закономерности, формулы и т.п., <u>применение которых необходимо</u> для решения задачи выбранным способом (в данном случае: <i>связь между скоростью, временем движения и пройденным за это время путём</i>);</p> <p>II) проведены нужные рассуждения, верно осуществлена работа с графиками, схемами, таблицами (при необходимости), сделаны необходимые математические преобразования и расчёты, приводящие к правильному числовому ответу (допускается решение «по частям» с промежуточными вычислениями; часть промежуточных вычислений может быть проведена «в уме»; задача может решаться как в общем виде, так и путём проведения вычислений непосредственно с заданными в условии численными значениями);</p> <p>III) представлен правильный численный ответ на все три вопроса задачи с указанием единиц измерения искомой величины.</p>	3
Приведено полное верное решение (I, II) и дан правильный ответ (III) только для двух пунктов задачи	2
Приведено полное верное решение (I, II) и дан правильный ответ (III) только для одного пункта задачи	1
Все случаи решения, которые не соответствуют вышеуказанным критериям выставления оценок в 1, 2 или 3 балла	0
<i>Максимальный балл</i>	<i>3</i>

Система оценивания выполнения всей работы

Максимальный первичный балл за выполнение работы – **18**.

Рекомендуемая таблица перевода баллов в отметки по пятибалльной шкале

Отметка по пятибалльной шкале	«2»	«3»	«4»	«5»
Первичные баллы	0–4	5–7	8–10	11–18