

**ВСЕРОССИЙСКАЯ ПРОВЕРОЧНАЯ РАБОТА****ФИЗИКА****11 КЛАСС****Вариант 2****Инструкция по выполнению работы**

Проверочная работа включает в себя 18 заданий. На выполнение работы по физике отводится 1 час 30 минут (90 минут).

Оформляйте ответы в тексте работы согласно инструкциям к заданиям. В случае записи неверного ответа зачеркните его и запишите рядом новый.

При выполнении работы разрешается использовать калькулятор и линейку.

При выполнении заданий Вы можете использовать черновик. Записи в черновике проверяться и оцениваться не будут.

Советуем выполнять задания в том порядке, в котором они даны. Для экономии времени пропускайте задание, которое не удаётся выполнить сразу, и переходите к следующему. Если после выполнения всей работы у Вас останется время, Вы сможете вернуться к пропущенным заданиям.

Баллы, полученные Вами за выполненные задания, суммируются. Постарайтесь выполнить как можно больше заданий и набрать наибольшее количество баллов.

***Желаем успеха!***

*Таблица для внесения баллов участника*

Номер задания	1	2	3	4	5	6	7	8	9	10	11	12	13	14	15	16	17	18	Сумма баллов	Отметка за работу
Баллы																				

Ниже приведены справочные данные, которые могут понадобиться Вам при выполнении работы.

### Десятичные приставки

Наименование	Обозначение	Множитель	Наименование	Обозначение	Множитель
гига	Г	$10^9$	сантиметры	см	$10^{-2}$
мега	М	$10^6$	миллиметры	мм	$10^{-3}$
кило	к	$10^3$	микрометры	мкм	$10^{-6}$
гекто	г	$10^2$	нанометры	нм	$10^{-9}$
деци	д	$10^{-1}$	пикометры	пм	$10^{-12}$

<i>Константы</i>	
ускорение свободного падения на Земле	$g = 10 \text{ м/с}^2$
гравитационная постоянная	$G = 6,7 \cdot 10^{-11} \text{ Н} \cdot \text{м}^2 / \text{кг}^2$
универсальная газовая постоянная	$R = 8,31 \text{ Дж}/(\text{моль} \cdot \text{К})$
скорость света в вакууме	$c = 3 \cdot 10^8 \text{ м/с}$
коэффициент пропорциональности в законе Кулона	$k = 9 \cdot 10^9 \text{ Н} \cdot \text{м}^2 / \text{Кл}^2$
модуль заряда электрона (элементарный электрический заряд)	$e = 1,6 \cdot 10^{-19} \text{ Кл}$
постоянная Планка	$h = 6,6 \cdot 10^{-34} \text{ Дж} \cdot \text{с}$

1

Прочитайте перечень понятий, с которыми Вы встречались в курсе физики:

*килоньютон, градус Цельсия, ареометр, материальная точка,  
барометр-анероид, вольтметр, герц.*

Выделите среди этих понятий две группы по выбранному Вами признаку. В каждой группе должно быть не менее двух понятий. Запишите в таблицу название каждой группы и понятия, входящие в эту группу.

Название группы понятий	Перечень понятий
<input type="text"/>	
<input type="text"/>	

2

Выберите **два** верных утверждения о физических явлениях, величинах и закономерностях. Запишите в ответе их номера.

- 1) Одна и та же сила сообщает телу меньшей массы большее ускорение.
- 2) Броуновское движение в жидкости возможно только днём при солнечном свете.
- 3) Одноимённые полюса постоянных магнитов отталкиваются друг от друга.
- 4) Явление полного внутреннего отражения может наблюдаться только при углах падения меньше предельного.
- 5) Отклонение компонент радиоактивного излучения в магнитном поле в противоположные стороны свидетельствует о наличии излучения различной частоты.

Ответ:

<input type="text"/>	<input type="text"/>
----------------------	----------------------

3

Четыре тела двигались по оси  $Ox$ . В таблице представлена зависимость их координат от времени.

$t, c$	0	1	2	3	4	5
$x_1, m$	0	1,0	4,0	9,0	16,0	25,0
$x_2, m$	0	4,0	6,0	9,0	12,0	15,0
$x_3, m$	0	2,3	0	-2,3	0	2,3
$x_4, m$	0	1,5	3,0	4,5	6,0	7,5

У какого из тел скорость может быть постоянна и отлична от нуля?

Ответ: \_\_\_\_\_

4

Положения молекулярно-кинетической теории формулируются следующим образом.

1. Вещество состоит из частиц.
2. Частицы находятся в непрерывном хаотическом движении.
3. Частицы взаимодействуют друг с другом.

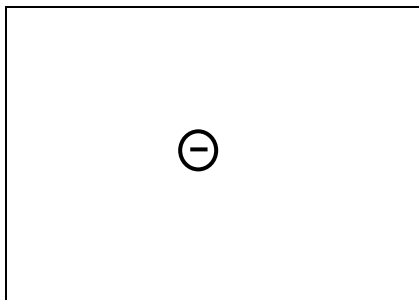
Газы занимают весь предоставленный объем. Каким из положений молекулярно-кинетической теории строения вещества можно объяснить этот факт?

Ответ: \_\_\_\_\_

5

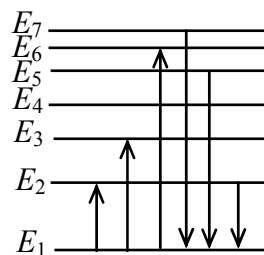
Изобразите на рисунке линии напряжённости электростатического поля неподвижного точечного отрицательного заряда.

Ответ:



6

На рисунке представлена диаграмма нижних энергетических уровней атома. Какой из отмеченных стрелками переходов между энергетическими уровнями сопровождается поглощением кванта максимальной длины волны?




Ответ: \_\_\_\_\_.

7

Для наблюдения внешнего фотоэффекта цинковую пластину облучают фотонами с энергией 5 эВ при неизменной интенсивности излучения.

В таблице даны значения работы выхода электронов для некоторых металлов.

Металл	$A$ , эВ
Калий	2,2
Литий	2,3
Натрий	2,5
Платина	6,3
Серебро	4,7
Цинк	4,0

Как изменятся фототок насыщения и кинетическая энергия фотоэлектронов, если цинковую пластину заменить на серебряную?

Для каждой величины определите соответствующий характер изменения:

- 1) увеличится
- 2) уменьшится
- 3) не изменится

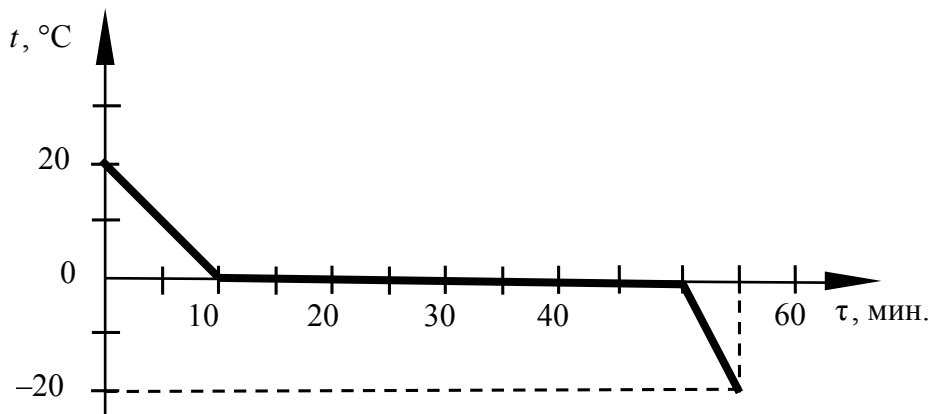
Запишите в таблицу выбранные цифры для каждой физической величины. Цифры в ответе могут повторяться.



Фототок насыщения	Кинетическая энергия фотоэлектронов

8

Воду массой 2 кг непрерывно охлаждали в сосуде при постоянной скорости теплоотвода. Зависимость температуры воды от времени представлена на графике.



Выберите **два** верных утверждения, соответствующих данным графика. Запишите в ответе их номера.

- 1) Лёд является аморфным веществом.
- 2) Через 15 мин. после начала остывания в сосуде находилась только вода.
- 3) Вся вода превратилась в лёд через 40 мин. после начала кристаллизации.
- 4) Удельная теплоёмкость воды в 2 раза меньше, чем удельная теплоёмкость льда.
- 5) При остывании воды на 20 °С выделяется в 2 раза большее количество теплоты, чем при остывании льда на 20 °С.

Ответ:

--	--

9

Электрическая линия для розеток в кухне оснащена автоматическим выключателем, который размыкает линию, если сила тока в ней превышает 25 А. Напряжение электрической сети 220 В.

В таблице представлены электрические приборы, используемые на кухне, и потребляемая ими мощность.

<i>Электрические приборы</i>	<i>Потребляемая мощность, Вт</i>
Духовка электрическая	2300
Посудомоечная машина	1800
Кофеварка	1500
Микроволновая печь	1800
Тостер-печь	1100
Кондиционер	1000
Холодильник	180
Электрический чайник	1800
Блендер	300

На кухне работают посудомоечная машина, холодильник и электрическая духовка. Можно ли при этом дополнительно включить электрический чайник? Запишите решение и ответ.

Решение: \_\_\_\_\_

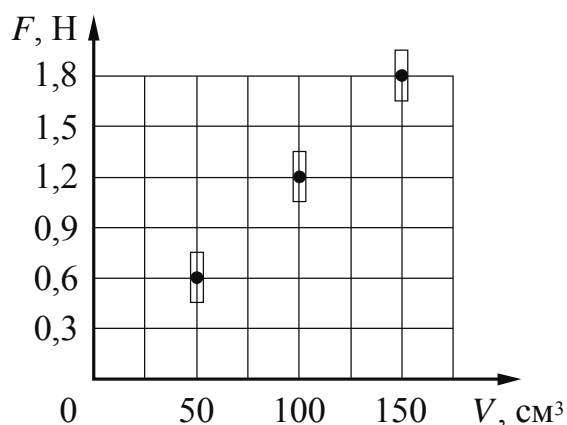
\_\_\_\_\_

\_\_\_\_\_

Ответ: \_\_\_\_\_

10

Ученик исследовал зависимость силы Архимеда от объёма погружённой в жидкость части тела. В таблице представлены результаты измерений объёма погружённой части тела и силы Архимеда с учётом погрешностей измерений.

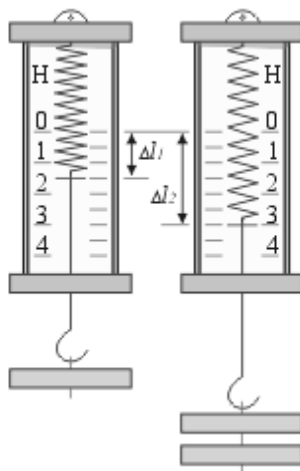


Какова приблизительно плотность жидкости, в которую опускали тело?

Ответ: \_\_\_\_\_ кг/м<sup>3</sup>.

11

Учащиеся на уроке последовательно подвешивали к пружине динамометра грузы равной массой, исследуя зависимость удлинения пружины от количества подвешиваемых грузов.



С какой целью проводился данный опыт?

Ответ: \_\_\_\_\_

\_\_\_\_\_

\_\_\_\_\_

\_\_\_\_\_





13

Установите соответствие между научными открытиями и именами учёных, которым эти открытия принадлежат. К каждой позиции первого столбца подберите соответствующую позицию из второго столбца и запишите в таблицу выбранные цифры под соответствующими буквами.

## НАУЧНЫЕ ОТКРЫТИЯ

- А) открытие нейтрона  
Б) открытие атомного ядра

## ИМЕНА УЧЁНЫХ

- 1) А. Беккерель  
2) Дж. Чедвик  
3) Э. Резерфорд  
4) Дж. Дж. Томсон

Ответ:

А	Б

**Прочитайте текст и выполните задания 14 и 15.**

### Жидкокристаллические телевизоры

Существуют разные виды телевизоров: телевизоры с электронно-лучевой трубкой (кинескопом), жидкокристаллические и плазменные телевизоры. С точки зрения физики эти телевизоры различаются принципом перевода электромагнитного сигнала в зрительный образ.

Так, изображение в электронно-лучевой трубке формируется с помощью электронного луча, который с большой скоростью «рисует» на экране, покрытом специальным веществом (люминофором), каждую строчку изображения. Скорость луча настолько велика, что, глядя на экран, мы воспринимаем картинку целиком, однако мерцание легко заметить боковым зрением. Для цветных кинескопов разработаны люминофоры, дающие три основных цвета свечения: синий, зелёный, красный.

Экран жидкокристаллического (ЖК) телевизора представляет собой панель, состоящую из ячеек с жидкими кристаллами, подсвечиваемых с обратной стороны специальной лампой. Жидкие кристаллы обладают одновременно основными свойствами кристалла и жидкости. С одной стороны, эти вещества текучи. С другой стороны, они характеризуются порядком в расположении молекул и, соответственно, анизотропией физических свойств (зависимостью оптических, электрических и других свойств от направления в веществе).

Оптические свойства жидких кристаллов изменяются в электрических полях. В электрическом поле кристалл ориентируется и делает ячейку то светлее (открывая), то темнее (закрывая). Изображение складывается из точек (пикселей), а каждая из них формируется тремя кристаллами, которые дают красный, зелёный и синий цвета. У большинства моделей ЖК есть свой недостаток: они не дают «радикально чёрного» цвета (кристалл не затеняет ячейку на 100%). К достоинствам ЖК телевизоров можно отнести отличную фокусировку и чёткость, отсутствие мерцания экранов, к тому же при одинаковом размере экрана они легче и занимают меньше места, чем телевизоры с кинескопом.

14

На каком явлении основан принцип перевода электромагнитного сигнала в зрительный образ в жидкокристаллическом телевизоре?

Ответ: \_\_\_\_\_

15

Почему экранам жидкокристаллических телевизоров не свойственно мерцание, как телевизорам с электронно-лучевой трубкой?

Ответ: \_\_\_\_\_

**Прочитайте текст и выполните задания 16, 17 и 18.**

**Гамма-излучение**

Гамма излучение было открыто в начале XX в. при изучении радиоактивного излучения радия. Гамма излучение – широкий диапазон электромагнитного спектра, поскольку он не ограничен со стороны высоких энергий. Мягкое гамма-излучение с энергией от 100 кэВ образуется при энергетических переходах внутри атомных ядер. Более жёсткое, с энергией от 10 МэВ, – при ядерных реакциях. Космические гамма-лучи почти полностью задерживаются атмосферой Земли. Наблюдать их можно только из космоса.

Гамма-кванты сверхвысоких энергий (от 100 ТэВ) рождаются при столкновении заряженных частиц, разогнанных мощными электромагнитными полями космических объектов или земных ускорителей элементарных частиц. В атмосфере они крушат ядра атомов, порождая каскады частиц, летящих с околосветовой скоростью. При торможении эти частицы испускают свет, который наблюдают специальными телескопами на Земле.

Где и как образуются гамма-лучи ультравысоких энергий (от 100 ТэВ<sup>1</sup>), пока не вполне ясно. Земным технологиям такие энергии недоступны. Самые энергичные кванты ( $10^{20}$ – $10^{21}$  эВ), приходят из космоса крайне редко – примерно один квант в 100 лет на квадратный километр.

Гамма-кванты негативно воздействуют на организм человека и являются мутагенным фактором. Обладая высокой проникающей способностью, они ионизируют и разрушают молекулы, которые, в свою очередь, начинают ионизировать следующую порцию молекул. Происходит трансформация клеток и появление мутированных клеток, которые не способны исполнять возложенные на них функции.

Несмотря на опасность таких лучей, их используют в различных областях, соблюдая необходимые меры защиты, например для стерилизации продуктов, обработки медицинского инструментария и техники, контроля над внутренним состоянием ряда изделий, а также для культивирования растений. В последнем случае мутации сельскохозяйственных культур позволяют использовать их для выращивания на территории стран, изначально к этому не приспособленных.



Применяются гамма-лучи при лечении различных онкологических заболеваний. Метод получил название лучевой терапии.

$$^1 1 \text{ ТэВ} = 10^{12} \text{ эВ}; 1 \text{ эВ} = 1,6 \cdot 10^{-19} \text{ Дж.}$$

16

Вставьте в предложение пропущенные сочетания слов, используя информацию из текста.

Мягкое гамма-излучение образуется в процессе энергетических переходов \_\_\_\_\_, а гамма-кванты с энергией более 100 гигаэлектронвольт возникают при взаимодействии \_\_\_\_\_ в ускорителях элементарных частиц.

17

Энергия кванта определяется по формуле  $E = h\nu$ . Определите частоту гамма-излучения, которое порождает в атмосфере Земли каскады частиц, летящих со скоростями, близкими к скорости света.

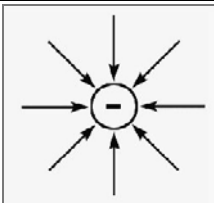
Ответ: \_\_\_\_\_

18

На одном из медицинских сайтов можно прочитать: «При неконтролируемом стихийном воздействии на человека излучения из гамма-спектра последствия дают о себе знать нескоро. Подчас облучение может "отыграться" на следующем поколении, не имея видимых последствий для родителей». Обоснуйте это утверждение.

Ответ: \_\_\_\_\_  
\_\_\_\_\_  
\_\_\_\_\_  
\_\_\_\_\_  
\_\_\_\_\_  
\_\_\_\_\_  
\_\_\_\_\_

### Ответы к заданиям

2	Ответ:	13	2 балла, если верно указаны два элемента ответа; 1 балл, если допущена одна ошибка или верно указан только один элемент ответа
3	Ответ:	тело 4	1 балл, если приведён верный ответ
4	Ответ:	2. Частицы находятся в непрерывном хаотическом движении.	1 балл, если приведён верный ответ
5	Ответ:		1 балл, если приведён верный рисунок
6	Ответ:	с уровня 1 на уровень 2	1 балл, если приведён верный ответ
7	Ответ:	32	2 балла, если верно указаны два элемента ответа; 1 балл, если допущена одна ошибка или верно указан только один элемент ответа
8	Ответ:	35	2 балла, если верно указаны два элемента ответа; 1 балл, если допущена одна ошибка или верно указан только один элемент ответа
10	Ответ:	ответ в диапазоне от 1150 до 1250	1 балл, если приведён верный ответ
13	Ответ:	23	2 балла, если верно указаны два элемента ответа; 1 балл, если допущена одна ошибка или верно указан только один элемент ответа
16	Ответ:	внутри ядер / внутри ядер атомов заряженных частиц	1 балл
17	Ответ:	$2 \cdot 10^{25}$ Гц	1 балл

## Критерии оценивания заданий с развернутым ответом

1

Возможный ответ		
Название группы понятий	Перечень понятий	
Единицы физических величин	Килоньютон, градус Цельсия, герц	
Физические приборы	Ареометр, барометр-анероид, вольтметр	
Материальная точка – лишнее понятие, не входящее ни в одну из групп.		
Допускается деление на группы по другим признакам, имеющим обоснование с точки зрения физики		
Указания к оцениванию		Баллы
Верно заполнены все клетки таблицы		2
Верно указаны названия групп понятий, но допущено не более двух ошибок при распределении понятий по группам. ИЛИ Приведено верное распределение по группам, но допущена ошибка в названии одной из групп. ИЛИ В одну из групп добавлено лишнее понятие		1
Другие случаи, не удовлетворяющие критериям на 2 и 1 балл		0
<i>Максимальный балл</i>		2

9

Возможный ответ		
Максимальная мощность, на которую рассчитана проводка, $P = IU = 25 \cdot 220 = 5500$ Вт. Суммарная мощность всех включенных в сеть электроприборов не должна превышать 5,5 кВт. Электрический чайник включить нельзя, так как суммарная мощность посудомоечной машины, электрической духовки, холодильника и электрического чайника составляет 6080 Вт (т.е. превышает максимально допустимую). <i>Указание экспертам:</i> учащиеся могут проводить сравнение либо по потребляемой мощности, либо по потребляемому электрическому току		
Указания к оцениванию		Баллы
Приведён верный ответ и его обоснование (решение)		2
Приведён верный ответ, но в обосновании (решении) допущена вычислительная ошибка. ИЛИ Обоснование (решение) неполное		1
Другие случаи, не удовлетворяющие критериям на 2 и 1 балл		0
<i>Максимальный балл</i>		2

11

Возможный ответ		
Исследовать закон Гука / закон упругой деформации. / Показать, что сила упругости увеличивается с увеличением деформации		
Указания к оцениванию		Баллы
Представлен верный ответ		1
Ответ неверный. ИЛИ В ответе допущена ошибка		0
<i>Максимальный балл</i>		1

12

<b>Возможный ответ</b>	
1. Объем сильфона очень медленно уменьшают, чтобы температура воздуха в процессе сжатия оставалась неизменной. Можно использовать сосуд с водой в качестве термостата. За изменением давления следят при помощи манометра. 2. Изменение объема фиксируют при помощи линейки, прикрепленной к сильфону. Объем воздуха в сосуде пропорционален высоте сосуда. Необходимо снять два-три показания манометра при разных значениях объема	
<b>Указания к оцениванию</b>	<b>Баллы</b>
Описана экспериментальная установка. Указаны порядок проведения опыта и ход измерения объема и давления воздуха в сосуде	2
Описана экспериментальная установка, но допущена ошибка либо в описании порядка проведения опыта, либо в проведении измерений	1
Другие случаи, не удовлетворяющие критериям на 2 и 1 балл	0
<i>Максимальный балл</i>	2

14

<b>Возможный ответ</b>	
В жидкокристаллическом телевизоре кристаллы ориентируются в электрическом поле, при этом затевают подсвеченные сзади ячейки то сильнее, то слабее	
<b>Указания к оцениванию</b>	<b>Баллы</b>
Представлено верное объяснение, не содержащее ошибок	1
Объяснение не представлено. ИЛИ В объяснении допущена ошибка	0
<i>Максимальный балл</i>	1

15

<b>Возможный ответ</b>	
В жидкокристаллических телевизорах отсутствует мерцание, так как изображение формируется сразу по всему экрану, а не постепенно, как в электронно-лучевой трубке при помощи электронного луча	
<b>Указания к оцениванию</b>	<b>Баллы</b>
Представлено верное объяснение, не содержащее ошибок	1
Объяснение не представлено. ИЛИ В объяснении допущена ошибка	0
<i>Максимальный балл</i>	1

18

<b>Возможный ответ</b>	
Гамма излучение обладает мутагенным действием. При воздействии на цепочку ДНК гамма-лучи способны вызывать мутации, негативно изменять механизм наследственности. Последствия таких изменений могут проявиться только в следующем поколении	
<b>Указания к оцениванию</b>	<b>Баллы</b>
Представлен правильный ответ на вопрос, и приведено достаточное обоснование, не содержащее ошибок	2
Представлен правильный ответ на поставленный вопрос, но его обоснование не является достаточным. ИЛИ Представлены корректные рассуждения, приводящие к правильному ответу, но ответ явно не сформулирован	1
Другие случаи, не удовлетворяющие критериям на 2 и 1 балл	0
<i>Максимальный балл</i>	2

### Система оценивания выполнения всей работы

Максимальный балл за выполнение работы – 26.

*Рекомендуемая шкала перевода суммарного балла за выполнение ВПр в отметку по пятибалльной шкале*

Отметка по пятибалльной шкале	«2»	«3»	«4»	«5»
Суммарный балл	0–8	9–15	16–20	21–26