

ВСЕРОССИЙСКАЯ ПРОВЕРОЧНАЯ РАБОТА**ФИЗИКА****11 КЛАСС****Вариант 1****Инструкция по выполнению работы**

Проверочная работа включает в себя 18 заданий. На выполнение работы по физике отводится 1 час 30 минут (90 минут).

Оформляйте ответы в тексте работы согласно инструкциям к заданиям. В случае записи неверного ответа зачеркните его и запишите рядом новый.

При выполнении работы разрешается использовать калькулятор и линейку.

При выполнении заданий Вы можете использовать черновик. Записи в черновике проверяться и оцениваться не будут.

Советуем выполнять задания в том порядке, в котором они даны. Для экономии времени пропускайте задание, которое не удаётся выполнить сразу, и переходите к следующему. Если после выполнения всей работы у Вас останется время, Вы сможете вернуться к пропущенным заданиям.

Баллы, полученные Вами за выполненные задания, суммируются. Постарайтесь выполнить как можно больше заданий и набрать наибольшее количество баллов.

Желаем успеха!

Таблица для внесения баллов участника

Номер задания	1	2	3	4	5	6	7	8	9	10	11	12	13	14	15	16	17	18	Сумма баллов	Отметка за работу
Баллы																				

Ниже приведены справочные данные, которые могут понадобиться Вам при выполнении работы.

Десятичные приставки

Наименование	Обозначение	Множитель	Наименование	Обозначение	Множитель
гига	Г	10^9	сантиметры	см	10^{-2}
мега	М	10^6	миллиметры	мм	10^{-3}
кило	к	10^3	микрометры	мкм	10^{-6}
гекто	г	10^2	нанометры	нм	10^{-9}
деци	д	10^{-1}	пикометры	пм	10^{-12}

<i>Константы</i>	
ускорение свободного падения на Земле	$g = 10 \text{ м/с}^2$
гравитационная постоянная	$G = 6,7 \cdot 10^{-11} \text{ Н} \cdot \text{м}^2/\text{кг}^2$
универсальная газовая постоянная	$R = 8,31 \text{ Дж}/(\text{моль} \cdot \text{К})$
скорость света в вакууме	$c = 3 \cdot 10^8 \text{ м/с}$
коэффициент пропорциональности в законе Кулона	$k = 9 \cdot 10^9 \text{ Н} \cdot \text{м}^2/\text{Кл}^2$
модуль заряда электрона (элементарный электрический заряд)	$e = 1,6 \cdot 10^{-19} \text{ Кл}$
постоянная Планка	$h = 6,6 \cdot 10^{-34} \text{ Дж} \cdot \text{с}$

1

Прочитайте перечень понятий, с которыми Вы встречались в курсе физики:

генри, кипение, интерференция, кулон, литр, инерция

Разделите эти понятия на две группы по выбранному Вами признаку. Запишите в таблицу название каждой группы и понятия, входящие в эту группу.

Название группы понятий	Перечень понятий
<input type="text"/>	
<input type="text"/>	

2

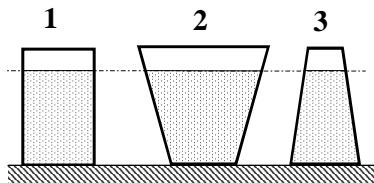
Выберите **два** верных утверждения о физических явлениях, величинах и закономерностях. Запишите в ответе их номера.

- 1) В инерциальной системе отсчёта импульс системы тел сохраняется, если сумма внешних сил отлична от нуля, но не меняется с течением времени.
- 2) Силы взаимного гравитационного притяжения двух тел прямо пропорциональны расстоянию между телами и обратно пропорциональны произведению масс этих тел.
- 3) Давление смеси разреженных газов равно сумме их парциальных давлений.
- 4) Два неподвижных точечных заряда в вакууме действуют друг на друга с силами, обратно пропорциональными расстоянию между ними.
- 5) Свободными носителями зарядов в ионизированных газах являются электроны, а также положительные и отрицательные ионы.

Ответ:

3

На рисунке изображены три сосуда с жидкостями. Площади дна каждого из сосудов равны. В первом сосуде находится вода; во втором – керосин (плотность равна 800 кг/м^3); в третьем – спирт (плотность равна 800 кг/м^3). Сравните давления жидкостей p_1 , p_2 и p_3 на дно соответствующего сосуда.



Ответ: _____

4

В таблице приведены температуры плавления и кипения некоторых веществ при нормальном атмосферном давлении.

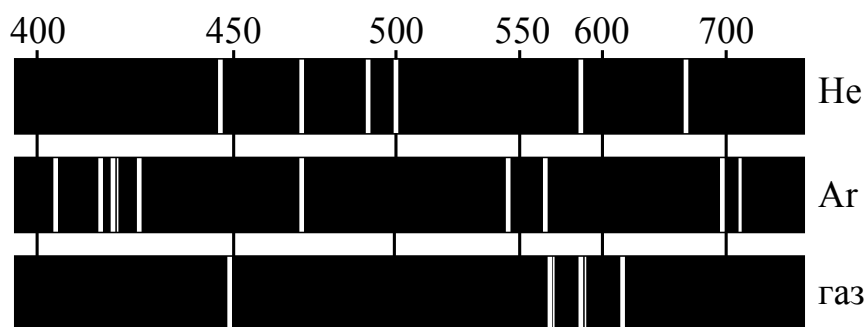
Вещество	Температура плавления	Температура кипения
Хлор	171 К	– 34 °С
Спирт	159 К	78 °С
Ртуть	234 К	357 °С
Нафталин	353 К	217 °С

Какое(-ие) из данных веществ будет(-ут) находиться в газообразном состоянии при температуре –12 °С и нормальном атмосферном давлении?

Ответ: _____

5

На рисунке приведены спектры излучения атомарных паров гелия, аргона и неизвестного газа. Какое(-ие) вещество(-а) – гелий или аргон – входит(-ят) в состав неизвестного газа?



Ответ: _____

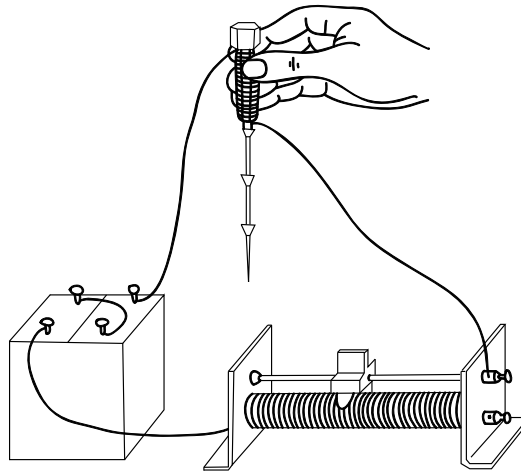
6

Период полураспада радиоактивного изотопа кальция ${}_{20}^{45}\text{Ca}$ составляет 164 суток. Если изначально было 4 мкг ${}_{20}^{45}\text{Ca}$, то сколько этого изотопа останется через 328 суток?

Ответ: _____.

7

При пропускании электрического тока по изолированному проводу, намотанному на железный болт, к болту притягиваются гвозди (см. рисунок).



Как изменятся сила тока в электрической цепи и модуль магнитной индукции у торца болта при перемещении ползунка реостата влево?

Для каждой величины определите соответствующий характер изменения:

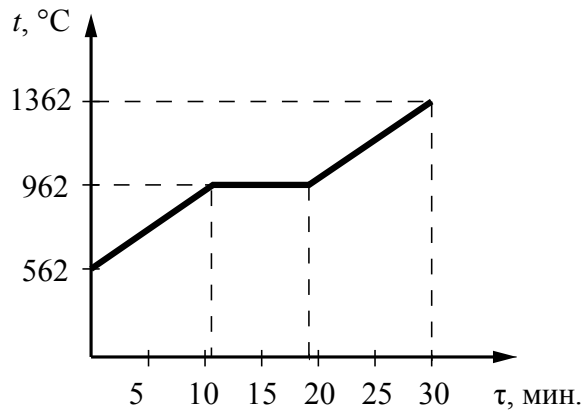
- 1) увеличится
- 2) уменьшится
- 3) не изменится

Запишите в таблицу выбранные цифры для каждой физической величины. Цифры в ответе могут повторяться.

Сила тока	Модуль магнитной индукции у торца болта

8

На рисунке представлен график зависимости температуры серебряной детали от времени её нагревания. Мощность нагревателя постоянна. Первоначально серебро находилось в твёрдом состоянии.



Выберите **два** верных утверждения, соответствующих данным графика. Запишите в ответе их номера.

- 1) Температура плавления серебра составляет 562 °C.
- 2) В промежуток времени от 12 до 18 мин. внутренняя энергия серебра не изменялась.
- 3) Для нагревания серебряной детали потребовалось меньшее количество теплоты, чем для дальнейшего нагревания расплава на 200 °C.
- 4) Через 15 мин. после начала нагревания часть серебра оставалась в твёрдом состоянии, а часть – в жидком.
- 5) Через 20 мин. после начала нагревания серебро находилось в жидком состоянии.

Ответ:

--	--

9

Напряжение в сети подскочило с 220 до 230 В. На сколько процентов увеличилась при этом потребляемая мощность бытовых приборов?

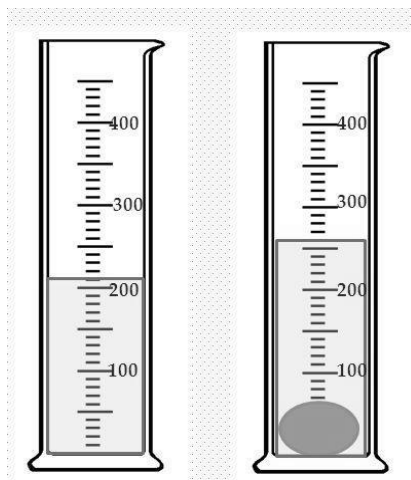
Запишите решение и ответ.

Решение:

Ответ:

10

С помощью мензурки измеряли объём тела. Погрешность измерений объёма тела равна цене деления шкалы мензурки (см. рисунок).



Запишите в ответе объём тела с учётом погрешности измерений.

Ответ: _____ см³.

11

Исследуя электрическое сопротивление металлической проволоки, учитель в электрическую цепь последовательно к лампе накаливания подключал одинаковые по размеру спирали, сделанные из разных материалов (см. рисунок). При подключении железной спирали можно было наблюдать некоторое ослабление свечения лампы накаливания. При подключении нихромовой спирали свечение лампы накаливания ослабевало в значительно большей степени.

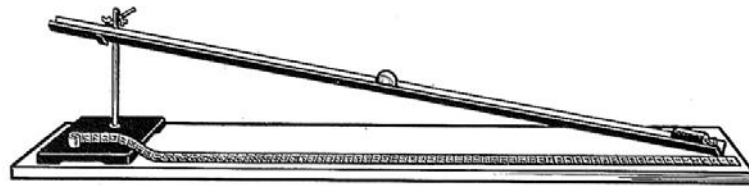


С какой целью был проведён данный опыт?

Ответ: _____

12

На рисунке представлена установка по исследованию равноускоренного движения шарика по наклонной плоскости.



Для измерения времени движения шарика имеется секундомер; для измерения пути, пройденного шариком, имеется мерная лента. Угол наклона плоскости можно изменять и измерять его при помощи транспортира. Имеется три шарика различной массой: 60 г, 90 г и 120 г.

Вам необходимо исследовать, как зависит время движения шарика по наклонной плоскости от угла наклона плоскости к горизонту.

В ответе:

1. Опишите экспериментальную установку.
2. Опишите порядок действий при проведении исследования.



Ответ: _____

13

Установите соответствие между научными открытиями и именами учёных, которым эти открытия принадлежат. К каждой позиции первого столбца подберите соответствующую позицию из второго столбца и запишите в таблицу выбранные цифры под соответствующими буквами.

НАУЧНЫЕ ОТКРЫТИЯ

- А) экспериментальное открытие магнитного действия электрического тока
- Б) экспериментальное открытие явления электромагнитной индукции

ИМЕНА УЧЁНЫХ

- 1) А.С. Попов
- 2) Х.К. Эрстед
- 3) Г. Герц
- 4) М. Фарадей

Ответ:

А	Б

Прочитайте фрагмент инструкции к тепловентилятору и выполните задания 14 и 15.

- Убедитесь в том, что напряжение электросети соответствует электрическим требованиям устройства (напряжение 220–240 В, частота 50 Гц).
- Во избежание риска поражения электротоком убедитесь в том, что тип розетки соответствует типу вилки кабеля электропитания устройства. Если вилка не соответствует розетке, проконсультируйтесь с квалифицированным электриком.
- По возможности избегайте подключения устройства к электросети через удлинитель. Никогда не используйте один удлинитель для подключения нескольких обогревателей.

ВНИМАНИЕ!

ВО ИЗБЕЖАНИЕ ПЕРЕГРЕВА НЕ НАКРЫВАЙТЕ УСТРОЙСТВО НИКАКИМИ ПРЕДМЕТАМИ.

14

Почему в инструкции запрещается использовать один удлинитель для подключения нескольких обогревателей, которые относятся к приборам большой мощности?

Ответ: _____

15

Почему в инструкции запрещается накрывать тепловентилятор какими-либо (даже негорючими) предметами?

Ответ: _____

Прочитайте текст и выполните задания 16, 17 и 18.


Фазы Луны

Луна – естественный спутник Земли, тёмный и холодный, и с Земли видна только та часть лунной поверхности, которая освещена Солнцем и обращена к Земле. Вследствие этого вид Луны на небе меняется, происходит смена лунных фаз.

Луна проходит следующие фазы освещения:

- новолуние – состояние, когда Луна невидна;
- первая четверть – состояние, когда первый раз после новолуния освещена половина обращённой к Земле поверхности Луны;
- полнолуние – состояние, когда освещена вся обращённая к Земле поверхность Луны;
- последняя четверть – состояние, когда освещена другая половина обращённой к Земле поверхности Луны.

На рисунке представлен календарь наблюдения фаз Луны в течение августа 2015 г.



На Луне много метеоритных, или ударно-взрывных, кратеров. Это наиболее распространённые формы рельефа на многих планетах и их спутниках в Солнечной системе.

Когда метеорит с космической скоростью врежется в твёрдую поверхность планеты, происходит мощный тепловой взрыв, и на его месте за считанные секунды формируется особое геологическое образование – ударный метеоритный кратер.

Луна не имеет атмосферы, вся её поверхность изрыта кратерами от падения метеорных тел. Большинство же метеорных тел, падающих на Землю, не долетают до её поверхности, нагреваясь и сгорая в атмосфере.



16

Какого числа наблюдалось новолуние в августе 2015 г.?

Ответ: _____

17

2 июля 2019 года в Чили и Аргентине наблюдалось полное солнечное затмение, которое пресса назвала великим южноамериканским. В какой фазе находилась в это время Луна?

Ответ: _____

18

Какая из планет (Марс или Венера) более защищена от атак мелкими астероидами? Ответ поясните.

Ответ: _____

Ответы к заданиям

2	Ответ:	35	2 балла, если верно указаны два элемента ответа; 1 балл, если допущена одна ошибка или верно указан только один элемент ответа
3	Ответ:	$p_1 > p_2 = p_3$	1 балл, если приведён верный ответ
4	Ответ:	хлор	1 балл, если приведён верный ответ
5	Ответ:	отсутствуют оба вещества	1 балл, если приведён верный ответ
6	Ответ:	1 мкг	1 балл, если приведён верный ответ
7	Ответ:	11	2 балла, если верно указаны два элемента ответа; 1 балл, если допущена одна ошибка или верно указан только один элемент ответа
8	Ответ:	45	2 балла, если верно указаны два элемента ответа; 1 балл, если допущена одна ошибка или верно указан только один элемент ответа
10	Ответ:	(50 ± 10)	1 балл, если приведён верный ответ
13	Ответ:	24	2 балла, если верно указаны два элемента ответа; 1 балл, если допущена одна ошибка или верно указан только один элемент ответа
16	Ответ:	14	1 балл, если приведён верный ответ
17	Ответ:	новолуние	1 балл, если приведён верный ответ

Критерии оценивания заданий с развернутым ответом

1	Возможный ответ		
	Название группы понятий	Перечень понятий	
	Единицы физических величин	генри, кулон, литр	
	Физические явления	кипение, интерференция, инерция	
Указания к оцениванию		Баллы	
Верно заполнены все клетки таблицы		2	
Верно указаны названия групп понятий, но допущено не более двух ошибок при распределении понятий по группам. ИЛИ Приведено верное распределение по группам, но допущена ошибка в названии одной из групп		1	
Другие случаи, не удовлетворяющие критериям на 2 и 1 балл		0	
<i>Максимальный балл</i>		2	
9	Возможный ответ		
	Потребляемая мощность определяется по формуле $P = \frac{U^2}{R}$.		
	Увеличение мощности в процентах вычисляется по формуле		
	$\frac{\Delta P}{P} = \frac{U^2 - U_0^2}{U_0^2} = \frac{230^2 - 220^2}{220^2} \approx 0,09 = 9\%$		
Указания к оцениванию		Баллы	
Приведены верный ответ и его обоснование (решение)		2	
Приведён верный ответ, но в его обосновании (решении) допущена вычислительная ошибка. ИЛИ Обоснование (решение) неполное		1	
Все случаи решения, которые не соответствуют вышеуказанным критериям на 2 и 1 балл		0	
<i>Максимальный балл</i>		2	
11	Возможный ответ		
	Показать, что электрическое сопротивление проводника / металлической проволоки зависит от вещества, из которого изготовлен проводник		
	Указания к оцениванию		Баллы
	Представлен верный ответ		1
Ответ неверный. ИЛИ В ответе допущена ошибка		0	
<i>Максимальный балл</i>		1	

12

Возможный ответ	
<p>1. Для проведения опыта используется установка, изображённая на рисунке. В процессе исследования используется один из шариков. В каждом опыте шарик должен проходить по наклонной плоскости одно и то же расстояние, которое измеряется при помощи мерной ленты.</p> <p>2. Проводят два-три опыта, в которых угол наклона плоскости к горизонту увеличивают (или уменьшают) и измеряют его при помощи транспортира. В каждом случае измеряют время движения шарика, проходящего одно и то же расстояние по наклонной плоскости.</p> <p>3. Полученные значения времени сравниваются</p>	
Указания к оцениванию	Баллы
Описана экспериментальная установка, указаны неизменные параметры и изменяющаяся величина. Указаны порядок проведения опыта и ход измерения времени	2
Описана экспериментальная установка, но допущена ошибка либо в описании порядка проведения опыта, либо в проведении измерений	1
Другие случаи, не удовлетворяющие критериям на 2 и 1 балл	0
<i>Максимальный балл</i>	<i>2</i>

14

Возможный ответ	
<p>При подключении к удлинителю нескольких обогревателей общая мощность этой сети равна сумме мощностей всех тепловентиляторов. При этом существенно возрастает сила тока через провод удлинителя, что может привести к его перегреву и возгоранию</p>	
Указания к оцениванию	Баллы
Представлено верное объяснение, не содержащее ошибок	1
Объяснение не представлено. ИЛИ В объяснении допущена ошибка	0
<i>Максимальный балл</i>	<i>1</i>

15

Возможный ответ	
<p>Теплый воздух от тепловентилятора поднимается вверх или направляется в определенном направлении вентилятором прибора. Если перекрыть отток воздуха, то это приведет к перегреву воздуха возле тепловентилятора, повышению температуры его нагревательного элемента и возможному возгоранию</p>	
Указания к оцениванию	Баллы
Представлено верное объяснение, не содержащее ошибок	1
Объяснение не представлено. ИЛИ В объяснении допущена ошибка	0
<i>Максимальный балл</i>	<i>1</i>

18

Возможный ответ	
Венера. Из-за плотной атмосферы, имеющейся на Венере, большинство мелких астероидных тел нагреваются и сгорают, не долетая до поверхности планеты	
Указания к оцениванию	Баллы
Представлен правильный ответ на вопрос, и приведено достаточное обоснование, не содержащее ошибок	2
Представлен правильный ответ на поставленный вопрос, но его обоснование не является достаточным. ИЛИ Представлены корректные рассуждения, приводящие к правильному ответу, но ответ явно не сформулирован	1
Другие случаи, не удовлетворяющие критериям на 2 и 1 балл	0
<i>Максимальный балл</i>	2

Система оценивания выполнения всей работы

Максимальный балл за выполнение работы – 26.

Рекомендуемая шкала перевода суммарного балла за выполнение ВПр в отметку по пятибалльной шкале

Отметка по пятибалльной шкале	«2»	«3»	«4»	«5»
Суммарный балл	0–8	9–15	16–20	21–26