

Единый государственный экзамен
по МАТЕМАТИКЕ

Базовый уровень

Инструкция по выполнению работы

Экзаменационная работа включает в себя 21 задание.

На выполнение работы отводится 3 часа (180 минут).

Ответы к заданиям записываются по приведённым ниже образцам в виде числа или последовательности цифр. Сначала запишите ответы к заданиям в поле ответа в тексте работы, а затем перенесите их в бланк ответов № 1 справа от номера соответствующего задания.

КИМ

Ответ: -0,8

10	-	0	,	8															
----	---	---	---	---	--	--	--	--	--	--	--	--	--	--	--	--	--	--	--

Бланк

Если ответом является последовательность цифр, как в приведённом ниже примере, то запишите эту последовательность в бланк ответов № 1 без пробелов, запятых и других дополнительных символов.

КИМ

Ответ:

А	Б	В	Г
4	3	1	2

9	4	3	1	2															
---	---	---	---	---	--	--	--	--	--	--	--	--	--	--	--	--	--	--	--

Бланк

Все бланки ЕГЭ заполняются яркими чёрными чернилами. Допускается использование гелевой или капиллярной ручки.

При выполнении заданий можно пользоваться черновиком. **Записи в черновике, а также в тексте контрольных измерительных материалов не учитываются при оценивании работы.**

Баллы, полученные Вами за выполненные задания, суммируются. Постарайтесь выполнить как можно больше заданий и набрать наибольшее количество баллов.

После завершения работы проверьте, что ответ на каждое задание в бланках ответов №1 записан под правильным номером.

Желаем успеха!

Справочные материалы

Алгебра

Таблица квадратов целых чисел от 0 до 99

Десятки	Единицы									
	0	1	2	3	4	5	6	7	8	9
0	0	1	4	9	16	25	36	49	64	81
1	100	121	144	169	196	225	256	289	324	361
2	400	441	484	529	576	625	676	729	784	841
3	900	961	1024	1089	1156	1225	1296	1369	1444	1521
4	1600	1681	1764	1849	1936	2025	2116	2209	2304	2401
5	2500	2601	2704	2809	2916	3025	3136	3249	3364	3481
6	3600	3721	3844	3969	4096	4225	4356	4489	4624	4761
7	4900	5041	5184	5329	5476	5625	5776	5929	6084	6241
8	6400	6561	6724	6889	7056	7225	7396	7569	7744	7921
9	8100	8281	8464	8649	8836	9025	9216	9409	9604	9801

Свойства арифметического квадратного корня

$$\sqrt{ab} = \sqrt{a} \cdot \sqrt{b} \text{ при } a \geq 0, b \geq 0 \quad \sqrt{\frac{a}{b}} = \frac{\sqrt{a}}{\sqrt{b}} \text{ при } a \geq 0, b > 0$$

Корни квадратного уравнения $ax^2 + bx + c = 0, a \neq 0$

$$x_1 = \frac{-b - \sqrt{b^2 - 4ac}}{2a}, \quad x_2 = \frac{-b + \sqrt{b^2 - 4ac}}{2a} \text{ при } b^2 - 4ac > 0$$

$$x = -\frac{b}{2a} \text{ при } b^2 - 4ac = 0$$

Формулы сокращённого умножения

$$(a+b)^2 = a^2 + 2ab + b^2$$

$$(a-b)^2 = a^2 - 2ab + b^2$$

$$a^2 - b^2 = (a+b)(a-b)$$



Степень и логарифм

Свойства степени при $a > 0, b > 0$

$$a^{-n} = \frac{1}{a^n}$$

$$a^n \cdot a^m = a^{n+m}$$

$$\frac{a^n}{a^m} = a^{n-m}$$

$$(a^n)^m = a^{nm}$$

$$(ab)^n = a^n \cdot b^n$$

$$\left(\frac{a}{b}\right)^n = \frac{a^n}{b^n}$$

Свойства логарифма при $a > 0, a \neq 1, b > 0, x > 0, y > 0$

$$a^{\log_a b} = b$$

$$\log_a a = 1$$

$$\log_a 1 = 0$$

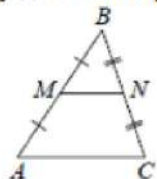
$$\log_a (xy) = \log_a x + \log_a y$$

$$\log_a \left(\frac{x}{y}\right) = \log_a x - \log_a y$$

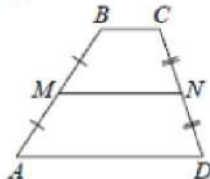
$$\log_a b^k = k \log_a b$$

Геометрия

Средняя линия треугольника и трапеции

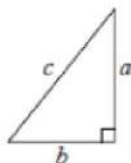


MN — ср. лин.
 $MN \parallel AC$
 $MN = \frac{AC}{2}$



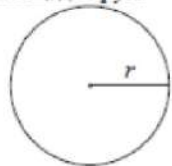
$BC \parallel AD$
 MN — ср. лин.
 $MN \parallel AD$
 $MN = \frac{BC + AD}{2}$

Теорема Пифагора



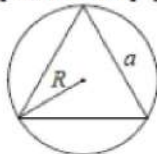
$$a^2 + b^2 = c^2$$

Длина окружности
Площадь круга

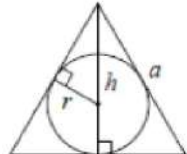


$C = 2\pi r$
 $S = \pi r^2$

Правильный треугольник



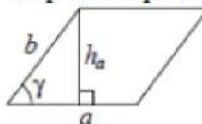
$R = \frac{a\sqrt{3}}{3}$
 $S = \frac{a^2\sqrt{3}}{4}$



$r = \frac{a\sqrt{3}}{6}$
 $h = \frac{a\sqrt{3}}{2}$

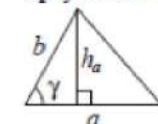
Площади фигур

Параллелограмм



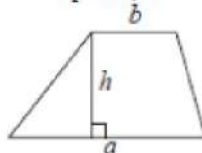
$S = ah_a$
 $S = ab \sin \gamma$

Треугольник



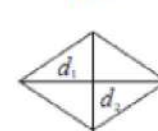
$S = \frac{1}{2}ah_a$
 $S = \frac{1}{2}ab \sin \gamma$

Трапеция



$S = \frac{a+b}{2} \cdot h$

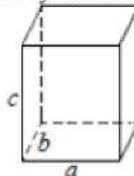
Ромб



d_1, d_2 — диагонали
 $S = \frac{1}{2}d_1d_2$

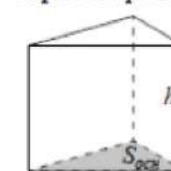
Площади поверхностей и объёмы тел

Прямоугольный параллелепипед



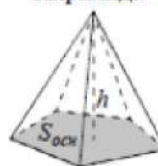
$V = abc$

Прямая призма



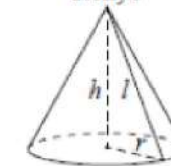
$V = S_{осн}h$

Пирамида



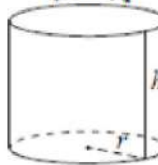
$V = \frac{1}{3}S_{осн}h$

Конус



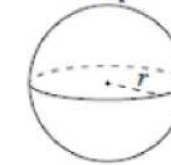
$V = \frac{1}{3}\pi r^2 h$
 $S_{бок} = \pi r l$

Цилиндр



$V = \pi r^2 h$
 $S_{бок} = 2\pi r h$

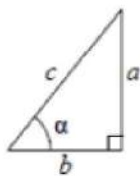
Шар



$V = \frac{4}{3}\pi r^3$
 $S = 4\pi r^2$

Тригонометрические функции

Прямоугольный треугольник

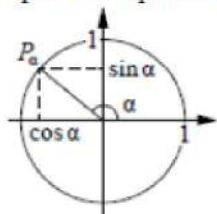


$$\sin \alpha = \frac{a}{c}$$

$$\cos \alpha = \frac{b}{c}$$

$$\operatorname{tg} \alpha = \frac{a}{b}$$

Тригонометрическая окружность



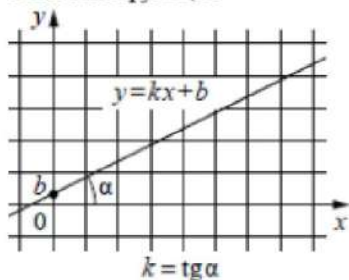
Основное тригонометрическое тождество: $\sin^2 \alpha + \cos^2 \alpha = 1$

Некоторые значения тригонометрических функций

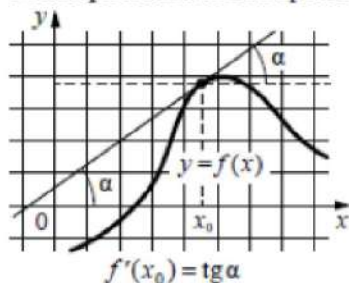
α	радианы	0	$\frac{\pi}{6}$	$\frac{\pi}{4}$	$\frac{\pi}{3}$	$\frac{\pi}{2}$	π	$\frac{3\pi}{2}$	2π
	градусы	0°	30°	45°	60°	90°	180°	270°	360°
$\sin \alpha$		0	$\frac{1}{2}$	$\frac{\sqrt{2}}{2}$	$\frac{\sqrt{3}}{2}$	1	0	-1	0
$\cos \alpha$		1	$\frac{\sqrt{3}}{2}$	$\frac{\sqrt{2}}{2}$	$\frac{1}{2}$	0	-1	0	1
$\operatorname{tg} \alpha$		0	$\frac{\sqrt{3}}{3}$	1	$\sqrt{3}$	—	0	—	0

Функции

Линейная функция



Геометрический смысл производной



Ответом к каждому заданию является конечная десятичная дробь, или целое число, или последовательность цифр. Ответ сначала запишите в поле ответа в тексте работы, а затем перенесите в БЛАНК ОТВЕТОВ № 1 справа от номера соответствующего задания. Каждую цифру, знак «минус» и запятую пишите в отдельной клеточке в соответствии с приведёнными в бланке образцами. Единицы измерений писать не нужно.

1 Принтер печатает одну страницу за 14 секунд. Сколько страниц можно напечатать на этом принтере за 7 минут?

Ответ: _____.

2 Установите соответствие между величинами и их возможными значениями: к каждому элементу первого столбца подберите соответствующий элемент из второго столбца.

ВЕЛИЧИНЫ

- А) площадь одной страницы учебника
- Б) площадь территории Республики Карелия
- В) площадь одной стороны монеты
- Г) площадь бадминтонной площадки

ЗНАЧЕНИЯ

- 1) 81,7 кв. м
- 2) 330 кв. см
- 3) 180,5 тыс. кв. км
- 4) 300 кв. мм

В таблице под каждой буквой, соответствующей величине, укажите номер её возможного значения.

Ответ:

А	Б	В	Г

- 3 В таблице показано расписание пригородных электропоездов по направлению Москва Ленинградская – Клин – Тверь.

Номер электрички	Москва Ленинградская	Клин	Тверь
1	17:31	19:04	
2	17:46	19:08	19:55
3	18:10	19:28	20:15
4	18:15	19:37	21:11
5	18:21	19:50	
6	19:14	20:55	
7	19:21	21:10	22:11

Владислав пришёл на станцию Москва Ленинградская в 18:20 и хочет уехать в Тверь на ближайшей электричке. В ответе укажите номер этой электрички.

Ответ: _____.

- 4 Площадь треугольника можно вычислить по формуле $S = \frac{abc}{4R}$, где a , b и c – стороны треугольника, а R – радиус окружности, описанной около этого треугольника. пользуясь этой формулой, найдите S , если $a = 10$, $b = 9$, $c = 17$ и $R = \frac{85}{8}$.

Ответ: _____.

- 5 В случайном эксперименте симметричную монету бросают дважды. Найдите вероятность того, что во второй раз выпадет то же, что и в первый.

Ответ: _____.

- 6 В городском парке имеется пять аттракционов: карусель, колесо обозрения, автодром, «Ромашка» и «Весёлый тир». В кассах продаётся шесть видов билетов, каждый из которых позволяет посетить один или два аттракциона. Сведения о стоимости билетов представлены в таблице.

Номер билета	Набор аттракционов	Стоимость (руб.)
1	«Весёлый тир», автодром	300
2	Колесо обозрения, «Весёлый тир»	400
3	Автодром, «Ромашка»	400
4	Колесо обозрения	150
5	Карусель, «Ромашка»	300
6	Карусель, колесо обозрения	350

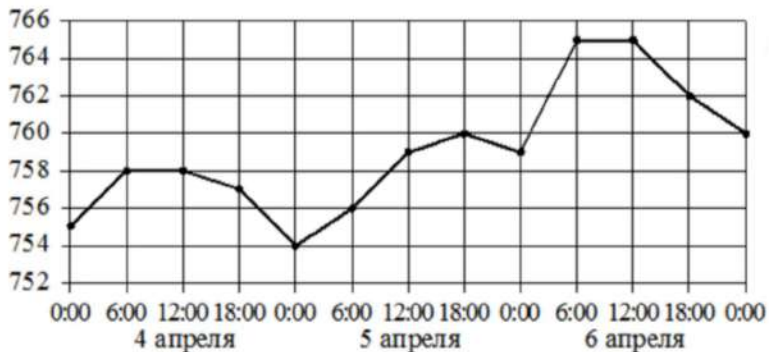
Какие билеты должен купить Андрей, чтобы посетить все пять аттракционов и затратить не более 750 рублей?

В ответе укажите какой-нибудь один набор номеров билетов без пробелов, запятых и других дополнительных символов.

Ответ: _____.



- 7 На рисунке точками показано атмосферное давление в городе N на протяжении трёх суток с 4 по 6 апреля 2013 года. В течение суток давление измеряется 4 раза: в 00:00, в 06:00, в 12:00 и в 18:00. По горизонтали указывается время суток и дата, по вертикали – давление в миллиметрах ртутного столба. Для наглядности точки соединены линией.



Пользуясь рисунком, поставьте в соответствие каждому из указанных периодов времени характеристику атмосферного давления в городе N в течение этого периода

<u>ПЕРИОДЫ ВРЕМЕНИ</u>	<u>ХАРАКТЕРИСТИКИ</u>
А) утро 4 апреля (с 6 до 12 часов)	1) давление не менялось и было выше 764 мм рт. ст.
Б) утро 5 апреля (с 6 до 12 часов)	2) давление росло
В) утро 6 апреля (с 6 до 12 часов)	3) давление не менялось и было ниже 760 мм рт. ст.
Г) день 6 апреля (с 12 до 18 часов)	4) давление падало

В таблице под каждой буквой укажите соответствующий номер.

Ответ:

А	Б	В	Г


- 8 Среди дачников в посёлке есть те, кто выращивает виноград, и есть те, кто выращивает груши. А также есть те, кто не выращивает ни виноград, ни груши. Некоторые дачники в этом посёлке, выращивающие виноград, также выращивают и груши. Выберите утверждения, которые верны при указанных условиях.

- 1) Если дачник из этого посёлка не выращивает виноград, то он выращивает груши.
- 2) Среди тех, кто выращивает виноград, есть дачники из этого посёлка.
- 3) Есть хотя бы один дачник в этом посёлке, который выращивает и груши, и виноград.
- 4) Если дачник в этом посёлке выращивает виноград, то он не выращивает груши.

В ответе запишите номера выбранных утверждений без пробелов, запятых и других дополнительных символов.

Ответ: _____.

- 9 План местности разбит на клетки. Каждая клетка обозначает квадрат 1 м × 1 м. Найдите площадь участка, выделенного на плане. Ответ дайте в квадратных метрах.



Ответ: _____.



- 10** Квартира состоит из комнаты, кухни, коридора и санузла (см. чертёж). Кухня имеет размеры $3\text{ м} \times 4\text{ м}$, санузел – $1,5\text{ м} \times 2\text{ м}$, длина коридора 6 м . Найдите площадь комнаты (в квадратных метрах).



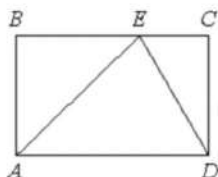
Ответ: _____.

- 11** Высота бака цилиндрической формы равна 40 см , а площадь его основания $150\text{ квадратных сантиметров}$. Чему равен объём этого бака (в литрах)? В одном литре $1000\text{ кубических сантиметров}$.



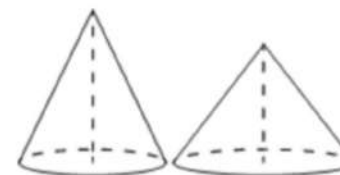
Ответ: _____.

- 12** На стороне BC прямоугольника $ABCD$, у которого $AB = 12$ и $AD = 17$, отмечена точка E так, что треугольник ABE равнобедренный. Найдите ED .



Ответ: _____.

- 13** Даны два конуса. Радиус основания и высота первого конуса равны соответственно 4 и 9 , а второго – 6 и 8 . Во сколько раз объём второго конуса больше объёма первого?



Ответ: _____.

- 14** Найдите значение выражения

$$\left(\frac{5}{7} - \frac{3}{7}\right) : \frac{2}{21}$$

Ответ: _____.

- 15** Магазин делает пенсионерам скидку. Батон хлеба стоит в магазине 20 рублей , а пенсионер заплатил за него $19\text{ рублей } 40\text{ копеек}$. Сколько процентов составила скидка для пенсионера?

Ответ: _____.

- 16** Найдите значение выражения

$$\frac{\sqrt{288}}{3\sqrt{8}}$$

Ответ: _____.

- 17** Решите уравнение

$$x^2 + 11x = -28.$$

Если уравнение имеет более одного корня, в ответе укажите меньший из них.

Ответ: _____.



- 18** Каждому из четырёх неравенств в левом столбце соответствует одно из решений в правом столбце. Установите соответствие между неравенствами и их решениями.

НЕРАВЕНСТВА

А) $\log_2(x - 1) < 1$

Б) $3^{-2x} > \frac{1}{9}$

В) $\frac{x - 1}{(x - 3)^2} > 0$

Г) $x^2 - 4x + 3 > 0$

РЕШЕНИЯ



Впишите в приведённую в ответе таблицу под каждой буквой соответствующий решению номер.

Ответ:

А	Б	В	Г

- 19** Найдите пятизначное число, кратное 25, любые две соседние цифры которого отличаются на 2. В ответе укажите какое-нибудь одно такое число.

Ответ: _____.

- 20** В понедельник акции компании подорожали на некоторое число процентов, а во вторник подешевели на то же самое число процентов. В результате они стали стоить на 4% дешевле, чем при открытии торгов в понедельник. На сколько процентов подорожали акции компании в понедельник?

Ответ: _____.

- 21** Кузнечик прыгает вдоль координатной прямой в любом направлении на единичный отрезок за прыжок. Сколько существует различных точек на координатной прямой, в которых кузнечик может оказаться, сделав ровно 8 прыжков, начиная прыгать из начала координат?

Ответ: _____.

Не забудьте перенести все ответы в бланк ответов № 1 в соответствии с инструкцией по выполнению работы. Проверьте, чтобы каждый ответ был записан в строке с номером соответствующего задания.



**Система оценивания экзаменационной работы по математике
(базовый уровень)**

Правильное решение каждого из заданий 1–21 оценивается 1 баллом. Задание считается выполненным верно, если ответ записан в той форме, которая указана в инструкции по выполнению задания, и полностью совпадает с эталоном ответа.

Номер задания	Правильный ответ
1	30
2	2341
3	7
4	36
5	0,5
6	145
7	3214
8	23
9	10
10	18
11	6
12	13
13	2
14	3
15	3
16	2
17	-7
18	3241
19	97975 или 57975 или 97575 или 57575 или 53575 или 13575
20	20
21	9