

**Основной государственный экзамен  
по МАТЕМАТИКЕ****Вариант № 4****Инструкция по выполнению работы**

Экзаменационная работа состоит из двух частей, включающих в себя 25 заданий. Часть 1 содержит 19 заданий, часть 2 содержит 6 заданий с развёрнутым ответом.

На выполнение экзаменационной работы по математике отводится 3 часа 55 минут (235 минут).

Ответы к заданиям 7 и 13 запишите в бланк ответов № 1 в виде одной цифры, которая соответствует номеру правильного ответа.

Для остальных заданий части 1 ответом является число или последовательность цифр. Ответ запишите в поле ответа в тексте работы, а затем перенесите в бланк ответов № 1. Если получилась обыкновенная дробь, ответ запишите в виде десятичной.

Решения заданий части 2 и ответы к ним запишите на бланке ответов № 2. Задания можно выполнять в любом порядке. Текст задания переписывать не надо, необходимо только указать его номер.

Все бланки заполняются яркими чёрными чернилами. Допускается использование гелевой или капиллярной ручки.

Сначала выполняйте задания части 1. Начать советуем с тех заданий, которые вызывают у Вас меньше затруднений, затем переходите к другим заданиям. Для экономии времени пропускайте задание, которое не удаётся выполнить сразу, и переходите к следующему. Если у Вас останется время, Вы сможете вернуться к пропущенным заданиям.

При выполнении части 1 все необходимые вычисления, преобразования выполняйте в черновике. **Записи в черновике, а также в тексте контрольных измерительных материалов не учитываются при оценивании работы.**

Если задание содержит рисунок, то на нём непосредственно в тексте работы можно выполнять необходимые Вам построения. Рекомендуем внимательно читать условие и проводить проверку полученного ответа.

При выполнении работы Вы можете воспользоваться справочными материалами, выданными вместе с вариантом КИМ, и линейкой.

Баллы, полученные Вами за выполненные задания, суммируются. Постарайтесь выполнить как можно больше заданий и набрать наибольшее количество баллов.

После завершения работы проверьте, чтобы ответ на каждое задание в бланках ответов № 1 и № 2 был записан под правильным номером.

***Желаем успеха!***

## СПРАВОЧНЫЕ МАТЕРИАЛЫ ПО МАТЕМАТИКЕ

## АЛГЕБРА

- Формула корней квадратного уравнения:

$$x = \frac{-b \pm \sqrt{D}}{2a}, \text{ где } D = b^2 - 4ac.$$

- Если квадратный трёхчлен  $ax^2 + bx + c$  имеет два корня:  $x_1$  и  $x_2$ , то

$$ax^2 + bx + c = a(x - x_1)(x - x_2);$$

если квадратный трёхчлен  $ax^2 + bx + c$  имеет единственный корень  $x_0$ , то

$$ax^2 + bx + c = a(x - x_0)^2.$$

- Формула  $n$ -го члена арифметической прогрессии ( $a_n$ ), первый член которой равен  $a_1$  и разность равна  $d$ :

$$a_n = a_1 + d(n - 1).$$

- Формула суммы первых  $n$  членов арифметической прогрессии:

$$S_n = \frac{(a_1 + a_n)n}{2} \dots \dots$$

- Формула  $n$ -го члена геометрической прогрессии  $b_n$ , первый член которой равен  $b_1$ , а знаменатель равен  $q$ :

$$b_n = b_1 \cdot q^{n-1}.$$

- Формула суммы первых  $n$  членов геометрической прогрессии:

$$S_n = \frac{(q^n - 1)b_1}{q - 1}.$$

Таблица квадратов двузначных чисел

		Единицы									
		0	1	2	3	4	5	6	7	8	9
Десятки	1	100	121	144	169	196	225	256	289	324	361
	2	400	441	484	529	576	625	676	729	784	841
	3	900	961	1024	1089	1156	1225	1296	1369	1444	1521
	4	1600	1681	1764	1849	1936	2025	2116	2209	2304	2401
	5	2500	2601	2704	2809	2916	3025	3136	3249	3364	3481
	6	3600	3721	3844	3969	4096	4225	4356	4489	4624	4761
	7	4900	5041	5184	5329	5476	5625	5776	5929	6084	6241
	8	6400	6561	6724	6889	7056	7225	7396	7569	7744	7921
	9	8100	8281	8464	8649	8836	9025	9216	9409	9604	9801

## ГЕОМЕТРИЯ

- Сумма углов выпуклого  $n$ -угольника равна  $180^\circ(n - 2)$ .
- Радиус  $r$  окружности, вписанной в правильный треугольник со стороной  $a$ , равен  $\frac{\sqrt{3}}{6}a$ .
- Радиус  $R$  окружности, описанной около правильного треугольника со стороной  $a$ , равен  $\frac{\sqrt{3}}{3}a$ .

- Для треугольника  $ABC$  со сторонами  $AB = c$ ,  $AC = b$ ,  $BC = a$ :

$$\frac{a}{\sin A} = \frac{b}{\sin B} = \frac{c}{\sin C} = 2R,$$

где  $R$  — радиус описанной окружности.

- Для треугольника  $ABC$  со сторонами  $AB = c$ ,  $AC = b$ ,  $BC = a$ :

$$c^2 = a^2 + b^2 - 2ab \cos C.$$

- Формула длины  $l$  окружности радиусом  $R$ :

$$l = 2\pi R.$$

- Формула длины  $l$  дуги окружности радиусом  $R$ , на которую опирается центральный угол в  $\varphi$  градусов:

$$l = \frac{2\pi R \varphi}{360}.$$

- Формула площади  $S$  параллелограмма со стороной  $a$  и высотой  $h$ , проведённой к этой стороне:

$$S = ah.$$

- Формула площади  $S$  треугольника со стороной  $a$  и высотой  $h$ , проведённой к этой стороне:

$$S = \frac{1}{2}ah.$$

- Формула площади  $S$  трапеции с основаниями  $a$ ,  $b$  и высотой  $h$ :

$$S = \frac{a+b}{2}h.$$

- Формула площади  $S$  круга радиусом  $R$ :

$$S = \pi R^2.$$

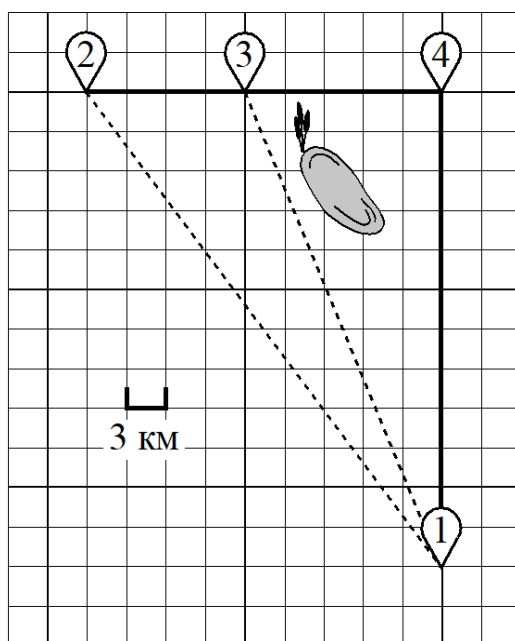
## Часть 1

*Ответами к заданиям 1–19 являются число или последовательность цифр, которые следует записать в БЛАНК ОТВЕТОВ № 1 справа от номера соответствующего задания, начиная с первой клеточки. Если ответом является последовательность цифр, то запишите её без пробелов, запятых и других дополнительных символов. Каждый символ пишете в отдельной клеточке в соответствии с приведёнными в бланке образцами.*

*Прочитайте внимательно текст и выполните задания 1–5.*

Дима летом отдыхает у дедушки в деревне Васильевка. Во вторник они собираются съездить на велосипедах в село Плодородное на ярмарку. Из деревни Васильевка в село Плодородное можно проехать по прямой лесной дорожке. Есть более длинный путь: по прямолинейному шоссе через деревню Шарковка до деревни Рассвет, где нужно повернуть под прямым углом направо на другое шоссе, ведущее в село Плодородное. Есть и третий маршрут: в деревне Шарковка можно свернуть на прямую тропинку в село Плодородное, которая идёт мимо пруда.

Лесная дорожка и тропинка образуют с шоссе прямоугольные треугольники.



По шоссе Дима с дедушкой едут со скоростью 25 км/ч, а по лесной дорожке и тропинке — со скоростью 18 км/ч. На плане изображено взаимное расположение населённых пунктов, длина стороны каждой клетки равна 3 км.

1

Пользуясь описанием, определите, какими цифрами на плане обозначены населённые пункты.

Заполните таблицу, в бланк ответов перенесите последовательность трёх цифр без пробелов, запятых и других дополнительных символов.

Насел. пункты	д. Рассвет	с. Плодородное	д. Шарковка
Цифры			

- 2** Сколько километров проедут Дима с дедушкой от деревни Шарковка до села Плодородное, если они поедут по шоссе через деревню Рассвет?

Ответ: \_\_\_\_\_.

- 3** Найдите расстояние от деревни Васильевка до села Плодородное по прямой. Ответ дайте в километрах.

Ответ: \_\_\_\_\_.

- 4** Сколько минут затратят на дорогу из деревни Васильевка в село Плодородное Дима с дедушкой, если они поедут по прямой лесной дорожке?

Ответ: \_\_\_\_\_.

- 5** В таблице указана стоимость (в рублях) некоторых продуктов в четырёх магазинах, расположенных в деревне Васильевка, селе Плодородное, деревне Шарковка и деревне Рассвет.

Наименование продукта	д. Васильевка	с. Плодородное	д. Шарковка	д. Рассвет
Молоко (1 л)	37	38	36	39
Хлеб (1 батон)	16	18	22	21
Сыр «Российский» (1 кг)	240	280	250	260
Говядина (1 кг)	420	430	415	410
Картофель (1 кг)	30	28	35	25

Дима с дедушкой хотят купить 4 кг сыра «Российский», 5 кг говядины, 6 кг картофеля. В каком магазине такой набор продуктов будет стоить дешевле всего? В ответ запишите стоимость данного набора в этом магазине.

Ответ: \_\_\_\_\_.

**6**

Найдите значение выражения  $\frac{2,1}{6,6 - 2,4}$ .

Ответ: \_\_\_\_\_.

**7** Какое из данных чисел принадлежит промежутку  $[6; 7]$ ?

- 1)  $\sqrt{6}$                       2)  $\sqrt{7}$                       3)  $\sqrt{35}$                       4)  $\sqrt{42}$

Ответ:

**8** Найдите значение выражения  $\sqrt{a^2 \cdot (-a)^2}$  при  $a = 4$ .

Ответ: \_\_\_\_\_.

**9** Найдите корень уравнения  $x + \frac{x}{7} = -8$ .

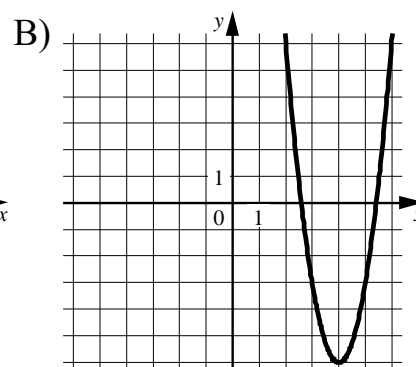
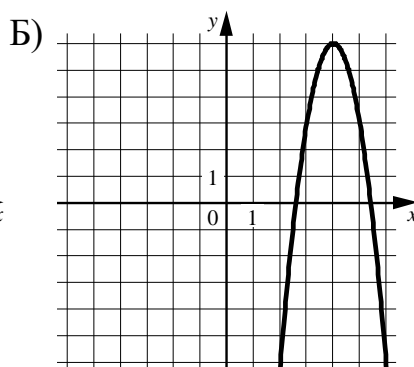
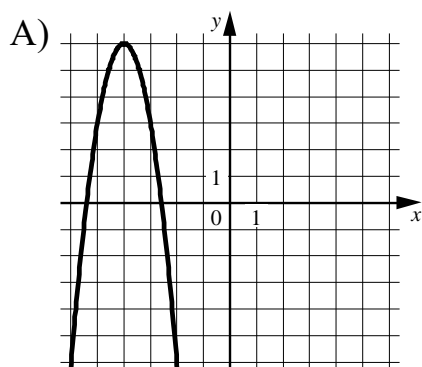
Ответ: \_\_\_\_\_.

**10** Родительский комитет закупил 20 пазлов для подарков детям в связи с окончанием учебного года, из них 8 с машинами и 12 с видами городов. Подарки распределяются случайным образом между 20 детьми, среди которых есть Вася. Найдите вероятность того, что Васе достанется пазл с машиной.

Ответ: \_\_\_\_\_.

**11** Установите соответствие между графиками функций и формулами, которые их задают.

ГРАФИКИ



## ФОРМУЛЫ

$$1) \quad y = -3x^2 + 24x - 42 \quad 2) \quad y = 3x^2 - 24x + 42 \quad 3) \quad y = -3x^2 - 24x - 42$$

В таблице под каждой буквой укажите соответствующий номер.

Ответ:

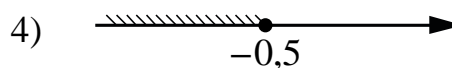
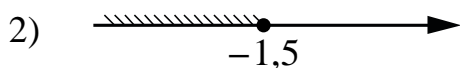
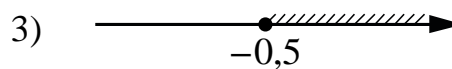
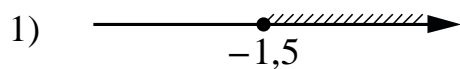
А	Б	В

- 12** Период колебания математического маятника  $T$  (в секундах) приближенно можно вычислить по формуле  $T = 2\sqrt{l}$ , где  $l$  – длина нити (в метрах). Пользуясь этой формулой, найдите длину нити маятника (в метрах), период колебаний которого составляет 6 секунд.

Ответ: \_\_\_\_\_.

- 13** Укажите решение неравенства

$$x - 1 \leq 3x + 2.$$



Ответ:

- 14** В ходе биологического эксперимента в чашку Петри с питательной средой поместили колонию микроорганизмов массой 10 мг. За каждые 30 минут масса колонии увеличивается в 3 раза. Найдите массу колонии микроорганизмов через 150 минут после начала эксперимента. Ответ дайте в миллиграммах.

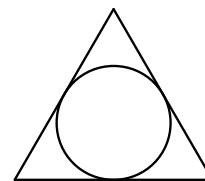
Ответ: \_\_\_\_\_.

- 15** В треугольнике  $ABC$  угол  $A$  равен  $45^\circ$ , угол  $B$  равен  $30^\circ$ ,  $BC = 6\sqrt{2}$ . Найдите  $AC$ .

Ответ: \_\_\_\_\_.

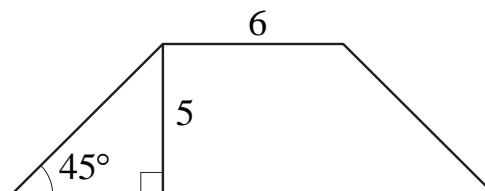
**16**

Радиус окружности, вписанной в равносторонний треугольник, равен  $4\sqrt{3}$ . Найдите длину стороны этого треугольника.



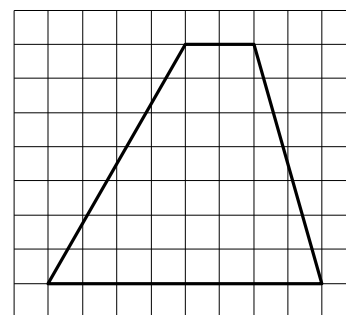
Ответ: \_\_\_\_\_.

- 17** В равнобедренной трапеции известны высота, меньшее основание и угол при основании (см. рисунок). Найдите большее основание.



Ответ: \_\_\_\_\_.

- 18** На клетчатой бумаге с размером клетки  $1 \times 1$  изображена трапеция. Найдите длину её средней линии.



Ответ: \_\_\_\_\_.

- 19** Какое из следующих утверждений верно?

- 1) Если два угла одного треугольника равны двум углам другого треугольника, то такие треугольники подобны.
- 2) Сумма углов прямоугольного треугольника равна 90 градусам.
- 3) Каждая из биссектрис равнобедренного треугольника является его медианой.

В ответ запишите номер выбранного утверждения.

Ответ: \_\_\_\_\_.



*Не забудьте перенести все ответы в бланк ответов № 1 в соответствии с инструкцией по выполнению работы. Проверьте, чтобы каждый ответ был записан в строке с номером соответствующего задания.*



## Часть 2

*При выполнении заданий 20–25 используйте БЛАНК ОТВЕТОВ № 2. Сначала укажите номер задания, а затем запишите его решение и ответ. Пишите чётко и разборчиво.*

20 Решите неравенство  $(x-3)^2 < \sqrt{5}(x-3)$ .

21 Из  $A$  в  $B$  одновременно выехали два автомобилиста. Первый проехал с постоянной скоростью весь путь. Второй проехал первую половину пути со скоростью 70 км/ч, а вторую половину пути проехал со скоростью, большей скорости первого на 21 км/ч, в результате чего прибыл в  $B$  одновременно с первым автомобилистом. Найдите скорость первого автомобилиста.

22 Постройте график функции  $y = x|x| - 3|x| - 4$  и определите, при каких значениях  $m$  прямая  $y = m$  имеет с графиком ровно три общие точки.

23 В параллелограмме  $ABCD$   $AB = 6$ ,  $AD = 10$ . Биссектрисы углов  $A$  и  $D$  пересекают сторону  $BC$  в точках  $K$  и  $M$  соответственно. Найдите  $KM$ .

24 В треугольнике  $ABC$  с тупым углом  $ACB$  проведены высоты  $AA_1$  и  $BB_1$ . Докажите, что треугольники  $A_1CB_1$  и  $ACB$  подобны.

25 Середина  $M$  стороны  $AD$  выпуклого четырёхугольника  $ABCD$  равноудалена от всех его вершин. Найдите  $AD$ , если  $BC = 10$ , а углы  $B$  и  $C$  четырёхугольника равны соответственно  $112^\circ$  и  $113^\circ$ .



*Проверьте, чтобы каждый ответ был записан рядом с номером соответствующего задания.*