





**Степень и логарифм**

Свойства степени  
при  $a > 0, b > 0$

$$a^{-n} = \frac{1}{a^n}$$

$$a^n \cdot a^m = a^{n+m}$$

$$\frac{a^n}{a^m} = a^{n-m}$$

$$(a^n)^m = a^{nm}$$

$$(ab)^n = a^n \cdot b^n$$

$$\left(\frac{a}{b}\right)^n = \frac{a^n}{b^n}$$

Свойства логарифма  
при  $a > 0, a \neq 1, b > 0, x > 0, y > 0$

$$a^{\log_a b} = b$$

$$\log_a a = 1$$

$$\log_a 1 = 0$$

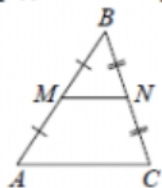
$$\log_a(xy) = \log_a x + \log_a y$$

$$\log_a\left(\frac{x}{y}\right) = \log_a x - \log_a y$$

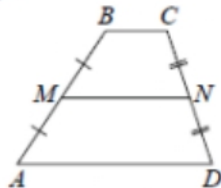
$$\log_a b^k = k \log_a b$$

**Геометрия**

Средняя линия треугольника и трапеции

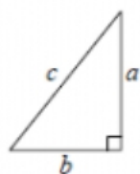


$MN$  — ср. лин.  
 $MN \parallel AC$   
 $MN = \frac{AC}{2}$



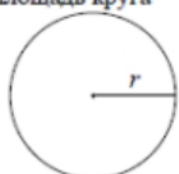
$BC \parallel AD$   
 $MN$  — ср. лин.  
 $MN \parallel AD$   
 $MN = \frac{BC + AD}{2}$

Теорема Пифагора

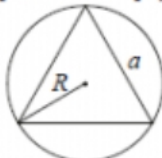


$$a^2 + b^2 = c^2$$

Длина окружности  $C = 2\pi r$   
Площадь круга  $S = \pi r^2$



Правильный треугольник



$$R = \frac{a\sqrt{3}}{3}$$

$$S = \frac{a^2\sqrt{3}}{4}$$

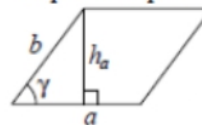


$$r = \frac{a\sqrt{3}}{6}$$

$$h = \frac{a\sqrt{3}}{2}$$

**Площади фигур**

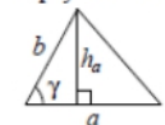
Параллелограмм



$$S = ah_a$$

$$S = ab \sin \gamma$$

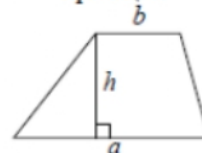
Треугольник



$$S = \frac{1}{2}ah_a$$

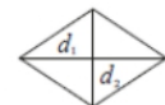
$$S = \frac{1}{2}ab \sin \gamma$$

Трапеция



$$S = \frac{a+b}{2} \cdot h$$

Ромб

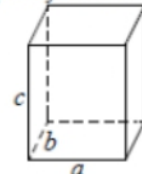


$d_1, d_2$  — диагонали

$$S = \frac{1}{2}d_1d_2$$

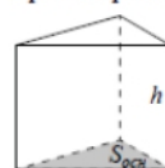
**Площади поверхностей и объёмы тел**

Прямоугольный параллелепипед



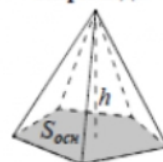
$$V = abc$$

Прямая призма



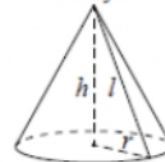
$$V = S_{осн}h$$

Пирамида



$$V = \frac{1}{3}S_{осн}h$$

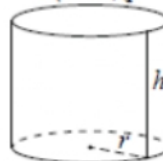
Конус



$$V = \frac{1}{3}\pi r^2 h$$

$$S_{бок} = \pi r l$$

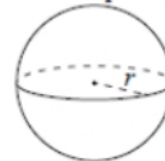
Цилиндр



$$V = \pi r^2 h$$

$$S_{бок} = 2\pi r h$$

Шар

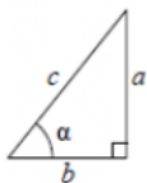


$$V = \frac{4}{3}\pi r^3$$

$$S = 4\pi r^2$$

**Тригонометрические функции**

Прямоугольный треугольник

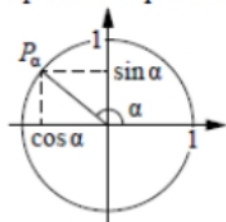


$$\sin \alpha = \frac{a}{c}$$

$$\cos \alpha = \frac{b}{c}$$

$$\operatorname{tg} \alpha = \frac{a}{b}$$

Тригонометрическая окружность



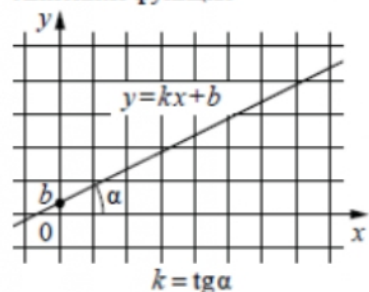
Основное тригонометрическое тождество:  $\sin^2 \alpha + \cos^2 \alpha = 1$

Некоторые значения тригонометрических функций

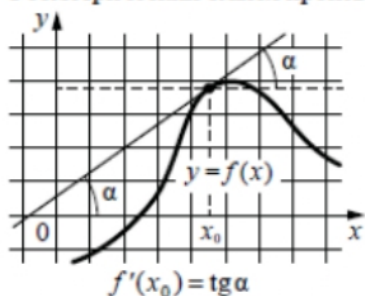
$\alpha$	радианы	0	$\frac{\pi}{6}$	$\frac{\pi}{4}$	$\frac{\pi}{3}$	$\frac{\pi}{2}$	$\pi$	$\frac{3\pi}{2}$	$2\pi$
	градусы	$0^\circ$	$30^\circ$	$45^\circ$	$60^\circ$	$90^\circ$	$180^\circ$	$270^\circ$	$360^\circ$
$\sin \alpha$		0	$\frac{1}{2}$	$\frac{\sqrt{2}}{2}$	$\frac{\sqrt{3}}{2}$	1	0	-1	0
$\cos \alpha$		1	$\frac{\sqrt{3}}{2}$	$\frac{\sqrt{2}}{2}$	$\frac{1}{2}$	0	-1	0	1
$\operatorname{tg} \alpha$		0	$\frac{\sqrt{3}}{3}$	1	$\sqrt{3}$	—	0	—	0

**Функции**

Линейная функция



Геометрический смысл производной



Ответом к каждому заданию является конечная десятичная дробь, или целое число, или последовательность цифр. Ответ сначала запишите в поле ответа в тексте работы, а затем перенесите в БЛАНК ОТВЕТОВ № 1 справа от номера соответствующего задания. Каждую цифру, знак «минус» и запятую пишите в отдельной клеточке в соответствии с приведёнными в бланке образцами. Единицы измерений писать не нужно.

**1** В летнем лагере 249 детей и 28 воспитателей. В одном автобусе можно перевозить не более 45 пассажиров. Какое наименьшее количество таких автобусов понадобится, чтобы за один раз перевезти всех из лагеря в город?

Ответ: \_\_\_\_\_.

**2** Установите соответствие между величинами и их возможными значениями: к каждому элементу первого столбца подберите соответствующий элемент из второго столбца.

**ВЕЛИЧИНЫ**

- А) масса куриного яйца
- Б) масса детской коляски
- В) масса взрослого бегемота
- Г) масса активного вещества в таблетке

**ЗНАЧЕНИЯ**

- 1) 2,5 мг
- 2) 14 кг
- 3) 50 г
- 4) 3 т

В таблице под каждой буквой, соответствующей величине, укажите номер её возможного значения.

Ответ:

А	Б	В	Г

- 3 В соревнованиях по метанию молота участники показали следующие результаты:

Спортсмен	Результат попытки, м					
	I	II	III	IV	V	VI
Лаптев	55,5	54,5	55	53,5	54	52
Монакин	52,5	53	51,5	56	55,5	55
Таль	53,5	54	54,5	54	54,5	52
Овсов	52,5	52	52,5	51,5	53	52

Места распределяются по результатам лучшей попытки каждого спортсмена: чем дальше он метнул молот, тем лучше. Какое место занял спортсмен Лаптев?

Ответ: \_\_\_\_\_.

- 4 Ускорение тела (в  $\text{м/с}^2$ ) при равномерном движении по окружности можно вычислить по формуле  $a = \omega^2 R$ , где  $\omega$  – угловая скорость вращения (в  $\text{с}^{-1}$ ), а  $R$  – радиус окружности (в метрах). Пользуясь этой формулой, найдите  $a$  (в  $\text{м/с}^2$ ), если  $R = 4$  м и  $\omega = 7 \text{ с}^{-1}$ .

Ответ: \_\_\_\_\_.

- 5 Вероятность того, что новая шариковая ручка пишет плохо или вовсе не пишет, равна 0,21. Покупатель, не глядя берёт одну шариковую ручку из коробки. Найдите вероятность того, что эта ручка пишет хорошо.

Ответ: \_\_\_\_\_.

- 6 В таблице даны результаты олимпиад по физике и химии в 10 «А» классе.

Номер ученика	Балл по физике	Балл по химии
1	84	91
2	67	64
3	56	36
4	73	58
5	43	79
6	76	75
7	53	41
8	75	54
9	76	99

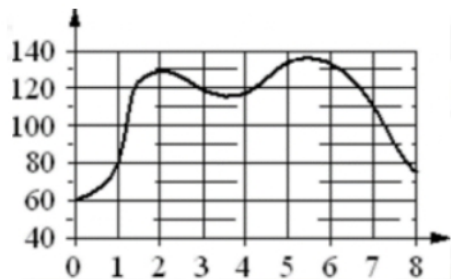
Похвальные грамоты дают тем школьникам, у кого суммарный балл по двум олимпиадам больше 130 или хотя бы по одному предмету набрано не меньше 70 баллов.

Укажите номера учащихся 10 «А», набравших меньше 70 баллов по физике и получивших похвальные грамоты, без пробелов, запятых и других дополнительных символов.

Ответ: \_\_\_\_\_.



- 7 На графике изображена зависимость частоты пульса гимнаста от времени в течение и после его выступления в вольных упражнениях. На горизонтальной оси отмечено время (в минутах), прошедшее с начала выступления гимнаста, на вертикальной оси – частота пульса (в ударах в минуту).



Пользуясь графиком, поставьте в соответствие каждому интервалу времени характеристику пульса гимнаста на этом интервале.

**ИНТЕРВАЛЫ ВРЕМЕНИ**

- А) 4-5 мин
- Б) 5-6 мин
- В) 6-7 мин
- Г) 7-8 мин

**ХАРАКТЕРИСТИКИ**

- 1) частота пульса упала до 110 уд./мин.
- 2) частота пульса упала ниже 80 уд./мин.
- 3) частота пульса достигла максимума за всё время выступления и после него
- 4) частота пульса росла на всём интервале

В таблице под каждой буквой укажите соответствующий номер.

Ответ:

А	Б	В	Г

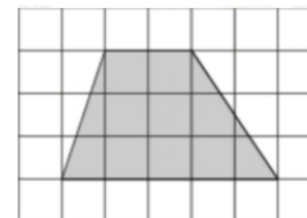
- 8 В жилых домах, в которых больше 5 этажей, установлен лифт. Выберите утверждения, которые верны при приведённом условии.

- 1) Если в доме нет лифта, то в этом доме больше 6 этажей.
- 2) Если в доме лифта нет, то в этом доме меньше 6 этажей.
- 3) Если в доме больше 8 этажей, то в нём нет лифта.
- 4) Если в доме больше 7 этажей, то в нём есть лифт.

В ответе запишите номера выбранных утверждений без пробелов, запятых и других дополнительных символов.

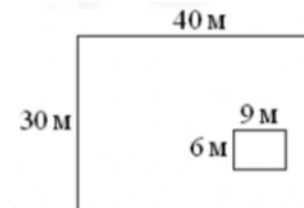
Ответ: \_\_\_\_\_.

- 9 План местности разбит на клетки. Каждая клетка обозначает квадрат 1 м × 1 м. Найдите площадь участка, выделенного на плане. Ответ дайте в квадратных метрах.



Ответ: \_\_\_\_\_.

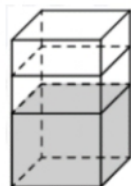
- 10 Дачный участок имеет форму прямоугольника, стороны которого равны 40 м и 30 м. Дом, расположенный на участке, также имеет форму прямоугольника, стороны которого равны 9 м и 6 м. Найдите площадь оставшейся части участка. Ответ дайте в квадратных метрах.



Ответ: \_\_\_\_\_.



- 11** В бак, имеющий форму прямой призмы, налито 5 л воды. После полного погружения в воду детали уровень воды в баке поднялся в 1,4 раза. Найдите объём детали. Ответ дайте в кубических сантиметрах, зная, что в одном литре 1000 кубических сантиметров.



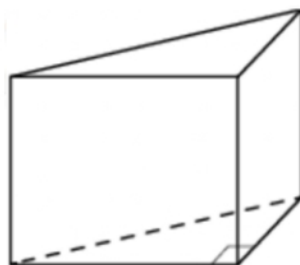
Ответ: \_\_\_\_\_.

- 12** Найдите площадь прямоугольного треугольника, если его гипотенуза равна  $\sqrt{17}$ , а один из катетов равен 1.



Ответ: \_\_\_\_\_.

- 13** В основании прямой призмы лежит прямоугольный треугольник, катеты которого равны 3 и 16. Найдите объём призмы, если её высота равна 3.



Ответ: \_\_\_\_\_.

- 14** Найдите значение выражения

$$\frac{2,6 - 2,6}{7,8}$$

Ответ: \_\_\_\_\_.

- 15** На пост председателя школьного совета претендовали два кандидата. В голосовании приняли участие 72 человека. Голоса между кандидатами распределились в отношении 4:5. Сколько голосов получил победитель?

Ответ: \_\_\_\_\_.

- 16** Найдите значение выражения

$$57\sqrt{2} \cos 405^\circ$$

Ответ: \_\_\_\_\_.

- 17** Решите уравнение

$$x^2 + 11x = -28$$

Если уравнение имеет более одного корня, в ответе укажите меньший из них.

Ответ: \_\_\_\_\_.



**18** Каждому из четырёх неравенств в левом столбце соответствует одно из решений в правом столбце. Установите соответствие между неравенствами и их решениями.

**НЕРАВЕНСТВА**

А)  $\frac{(x - 3)^2}{x - 2} > 0$

Б)  $(x - 2)(x - 3) < 0$

В)  $\frac{x - 2}{x - 3} > 0$

Г)  $(x - 2)^2(x - 3) < 0$

**РЕШЕНИЯ**



Впишите в приведённую в ответе таблицу под каждой буквой соответствующий решению номер.

Ответ:

А	Б	В	Г

**19** Вычеркните в числе 75416303 три цифры так, чтобы получившееся число делилось на 30. В ответе укажите какое-нибудь одно получившееся число.

Ответ: \_\_\_\_\_.

**20** Первая труба наполняет резервуар на 13 минут дольше, чем вторая. Обе трубы, работая одновременно, наполняют этот же резервуар за 42 минуты. За сколько минут наполняет этот резервуар одна вторая труба?

Ответ: \_\_\_\_\_.

**21** На кольцевой дороге расположено четыре бензоколонки: А, Б, В и Г. Расстояние между А и Б – 55 км, между А и В – 50 км, между В и Г – 40 км, между Г и А – 20 км (все расстояния измеряются вдоль кольцевой дороги по кратчайшей дуге). Найдите расстояние (в километрах) между Б и В.

Ответ: \_\_\_\_\_.

*Не забудьте перенести все ответы в бланк ответов №1 в соответствии с инструкцией по выполнению работы. Проверьте, чтобы каждый ответ был записан в строке с номером соответствующего задания.*



**Система оценивания экзаменационной работы по математике  
(базовый уровень)**

Правильное решение каждого из заданий 1–21 оценивается 1 баллом. Задание считается выполненным верно, если ответ записан в той форме, которая указана в инструкции по выполнению задания, и полностью совпадает с эталоном ответа.

Номер задания	Правильный ответ
1	7
2	3241
3	2
4	196
5	0,79
6	25
7	4312
8	24
9	10,5
10	1146
11	2000
12	2
13	72
14	0
15	40
16	57
17	-7
18	2314
19	75630 или 54630 или 74160 или 51630 или 74130
20	78
21	5