

Единый государственный экзамен  
по МАТЕМАТИКЕ

Базовый уровень

Инструкция по выполнению работы

Экзаменационная работа включает в себя 21 задание.

На выполнение работы отводится 3 часа (180 минут).

Ответы к заданиям записываются по приведённым ниже образцам в виде числа или последовательности цифр. Сначала запишите ответы к заданиям в поле ответа в тексте работы, а затем перенесите их в бланк ответов № 1 справа от номера соответствующего задания.

КИМ Ответ: -0,8 0 - 0 , 8 Бланк

Если ответом является последовательность цифр, как в приведённом ниже примере, то запишите эту последовательность в бланк ответов № 1 без пробелов, запятых и других дополнительных символов.

КИМ Ответ: 

А	Б	В	Г
4	3	1	2

9 4 3 | 2 Бланк

Все бланки ЕГЭ заполняются яркими чёрными чернилами. Допускается использование гелевой или капиллярной ручки.

При выполнении заданий можно пользоваться черновиком. **Записи в черновике, а также в тексте контрольных измерительных материалов не учитываются при оценивании работы.**

Баллы, полученные Вами за выполненные задания, суммируются. Постарайтесь выполнить как можно больше заданий и набрать наибольшее количество баллов.

После завершения работы проверьте, что ответ на каждое задание в бланках ответов №1 записан под правильным номером.

*Желаем успеха!*

Справочные материалы

Алгебра

Таблица квадратов целых чисел от 0 до 99

Десятки	Единицы									
	0	1	2	3	4	5	6	7	8	9
0	0	1	4	9	16	25	36	49	64	81
1	100	121	144	169	196	225	256	289	324	361
2	400	441	484	529	576	625	676	729	784	841
3	900	961	1024	1089	1156	1225	1296	1369	1444	1521
4	1600	1681	1764	1849	1936	2025	2116	2209	2304	2401
5	2500	2601	2704	2809	2916	3025	3136	3249	3364	3481
6	3600	3721	3844	3969	4096	4225	4356	4489	4624	4761
7	4900	5041	5184	5329	5476	5625	5776	5929	6084	6241
8	6400	6561	6724	6889	7056	7225	7396	7569	7744	7921
9	8100	8281	8464	8649	8836	9025	9216	9409	9604	9801

Свойства арифметического квадратного корня

$$\sqrt{ab} = \sqrt{a} \cdot \sqrt{b} \text{ при } a \geq 0, b \geq 0 \quad \sqrt{\frac{a}{b}} = \frac{\sqrt{a}}{\sqrt{b}} \text{ при } a \geq 0, b > 0$$

Корни квадратного уравнения  $ax^2 + bx + c = 0, a \neq 0$

$$x_1 = \frac{-b - \sqrt{b^2 - 4ac}}{2a}, \quad x_2 = \frac{-b + \sqrt{b^2 - 4ac}}{2a} \text{ при } b^2 - 4ac > 0$$

$$x = -\frac{b}{2a} \text{ при } b^2 - 4ac = 0$$

Формулы сокращенного умножения

$$(a+b)^2 = a^2 + 2ab + b^2$$

$$(a-b)^2 = a^2 - 2ab + b^2$$

$$a^2 - b^2 = (a+b)(a-b)$$



**Степень и логарифм**

Свойства степени при  $a > 0, b > 0$

$$a^{-n} = \frac{1}{a^n}$$

$$a^n \cdot a^m = a^{n+m}$$

$$\frac{a^n}{a^m} = a^{n-m}$$

$$(a^n)^m = a^{nm}$$

$$(ab)^n = a^n \cdot b^n$$

$$\left(\frac{a}{b}\right)^n = \frac{a^n}{b^n}$$

Свойства логарифма при  $a > 0, a \neq 1, b > 0, x > 0, y > 0$

$$a^{\log_a b} = b$$

$$\log_a a = 1$$

$$\log_a 1 = 0$$

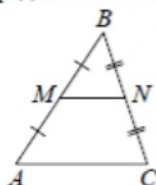
$$\log_a (xy) = \log_a x + \log_a y$$

$$\log_a \left(\frac{x}{y}\right) = \log_a x - \log_a y$$

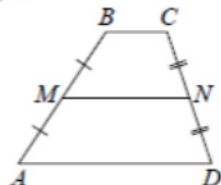
$$\log_a b^k = k \log_a b$$

**Геометрия**

Средняя линия треугольника и трапеции

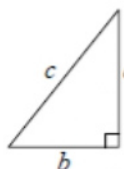


$MN$  — ср. лин.  
 $MN \parallel AC$   
 $MN = \frac{AC}{2}$



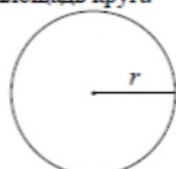
$BC \parallel AD$   
 $MN$  — ср. лин.  
 $MN \parallel AD$   
 $MN = \frac{BC + AD}{2}$

Теорема Пифагора



$$a^2 + b^2 = c^2$$

Длина окружности  
Площадь круга

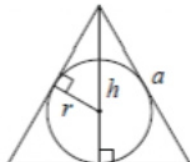


$C = 2\pi r$   
 $S = \pi r^2$

Правильный треугольник



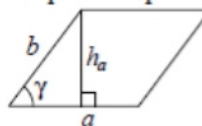
$R = \frac{a\sqrt{3}}{3}$   
 $S = \frac{a^2\sqrt{3}}{4}$



$r = \frac{a\sqrt{3}}{6}$   
 $h = \frac{a\sqrt{3}}{2}$

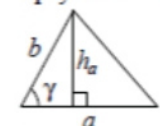
**Площади фигур**

Параллелограмм



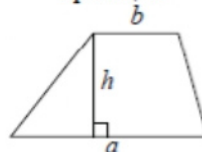
$S = ah_a$   
 $S = absin \gamma$

Треугольник



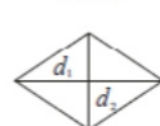
$S = \frac{1}{2}ah_a$   
 $S = \frac{1}{2}absin \gamma$

Трапеция



$S = \frac{a+b}{2} \cdot h$

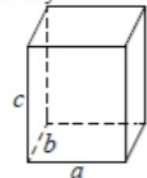
Ромб



$d_1, d_2$  — диагонали  
 $S = \frac{1}{2}d_1d_2$

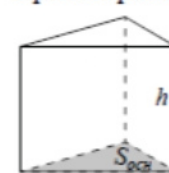
**Площади поверхностей и объёмы тел**

Прямоугольный параллелепипед



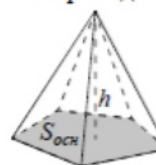
$V = abc$

Прямая призма



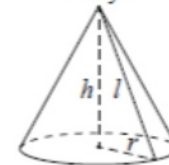
$V = S_{осн}h$

Пирамида



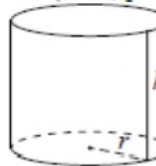
$V = \frac{1}{3}S_{осн}h$

Конус



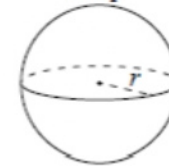
$V = \frac{1}{3}\pi r^2 h$   
 $S_{бок} = \pi r l$

Цилиндр



$V = \pi r^2 h$   
 $S_{бок} = 2\pi r h$

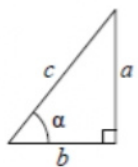
Шар



$V = \frac{4}{3}\pi r^3$   
 $S = 4\pi r^2$

**Тригонометрические функции**

Прямоугольный треугольник

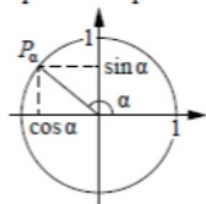


$$\sin \alpha = \frac{a}{c}$$

$$\cos \alpha = \frac{b}{c}$$

$$\operatorname{tg} \alpha = \frac{a}{b}$$

Тригонометрическая окружность



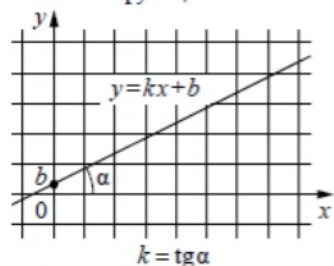
Основное тригонометрическое тождество:  $\sin^2 \alpha + \cos^2 \alpha = 1$

Некоторые значения тригонометрических функций

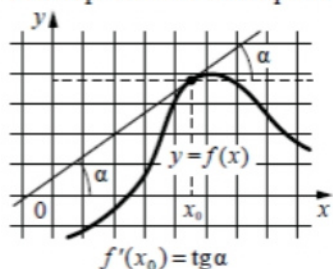
$\alpha$	радианы	0	$\frac{\pi}{6}$	$\frac{\pi}{4}$	$\frac{\pi}{3}$	$\frac{\pi}{2}$	$\pi$	$\frac{3\pi}{2}$	$2\pi$
	градусы	$0^\circ$	$30^\circ$	$45^\circ$	$60^\circ$	$90^\circ$	$180^\circ$	$270^\circ$	$360^\circ$
$\sin \alpha$		0	$\frac{1}{2}$	$\frac{\sqrt{2}}{2}$	$\frac{\sqrt{3}}{2}$	1	0	-1	0
$\cos \alpha$		1	$\frac{\sqrt{3}}{2}$	$\frac{\sqrt{2}}{2}$	$\frac{1}{2}$	0	-1	0	1
$\operatorname{tg} \alpha$		0	$\frac{\sqrt{3}}{3}$	1	$\sqrt{3}$	—	0	—	0

**Функции**

Линейная функция



Геометрический смысл производной



Ответом к каждому заданию является конечная десятичная дробь, или целое число, или последовательность цифр. Ответ сначала запишите в поле ответа в тексте работы, а затем перенесите в БЛАНК ОТВЕТОВ № 1 справа от номера соответствующего задания. Каждую цифру, знак «минус» и запятую пишите в отдельной клеточке в соответствии с приведёнными в бланке образцами. Единицы измерений писать не нужно.

**1** В пачке 250 листов бумаги формата А4. За неделю в офисе расходуется 700 листов. Какого наименьшего количества пачек бумаги хватит на 8 недель?

Ответ: \_\_\_\_\_.

**2** Установите соответствие между величинами и их возможными значениями: к каждому элементу первого столбца подберите соответствующий элемент из второго столбца.

**ВЕЛИЧИНЫ**

- А) объём ящика комода
- Б) объём воды в Каспийском море
- В) объём пакета ряженки
- Г) объём железнодорожного вагона

**ЗНАЧЕНИЯ**

- 1) 0,75 л
- 2) 78 200 км<sup>3</sup>
- 3) 96 л
- 4) 90 м<sup>3</sup>

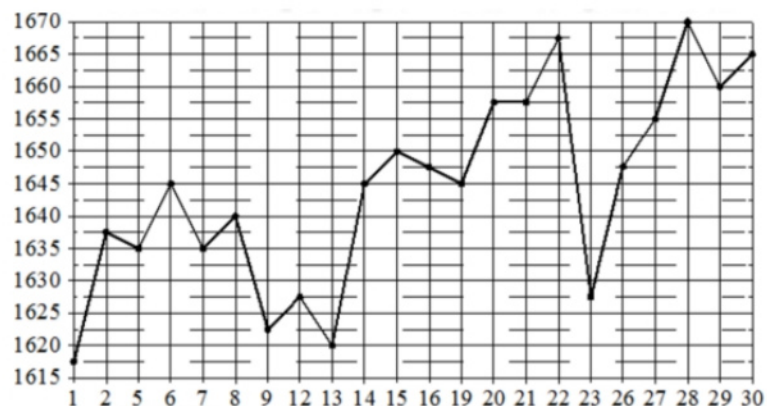
В таблице под каждой буквой, соответствующей величине, укажите номер её возможного значения.

Ответ:

А	Б	В	Г



- 3** На рисунке жирными точками показана цена платины, установленная Центробанком РФ во все рабочие дни в октябре 2010 года. По горизонтали указываются числа месяца, по вертикали – цена платины в рублях за грамм. Для наглядности жирные точки на рисунке соединены линиями. Определите по рисунку, какого числа цена платины была наименьшей за указанный период.



Ответ: \_\_\_\_\_.

- 4** Ускорение тела (в  $\text{м}/\text{с}^2$ ) при равномерном движении по окружности можно вычислить по формуле  $a = \omega^2 R$ , где  $\omega$  – угловая скорость вращения (в  $\text{с}^{-1}$ ), а  $R$  – радиус окружности (в метрах). Пользуясь этой формулой, найдите  $a$  (в  $\text{м}/\text{с}^2$ ), если  $R = 4$  м и  $\omega = 7 \text{ с}^{-1}$ .

Ответ: \_\_\_\_\_.

- 5** В среднем из 500 садовых насосов, поступивших в продажу, 25 подтекают. Найдите вероятность того, что случайно выбранный для контроля насос подтекает.

Ответ: \_\_\_\_\_.

- 6** Для обслуживания международного семинара необходимо собрать группу переводчиков. Сведения о кандидатах представлены в таблице.

Номер переводчика	Языки	Стоимость услуг (руб. в день)
1	Французский	3050
2	Французский, английский	6050
3	Английский, испанский	6800
4	Французский, немецкий	5850
5	Немецкий	1900
6	Испанский	3900

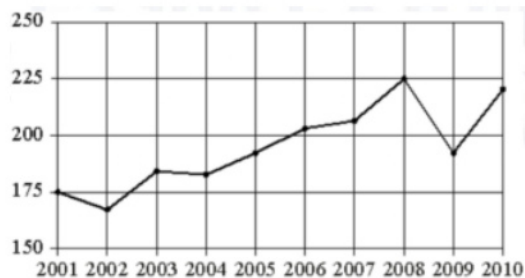
Пользуясь таблицей, соберите хотя бы одну группу, в которой переводчики вместе владеют всеми четырьмя языками: английским, немецким, испанским и французским, а суммарная стоимость их услуг не превышает 12000 рублей в день. В ответе укажите какой-нибудь один набор номеров переводчиков без пробелов, запятых и других дополнительных символов.

Ответ: \_\_\_\_\_.



7

На рисунке точками показан годовой объём добычи угля в России открытым способом в период с 2001 по 2010 год. По горизонтали указывается год, по вертикали – объём добычи угля в миллионах тонн. Для наглядности точки соединены линиями.



Пользуясь рисунком, поставьте в соответствие каждому из указанных периодов времени характеристику добычи угля.

**ПЕРИОДЫ ВРЕМЕНИ**

- А) 2001-2003 гг.
- Б) 2003-2005 гг.
- В) 2005-2007 гг.
- Г) 2007-2009 гг.

**ХАРАКТЕРИСТИКИ**

- 1) в течение периода объём добычи сначала рос, а затем стал падать
- 2) объём добычи в этот период рос с каждым годом
- 3) период с минимальным показателем добычи за 10 лет
- 4) годовой объём добычи составлял больше 175 млн т, но меньше 200 млн т

В таблице под каждой буквой укажите соответствующий номер.

Ответ:

А	Б	В	Г

8

В компании из 30 человек 25 пользуются социальной сетью «Одноклассники», а 10 – социальной сетью «ВКонтакте». Выберите утверждения, которые верны при указанных условиях.

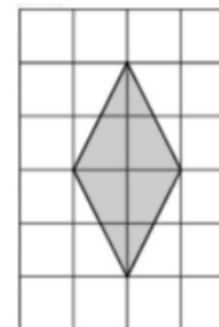
- 1) В этой компании найдётся 10 человек, которые не пользуются ни сетью «Одноклассники», ни сетью «ВКонтакте».
- 2) В этой компании найдётся хотя бы 5 человек, пользующихся обеими сетями.
- 3) Не найдётся ни одного человека из этой компании, пользующегося только сетью «Одноклассники».
- 4) Не более 10 человек из этой компании пользуются обеими сетями.

В ответе запишите номера выбранных утверждений без пробелов, запятых и других дополнительных символов.

Ответ: \_\_\_\_\_.

9

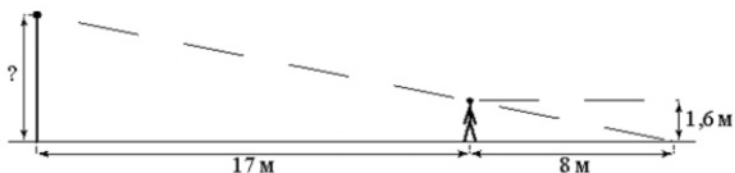
План местности разбит на клетки. Каждая клетка обозначает квадрат 1 м × 1 м. Найдите площадь участка, выделенного на плане. Ответ дайте в квадратных метрах.



Ответ: \_\_\_\_\_.

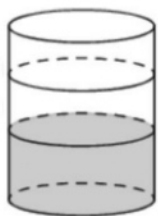


- 10** Человек, рост которого равен 1,6 м, стоит на расстоянии 17 м от уличного фонаря. При этом длина тени человека равна 8 м. Определите высоту фонаря (в метрах).



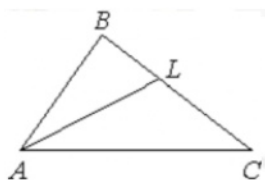
Ответ: \_\_\_\_\_.

- 11** В бак, имеющий форму цилиндра, налито 5 л воды. После полного погружения в воду детали уровень воды в баке поднялся в 1,2 раза. Найдите объём детали. Ответ дайте в кубических сантиметрах, зная, что в одном литре 1000 кубических сантиметров.



Ответ: \_\_\_\_\_.

- 12** В треугольнике  $ABC$  проведена биссектриса  $AL$ , угол  $ALC$  равен  $145^\circ$ , угол  $ABC$  равен  $113^\circ$ . Найдите угол  $ACB$ . Ответ дайте в градусах.



Ответ: \_\_\_\_\_.

- 13** Объём конуса равен 9л, а радиус его основания равен 3. Найдите высоту конуса.



Ответ: \_\_\_\_\_.

- 14** Найдите значение выражения

$$\frac{5,6}{1,9 - 7,5}$$

Ответ: \_\_\_\_\_.

- 15** Число больных гриппом в школе уменьшилось за месяц в два раза. На сколько процентов уменьшилось число больных гриппом?

Ответ: \_\_\_\_\_.

- 16** Найдите значение выражения

$$\operatorname{tg} 13^\circ \cdot \operatorname{ctg} 13^\circ$$

Ответ: \_\_\_\_\_.

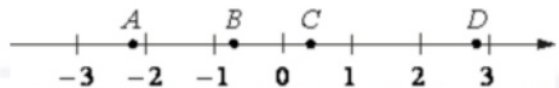
- 17** Решите уравнение

$$x^2 = 3x$$

Если уравнение имеет более одного корня, в ответе укажите больший из них.

Ответ: \_\_\_\_\_.

**18** На координатной прямой отмечены точки  $A$ ,  $B$ ,  $C$  и  $D$ .



Число  $m$  равно  $\sqrt{2}$ .

Каждой точке соответствует одно из чисел в правом столбце. Установите соответствие между указанными точками и числами.

**ТОЧКИ**

$A$   
 $B$   
 $C$   
 $D$

**ЧИСЛА**

1)  $2m - 5$   
2)  $m^3$   
3)  $m - 1$   
4)  $-\frac{1}{m}$

Впишите в приведённую в ответе таблицу под каждой буквой соответствующий числу номер.

Ответ:

$A$	$B$	$C$	$D$

**19** Найдите пятизначное число, кратное 25, любые две соседние цифры которого отличаются на 2. В ответе укажите какое-нибудь одно такое число.

Ответ: \_\_\_\_\_.

**20** Поезд, двигаясь равномерно со скоростью 70 км/ч, проезжает мимо лесополосы, длина которой равна 1000 метров, за 1 минуту 48 секунд. Найдите длину поезда в метрах.

Ответ: \_\_\_\_\_.

**21** Среднее арифметическое девяти чисел, записанных на доске, равно 14, а среднее арифметическое первых восьми из этих чисел равно 13. Найдите девятое число, записанное на доске.

Ответ: \_\_\_\_\_.

*Не забудьте перенести все ответы в бланк ответов №1 в соответствии с инструкцией по выполнению работы. Проверьте, чтобы каждый ответ был записан в строке с номером соответствующего задания.*



**Система оценивания экзаменационной работы по математике  
(базовый уровень)**

Правильное решение каждого из заданий 1–21 оценивается 1 баллом. Задание считается выполненным верно, если ответ записан в той форме, которая указана в инструкции по выполнению задания, и полностью совпадает с эталоном ответа.

Номер задания	Правильный ответ
1	23
2	3214
3	1
4	196
5	0,05
6	256 или 135
7	3421
8	24
9	4
10	5
11	1000
12	3
13	3
14	-1
15	50
16	1
17	3
18	1432
19	97975 или 57975 или 97575 или 57575 или 53575 или 13575
20	1100
21	22