


# Тест по физике Введение 7 класс

## Вариант 1

1. Выберите пару слов, объединяющую в себе названия тела и вещества.
  - 1) шар — воздух
  - 2) вода — песок
  - 3) сахар — молоко
  - 4) айсберг — капля
2. Ю. А. Гагарин 12 апреля 1961 г. облетел земной шар за 1 ч 48 мин. Его полет является...
  - 1) физическим измерением
  - 2) научной гипотезой
  - 3) экспериментальным фактом
  - 4) теоретическим выводом
3. В каком из указанных ниже объектов используется электродвигатель?
  - 1) в электрическом чайнике
  - 2) в телевизоре
  - 3) в утюге
  - 4) ни в одном из указанных
4. Время в Международной системе единиц (СИ) измеряется в...
  - 1) сутках
  - 2) часах
  - 3) минутах
  - 4) секундах
5. Цена деления шкалы прибора, изображенного на рисунке, равна... .



- 0,5 с
- 1,0 с
- 3,0 с
- 5,0 с

6. При выполнении лабораторной работы с прибором, изображенным на рисунке, его показание следует записать как... .




- 1)  $(31 \pm 0,5) ^\circ\text{C}$
- 2)  $(35 \pm 5) ^\circ\text{C}$
- 3)  $(35 \pm 2,5) ^\circ\text{C}$
- 4)  $(36 \pm 1) ^\circ\text{C}$

# Тест по физике Введение 7 класс


## Вариант 2

1. Выберите пару слов, объединяющую в себе названия вещества и тела.
  - 1) глина — скульптура
  - 2) дверь — ручка
  - 3) свет — тень
  - 4) кофе — мед
2. 23 сентября 1846 г. И. Галле, направив телескоп в ту часть небосклона, где, по расчетам ученых, должна была находиться восьмая планета Солнечной системы, обнаружил в этом месте планету, названную позднее Нептуном. Этот факт является...
  - 1) объяснением физического явления
  - 2) научной гипотезой
  - 3) экспериментом, подтверждающим теорию
  - 4) экспериментом, лежащим в основе теории
3. В каком из указанных ниже объектов используется электродвигатель?
  - 1) в телевизоре
  - 2) в калькуляторе
  - 3) в кофемолке
  - 4) ни в одном из указанных
4. Основной единицей длины в Международной системе единиц (СИ) является...
  - 1) метр
  - 2) километр
  - 3) сантиметр
  - 4) миллиметр
5. Цена деления шкалы прибора, изображенного на рисунке, равна... .



- 1) 1 °C
- 2) 5 °C
- 3) 10 °C
- 4) 120 °C

6. При выполнении лабораторной работы с прибором, изображенным на рисунке, его показания следует записать как... .



- 1)  $(22 \pm 0,25)$  с
- 2)  $(22 \pm 1)$  с
- 3)  $(24 \pm 0,5)$  с
- 4)  $(24 \pm 1)$  с

# Тест по физике Введение 7 класс

## Вариант 3

1. Выберите пару слов, объединяющую в себе названия тела и вещества.
  - 1) звук — гитара
  - 2) дом — Луна
  - 3) дождь — глина
  - 4) росинка — вода
2. 21 июля 1969 г. впервые была осуществлена посадка на Луну американского космического корабля. Это событие является...
  - 1) объяснением физического явления
  - 2) научной гипотезой
  - 3) теоретическим выводом
  - 4) экспериментальным фактом
3. В каком из указанных объектов используется электродвигатель?
  - 1) только в Останкинской телебашне
  - 2) только в пылесосе
  - 3) только в фене
  - 4) во всех указанных объектах
4. Основной единицей массы в Международной системе единиц (СИ) является...
  - 1) миллиграмм
  - 2) грамм
  - 3) килограмм
  - 4) тонна
5. Цена деления шкалы рулетки, изображенной на рисунке, равна...
  - 1) 0,05 см
  - 2) 0,1 см
  - 3) 0,5 см
  - 4) 1,0 см



- 1) 0,05 см
  - 2) 0,1 см
  - 3) 0,5 см
  - 4) 1,0 см
6. При выполнении лабораторной работы с прибором, изображенным на рисунке, его показания следует записать как...
    - 1)  $(20 \pm 5) ^\circ\text{C}$
    - 2)  $(24 \pm 0,5) ^\circ\text{C}$
    - 3)  $(24 \pm 1) ^\circ\text{C}$
    - 4)  $(25 \pm 1) ^\circ\text{C}$



## Ответы на тест по физике Введение 7 класс

### Вариант 1

1-1  
2-3  
3-4  
4-4  
5-1  
6-3

### Вариант 2

1-1  
2-3  
3-3  
4-1  
5-2  
6-1

### Вариант 3

1-4  
2-4  
3-4  
4-3  
5-2  
6-2