



**Единый государственный экзамен
по МАТЕМАТИКЕ**

Базовый уровень

Инструкция по выполнению работы

Экзаменационная работа включает в себя 21 задание.

На выполнение работы отводится 3 часа (180 минут).

Ответы к заданиям записываются по приведённым ниже образцам в виде числа или последовательности цифр. Сначала запишите ответы к заданиям в поле ответа в тексте работы, а затем перенесите их в бланк ответов № 1 справа от номера соответствующего задания.

КИМ Ответ: -0,8

Ю	-	0	,	8																	
---	---	---	---	---	--	--	--	--	--	--	--	--	--	--	--	--	--	--	--	--	--

 Бланк

Если ответом является последовательность цифр, как в приведённом ниже примере, то запишите эту последовательность в бланк ответов № 1 без пробелов, запятых и других дополнительных символов.

КИМ

А	Б	В	Г
4	3	1	2

 Ответ:

9	4	3	1	2																	
---	---	---	---	---	--	--	--	--	--	--	--	--	--	--	--	--	--	--	--	--	--

 Бланк

Все бланки ЕГЭ заполняются яркими чёрными чернилами. Допускается использование гелевой или капиллярной ручки.

При выполнении заданий можно пользоваться черновиком. **Записи в черновике, а также в тексте контрольных измерительных материалов не учитываются при оценивании работы.**

Баллы, полученные Вами за выполненные задания, суммируются. Постарайтесь выполнить как можно больше заданий и набрать наибольшее количество баллов.

После завершения работы проверьте, что ответ на каждое задание в бланках ответов №1 записан под правильным номером.

Желаем успеха!

Справочные материалы

Алгебра

Таблица квадратов целых чисел от 0 до 99

Десятки	Единицы									
	0	1	2	3	4	5	6	7	8	9
0	0	1	4	9	16	25	36	49	64	81
1	100	121	144	169	196	225	256	289	324	361
2	400	441	484	529	576	625	676	729	784	841
3	900	961	1024	1089	1156	1225	1296	1369	1444	1521
4	1600	1681	1764	1849	1936	2025	2116	2209	2304	2401
5	2500	2601	2704	2809	2916	3025	3136	3249	3364	3481
6	3600	3721	3844	3969	4096	4225	4356	4489	4624	4761
7	4900	5041	5184	5329	5476	5625	5776	5929	6084	6241
8	6400	6561	6724	6889	7056	7225	7396	7569	7744	7921
9	8100	8281	8464	8649	8836	9025	9216	9409	9604	9801

Свойства арифметического квадратного корня

$\sqrt{ab} = \sqrt{a} \cdot \sqrt{b}$ при $a \geq 0, b \geq 0$ $\sqrt{\frac{a}{b}} = \frac{\sqrt{a}}{\sqrt{b}}$ при $a \geq 0, b > 0$

Корни квадратного уравнения $ax^2 + bx + c = 0, a \neq 0$

$x_1 = \frac{-b - \sqrt{b^2 - 4ac}}{2a}, x_2 = \frac{-b + \sqrt{b^2 - 4ac}}{2a}$ при $b^2 - 4ac > 0$

$x = -\frac{b}{2a}$ при $b^2 - 4ac = 0$

Формулы сокращенного умножения

$(a + b)^2 = a^2 + 2ab + b^2$

$(a - b)^2 = a^2 - 2ab + b^2$

$a^2 - b^2 = (a + b)(a - b)$

Степень и логарифм

Свойства степени при $a > 0, b > 0$

$$a^{-n} = \frac{1}{a^n}$$

$$a^n \cdot a^m = a^{n+m}$$

$$\frac{a^n}{a^m} = a^{n-m}$$

$$(a^n)^m = a^{nm}$$

$$(ab)^n = a^n \cdot b^n$$

$$\left(\frac{a}{b}\right)^n = \frac{a^n}{b^n}$$

Свойства логарифма при $a > 0, a \neq 1, b > 0, x > 0, y > 0$

$$a^{\log_a b} = b$$

$$\log_a a = 1$$

$$\log_a 1 = 0$$

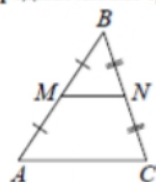
$$\log_a(xy) = \log_a x + \log_a y$$

$$\log_a\left(\frac{x}{y}\right) = \log_a x - \log_a y$$

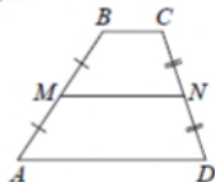
$$\log_a b^k = k \log_a b$$

Геометрия

Средняя линия треугольника и трапеции

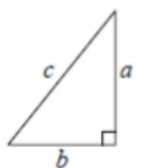


MN — ср. лин.
 $MN \parallel AC$
 $MN = \frac{AC}{2}$



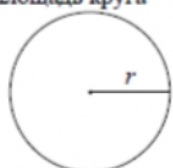
$BC \parallel AD$
 MN — ср. лин.
 $MN \parallel AD$
 $MN = \frac{BC + AD}{2}$

Теорема Пифагора



$$a^2 + b^2 = c^2$$

Длина окружности
Площадь круга



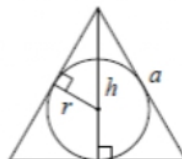
$C = 2\pi r$
 $S = \pi r^2$

Правильный треугольник



$$R = \frac{a\sqrt{3}}{3}$$

$$S = \frac{a^2\sqrt{3}}{4}$$

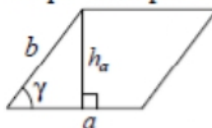


$$r = \frac{a\sqrt{3}}{6}$$

$$h = \frac{a\sqrt{3}}{2}$$

Площади фигур

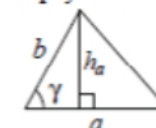
Параллелограмм



$$S = ah_a$$

$$S = ab \sin \gamma$$

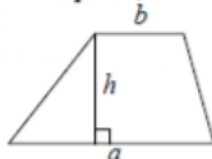
Треугольник



$$S = \frac{1}{2} ah_a$$

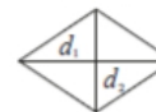
$$S = \frac{1}{2} ab \sin \gamma$$

Трапеция



$$S = \frac{a+b}{2} \cdot h$$

Ромб

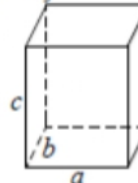


d_1, d_2 — диагонали

$$S = \frac{1}{2} d_1 d_2$$

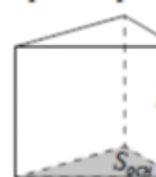
Площади поверхностей и объёмы тел

Прямоугольный параллелепипед



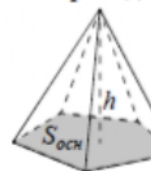
$$V = abc$$

Прямая призма



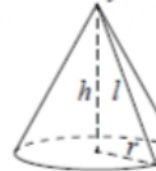
$$V = S_{осн} h$$

Пирамида



$$V = \frac{1}{3} S_{осн} h$$

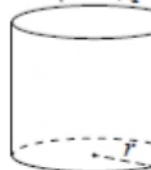
Конус



$$V = \frac{1}{3} \pi r^2 h$$

$$S_{бок} = \pi r l$$

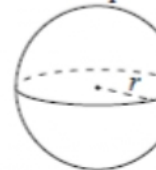
Цилиндр



$$V = \pi r^2 h$$

$$S_{бок} = 2\pi r h$$

Шар



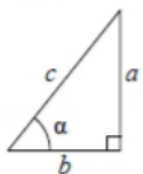
$$V = \frac{4}{3} \pi r^3$$

$$S = 4\pi r^2$$



Тригонометрические функции

Прямоугольный треугольник

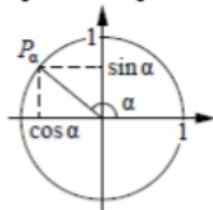


$$\sin \alpha = \frac{a}{c}$$

$$\cos \alpha = \frac{b}{c}$$

$$\operatorname{tg} \alpha = \frac{a}{b}$$

Тригонометрическая окружность



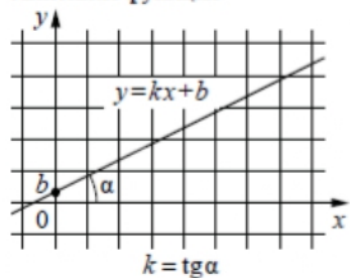
Основное тригонометрическое тождество: $\sin^2 \alpha + \cos^2 \alpha = 1$

Некоторые значения тригонометрических функций

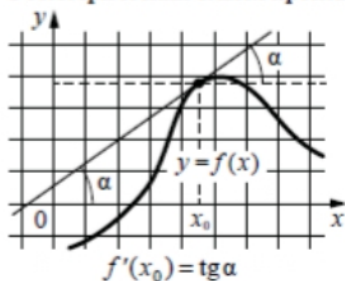
α	радианы	0	$\frac{\pi}{6}$	$\frac{\pi}{4}$	$\frac{\pi}{3}$	$\frac{\pi}{2}$	π	$\frac{3\pi}{2}$	2π
	градусы	0°	30°	45°	60°	90°	180°	270°	360°
$\sin \alpha$		0	$\frac{1}{2}$	$\frac{\sqrt{2}}{2}$	$\frac{\sqrt{3}}{2}$	1	0	-1	0
$\cos \alpha$		1	$\frac{\sqrt{3}}{2}$	$\frac{\sqrt{2}}{2}$	$\frac{1}{2}$	0	-1	0	1
$\operatorname{tg} \alpha$		0	$\frac{\sqrt{3}}{3}$	1	$\sqrt{3}$	—	0	—	0

Функции

Линейная функция



Геометрический смысл производной



Ответом к каждому заданию является конечная десятичная дробь, или целое число, или последовательность цифр. Ответ сначала запишите в поле ответа в тексте работы, а затем перенесите в БЛАНК ОТВЕТОВ № 1 справа от номера соответствующего задания. Каждую цифру, знак «минус» и запятую пишите в отдельной клеточке в соответствии с приведёнными в бланке образцами. Единицы измерений писать не нужно.

- 1 Найдите значение выражения $\frac{1}{4} \cdot 0,48 + 1$.
 Ответ: _____.
- 2 За 12 минут велосипедист проехал 4 километра. Сколько километров он проедет за 33 минуты, если будет ехать с той же скоростью?
 Ответ: _____.
- 3 Установите соответствие между величинами и их возможными значениями: к каждому элементу первого столбца подберите соответствующий элемент из второго столбца.

ВЕЛИЧИНЫ

- А) площадь футбольного поля
- Б) площадь почтовой марки
- В) площадь купюры достоинством 100 рублей
- Г) площадь города Москвы

ЗНАЧЕНИЯ

- 1) 97,5 кв. см
- 2) 2511 кв. км
- 3) 165 кв. мм
- 4) 7000 кв. м

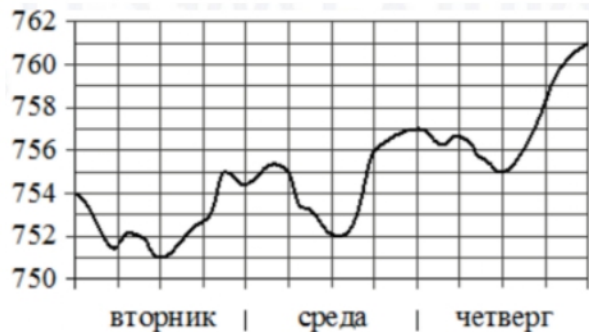
В таблице под каждой буквой, соответствующей величине, укажите номер её возможного значения.

Ответ:

А	Б	В	Г



- 4 На рисунке изображён график значений атмосферного давления в некотором городе за три дня. По горизонтали указаны дни недели, по вертикали – значения атмосферного давления в миллиметрах ртутного столба.



Определите по рисунку наименьшее значение атмосферного давления за данные три дня (в миллиметрах ртутного столба).

Ответ: _____.

- 5 На клетчатой бумаге с размером клетки 1×1 изображён параллелограмм. Найдите его площадь.



Ответ: _____.

- 6 Налог на доходы составляет 13% от заработной платы. Заработная плата Ивана Кузьмича равна 11 000 рублей. Какую сумму он получит после вычета налога на доходы? Ответ дайте в рублях.

Ответ: _____.

- 7 Найдите значение выражения

$$\frac{6^{-3} \cdot 6^7}{6^2}$$

Ответ: _____.

- 8 Чтобы перевести температуру из шкалы Цельсия в шкалу Фаренгейта, пользуются формулой $t_F = 1,8t_C + 32$, где t_C – температура в градусах по шкале Цельсия, t_F – температура в градусах по шкале Фаренгейта. Скольким градусам по шкале Фаренгейта соответствует 5 градусов по шкале Цельсия?

Ответ: _____.

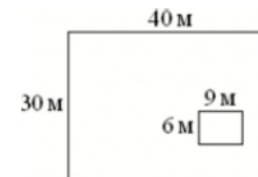
- 9 Решите уравнение

$$x^2 = 3x.$$

Если уравнение имеет более одного корня, в ответе укажите больший из них.

Ответ: _____.

- 10 Дачный участок имеет форму прямоугольника, стороны которого равны 40 м и 30 м. Дом, расположенный на участке, также имеет форму прямоугольника, стороны которого равны 9 м и 6 м. Найдите площадь оставшейся части участка. Ответ дайте в квадратных метрах.



Ответ: _____.



11 В соревнованиях по толканию ядра участвуют 9 спортсменов из Дании, 3 спортсмена из Швеции, 8 спортсменов из Норвегии и 5 – из Финляндии. Порядок, в котором выступают спортсмены, определяется жребием. Найдите вероятность того, что спортсмен, выступающий последним, окажется из Финляндии.

Ответ: _____.

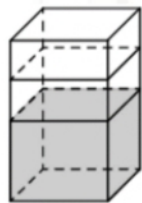
12 Строительный подрядчик планирует купить 20 тонн облицовочного кирпича у одного из трёх поставщиков. Один кирпич весит 5 кг. Цена кирпича и условия доставки всей покупки приведены в таблице.

Поставщик	Цена кирпича (руб. за шт.)	Стоимость доставки (руб.)	Специальные условия
А	49	8000	Нет
Б	55	7000	Доставка бесплатно, если сумма заказа превышает 200 000 руб.
В	62	6000	Доставка со скидкой 50%, если сумма заказа превышает 240 000 руб.

Во сколько рублей обойдётся наиболее дешёвый вариант покупки с доставкой?

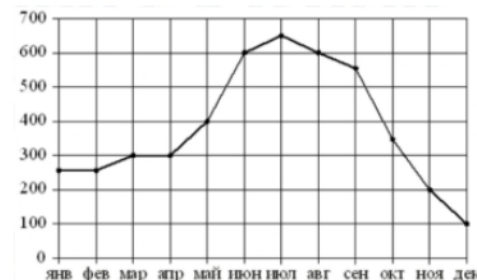
Ответ: _____.

13 В бак, имеющий форму правильной четырёхугольной призмы со стороной основания, равной 40 см, налита жидкость. Чтобы измерить объём детали сложной формы, её полностью погружают в эту жидкость. Найдите объём детали, если после её погружения уровень жидкости в баке поднялся на 10 см. Ответ дайте в кубических сантиметрах.



Ответ: _____.

14 На рисунке точками показаны объёмы месячных продаж холодильников в магазине бытовой техники. По горизонтали указываются месяцы, по вертикали – количество проданных холодильников. Для наглядности точки соединены линией.



Пользуясь рисунком, поставьте в соответствие каждому из указанных периодов времени характеристику продаж холодильников.

ПЕРИОДЫ ВРЕМЕНИ

ХАРАКТЕРИСТИКИ

А) январь-март

1) продажи за первый и второй месяцы квартала совпадают

Б) апрель-июнь

2) ежемесячный объём продаж достигает максимума за весь период

В) июль-сентябрь

3) за этот период ежемесячный объём продаж увеличился на 300 холодильников

Г) октябрь-декабрь

4) за последний месяц периода было продано меньше 200 холодильников

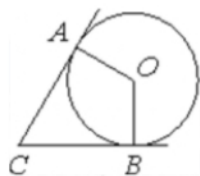
В таблице под каждой буквой укажите соответствующий номер.

Ответ:

А	Б	В	Г

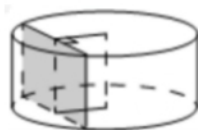


- 15** В угол C , равный 79° , вписана окружность с центром O , которая касается сторон угла в точках A и B . Найдите угол AOB . Ответ дайте в градусах.



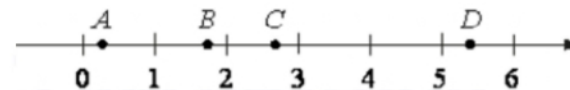
Ответ: _____.

- 16** Радиус основания цилиндра равен 15, а его образующая равна 14. Сечение, параллельное оси цилиндра, удалено от неё на расстояние, равное 12. Найдите площадь этого сечения.



Ответ: _____.

- 17** На координатной прямой отмечены точки A , B , C и D .



Число m равно $\log_2 5$.

Установите соответствие между указанными точками и числами в правом столбце, которые им соответствуют.

ТОЧКИ

A
 B
 C
 D

ЧИСЛА

- 1) $m - 2$
2) m^2
3) $4 - m$
4) $\frac{6}{m}$

Впишите в приведённую в ответе таблицу под каждой буквой соответствующий числу номер.

Ответ:

A	B	C	D

- 18** В жилых домах, в которых больше 5 этажей, установлен лифт. Выберите утверждения, которые верны при приведённом условии.

- 1) Если в доме нет лифта, то в этом доме больше 6 этажей.
- 2) Если в доме лифта нет, то в этом доме меньше 6 этажей.
- 3) Если в доме больше 8 этажей, то в нём нет лифта.
- 4) Если в доме больше 7 этажей, то в нём есть лифт.

В ответе запишите номера выбранных утверждений без пробелов, запятых и других дополнительных символов.

Ответ: _____.



19 Вычеркните в числе 75416303 три цифры так, чтобы получившееся число делилось на 30. В ответе укажите какое-нибудь одно получившееся число.

Ответ: _____.

20 На изготовление 540 деталей первый рабочий затрачивает на 12 часов меньше, чем второй рабочий на изготовление 600 деталей. Известно, что первый рабочий за час делает на 10 деталей больше, чем второй. Сколько деталей в час делает первый рабочий?

Ответ: _____.

21 Хозяин договорился с рабочими, что они выкопают ему колодец на следующих условиях: за первый метр он заплатит им 4200 рублей, а за каждый следующий метр – на 1300 рублей больше, чем за предыдущий. Сколько рублей хозяин должен будет заплатить рабочим, если они выкопают колодец глубиной 11 метров?

Ответ: _____.

Не забудьте перенести все ответы в бланк ответов № 1 в соответствии с инструкцией по выполнению работы. Проверьте, чтобы каждый ответ был записан в строке с номером соответствующего задания.



**Система оценивания экзаменационной работы по математике
(базовый уровень)**

Правильное решение каждого из заданий 1–21 оценивается 1 баллом. Задание считается выполненным верно, если экзаменуемый дал правильный ответ в виде целого числа или конечной десятичной дроби, или последовательности цифр.

Номер задания	Правильный ответ
1	1,12
2	11
3	4312
4	751
5	28
6	9570
7	36
8	41
9	3
10	1146
11	0,2
12	204000
13	16000
14	1324
15	101
16	252
17	1342
18	24
19	75630 или 54630 или 74160 или 51630 или 74130
20	30
21	117700