


**Школьный этап всероссийской олимпиады школьников
2021-2022 учебного года по основам безопасности жизнедеятельности
5-6 классы
ТЕОРЕТИЧЕСКИЙ ТУР**

Ответы

Задание 1. «Правила дорожного движения»

Соотнесите названия знаков с их изображением, записав в пустые поля правильный ответ.

| | |
|---|-------------------------|
|  | Пешеходный переход |
|  | Падение камней |
|  | Место остановки трамвая |
|  | Автомагистраль |
|  | Место стоянки |

| | |
|---|------------------|
|  | Конец жилой зоны |
|---|------------------|

Оценка задания. Максимальная оценка за правильно выполненное задание – 6 баллов, при этом:

- за каждое правильное соотношение начисляется по 1 баллу;
- при отсутствии правильного ответа баллы не начисляются.

Задание 2. «Безопасность в природной среде»

Определите название гриба, исходя из его описания.

- Шляпки этих грибов по цвету похожи на опавшие листья дерева, под которым они чаще всего встречаются - **подосиновик**.
- Живут эти грибы на деревьях или на пнях. Живут большими компаниями. Иногда с одного дерева или пня можно собрать целое лукошко – **опята**.
- Мякоть этого гриба никогда не темнеет, за что он получил своё название. Это царь грибов - **белый**.
- Этот гриб является лекарством для лосей. Он ядовитый, но очень красивый – **мухомор**.
- Растёт в хвойных и лиственных лесах группами. Название свое получил за характерную ярко-рыжую окраску, единственный гриб, который не мнётся и не крошится – **лисички**.

Оценка задания. Максимальная оценка за правильно выполненное задание – 10 баллов, при этом:

- за каждое правильное соотношение начисляется по 2 балла;
- если задание не выполнено, баллы не начисляются.

Задание 3. «Правила дорожного движения».

Установите соответствие между сигналами регулировщика и их значением для пешехода.

| Сигналы регулировщика | Значение для пешехода |
|-------------------------------------|---|
| Правая рука вытянута вперед | Пешеходам разрешено переходить проезжую часть за спиной регулировщика |
| Руки вытянуты в стороны или опущены | Со стороны левого и правого бока пешеходам разрешено переходить проезжую часть |
| | Со стороны груди и спины движение всех транспортных средств и пешеходов запрещено |
| Рука поднята вверх | Движение всех транспортных средств и пешеходов запрещено во всех направлениях |




Оценка задания. Максимальная оценка за правильно выполненное задание – 8 баллов, при этом:

за каждое правильное соотношение начисляется по 2 балла;

- если задание не выполнено, баллы не начисляются.

Задание 4. «Международная кодовая таблица сигналов бедствия «земля-воздух».

Укажите соответствие изображения знаков Международной кодовой таблицы сигналов бедствия «земля-воздух» с его описанием.

| | |
|---|---------------------------------|
|  | Следовать дальше не в состоянии |
|  | Самолет сильно поврежден |
|  | Нужны оружие и боеприпасы |

| | |
|----|--------------------------------|
| N | Нет |
| Y | Да |
| LL | Все в порядке |
| K | Укажите направление следования |
| F | Нужны продовольствие и вода |

Оценка задания. Максимальная оценка за правильно выполненное задание – 8 баллов, при этом:

- за каждый правильный ответ начисляется по 1 баллу;
- при отсутствии правильного ответа баллы не начисляются.

Задание 5. «Безопасность человека»

Из предложенных вариантов выберите и вставьте пропущенные слова, подходящие по смыслу.

Среда обитания— среда **жизни** и производственной **деятельности** человека, окружающий **человека** природный и созданный им материальный **мир**.

Оценка задания. Максимальная оценка за правильно выполненное задание – 4 балла, при этом:

- за каждый правильный ответ начисляется по 1 баллу;
- при отсутствии правильного ответа баллы не начисляются.

Задание 6. «ЗОЖ»

Соотнесите какие из предложенных фраз относятся к ссоре, а какие к избеганию конфликта.

| | |
|---------------------------|---------------------|
| Вот глупый... | Ссора |
| Сегодня ты... | Избежание конфликта |
| Давай попробуем вместе... | Избежание конфликта |

| | |
|------------------------|---------------------|
| Сколько можно жрать... | Ссора |
| Мне кажется... | Избежание конфликта |
| Ты лгун и врунишка.... | Ссора |

Оценка задания. Максимальная оценка за правильно выполненное задание – 6 баллов, при этом:

- за каждый правильный ответ начисляется по 1 баллу;
- при отсутствии правильного ответа баллы не начисляются.

Задание 7. «Основы первой помощи»

Определите для чего применяется каждое из указанных средств из аптечки.

| <i>Средства из аптечки</i> | <i>Для чего может пригодиться</i> |
|--|-----------------------------------|
| Резиновые перчатки | Защита от загрязнения |
| | Защита от заражения |
| Лейкопластырь бактерицидный | Заклейка царапин, порезов, ссадин |
| Стерильные марлевые салфетки (или бинты) | Наложение повязки |
| Ножницы | Отрезание бинта или лейкопластыря |

Оценка задания. Максимальная оценка за правильно выполненное задание – 10 баллов, при этом:

- за каждый правильный ответ начисляется по 2 балла;
- при отсутствии правильного ответа баллы не начисляются.

Задание 8. «Туризм и выживание в природной среде»

Укажите соответствие снаряжения туриста по его описанию.

| | |
|---------------------------|--|
| Компас, карта | Для ориентирования на местности |
| Спички, нож, пила, посуда | Для разведения костра и приготовления пищи |

| | |
|--------------------------------|--|
| Рюкзак | Для переноски вещей |
| Средство от насекомых, аптечка | Для защиты от насекомых, на случай получения травм |

Оценка задания. Максимальная оценка за правильно выполненное задание – 8 баллов, при этом:

- за каждый правильный ответ начисляется по 2 балла;
- при отсутствии правильного ответа баллы не начисляются.

ТЕСТОВЫЕ ЗАДАНИЯ

Определите один правильный ответ

За каждый правильный ответ начисляется по 1 баллу

Таблица ответов:

| Номер тестового задания | Верный ответ | Номер тестового задания | Верный ответ | Номер тестового задания | Верный ответ |
|-------------------------|--------------|-------------------------|--------------|-------------------------|--------------|
| 1 | а | 11 | а | 21 | а,б |
| 2 | б | 12 | б | 22 | б,в |
| 3 | в | 13 | а | 23 | б,г |
| 4 | а | 14 | в | 24 | а,в |
| 5 | в | 15 | а | 25 | б,в |
| 6 | а | 16 | а | 26 | в,д |
| 7 | в | 17 | а | 27 | а,д |
| 8 | г | 18 | а | 28 | б,г |
| 9 | в | 19 | г | 29 | а,г |
| 10 | а | 20 | а | 30 | б,д |