

**Школьный этап всероссийской олимпиады школьников
2021-2022 учебного года по истории.**

7 класс


Продолжительность - 90 минут

1. Перед Вами фотографии четырёх достопримечательностей Московской области. Соотнесите каждую фотографию с местоположением достопримечательности на карте нашего региона.

Максимальное количество баллов за задание: 4



б.



1	2	3	4

2. Перед Вами тексты современных авторов или фрагменты исторических источников, в которых описываются конкретные события отечественной истории. Соотнесите каждый отрывок с годом событий, которые в нём описываются.

Максимальное количество баллов за задание: 6

ОТРЫВКИ:

1. «По свидетельству летописи, люди падали целыми рядами. В страшной сече погиб и сам Михаил, и многие его воины. Тем не менее русские сумели переломить ход битвы в свою пользу и обратили рыцарей в бегство. Преследовать их отправились полки, возглавляемые князем Дмитрием Переяславским (сын Александра Невского), которые гнали крестоносцев 7 верст до самого Раковора»
2. «На стороне Новгорода, вынужденного начать войну, выступили псковские и смоленские князья, а также ростовский кн. Константин Всеволодович, желавший занять великий стол во Владимире. [...] Владимирско-суздальские князья потерпели жестокое поражение, потеряв, по словам летописцев, только убитыми более 9 тысяч человек. У победителей решающую роль в битве сыграли новгородцы и смоляне, бившиеся в пешем строю»
3. «Тогда осаждавшие пустили в ход стенобитные машины и с их помощью разрушили крепостные укрепления. Ворвавшись в город после 9-дневной осады, воины Батые устроили там массовую резню. Князь Юрий и почти все жители погибли. «И не было, – по словам летописи, – ни стонущего, ни плачущего»
4. «Услышав о такой доблести князя, король страны Римской из северной земли подумал про себя: «Пойду и завоюю землю Александрову». И собрал силу великую, и наполнил многие корабли полками своими, двинулся с огромным войском, пыхая духом ратным. И пришел в Неву, опьяненный безумием, и отправил послов своих, возгордившись, в Новгород к князю, говоря: «Если можешь, защищайся, ибо я уже здесь и разорю землю твою»
5. «Битва происходила ночью. Половцы оказались удачливей и разгромили русских, которые бежали с поля боя. Следствием этого поражения стал мятеж в Киеве, в результате которого Изяслав бежал в Польшу»
6. «...Он вместе с тремя другими князьями совершил поход в глубь степей, намереваясь разгромить половецкие орды, обитавшие в Северном Причерноморье и Подонье, и вернуть утраченный город Тмутаракань на Таманском полуострове. Но войско Игоря потерпело поражение, а сам он попал в плен к половцам»

ГОДЫ:

1068
1185
1216
1237
1240
1268

1	2	3	4	5	6

3. Перед Вами ряд текстов, в которых характеризуются или упоминаются известные деятели эпохи русского средневековья. Соотнесите имена деятелей с предложенными текстами.

Максимальное количество баллов за задание: 8

А.

«Сей князь великий был ростом высок, сух, волосы чермноваты и прямы, борода долгая, зрение острое. [...] К войне не был охотник, и хотя на кого скоро осердился, но скоро и запамятовал. [...] Наложницу свою поял в жену и так ее любил, что без слез на малое время разлучиться не мог, и, много ее слушая, от князей терпел поношение, а часто и вред с сожалением. И ежели бы Владимир его не охранял, то б давно Киева Святославичами лишен был»

Б.

«С 1093 года вел ожесточенную войну с половцами и опиравшимся на них Олегом Святославичем, которому вынужден был уступить Чернигов, и обосновался в Переяславском княжестве, которое подвергалось наиболее ожесточенным набегам половцев. Поэтому [он] был более всех заинтересован в прекращении княжеских междоусобиц и сплочении сил Руси для отпора половцам»

В.

«Начало правления [князя] сопровождалось политическими мерами, направленными на внутреннюю консолидацию княжества, следствием чего было происшедшее ок. 1161 г. столкновение владимирского князя с оппозицией со стороны ряда младших Юрьевичей. [...] Князь изгнал также и «мужей передних» своего отца, что указывает на радикальность его преобразований»

Г.

«Услышав о такой доблести князя, король страны Римской из северной земли подумал про себя: «Пойду и завоюю землю Александрову». И собрал силу великую, и наполнил многие корабли полками своими, двинулся с огромным войском, пыхая духом ратным. И пришел в Неву, опьяненный безумием, и отправил послов своих, возгордившись, в Новгород к князю, говоря: «Если можешь, защищайся, ибо я уже здесь и разоряю землю твою»

Д.

«Он перестал считаться с великим киевским князем Рюриком Ростиславичем, приходившимся ему тестем, захватил Киев, а его владельца постриг в монахи. Римский папа Иннокентий III прислал к [нему] своих легатов, убеждая принять католичество, за что обещал провозгласить его королем Руси. Но [он] отклонил это предложение, заявив папским послам, что не нуждается в мече св. Петра, добывая себе города и земли кровью с помощью собственного меча»

Е.

«В 1237 началось татаро-монгольское нашествие. Враги вторглись и в его владения. Чтобы дать им отпор, [он] отправился на север для соединения с другими русскими силами. Произошло жестокое сражение на р. Сить в феврале 1238. Князь пал смертью храбрых на поле брани, защищая веру и Отечество»

Ж.

«[Он] был крупным полководцем, неоднократно одерживал победы в сражениях. Участвовал во многих войнах. Успешно боролся с половцами, венграми, поляками, совершил удачный поход на чудь. В 1216 разгромил в Липецкой битве сильное войско владими́ро-суздальских князей. В 1223 [он] стал инициатором и одним из главных руководителей похода русских войск против монголов»

З.

«После неудачного похода в 1244 против Ливонского ордена в землю куршей и земгалов пошёл на компромиссное соглашение с орденом и католической церковью (принял католичество в 1251). Готовясь к новой войне с орденом, [он] ок. 1253 заключил договор с галицким кн. Даниилом и выдал замуж дочь за его сына Шварна, возобновил и укрепил связи с владими́ро-суздальским великим кн. Александром Невским»

1. Александр Невский
2. Андрей Боголюбский
3. Владимир Мономах
4. Миндовг
5. Мстислав Удатный
6. Роман Галицкий
7. Святополк Изяславич
8. Юрий Всеволодович

А	Б	В	Г	Д	Е	Ж	З

4. Перед Вами фрагменты пяти работ известных художников эпохи возрождения. Соотнесите фрагмент каждого произведения искусства с утверждением о её создателе.


Максимальное количество баллов за задание: 10



1



2



3



4



5

1	2	3	4	5

5. Перед Вами шесть рядов, в каждом из которых все элементы, кроме одного, объединяет нечто общее. Выберите и обведите лишний элемент в каждом ряду.

Максимальное количество баллов за задание: 10

1. Жан Кальвин, Игнатий де Лойола, Мартин Лютер, Ульрих Цвингли.
2. Гранадский эмират, Дербентский эмират, Кордовский эмират, Сарагосский эмират.
3. Бурбоны, Валуа, Йорки, Капетинги.
4. Андрей Рублёв, Дионисий, Иларион Русин, Даниил Чёрный.
5. Белые хорваты, дреговичи, тиверцы, черемисы.

6. Перед Вами десять утверждений, пять из которых являются верными, а пять – нет. Отметьте верные и неверные утверждения.

Максимальное количество баллов за задание: 10

1. Монголы взяли Киев раньше Владимира-на-Клязьме. _____
2. Монголы никогда не убивали Московского князя в Орде. _____
3. Московские князья использовали ордынские силы в борьбе с Тверским княжеством. _____
4. Все московские князья владели ханским ярлыком на Великое княжение Владимирское. _____
5. Монголы никогда не брали Великий Новгород. _____
6. Неврюева рать была раньше Дюденева рати. _____
7. В битве на реке Сити погиб великий владимирский князь. _____
8. Город Сарай-Бату находился на Дону. _____
9. Муром был разграблен монголами во время похода 1237–1238 годов. _____
10. Все русские князья, принимавшие участие в битве на реке Калке, выжили. _____

7. Перед Вами семь показателей и числовых значений. Соотнесите их между собой.

Максимальное количество баллов за задание: 14

ПОКАЗАТЕЛИ:

1. Число участников Седьмого крестового похода (в тыс. чел.)
2. Примерное число участников «Крестового похода детей» (в тыс. чел.)
3. Сумма выкупа, которую потребовали за короля Ричарда Львиное Сердце (в тыс. марок)
4. Количество захватов Иерусалима крестоносцами
5. Возраст Фридриха Барбароссы к началу Третьего крестового похода
6. Возраст, в котором скончался Ричард Львиное Сердце
7. Количество государств, образованных крестоносцами после Первого крестового похода

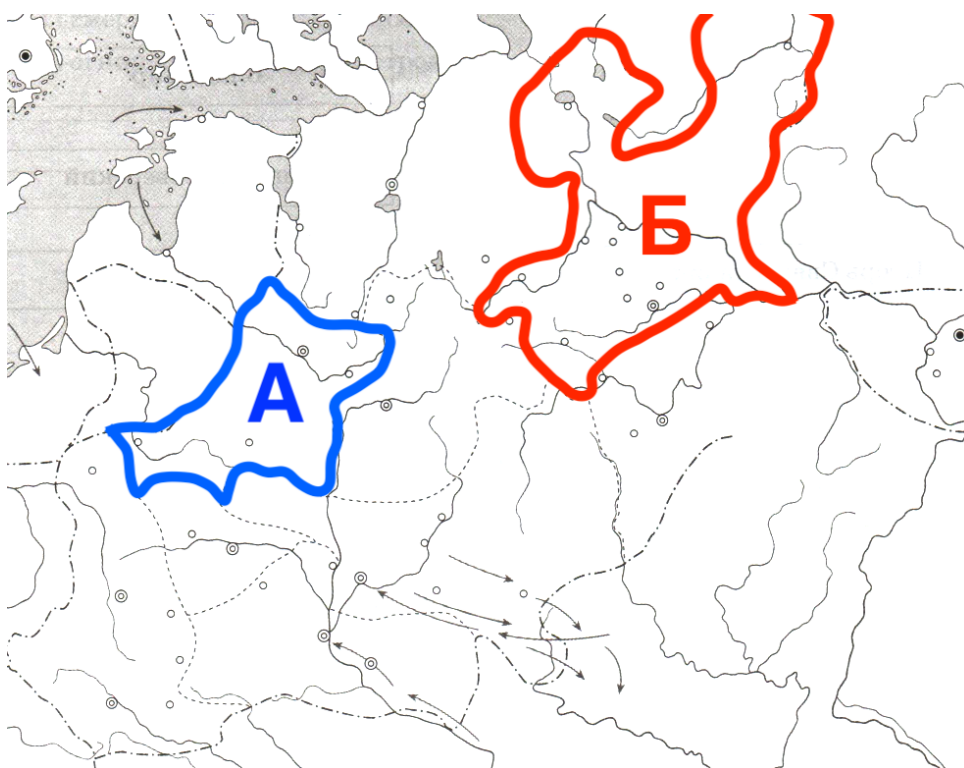
ЗНАЧЕНИЯ:

- 1
- 4
- 15

- 30
- 41
- 67
- 150000

1	2	3	4	5	6	7

8. Перед Вами карта Руси времён раздробленности. На карте выделены сухопутные границы двух княжеств этого периода – «А» и «Б». Ниже приведён перечень фактов. Определите, какому из княжеств соответствует каждый факт – «А», «Б» или ни тому, ни другому.
Максимальное количество баллов за задание: 12



1. В столице этого княжества ещё в XI веке был построен Софийский собор.
2. В этом княжестве правил князь, который, по преданию, умел превращаться в волка и был прозван «Чародеем».
3. Территории этого княжества не коснулось монгольское нашествие.
4. На территории этого княжества был возведён храм Покрова на Нерли.
5. Вся территория этого княжества в настоящее время входит в состав России.
6. В этом княжестве правил князь, получивший прозвище «Осмомысл».

1	2	3	4	5	6

9. Перед Вами фрагмент из исторического источника. Внимательно прочитайте его. Ниже приведены шесть утверждений как о содержании этого фрагмента, так и в целом об исторических событиях, в нём описанных. Среди утверждений есть четыре верных и четыре неверных. Выберите верные и неверные утверждения. Ответ запишите в таблицу.

Максимальное количество баллов за задание: 8

ТЕКСТ:

«Они собрались во время пасхальных праздников на одной горе, отстоявшей на 500 или несколько больше шагов от замка Вехин, каковую гору они называли Табором, вследствие чего эти сектанты позднее и были прозваны таборитами. Сперва на этой горе, через восемь дней на другой горе, а еще через десять или четырнадцать дней опять на новой горе они собирались торжественно на свои сходбища, и на протяжении четверти года число их увеличилось настолько, что в их зловредном обществе насчитывалось до 50 000 чел., не считая женщин и детей. Сойдясь в субботу, в день святой Марии Магдалины, на вышеуказанной горе Табор, они единодушно согласились на том, что скорее готовы претерпеть смерть, чем вынести душевные терзания в случае, если бы они сошли с избранного ими пути.

В течение этого же 1419 г. и двух последующих лет табориты выступали во многих местах, опустошая города и местечки, монастыри, обители, странноприимные дома, разрушая церкви и алтари, а некоторые из них и сжигая, и беспощадно убивая застигнутых там верных сынов католической церкви... Они разрушали до основания все богато обеспеченные королями и князьями обители и монастыри, расположенные как в сельских местностях, так и в городах Чехии, за исключением лишь двух. Я прохожу молчалим разрушение монастырей, расположенных в сельских местностях маркграфства Моравии».

1. Табориты, согласно тексту, нанесли большой вред католической церкви
2. Автор текста осуждает гуситское движение
3. Одним из лидеров таборитов был Ян Жижка
4. В тексте говорится о малочисленности таборитов
5. Согласно тексту, таборитами были разрушены все монастыри в Чехии
6. Автор текста обвиняет таборитов в жестокости
7. События, описанные в тексте, произошли за несколько лет до казни Яна Гуса
8. Табориты никогда не бывали на территории Моравии

1	2	3	4	5	6	7	8

10. Перед Вами текст с описанием событий отечественной истории X века. В нём пропущены некоторые слова и даты. Заполните каждый пропуск, выбрав один из трёх вариантов.

Максимальное количество баллов за задание: 12

После восстания древлян и убийства ими ее мужа (1 – _____) в (2 – г _____) году (3 – _____) уничтожила членов двух посольств древлян, прибывших с предложением выйти замуж за древлянского князя (4 – _____). В военном противостоянии, длившемся около года, княгине удалось с большим трудом одержать победу. Кульминацией противостояния стало сожжение столицы древлян, города под названием (5 – _____). Для исключения возможности повторения племенных выступлений правительница установила точный размер дани – (6 – _____) и место ее сбора (7 – _____). С целью укрепления торговых и политических отношений с Византией княгиня ездила в (8 – _____). Накануне поездки или в самом городе она приняла христианство. Но недовольная приемом, оказанным ей в Византии, правительница после возвращения в Киев отказала византийскому императору (9 – _____) VII в обещанной военной помощи. Позже для укрепления позиций христианства княгиня обратилась к императору Священной Римской империи (10 – _____) I, который отправил в (11 – _____) году миссию, которую возглавлял монах (12 – _____). Миссия закончилась неудачно.

в.

1. Рюрика, Игоря, Олега
2. 890, 945, 988
3. Анна, Ингигерда, Ольга
4. Гостомысла, Курю, Мала
5. Искоростень, Переяславец, Чернигов
6. улич, урок, устав
7. повоз, погост, полюдь
8. Адрианополь, Константинополь, Севастополь
9. Диоклетиану, Константину, Юстиниану
10. Генриху, Карлу, Оттону
11. 922, 961, 1000
12. Адальберт, Альберт, Альфред

11. Перед Вами почтовые карточки, посвящённые двум Городам-героям – Ленинграду и Минску. Ниже приведены шесть утверждений об этих городах. Ваша задача – определить, к какому городу относится каждое утверждение – к городу № 1, к городу № 2 или ни к одному из них.

Максимальное количество баллов за задание: 6

1



2



1. В настоящее время этот город носит то же название, что и во время Великой Отечественной войны. _____
2. В настоящее время этот город не входит в состав России. _____
3. Этот город никогда не был столицей государства. _____
4. В годы Великой Отечественной войны этот город пережил вражескую блокаду. _____
5. По территории этого города протекает река Нева. _____
6. В годы раздробленности на Руси этот город входил в состав Владимиро-Суздальского княжества. _____