

**Школьный этап всероссийской олимпиады школьников
2021-2022 учебного года по истории.**


6 класс

Продолжительность - 60 минут


1. 1. Перед Вами список из десяти достопримечательностей. Четыре из них находятся в Московской области, три – в Москве, а три – за пределами России. Напишите верный вариант ответа для каждой из достопримечательностей. Максимальное количество баллов за задание: 10

1. Собор Василия Блаженного
2. Троице-Сергиева лавра
3. Новоиерусалимский монастырь
4. Елисейские поля
5. Парк «Патриот»
6. Парк Победы на Поклонной горе
7. Киево-Печерская лавра
8. Новодевичий монастырь
9. Коломенский кремль
10. Афинский Акрополь


2. Перед Вами фрагменты шести полотен известного художника Степана Бакаловича, часто вдохновлявшегося сюжетами из древности. Соотнесите фрагмент каждой картины с утверждением об этой картине. Максимальное количество баллов за задание: 12




1



2




3



4



5



6

Факты:

- А. На картине изображён писец фараона.
- Б. На картине изображён поэт Катулл.
- В. На картине изображено одно из Семи чудес света.
- Г. На картине изображена достопримечательность, которая носит имя одного из римских императоров.
- Д. На картине показана приёмная знаменитого римского благотворителя, чьё имя стало нарицательным.
- Е. На картине показано исполнение религиозного ритуала.

1	2	3	4	5	6

3. Перед Вами пять рядов, в каждом из которых все элементы, кроме одного, объединяет нечто общее. Обведите лишний элемент в каждом ряду.
 Максимальное количество баллов за задание: 10

- 1. Ацтеки, инки, майя, этруски.
- 2. Боудикка, Верцингеториг, Ганнибал, Сулла.

3. битва при Марафоне, битва при Платеях, битва при Фарсале, битва при Фермопилах.
4. Деметра, Клио, Мельпомена, Терпсихора.
5. Антигокиды, Ахемениды, Птолеми, Селевкиды.

4. Перед Вами текст по истории раннего Средневековья. В нём пропущены некоторые слова и даты. Заполните каждый пропуск, выбрав один из трёх вариантов.

Максимальное количество баллов за задание: 14

В (1 – _____) году вождь варваров сверг последнего императора Западной Римской империи (2 – _____) Августа. С этой даты началась история Средних веков. На бывшей территории Западной Римской империи стали образовываться варварские королевства, одним из которых было королевство франков. Его основателем был (3 – _____) из династии (4 – _____). В период его правления были записаны старинные судебные обычаи франков, создан свод законов – (5 – _____) Правда. Однако в VII в. королевская власть ослабела, и фактическими правителями государства стали королевские управляющие – майордомы. В 732 г. майордом Карл (6 – _____) одержал победу над арабами в битве (7 – _____).

1. 476, 486, 496
2. Августа, Рема, Ромула
3. Теодорих, Хильдеберт, Хлодвиг
4. Капетингов, Каролингов, Меровингов
5. Вестготская, Салическая, Фризская
6. Великий, Лысый, Мартелл
7. на Кatalaунских полях, при Гастингсе, при Пуатье

5. Перед Вами десять утверждений, пять из которых являются верными, а пять – нет. Выберите верные и неверные утверждения.

Максимальное количество баллов за задание: 10

1. Спартанский царь Леонид погиб в сражении при Фермопилах
2. Сократ был знаменитым греческим математиком
3. Богиней войны и мудрости в древнегреческой мифологии была Артемида
4. На время Олимпийских игр в Древней Греции были запрещены войны
5. Геродот был знаменитым греческим историком
6. В Марафонской битве победу одержало афинское войско
7. Солон был правителем Спарты
8. Учителем Александра Македонского был знаменитый философ Платон
9. Софокл был знаменитым древнегреческим драматургом
10. Автором «Илиады» является Гиппократ

1	2	3	4	5	6	7	8	9	10

6. Перед Вами семь показателей и числовых значений. Соотнесите их между собой.

Максимальное количество баллов за задание: 14

ПОКАЗАТЕЛИ:

1. Численность населения Рима во II веке (в млн)
2. Число гладиаторов, поднявших восстание вместе со Спартаксом
3. Численность армии Ганнибала в битве при Каннах (в тыс. чел.)
4. Площадь Римской империи в I веке (в тыс. кв. км)
5. Количество римских провинций в 28 году до н. э.
6. Количество римских провинций в 117 году, к концу правления императора Траяна
7. Количество человек в древнеримском Сенате царского периода

ЗНАЧЕНИЯ:

- 1
- 15
- 36
- 50
- 78
- 100
- 3339,5

1	2	3	4	5	6	7

7. Перед Вами карта одного из важнейших регионов в эпоху Древнего мира. Ниже приведены четыре утверждения. Определите, какие из них верны, а какие – нет. Ответ запишите в таблицу.

Максимальное количество баллов за задание: 8



1. Территория, показанная на карте, входила в состав империи Александра Македонского.
2. Цифрой 2 на карте отмечена река Тигр.
3. Среди городов, отмеченных на карте, один был столицей Ассирии.
4. На карте виднеется фрагмент Красного моря.

1	2	3	4

8. В своём исследовании историк должен опираться на источники – документы той эпохи, которую он изучает. Перед Вами два списка – тем исследований и исторических источников. Соотнесите каждую тему с источником, который поможет в её изучении.

Максимальное количество баллов за задание: 12

<p>ТЕМЫ:</p> <ol style="list-style-type: none"> 1. «Римская армия в I веке до нашей эры» 2. «Причины распада империи Карла Великого» 3. «Политические взгляды русского царя в XVI веке» 4. «Внешняя политика Екатерины II» 5. «Настроения в русской армии во время Бородинского сражения» 	<p>ИСТОЧНИКИ:</p> <ol style="list-style-type: none"> А. Переписка Ивана Грозного и Андрея Курбского Б. «Анналы королевства франков» В. Записки генерала А. П. Ермолова Г. Журналы записей лиц, принятых И. В. Сталиным в Кремле Д. «Записки о Галльской войне» Гая Юлия Цезаря Е. Мирный договор между Россией и Турцией (1774)
-----------------------------------------------------------------------------------------------------------------------------------------------------------------------------------------------------------------------------------------------------------------------------------------------------------------------------------------------------	----------------------------------------------------------------------------------------------------------------------------------------------------------------------------------------------------------------------------------------------------------------------------------------------------------------------------------------------------------------------------------------------------

6. «Советское руководство в годы Великой Отечественной войны»	
---------------------------------------------------------------	--

1	2	3	4	5	6

9. Перед Вами почтовые карточки, посвящённые двум Городам-героям – Ленинграду и Минску. Ниже приведены пять утверждений об этих городах. Ваша задача – определить, к какому городу относится каждое утверждение – к городу № 1, к городу № 2 или ни к одному из них. Максимальное количество баллов за задание: 10

1

2



1. В настоящее время этот город носит то же название, что и во время Великой Отечественной войны. _____
2. В настоящее время этот город не входит в состав России. _____
3. Этот город никогда не был столицей государства. _____
4. В годы Великой Отечественной войны этот город пережил вражескую блокаду. _____
5. По территории этого города протекает река Нева. _____