

**Школьный этап всероссийской олимпиады школьников  
2021-2022 учебного года по основам безопасности жизнедеятельности**

5–6 классы  
ТЕОРЕТИЧЕСКИЙ ТУР  
Продолжительность 90 минут





**Задание 1. «Правила дорожного движения»**



Максимальная оценка за правильно выполненное задание – 6 баллов

Соотнесите названия знаков с их изображением, записав в пустые поля правильный ответ.

**Варианты:**

Автомост, Место стоянки, Пешеходный переход, Падение камней, Конец жилой зоны, Место остановки трамвая

## Задание 2. «Безопасность в природной среде»

Максимальная оценка за правильно выполненное задание – 10 баллов

Определите название гриба, исходя из его описания.

- а) Шляпки этих грибов по цвету похожи на опавшие листья дерева, под которым они чаще всего встречаются - \_\_\_\_\_
- б) Живут эти грибы на деревьях или на пнях. Живут большими компаниями. Иногда с одного дерева или пня можно собрать целое лукошко – \_\_\_\_\_
- в) Мякоть этого гриба никогда не темнеет, за что он получил своё название. Это царь грибов - \_\_\_\_\_
- г) Этот гриб является лекарством для лосей. Он ядовитый, но очень красивый – \_\_\_\_\_
- д) Растёт в хвойных и лиственных лесах группами. Название свое получил за характерную ярко-рыжую окраску, единственный гриб, который не мнётся и не крошится – \_\_\_\_\_

## Задание 3. «Правила дорожного движения».

Установите соответствие между сигналами регулировщика и их значением для пешехода.

Максимальная оценка за правильно выполненное задание – 8 баллов

Сигналы регулировщика	Значение для пешехода
1. Правая рука вытянута вперед	А Со стороны груди и спины движение всех транспортных средств и пешеходов запрещено.
2. Руки вытянуты в стороны или опущены	Б. Пешеходам разрешено переходить проезжую часть за спиной регулировщика
	В. Движение всех транспортных средств и пешеходов запрещено во всех направлениях

3. Рука поднята вверх	Г. Со стороны левого и правого бока пешеходам разрешено переходить проезжую часть
-----------------------	---

1	2	3

**Задание 4. «Международная кодовая таблица сигналов бедствия «земля-воздух».**

Укажите соответствие изображения знаков Международной кодовой таблицы сигналов бедствия «земля-воздух» с его описанием. Ответ запишите в таблицу.

X	
L	
V	
N	
Y	
U	
K	
F	

Варианты:

Все в порядке

Следовать дальше не в состоянии

Нужны оружие и боеприпасы

Самолет сильно поврежден

Укажите направление следования

Нет

Да

Нужны продовольствие и вода

**Задание 5. «Безопасность человека»**

Максимальная оценка за правильно выполненное задание – 4 балла

Из предложенных вариантов выберите и вставьте пропущенные слова, подходящие по смыслу.

Среда обитания— среда \_\_\_\_\_ и производственной \_\_\_\_\_ человека, окружающий \_\_\_\_\_ природный и созданный им материальный \_\_\_\_\_.

**Варианты:** деятельности, мир, жизни, человека.

### Задание 6. «ЗОЖ»

Соотнесите какие из предложенных фраз относятся к ссоре, а какие к избеганию конфликта. Ответ запишите.

Максимальная оценка за правильно выполненное задание – 6 баллов

Вот глупый...	
Сегодня ты...	
Давай попробуем вместе...	
Сколько можно жрать...	
Мне кажется...	
Ты лгун и врунишка....	

### Задание 7. «Основы первой помощи»

Определите для чего применяется каждое из указанных средств из аптечки.

Максимальная оценка за правильно выполненное задание – 10 баллов

<i>Средства из аптечки</i>	<i>Для чего может пригодиться</i>
Резиновые перчатки	
Лейкопластырь бактерицидный	
Стерильные марлевые салфетки (или бинты)	
Ножницы	

Варианты:

1. Заклейка царапин, порезов, ссадин,
2. Защита от загрязнения, Отрезание бинта или лейкопластыря, Наложение повязки, Защита от заражения

### Задание 8. «Туризм и выживание в природной среде»

Укажите соответствие снаряжения туриста по его описанию.

Максимальная оценка за правильно выполненное задание – 8 баллов

Компас, карта	
Спички, нож, пила, посуда	
Рюкзак	
Средство от насекомых, аптечка	

Варианты:

1. Для разведения костра и приготовления пищи
2. Для защиты от насекомых, на случай получения травм
3. Для переноски вещей
4. Для ориентирования на местности

## ТЕСТОВЫЕ ЗАДАНИЯ

Определите один правильный ответ

За каждый правильный ответ начисляется по 1 баллу

**1. От какого места начинается дорожное движение для школьника?**

- а) от подъезда дома;
- б) от выхода на тротуар;
- в) от пешеходного перехода;
- г) от выхода со двора.

**2. Можно ли впускать в квартиру посторонних, если они представляются сотрудниками ремонтной службы, а вы один (одна) дома?**

- а) можно;
- б) нельзя;
- в) можно, если они предупредили по телефону;
- г) можно, если они показали удостоверение.

**3. Безопасно ли тушить электрические приборы, находящиеся под напряжением?**

- а) да, всегда;
- б) да, если напряжение ниже 220 V;
- в) нет;
- г) да, если напряжение ниже 230 V.

**4. С какой стороны безопасно обходить трамвай, стоящий на остановке?**

- а) спереди;
- б) сзади;
- в) всё равно;
- г) обход запрещён.

**5. Где запрещается движение велосипедистам младше 14 лет?**

- а) по пешеходным зонам;
- б) по тротуарам;
- в) по полосе для велосипедистов;
- г) по велодорожкам.

**6. В какую сторону следует идти, если в метро началась суматоха или вы заметили активное передвижение сотрудников спецслужб в определённом направлении?**

- а) идти в противоположную сторону от сотрудников спецслужб;
- б) идти вместе с сотрудниками спецслужб;
- в) идти в центр зала;
- г) идти к выходу.

**7. Какое расстояние от глаз человека до книги является оптимальным с гигиенической точки зрения?**

- а) 10–20 см;

- б) 20–25 см;
- в) 30–35 см;
- г) 45–50 см.

**8. Каким номером можно воспользоваться для вызова скорой медицинской помощи?**

- а) 013;
- б) 933;
- в) 104;
- г) 112.

**9. Как называется угол между направлением на север и направлением на любой предмет?**

- а) биссектриса;
- б) обратный азимут;
- в) азимут.

**10. Если вы стоите лицом к Полярной звезде, где будет находиться север, юг, запад, восток?**

- а) север – впереди, юг – за спиной, запад – слева, восток – справа;
- б) север- за спиной, юг – впереди, запад – слева, восток- справа;
- в) север- впереди, юг – за спиной, запад – справа, восток – слева.

**11. Что значит автономное существование?**

- а) когда человек «один на один» с природой;
- б) отдых на городском пляже в большой компании;
- в) выезд за границу с друзьями;
- г) путешествие с семьёй на корабле;
- д) поход в ближайший магазин.

**12. Стороны света можно определить по:**

- а) манометру;
- б) компасу;
- в) термометру.

**13. Признаки отравления бытовым газом?**

- а) ощущение сонливости, тошнота, рвота, ощущения удушья;
- б) температура, рвота, боли в животе, тошнота;
- в) температура, ощущения удушья, боли в животе, тошнота.

**14. В каком году впервые были приняты правила дорожного движения?**

- а) 1925;
- б) 1930;
- в) 1920.

**15. Как называются пересечение и соединение дорог?**

- а) перекрестки;
- б) переходы;
- в) развилки.

**16. Ночью определить стороны света можно по Полярной звезде. Перпендикуляр проведённый к земле от Полярной звезды, покажет Вам направление на:**

- а) север;
- б) юг;
- в) запад;
- г) восток.

**17. День солидарности в борьбе с терроризмом отмечается:**

- а) 3 сентября
- б) 2 сентября
- в) 8 сентября
- г) 1 сентября

**18. В какой период дня клещи наиболее активны?**

- а) утром и вечером;
- б) ночью и днем;
- в) всегда.

**19. Что из перечисленного нельзя прикладывать к месту ожога?**

- а) детский крем;
- б) подсолнечное масло;
- в) сливочное масло;
- г) все перечисленное.

**20. Назовите международный сигнал бедствия:**

- а) SOS;
- б) DOS;
- в) KOS;
- г) SOC;
- д) KOS.

**Определите несколько правильных ответов**

**21. Какие значения имеет зелёный мигающий сигнал светофора для пешехода?**

- а) разрешает движение;
- б) информирует, что время разрешения движения истекает;
- в) информирует, что время запрещения движения истекает;
- г) информирует о наличии нерегулируемого перекрестка;
- д) запрещает движение.

**22. Укажите направления, угол между которыми является азимутом:**

- а) на юг;
- б) на ориентир;
- в) на север;
- г) на запад;
- д) на световой ориентир.

**23. Что из указанного относится к признакам сохранения плохой погоды?**

- а) ласточки летают высоко над землёй;
- б) сплошная облачность;
- в) ночью тихо и прохладно;
- г) низкое атмосферное давление.

**24. Какие предметы увеличивают плавучесть человека?**

- а) спасательный круг;
- б) лодка;
- в) спасательный жилет;
- г) плот.

**25. Назовите, какие из указанных ниже костров относятся к жаровым:**

- а) шалаш;
- б) звездный;
- в) таежный;
- г) решетка.

**26. Где безопаснее находиться во время землетрясения?**

- а) возле оконного проёма;
- б) в широком коридоре;
- в) в узком коридоре;
- г) в центре комнаты;
- д) в дверном проёме.

**27. Что может являться источником ЧС техногенного характера?**

- а) аварии;
- б) эпизоотии;
- в) эпидемии;
- г) магнитные бури;
- д) катастрофы.

**28. Какие из видов закаливания являются местными?**

- а) обливание тела;
- б) обливание стоп;
- в) купание;
- г) обливание кистей;
- д) солнечные ванны.

**29. Какие действия необходимо выполнить для оказания первой помощи при носовом кровотечении?**

- а) наклонить голову вперёд;
- б) запрокинуть голову назад;
- в) повернуть голову набок;
- г) приложить холод к переносице;
- д) приложить тепло к переносице.

**30. Какими средствами можно воспользоваться в качестве подручных для временной остановки артериального кровотечения?**



- а) электрическим проводом;
- б) брючным ремнём;
- в) верёвкой;
- г) проволокой;
- д) широким куском плотной ткани.