

Пригласительный (пробный) этап ВсОШ в городе Москве, ОБЖ, 8 класс, 2022

13 апр 2022 г., 08:45 – 14 апр 2022 г., 21:15

Тестовые задания

Определите один правильный ответ

За правильный ответ начисляется 2 балла

№ 1

2 балла

Какое значение имеет визуальный сигнал «земля – воздух»?



«требуется помощь»

«нужен врач»

«положительно»

«не понял»

№ 2

2 балла

Как называется часть водного объекта, примыкающая к гидротехническому сооружению?

ирригационной системой

бьефом

перемычкой

молот

№ 3

2 балла

Что рекомендуется делать человеку, если на нём загорелась одежда?

как можно быстрее бегать для тушения одежды

постараться снять с себя одежду

кататься по полу, сбивая пламя

воспользоваться огнетушителем

№ 4

2 балла

День гражданской обороны в Российской Федерации отмечается

27 декабря

4 октября

30 апреля

1 марта

№ 5

2 балла

Дегазация средств индивидуальной защиты – это

обезвреживание (нейтрализация, разбавление) или удаление опасных химических веществ со средств индивидуальной защиты

удаление (снижение) радиоактивного загрязнения со средств индивидуальной защиты и их комплектующих изделий

удаление (снижение) бактериального загрязнения со средств индивидуальной защиты и их комплектующих изделий

удаление членистоногих со средств индивидуальной защиты и их комплектующих изделий

№ 6

2 балла

Движение организованной пешеходной колонны по проезжей части дороги разрешается только по направлению движения транспортных средств по правой стороне не более чем по

- два человека в ряд
- три человека в ряд
- четыре человека в ряд
- пять человек в ряд

№ 7

2 балла

Обнаружен подозрительный автомобиль. Установите минимальный радиус зоны эвакуации.



- 1240 м
- 580 м
- 920 м
- 460 м

№ 8

2 балла

Какое заключение можно сделать о весе человека, если индекс массы тела (ИМТ) равен 30?

вес недостаточный

вес оптимальный

вес избыточный

ожирение

№ 9

2 балла

Укажите оптимальное положение тела пострадавшего при отсутствии сознания.

устойчивое боковое положение

положение на спине с приподнятыми ногами

на спине с возвышенным положением верхней части туловища

на спине с валиками под коленями

№ 10

2 балла

Какая повязка является основой при наложении других видов повязок?

- спиральная
- круговая (циркулярная)
- восьмиобразная (крестообразная)
- колосовидная

Тестовые задания

Определите два правильных ответа

За каждый правильный ответ начисляется 2 балла

№ 1

4 балла

Что из перечисленного относится к сопутствующим проявлениям опасных факторов пожара?

- пламя и искры
- опасные факторы взрыва, произошедшего вследствие пожара
- снижение видимости в дыму
- вынос высокого напряжения на токопроводящие части оборудования
- пониженная концентрация кислорода

№ 2

4 балла

Какие костры рекомендуется использовать для приготовления пищи при автономном пребывании на природе?

«шалаш»

«нодья»

«полинезийский»

«пирамида»

«пушка»

№ 3

4 балла

Выберите знаки, которые в совокупности означают «Медицинский кабинет направо вниз».



№ 4

4 балла

Атмосферными вихрями являются

смерч

бриз

буря

торнадо

ветер

№ 5

4 балла

Что из перечисленного относится к биолого-социальным ЧС?

пандемия

лесной пожар

выветривание пород

энзоотия

биологическая авария

№ 6

4 балла

К медицинским средствам индивидуальной защиты относятся

- щиток защитный лицевой медицинский
- средства защиты из антимикробных материалов
- камера изолирующая детская
- пневмокостюм
- защитные дерматологические средства

№ 7

4 балла

Определите признаки возможного вербовщика в террористические организации.

- дружелюбный человек, старающийся занять пустующую нишу в жизни человека
- старается представить социум и ближайшее окружение слишком доброжелательным
- старается помочь преодолеть комплексы и страхи
- не может дать ответы на сложные вопросы
- ведёт частые беседы о боге

№ 8

4 балла

Заболевания каких органов в большей степени вызывает превышение допустимой концентрации меди в употребляемой в пищу воде?

желудка

почек

органов дыхания

печени

толстой кишки

№ 9

4 балла

Какие мероприятия выполняются для восстановления проходимости дыхательных путей при оказании первой помощи?

приподнимание головы

запрокидывание головы с подъёмом подбородка

опускание подбородка

выдвигание нижней челюсти

подкладывание валика под голову

№ 10

4 балла

На какие анатомические области тела человека допускается наложение кровоостанавливающего жгута при артериальном кровотечении?

голень

бедро

предплечье

плечо

туловище

Теоретические задания

№ 1

10 баллов

Расположите предложенные фрагменты в верной последовательности, чтобы в итоге получилось определение.

к проезжей части на одном уровне с ней,	2
элемент дороги, примыкающий непосредственно	1
разметки 1.2, используемый для движения, остановки	4
отличающийся типом покрытия или выделенный с помощью	3
и стоянки в соответствии с Правилами дорожного движения	5

Запишите термин, определение которому Вы составили.

Обочина

Выберите изображение разметки, с помощью которой выделяется указанный элемент.






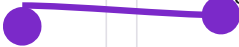








№ 2

10 баллов

Каждый визуальный сигнал «поверхность – воздух», применяемый при поисково-спасательных операциях, имеет определённое значение. Установите соответствие между изображением сигнала и его значением.

		«Необходима медицинская помощь»
		«Здесь можно безопасно совершить посадку»
		«Необходимы техническая помощь или запчасти»
		«Требуются карта и компас»
		«Вскоре смогу продолжить движение, подождите, если возможно»
		«Укажите направление следования»
		«Всё в порядке, не ждите»
		«Нет, или отрицательно»
		«Производите посадку здесь»
		«Попытаемся взлететь»

10 баллов

Определите, съедобные грибы или ядовитые. Назовите их.



Категория съедобные ядовитые

Название

- Белый гриб Бледная поганка Опёнок осенний Сыроежка
- Ложный опёнок Подосиновик Говорушка беловатая
- Сатанинский гриб Дубовик обыкновенный Подберёзовик



Категория съедобные ядовитые

Название

- Белый гриб Бледная поганка Опёнок осенний Сыроежка
- Ложный опёнок Подосиновик Говорушка беловатая
- Сатанинский гриб Дубовик обыкновенный Подберёзовик



Категория съедобные ядовитые

Название

- Белый гриб Бледная поганка Опёнок осенний Сыроежка
- Ложный опёнок Подосиновик Говорушка беловатая
- Сатанинский гриб Дубовик обыкновенный Подберёзовик



Категория съедобные ядовитые

Название

- Белый гриб Бледная поганка Опёнок осенний Сыроежка
- Ложный опёнок Подосиновик Говорушка беловатая
- Сатанинский гриб Дубовик обыкновенный Подберёзовик



Категория съедобные ядовитые

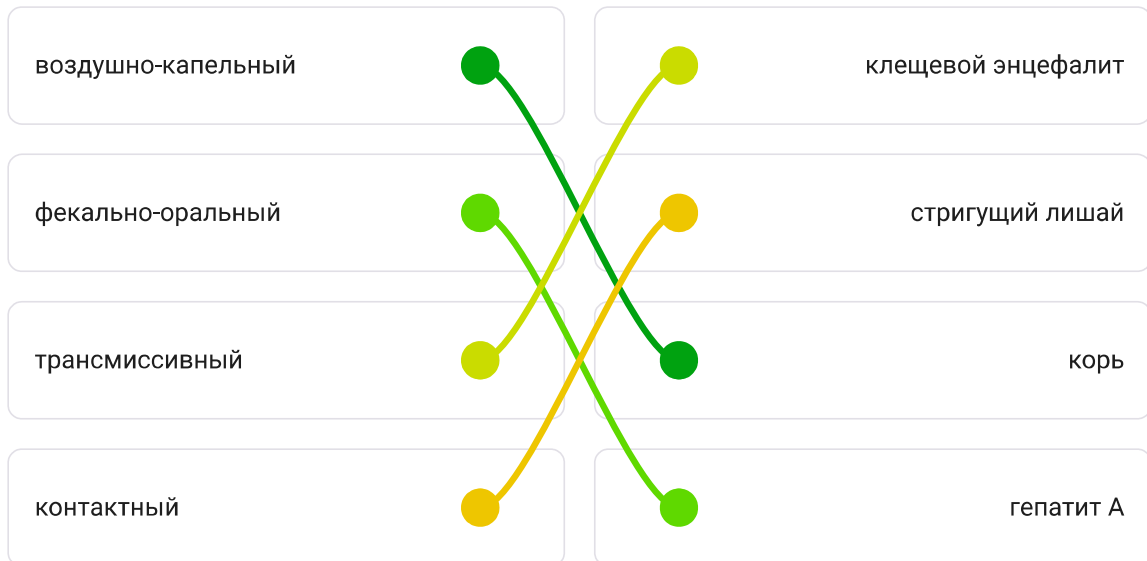
Название

- Белый гриб Бледная поганка Опёнок осенний Сыроежка
- Ложный опёнок Подосиновик Говорушка беловатая
- Сатанинский гриб Дубовик обыкновенный Подберёзовик

№ 4

10 баллов

Установите соответствие между инфекционным заболеванием и механизмом его передачи.



Укажите термин, обозначающий уничтожение болезнетворных микроорганизмов на объектах внешней среды.

дератизация

дезинсекция

дезинфекция

дезактивация