

**Проверочная работа
по ФИЗИКЕ**

8 класс

Вариант 1

Инструкция по выполнению работы

На выполнение работы по физике даётся 45 минут. Работа содержит 11 заданий.

Ответом на каждое из заданий 1, 3-7, 9 является число или несколько чисел. В заданиях 2 и 8 нужно написать текстовый ответ. В заданиях 10 и 11 нужно написать решение задач полностью. В случае записи неверного ответа зачеркните его и запишите рядом новый.

При выполнении работы можно пользоваться непрограммируемым калькулятором.

При необходимости можно пользоваться черновиком. Записи в черновике проверяться и оцениваться не будут.

Советуем выполнять задания в том порядке, в котором они даны. Для экономии времени пропускайте задание, которое не удаётся выполнить сразу, и переходите к следующему. Постарайтесь выполнить как можно больше заданий.

Желаем успеха!

Таблица для внесения баллов участника

Номер задания	1	2	3	4	5	6	7	8	9	10	11	Сумма баллов	Отметка за работу
Баллы													

1

Петя пошёл в канцелярский магазин, чтобы купить новый стержень для своей шариковой ручки. Старый стержень, который был в ручке, имел длину 12,5 см. Продавец предложил Пете стержень, который был у него в наличии. Петя приложил к стержню линейку. На сколько предложенный стержень короче старого?



Ответ: На _____ см.

2

Если весной или осенью ожидается ясная холодная ночь, то садовники разводят костры, дающие мало тепла, но много густого дыма, который обволакивает растения и защищает их от заморозков. Объясните, как действует этот способ защиты растений?

Ответ: _____

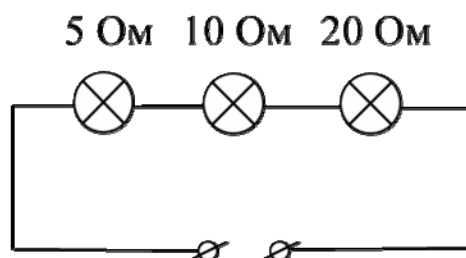
3

Чтобы не простудить горло, Андрей решил подогреть 0,9 кг кефира с начальной температурой $+5\text{ }^{\circ}\text{C}$ до комфортной температуры $+25\text{ }^{\circ}\text{C}$. Какое количество теплоты нужно для этого подвести к кефиру? Удельная теплоёмкость кефира $3800\text{ Дж}/(\text{кг}\cdot^{\circ}\text{C})$.

Ответ: _____ Дж.

4

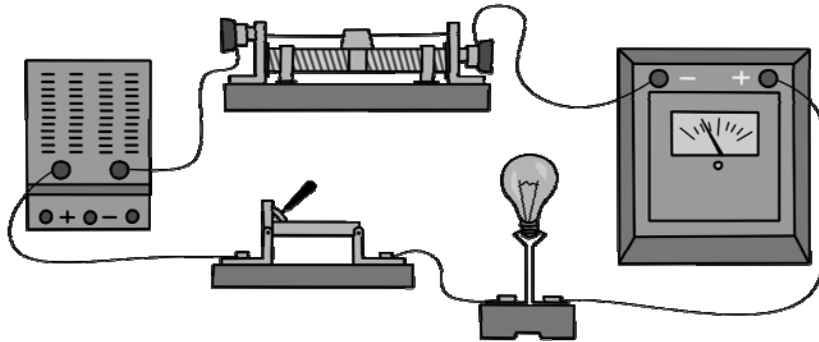
На рисунке изображена схема участка цепи ёлочной гирлянды. Известно, что сила тока, текущего через этот участок, равна 0,5 А. Чему равно напряжение на лампе с наибольшим сопротивлением? Значения сопротивлений ламп указаны на схеме.



Ответ: _____ В.

5

Выполняя лабораторную работу по физике, Яша собрал электрическую цепь, изображённую на рисунке. Он заметил, что при движении ползунка реостата справа налево показания амперметра уменьшаются: при крайнем правом положении ползунка реостата амперметр показывал 5 А, а при крайнем левом – 2 А. Считая, что сопротивление лампочки в процессе этого эксперимента не меняется, определите отношение максимального сопротивления реостата к сопротивлению лампочки.



Ответ: _____.

6

Когда Саша катался на теплоходе по Москве-реке, он заметил, что от Северного речного вокзала до причала «Коломенское» теплоход доплыл в 1,2 раз быстрее, чем обратно. Скорость движения теплохода относительно воды не менялась. Определите отношение скорости теплохода относительно воды к скорости течения реки.

Ответ: _____.

7

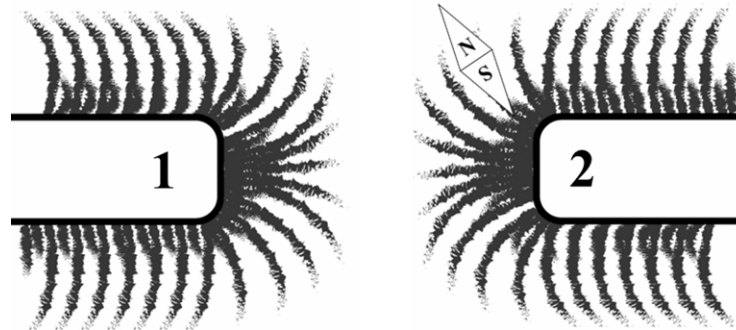
На заводе при обработке цветных металлов в двух тигельных печах плавилась одинаковая масса меди и серебра. Используя таблицу, найдите отношение времени плавления меди ко времени плавления серебра, если мощности печей одинаковы. Ответ округлите до десятых долей.

Удельная теплота плавления металлов λ (при нормальном атмосферном давлении)			
Металл	λ , кДж/кг	Металл	λ , кДж/кг
Железо	270	Свинец	24,3
Золото	67	Серебро	87
Магний	370	Сталь	84
Медь	213	Тантал	174
Натрий	113	Цинк	112,2
Олово	59	Чугун(разные марки)	96–140

Ответ: _____.

8

На рисунке изображена картина линий магнитного поля двух постоянных магнитов, полученная с помощью железных опилок. Рядом с правым магнитом, но при этом довольно далеко от левого магнита установлена магнитная стрелка, которая находится в равновесии. Каким полюсам магнитов соответствуют области 1 и 2? Кратко объясните свой ответ.



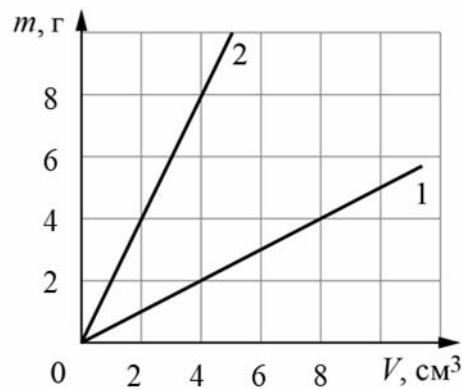
□ Ответ и объяснение: _____

9

На графике показана зависимость массы от объёма для двух смешивающихся жидкостей «1» и «2». В сосуд налили жидкость «1», объём которой составлял 0,6 объёма сосуда, затем добавили жидкость «2», объём которой был равен 0,4 объёма сосуда.

1) Определите плотность жидкости «2».

2) Найдите плотность смеси, если известно, что её объём равен сумме объёмов компонентов.



□ Ответ: 1) _____ г/см;
2) _____ г/см³.

Система оценивания проверочной работы

Правильный ответ на каждое из заданий 1, 3-7 оценивается 1 баллом.

Полный правильный ответ на задание 9 оценивается 2 баллами. Если в ответе допущена одна ошибка (одно из чисел не записано или записано неправильно), выставляется 1 балл; если оба числа записаны неправильно или не записаны – 0 баллов.

№ задания	Ответ
1	0,5
3	68400
4	10
5	1,5
6	11
7	2,5
9	2; 1,1

Решения и указания к оцениванию заданий 2, 8, 10 и 11

2

Решение	
«Шуба» из дыма не даёт растениям замерзнуть. Дым тёплый и обладает очень низкой теплопроводностью. При этом он тяжелее воздуха. Поэтому он не даёт холодному воздуху проникнуть снаружи к растению.	
Указания к оцениванию	Баллы
Приведено полностью правильное объяснение явления.	2
В решении имеется один или несколько из следующих недостатков. Приведен только правильный ответ без его объяснения. И (ИЛИ) В решении имеется неточность в объяснении явления.	1
Все случаи решения, которые не соответствуют вышеуказанным критериям выставления оценок в 1 или 2 балла.	0
<i>Максимальный балл</i>	
	2

8

Решение	
<p>По картине линий магнитного поля видно, что магниты отталкиваются друг от друга. Это означает, что полюса 1 и 2 одинаковые. Полюс 2 – северный, так как к нему притягивается южный полюс магнитной стрелки. Значит, и полюс 1 также северный. Ответ: оба полюса 1 и 2 северные</p>	
Указания к оцениванию	Баллы
Приведён полностью правильный ответ на вопрос и дано правильное объяснение.	2
<p>В решении имеется один или несколько из следующих недостатков. Приведён только правильный ответ на вопрос без объяснения. ИЛИ Приведено правильное объяснение, но правильный ответ на вопрос дан лишь частично. И (ИЛИ) В решении дан правильный ответ на вопрос, но в объяснении имеется неточность.</p>	1
Все случаи решения, которые не соответствуют вышеуказанным критериям выставления оценок в 1 или 2 балла.	0
<i>Максимальный балл</i>	2

10

Решение	
<p>1) Количество теплоты, требуемое для нагревания воды до температуры кипения $+100\text{ }^\circ\text{C}$, равно $Q_1 = c\rho V_1 \Delta t = 336000\text{ Дж}$.</p> <p>2) Определим мощность плиты: $P = \frac{Q_1}{\tau_1} = 1120\text{ Вт}$</p> <p>3) Для нагревания до кипения долитой воды объёмом V_2 требуется количество теплоты $Q_2 = c\rho V_2 \Delta t$.</p> <p>Так как мощность плиты не меняется, то $\frac{Q_1}{\tau_1} = \frac{Q_2}{\tau_2}$, а значит $\frac{V_1}{t_1} = \frac{V_2}{t_2}$. Тогда $V_2 = \frac{t_2}{t_1} V_1 = 0,6\text{ л}$.</p> <p>Ответ: 1) 336000 Дж; 2) 1120 Вт; 3) 0,6 л.</p>	
Указания к оцениванию	Баллы
<p>Приведено полное решение, включающее следующие элементы:</p> <p>I) записаны положения теории, физические законы, закономерности, формулы и т.п., применение которых необходимо для решения задачи выбранным способом (<i>связь массы, объёма и плотности; выражения для мощности нагревателя и для количества теплоты при нагревании</i>);</p> <p>II) проведены нужные рассуждения, верно осуществлена работа с графиками, схемами, таблицами (при необходимости), сделаны необходимые математические преобразования и расчёты, приводящие к правильному числовому ответу (допускается решение «по частям» с промежуточными вычислениями; часть промежуточных вычислений может быть проведена «в уме»; задача может решаться как в общем виде, так и путём проведения вычислений непосредственно с заданными в условии численными значениями);</p> <p>III) представлены правильные численные ответы на все три вопроса задачи с указанием единиц измерения искомых величин</p>	3
Приведено полное верное решение (I, II) и дан правильный ответ (III) только для двух пунктов задачи	2
Приведено полное верное решение (I, II) и дан правильный ответ (III) только для одного пункта задачи	1
Все случаи решения, которые не соответствуют вышеуказанным критериям выставления оценок в 1, 2 или 3 балла	0
<i>Максимальный балл</i>	3

11

Решение	
<p>1) Сопротивление резистора может лежать в пределах от $0,95 R$ до $1,05 R$, т.е. от $2,85 \text{ Ом}$ до $3,15 \text{ Ом}$.</p> <p>2) Ток, текущий в цепи, определяется суммарным напряжением батареек и полным сопротивлением цепи: $I = 4U/(R + r)$. Отсюда максимальный ток через лампу составит $\approx 1,56 \text{ А}$, а минимальный $\approx 1,45 \text{ А}$.</p> <p>3) Для расчёта мощности, выделяющейся в лампе, воспользуемся законом Джоуля-Ленца: $N = I^2 r$. Тогда диапазон мощностей составит: $2090 \text{ мВт} < N < 2429 \text{ мВт}$.</p> <p>Ответ: 1) $2,85 \text{ Ом} < R < 3,15 \text{ Ом}$; 2) $1,45 \text{ А} < I < 1,56 \text{ А}$. 3) $2090 \text{ мВт} < N < 2429 \text{ мВт}$</p>	
Указания к оцениванию	Баллы
Приведено полное решение, включающее следующие элементы: I) записаны положения теории, физические законы, закономерности, формулы и т.п., <u>применение которых необходимо</u> для решения задачи выбранным способом; II) проведены нужные рассуждения, верно осуществлена работа с графиками, схемами, таблицами (при необходимости), сделаны необходимые математические преобразования и расчёты, приводящие к правильному числовому ответу (допускается решение «по частям» с промежуточными вычислениями; часть промежуточных вычислений может быть проведена «в уме»; задача может решаться как в общем виде, так и путём проведения вычислений непосредственно с заданными в условии численными значениями); III) представлен правильный численный ответ на все три вопроса задачи с указанием единиц измерения искомой величины	3
Приведено полное верное решение (I, II) и дан правильный ответ (III) только для двух пунктов задачи	2
Приведено полное верное решение (I, II) и дан правильный ответ (III) только для одного пункта задачи	1
Все случаи решения, которые не соответствуют вышеуказанным критериям выставления оценок в 1, 2 или 3 балла	0
<i>Максимальный балл</i>	<i>3</i>

Система оценивания выполнения всей работы

Максимальный балл за выполнение работы – **18**.

Рекомендуемая таблица перевода баллов в отметки по пятибалльной шкале

Отметка по пятибалльной шкале	«2»	«3»	«4»	«5»
Первичные баллы	0–4	5–7	8–10	11–18