

**Проверочная работа
по БИОЛОГИИ**

6 КЛАСС

Вариант 2

Инструкция по выполнению работы

На выполнение работы по биологии отводится 45 минут. Работа включает в себя 10 заданий.

Ответы на задания запишите в поля ответов в тексте работы. В случае записи неверного ответа зачеркните его и запишите рядом новый.

При выполнении работы не разрешается пользоваться учебником, рабочими тетрадями и другим справочным материалом. Разрешается использовать линейку.

При необходимости можно пользоваться черновиком. Записи в черновике проверяться и оцениваться не будут.

Советуем выполнять задания в том порядке, в котором они даны. В целях экономии времени пропускайте задание, которое не удаётся выполнить сразу, и переходите к следующему. Если после выполнения всей работы у Вас останется время, то Вы сможете вернуться к пропущенным заданиям.

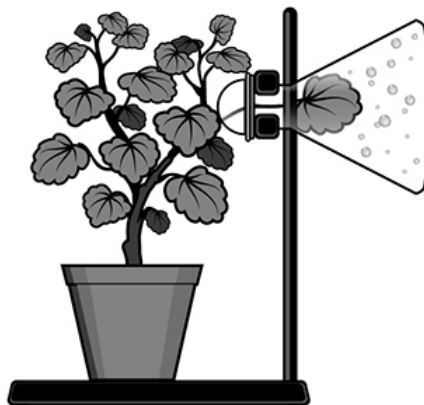
Желаем успеха!

Таблица для внесения баллов участника

Номер задания	1.1	1.2	1.3	2.1	2.2	3.1	3.2	3.3	3.4	4	5.1	5.2	5.3	6	7	8.1	8.2	8.3	
Баллы																			
Номер задания	9	10.1	10.2	Сумма баллов	Отметка за работу														
Баллы																			

1

На представленном ниже рисунке ученик увидел один из процессов жизнедеятельности растений. Рассмотрите рисунок и ответьте на вопросы.



1.1. Как называют данный процесс?

Ответ. _____

1.2. Знание в области какой ботанической науки позволит ученику изучить данный процесс?

Ответ. _____

1.3. Какое важное значение имеет данный процесс для растений в жарком климате?

Ответ. _____

2

В приведённой ниже таблице между позициями первого и второго столбцов имеется взаимосвязь.

Целое	Часть
...	Камбий
Покровная ткань	Кожица

2.1. Какое понятие следует вписать на место пропуска в этой таблице?

- 1) образовательная ткань
- 2) проводящая ткань
- 3) механическая ткань
- 4) запасная ткань

Ответ.

2.2. Какую функцию выполняют устьица у растений?

Ответ. _____

3

3.1. Рассмотрите рисунок растительной клетки (рис. 1). Какая структура клетки обозначена на рисунке буквой А?

Ответ. _____

3.2. Каково значение этой структуры в жизнедеятельности клетки?

Ответ. _____

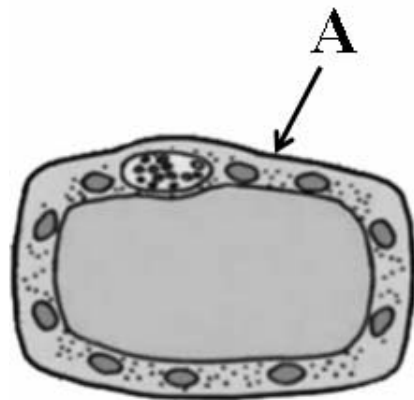


Рис. 1

3.3. Ольга рассмотрела кожицу листа одуванчика под микроскопом и сделала рисунок (рис. 2). Что она изобразила на рисунке под цифрой 1?

Ответ. _____

3.4. К какому типу ткани относятся изображённые на рис. 2 клетки?

Ответ. _____

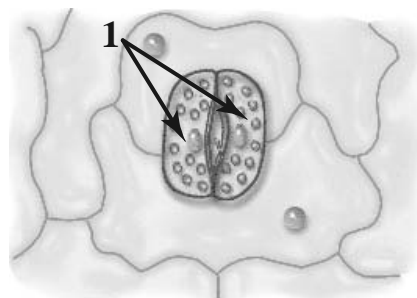


Рис. 2

4

Выберите из предложенного списка и вставьте в текст пропущенные слова, используя для этого их цифровые обозначения. Впишите номера выбранных слов на места пропусков в тексте.

СТРОЕНИЕ ЗЕРНОВКИ ПШЕНИЦЫ

Пшеница – важная зерновая культура. Семя пшеницы снаружи покрыто _____ (А), которая плотно срослась со стенкой плода. Основную часть зерновки составляет _____ (Б). На препарате продольного разреза зерновки под микроскопом видны органы зародыша, зародышевый корешок, стебелёк и почечка. Сбоку зародыша расположена _____ (В), и её называют щиток.

Список слов:

- 1) кожура
- 2) пластинка
- 3) цветочек
- 4) эндосперм
- 5) семядоля
- 6) кора

Запишите в таблицу выбранные цифры под соответствующими буквами.

Ответ.

	А	Б	В

5

Рассмотрите изображение побега и выполните задания.



5.1. Покажите стрелками и подпишите на рисунке *лист, верхушечную почку, узел*.

5.2. Какую функцию у побега выполняет стебель?

Ответ. _____

5.3. Как называют угол между листом и вышележащим междоузлием?

Ответ. _____

6

Как называют корень, который развивается из зародышевого корешка?

- 1) боковой
- 2) придаточный
- 3) главный
- 4) воздушный

Ответ.

7

Используя приведённую ниже таблицу, ответьте на вопросы.

Сроки хранения и схожести семян, глубина их заделки в почву

Растение	Срок хранения, годы	Максимальный срок всхожести, дни	Глубина заделки семян, см
Арбуз	6–8	12	2
Баклажан	3–5	10	1–2
Петрушка	1–2	14	0,5
Свёкла	4–5	8	2–3

Семена какого растения из перечисленных в таблице сохраняют жизнеспособность более 5 лет?

Ответ. _____

Семена какого растения из перечисленных в таблице можно заделывать на глубину менее 1 см и хранить не более 2 лет?

Ответ. _____


Семена какого растения из перечисленных в таблице имеют минимальный срок всхожести, а семена какого – максимальный?

Ответ. _____


8

Светлана хорошо знала об опыте английского химика Джозефа Пристли, проведённого им в конце XVIII в. Она решила его повторить. Для этого Светлана взяла два стеклянных колпака. В один поместила горящую свечу, а в другой – свечу и комнатное растение. Оба демонстрационных объекта она поставила на подоконник. Через некоторое время Светлана наблюдала произошедшее изменение.

Начало опыта



Завершение опыта



8.1. Какое явление исследовала Светлана, проводя данный опыт?

Ответ. _____

8.2. Чем условие опыта в первом стеклянном колпаке отличается от второго?


Ответ. _____

8.3. Какой вывод можно сделать по результату опыта? Обоснуйте свой ответ.





Ответ. _____

9

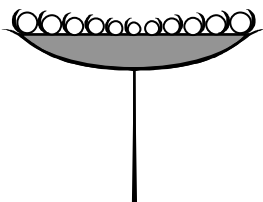

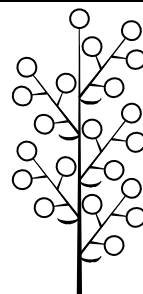


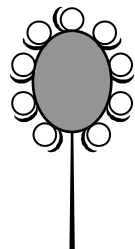
Рассмотрите изображение одуванчика лекарственного и опишите его по следующему плану: жизненная форма, тип соцветия, листорасположение.




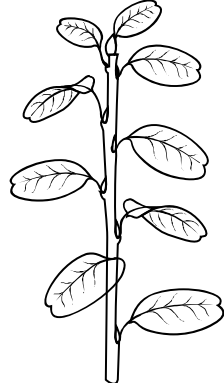


А. Жизненная форма

<p>1) дерево</p> 	<p>2) кустарник</p> 
<p>3) травянистое растение</p> 	<p>4) кустарничек</p> 

Б. Тип соцветия

1) корзинка 	2) кисть 	3) метёлка 
4) серёжка 	5) колос 	6) головка 

В. Листорасположение

1) прикорневая розетка 	2) очерёдное 	3) супротивное 	4) мутовчатое 
---	---	--	--

Впишите в таблицу **номера** выбранных ответов под соответствующими буквами.

Ответ.












А	Б	В

10

Растения по-разному относятся к свету, теплу и влаге, и это учитывается цветоводами при разведении различных растений.





10.1. Опишите особенности растений каланхоэ и бегонии, которые необходимо учитывать при их разведении в домашних условиях, используя для этого таблицу условных обозначений.

Условные обозначения:

1) Выносливость			3) Требуемый режим полива				
	выносливое	капризное		сухая земля	увлажнённая земля	постоянно влажная земля	вода в поддоне
2) Требуемая влажность воздуха			4) Отношение к свету				
	не требует опрыскивания	регулярное опрыскивание		прямые лучи	рассеянный свет	полутень	тень

Характеристики:



1)	2)	3)	4)
			

Каланхоэ:





1) _____

2) _____

3) _____

4) _____



1)	2)	3)	4)
			

Бегония:

1) _____

2) _____

3) _____

4) _____

10.2. По каким позициям из приведённых в описании эти растения имеют одинаковые характеристики?

Ответ. _____

Система оценивания проверочной работы

Правильный ответ на каждое из заданий 1.1, 1.2, 1.3, 2.1, 3.1, 3.2, 3.3, 3.4, 5.3, 6, 8.1 оценивается 1 баллом.

Полный правильный ответ на задания 4 и 9 оценивается 2 баллами. Если в ответе допущена одна ошибка (в том числе написана лишняя цифра или не написана одна необходимая цифра), выставляется 1 балл; если допущено две или более ошибки – 0 баллов.

Номер задания	Правильный ответ
4	145
6	3
9	311

1	1.1	испарение/транспирация
	1.2	физиология
	1.3	охлаждение / защита от перегрева

2	2.1	1
	2.2	

Содержание верного ответа и указания к оцениванию (допускаются иные формулировки ответа, не искажающие его смысла)	Баллы
Правильный ответ должен содержать <u>указание функции</u> , например: газообмен, ИЛИ испарение, ИЛИ защита от перегрева растения	
Правильно указана функция	1
Ответ неправильный	0
<i>Максимальный балл</i>	
	<i>1</i>

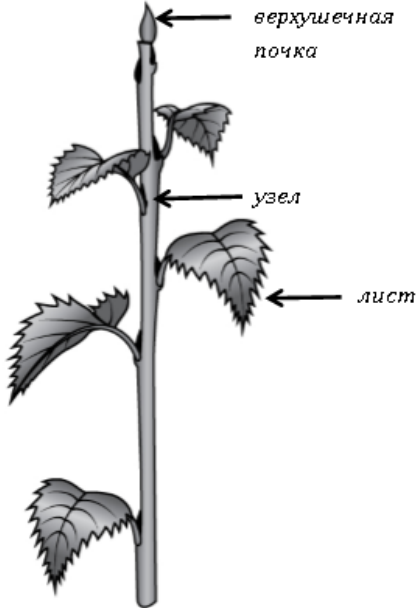
3	3.1	клеточная стенка / клеточная оболочка
	3.3	устьице / замыкающие клетки устьиц
	3.4	покровная

3.2

Содержание верного ответа и указания к оцениванию (допускаются иные формулировки ответа, не искажающие его смысла)	Баллы
Правильный ответ должен содержать <u>указание функции</u> , например: придаёт растительной клетке жёсткость ИЛИ защищает её от механических повреждений	
Правильно указана функция	1
Ответ неправильный	0
<i>Максимальный балл</i>	
	<i>1</i>

5

5.1

Содержание верного ответа и указания по оцениванию	Баллы
	
Верно подписаны три части побега	2
Верно подписаны только две части побега	1
Верно подписана только одна любая часть побега. ИЛИ Ответ неправильный	0
<i>Максимальный балл</i>	2

5.2

Содержание верного ответа и указания к оцениванию (допускаются иные формулировки ответа, не искажающие его смысла)	Баллы
Правильный ответ должен содержать <u>указание функции</u> , например: вынос к свету листьев и почек ИЛИ транспорт веществ	
Правильно указана функция	1
Ответ неправильный	0
<i>Максимальный балл</i>	1

5.3

пазуха листа

7

Содержание верного ответа и указания по оцениванию	Баллы
Правильный ответ должен содержать <u>ответы на три вопроса</u> : 1) арбуз; 2) петрушка; 3) свёкла и петрушка	
Правильно даны ответы на три вопроса	2
Правильно даны ответы на любые два вопроса	1
Правильно дан ответ только на один любой вопрос. ИЛИ Ответ неправильный	0
<i>Максимальный балл</i>	2

8

8.1	явление фотосинтеза / образование кислорода растениями
-----	--

8.2

Содержание верного ответа и указания к оцениванию (допускаются иные формулировки ответа, не искажающие его смысла)	Баллы
Правильный ответ должен содержать <u>условие</u> , например: в первом колпаке отсутствует комнатное растение	
Указано условие	1
Ответ неправильный	0
<i>Максимальный балл</i>	<i>1</i>

8.3

Содержание верного ответа и указания по оцениванию (допускаются иные формулировки ответа, не искажающие его смысла)	Баллы
Правильный ответ должен содержать следующие <u>элементы</u> : 1) <u>ответ на вопрос</u> : свеча во втором колпаке не потухла, а в первом потухла; 2) <u>обоснование</u> : растение выделяло кислород, обеспечивая горение свечи. Ответ и обоснование могут быть приведены в иных, близких по смыслу формулировках	
Правильно дан ответ на вопрос и приведено обоснование	2
Правильно дан только ответ на вопрос	1
Ответ на вопрос отсутствует / ответ неправильный	0
<i>Максимальный балл</i>	<i>2</i>

10

10.1

Содержание верного ответа и указания по оцениванию	Баллы
Правильный ответ должен содержать следующие <u>условия выращивания растений</u> : <u>каланхоэ</u> : 1) выносливое; 2) не требует опрыскивания; 3) сухая земля; 4) прямые солнечные лучи; <u>бегония</u> : 1) выносливое; 2) не требует опрыскивания; 3) увлажнённая земля; 4) рассеянный свет. Условия могут быть приведены в более развёрнутых формулировках	
Правильно указаны по четыре условия для выращивания каждого из растений	2
Правильно указаны два-три условия для выращивания одного растения и два-четыре условия для выращивания другого растения. ИЛИ Правильно указаны четыре условия для выращивания только одного из растений	1
Все комбинации элементов, не соответствующие указаниям по выставлению 2 и 1 балла. ИЛИ Ответ неправильный	0
<i>Максимальный балл</i>	2

10.2

Содержание верного ответа и указания по оцениванию	Баллы
Правильный ответ должен содержать указание следующих <u>позиций</u> , по которым растения имеют одинаковые характеристики: 1) каланхоэ и бегония – выносливые растения ИЛИ выносливость ИЛИ пункт 1; 2) для выращивания не требуют опрыскивания ИЛИ требуемая влажность воздуха ИЛИ пункт 2	
Правильно указаны две позиции	2
Правильно указана только одна позиция	1
Ответ неправильный	0
<i>Максимальный балл</i>	2

Система оценивания выполнения всей работы

Максимальный балл за выполнение работы – **28**.

Рекомендации по переводу первичных баллов в отметки по пятибалльной шкале

Отметка по пятибалльной шкале	«2»	«3»	«4»	«5»
Первичные баллы	0–11	12–17	18–23	24–28