

**Проверочная работа
по БИОЛОГИИ**

6 КЛАСС

Вариант 1

Инструкция по выполнению работы

На выполнение работы по биологии отводится 45 минут. Работа включает в себя 10 заданий.

Ответы на задания запишите в поля ответов в тексте работы. В случае записи неверного ответа зачеркните его и запишите рядом новый.

При выполнении работы не разрешается пользоваться учебником, рабочими тетрадями и другим справочным материалом. Разрешается использовать линейку.

При необходимости можно пользоваться черновиком. Записи в черновике проверяться и оцениваться не будут.

Советуем выполнять задания в том порядке, в котором они даны. В целях экономии времени пропускайте задание, которое не удаётся выполнить сразу, и переходите к следующему. Если после выполнения всей работы у Вас останется время, то Вы сможете вернуться к пропущенным заданиям.

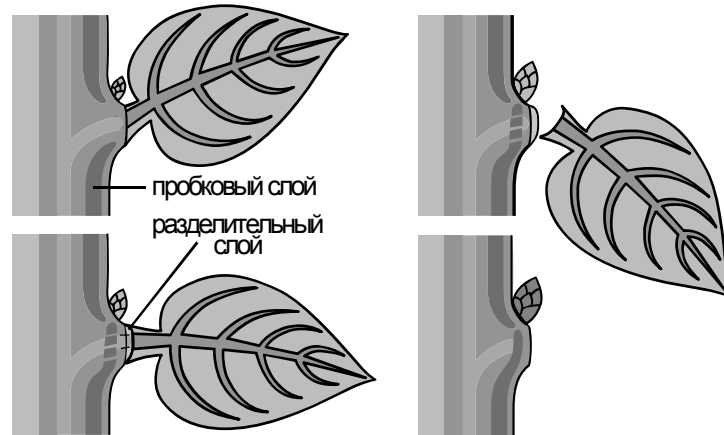
Желаем успеха!

Таблица для внесения баллов участника

Номер задания	1.1	1.2	1.3	2.1	2.2	3.1	3.2	3.3	3.4	4	5.1	5.2	5.3	6	7	8.1	8.2	8.3	
Баллы																			
Номер задания	9	10.1	10.2	Сумма баллов	Отметка за работу														
Баллы																			

1

На представленном ниже рисунке ученик зафиксировал в виде схемы один из процессов жизнедеятельности растений. Рассмотрите схему и ответьте на вопросы.



1.1. Как называют данный процесс?

Ответ. _____

1.2. Знание в области какой ботанической науки позволит ученику изучить данный процесс?

Ответ. _____

1.3. Что служит сигналом для начала данного процесса у растений в умеренном климате?

Ответ. _____

2

В приведённой ниже таблице между позициями первого и второго столбцов имеется взаимосвязь.

Целое	Часть
Проводящая ткань	...
Покровная ткань	Кожица

2.1. Какое понятие следует вписать на место пропуска в этой таблице?

- 1) камбий
- 2) ситовидные трубки
- 3) устьица
- 4) древесинные волокна

Ответ.

2.2. Какую функцию выполняет образовательная ткань вегетативной почки у растений?

Ответ. _____

3

3.1. Рассмотрите рисунок растительной клетки (рис. 1). Какая структура клетки обозначена на рисунке буквой А?

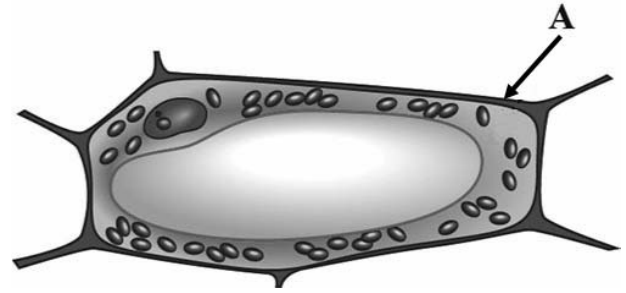


Рис. 1

Ответ. _____

3.2. Каково значение этой структуры в жизнедеятельности клетки?

Ответ. _____

3.3. Светлана рассмотрела срез стебля липы под микроскопом и сделала микрофотографию (рис. 2). Что она обозначила на фото цифрой 1?




Рис. 2

Ответ. _____

3.4. К какой ткани относятся изображённые на рисунке и обозначенные цифрой 1 клетки?

Ответ. _____

4

Выберите из предложенного списка и вставьте в текст пропущенные слова, используя для этого их цифровые обозначения. Впишите номера выбранных слов на места пропусков в тексте.

ЦВЕТОК – ГЕНЕРАТИВНЫЙ ОРГАН

Цветок – орган семенного размножения. Части цветка, расположенные вокруг тычинок и пестика, называют _____ (А). Самая заметная часть цветка – это _____ (Б), состоящий из свободных или сросшихся лепестков. Яркие лепестки служат для привлечения опылителей. Обычно лепестки окружены _____ (В), состоящей из чашелистиков.

Список слов:

- 1) околоцветник
- 2) прицветник
- 3) чашечка
- 4) соцветие
- 5) завязь
- 6) венчик


Запишите в таблицу выбранные цифры под соответствующими буквами.

Ответ.

	А	Б	В

5

Рассмотрите изображение побега и выполните задания.



5.1. Покажите стрелками и подпишите на рисунке *стебель*, *лист*, *пазушную почку*.

5.2. Какую функцию у побега выполняют листья?

Ответ. _____

5.3. Как называют участок стебля на уровне отхождения одного листа?

Ответ. _____

6

Как называют корни, отрастающие от главного корня?

- 1) придаточные
- 2) боковые
- 3) воздушные
- 4) дополнительные

Ответ.

7

Используя приведённую ниже таблицу, ответьте на вопросы.

Содержание минеральных веществ в овощных культурах, мг/100 г

Овощная культура	Калий	Кальций	Магний	Фосфор	Железо
Огурец	141	23	14	42	0,9
Редис	255	39	13	44	1,0
Томат	290	14	20	26	1,4
Тыква	170	40	14	25	0,8

Какая овощная культура из перечисленных в таблице содержит больше всего фосфора?

Ответ. _____

Какую овощную культуру из перечисленных в таблице следует включить в свой рацион человеку, у которого недостаток кальция в организме?

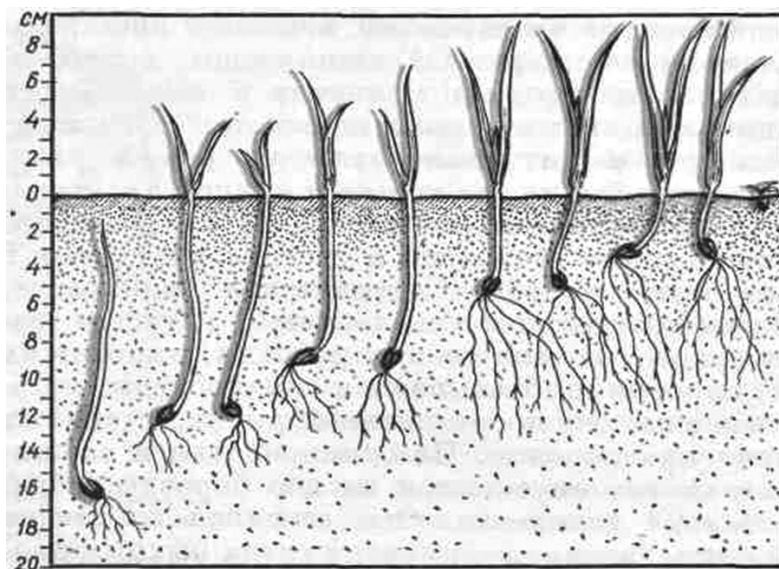
Ответ. _____

Какие две овощные культуры из перечисленных в таблице содержат одинаковое количество магния?

Ответ. _____

8

Известно, что для развития проростков необходимы определённые условия. Софья решила выяснить роль одного из таких условий, проведя опыт с заделкой семян в почву. На дно ящика она насыпала слой почвы толщиной 4 см и положила предварительно замоченное семя фасоли. Затем поверх него насыпала ещё один слой почвы толщиной в 4 см и положила два семени фасоли. Так она проделала ещё три раза, а последнее семя она положила на поверхность почвы. В течение двух недель она регулярно поливала почву в ящике и следила за развитием проростков. Результаты своего опыта Софья отобразила на рисунке.



8.1. Влияние какого условия развития проростков иллюстрирует данный опыт?

Ответ. _____

8.2. Сформулируйте вывод, который сделала Софья по результатам своего опыта.

Ответ. _____

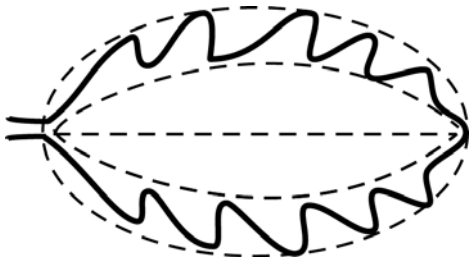


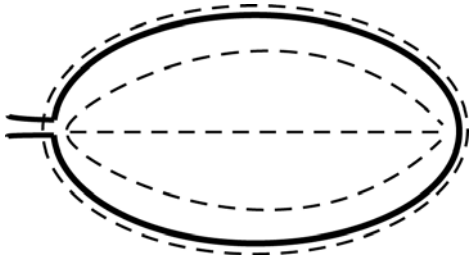
8.3. Чем ещё следует руководствоваться во время заделки семян в почву? Обоснуйте свой ответ.

Ответ. _____


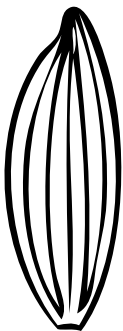


9

Рассмотрите изображение листа кустарника и опишите его по следующему плану: форма листа, жилкование листа, тип листа по соотношению длины и ширины листовой пластинки (без черешка) и по расположению наиболее широкой части. Используйте при выполнении задания линейку и карандаш.

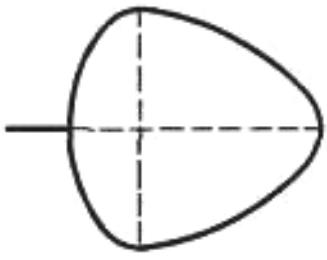
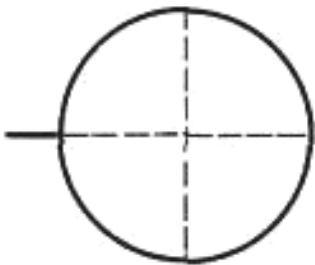
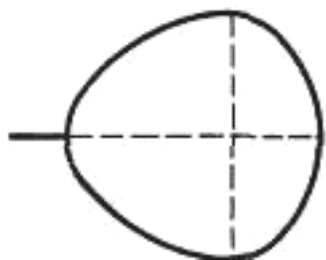
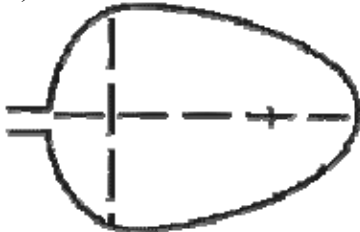
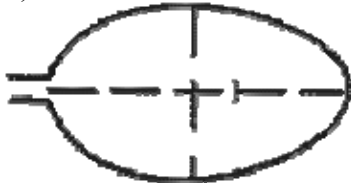
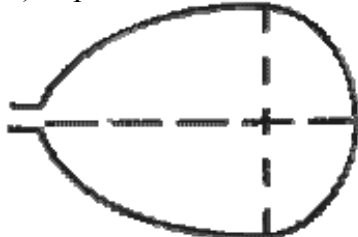
**А. Форма листа**

1) перисто-лопастная 	2) перисто-раздельная 
3) перисто-рассечённая 	4) цельная 

Б. Жилкование листа

			
1) параллельное	2) дуговидное	3) пальчатое	4) перисто-сетчатое

В. Тип листа по соотношению длины и ширины листовой пластинки (без черешка) и по расположению наиболее широкой части

Длина равна ширине или немного её превышает.		
1) широкояйцевидный 	2) округлый 	3) обратно-широкояйцевидный 
Длина превышает ширину в 1,5–2 раза.		
4) яйцевидный 	5) овальный 	6) обратно-яйцевидный 

Впишите в таблицу **номера** выбранных ответов под соответствующими буквами.

Ответ.













А	Б	В

10

Растения по-разному относятся к свету, теплу и влаге, и это учитывается цветоводами при разведении различных растений.





10.1. Опишите особенности растений антуриума и гибискуса, которые необходимо учитывать при их разведении в домашних условиях, используя для этого таблицу условных обозначений.

Условные обозначения:

1) Выносливость			3) Требуемый режим полива				
	выносливое	капризное		сухая земля	увлажнённая земля	постоянно влажная земля	вода в поддоне
2) Требуемая влажность воздуха			4) Отношение к свету				
	не требует опрыскивания	регулярное опрыскивание		прямые лучи	рассеянный свет	полутень	тень

Характеристики:







1)	2)	3)	4)
			

Антуриум:

- 1) _____
- _____
- 2) _____
- _____
- 3) _____
- _____
- 4) _____
- _____



1)	2)	3)	4)
			

Гибискус:

- 1) _____
- _____
- 2) _____
- _____
- 3) _____
- _____
- 4) _____
- _____

10.2. По каким позициям из приведённых в описании эти растения имеют одинаковые характеристики?

Ответ. _____

Система оценивания проверочной работы

Правильный ответ на каждое из заданий 1.1, 1.2, 1.3, 2.1, 3.1, 3.2, 3.3, 3.4, 5.3, 6, 8.1 оценивается 1 баллом.

Полный правильный ответ на задания 4 и 9 оценивается 2 баллами. Если в ответе допущена одна ошибка (в том числе написана лишняя цифра или не написана одна необходимая цифра), выставляется 1 балл; если допущено две или более ошибки – 0 баллов.

Номер задания	Правильный ответ
4	163
6	2
9	445

1	1.1	листопад
	1.2	физиология
	1.3	сокращение светового дня

2	2.1	2
	2.2	

Содержание верного ответа и указания к оцениванию (допускаются иные формулировки ответа, не искажающие его смысла)		Баллы
Правильный ответ должен содержать <u>указание функции</u> , например: рост и развитие вегетативных органов растения ИЛИ формирование всех остальных типов и видов тканей вегетативного побега		
Правильно указана функция		1
Ответ неправильный		0
<i>Максимальный балл</i>		<i>1</i>

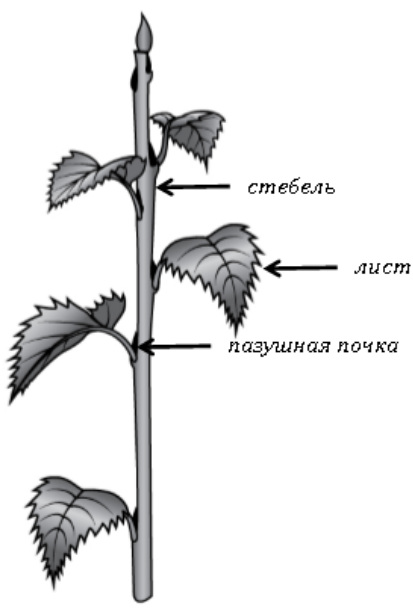
3	3.1	клеточная стенка / клеточная оболочка
	3.3	камбий
	3.4	образовательная

3.2

Содержание верного ответа и указания к оцениванию (допускаются иные формулировки ответа, не искажающие его смысла)		Баллы
Правильный ответ должен содержать <u>указание функции</u> , например: придаёт растительной клетке жёсткость ИЛИ защищает её от механических повреждений		
Правильно указана функция		1
Ответ неправильный		0
<i>Максимальный балл</i>		<i>1</i>

5

5.1

Содержание верного ответа и указания по оцениванию	Баллы
	
Верно подписаны три части побега	2
Верно подписаны только две части побега	1
Верно подписана только одна любая часть побега. ИЛИ Ответ неправильный	0
<i>Максимальный балл</i>	2

5.2

Содержание верного ответа и указания к оцениванию (допускаются иные формулировки ответа, не искажающие его смысла)	Баллы
Правильный ответ должен содержать <u>указание функции</u> , например: воздушное питание растения, ИЛИ фотосинтез, ИЛИ испарение воды	
Правильно указана функция	1
Ответ неправильный	0
<i>Максимальный балл</i>	1

5.3

узел

7

Содержание верного ответа и указания по оцениванию	Баллы
Правильный ответ должен содержать <u>ответы на три вопроса</u> : 1) редис; 2) тыква ИЛИ редис; 3) огурец и тыква	
Правильно даны ответы на три вопроса	2
Правильно даны ответы на любые два вопроса	1
Правильно дан ответ только на один любой вопрос. ИЛИ Ответ неправильный	0
<i>Максимальный балл</i>	2

8

8.1	глубина заделки семян
-----	-----------------------

8.2

Содержание верного ответа и указания к оцениванию (допускаются иные формулировки ответа, не искажающие его смысла)	Баллы
Правильный ответ должен содержать <u>вывод</u> , например: на прорастание семян оказывает влияние глубина их заделки. ИЛИ Чем глубже помещено семя растения в почву, тем хуже оно прорастает. ИЛИ Семена следует помещать в почву не очень глубоко	
Сделан правильный вывод	1
Ответ неправильный	0
<i>Максимальный балл</i>	<i>1</i>

8.3

Содержание верного ответа и указания по оцениванию	Баллы
Правильный ответ должен содержать следующие <u>элементы</u> : 1) <u>ответ на вопрос</u> : свойствами почвы; 2) <u>обоснование</u> , например: в более плотных почвах семена заделывают на меньшую глубину, чем в рыхлых (в песчаных почвах семена закладываются глубже, чем в глинистых). ИЛИ 1) <u>ответ на вопрос</u> : размерами семян; 2) <u>обоснование</u> , например: чем крупнее семена, тем глубже их сеют. ИЛИ 1) <u>ответ на вопрос</u> : температурой почвы; 2) <u>обоснование</u> , например: при низких положительных или отрицательных температурах семена в почву не высеивают. Элементы ответа могут быть приведены в иных, близких по смыслу формулировках	
Правильно дан ответ на вопрос и приведено обоснование	2
Правильно дан только ответ на вопрос	1
Ответ неправильный	0
<i>Максимальный балл</i>	<i>2</i>

10

10.1

Содержание верного ответа и указания по оцениванию	Баллы
<p>Правильный ответ должен содержать следующие <u>условия выращивания растений</u>: <u>антуриум</u>: 1) выносливое; 2) требует регулярного опрыскивания; 3) постоянно влажная земля; 4) полутень; <u>гибискус</u>: 1) капризное; 2) требует регулярного опрыскивания; 3) постоянно влажная земля; 4) прямые лучи. Условия могут быть приведены в более развёрнутых формулировках</p>	
Правильно указаны по четыре условия для выращивания каждого из растений	2
Правильно указаны два-три условия для выращивания одного растения и два-четыре условия для выращивания другого растения. ИЛИ Правильно указаны четыре условия для выращивания только одного из растений	1
Все комбинации элементов, не соответствующие указаниям по выставлению 2 и 1 балла. ИЛИ Ответ неправильный	0
<i>Максимальный балл</i>	2

10.2

Содержание верного ответа и указания по оцениванию	Баллы
<p>Правильный ответ должен содержать указание следующих <u>позиций</u>, по которым <u>растения имеют одинаковые характеристики</u>: 1) антуриум и гибискус требуют регулярного опрыскивания ИЛИ требуемая влажность воздуха ИЛИ пункт 2; 2) для выращивания нужна постоянно влажная земля ИЛИ требуемый режим полива ИЛИ пункт 3</p>	
Правильно указаны две позиции	2
Правильно указана только одна позиция	1
Ответ неправильный	0
<i>Максимальный балл</i>	2

Система оценивания выполнения всей работы

Максимальный балл за выполнение работы – **28**.

Рекомендации по переводу первичных баллов в отметки по пятибалльной шкале

Отметка по пятибалльной шкале	«2»	«3»	«4»	«5»
Первичные баллы	0–11	12–17	18–23	24–28