

Единый государственный экзамен
по МАТЕМАТИКЕ

Базовый уровень

Инструкция по выполнению работы

Экзаменационная работа включает в себя 21 задание.

На выполнение работы отводится 3 часа (180 минут).

Ответы к заданиям записываются по приведённым ниже образцам в виде числа или последовательности цифр. Сначала запишите ответы к заданиям в поле ответа в тексте работы, а затем перенесите их в бланк ответов № 1 справа от номера соответствующего задания.

КИМ Ответ: -0,8

0	1	2	3	4	5	6	7	8	9
0	1	2	3	4	5	6	7	8	9

 Бланк

Если ответом является последовательность цифр, как в приведённом ниже примере, то запишите эту последовательность в бланк ответов № 1 без пробелов, запятых и других дополнительных символов.

КИМ Ответ:

А	Б	В	Г
4	3	1	2

0	1	2	3	4	5	6	7	8	9
9	4	3	1	2					

 Бланк

Все бланки ЕГЭ заполняются яркими чёрными чернилами. Допускается использование гелевой или капиллярной ручки.

При выполнении заданий можно пользоваться черновиком. **Записи в черновике, а также в тексте контрольных измерительных материалов не учитываются при оценивании работы.**

Баллы, полученные Вами за выполненные задания, суммируются. Постарайтесь выполнить как можно больше заданий и набрать наибольшее количество баллов.

После завершения работы проверьте, что ответ на каждое задание в бланках ответов №1 записан под правильным номером.

Желаем успеха!

Справочные материалы

Алгебра

Таблица квадратов целых чисел от 0 до 99

Десятки	Единицы									
	0	1	2	3	4	5	6	7	8	9
0	0	1	4	9	16	25	36	49	64	81
1	100	121	144	169	196	225	256	289	324	361
2	400	441	484	529	576	625	676	729	784	841
3	900	961	1024	1089	1156	1225	1296	1369	1444	1521
4	1600	1681	1764	1849	1936	2025	2116	2209	2304	2401
5	2500	2601	2704	2809	2916	3025	3136	3249	3364	3481
6	3600	3721	3844	3969	4096	4225	4356	4489	4624	4761
7	4900	5041	5184	5329	5476	5625	5776	5929	6084	6241
8	6400	6561	6724	6889	7056	7225	7396	7569	7744	7921
9	8100	8281	8464	8649	8836	9025	9216	9409	9604	9801

Свойства арифметического квадратного корня

$$\sqrt{ab} = \sqrt{a} \cdot \sqrt{b} \text{ при } a \geq 0, b \geq 0 \quad \sqrt{\frac{a}{b}} = \frac{\sqrt{a}}{\sqrt{b}} \text{ при } a \geq 0, b > 0$$

Корни квадратного уравнения $ax^2 + bx + c = 0, a \neq 0$

$$x_1 = \frac{-b - \sqrt{b^2 - 4ac}}{2a}, \quad x_2 = \frac{-b + \sqrt{b^2 - 4ac}}{2a} \text{ при } b^2 - 4ac > 0$$

$$x = -\frac{b}{2a} \text{ при } b^2 - 4ac = 0$$

Формулы сокращенного умножения

$$(a+b)^2 = a^2 + 2ab + b^2$$

$$(a-b)^2 = a^2 - 2ab + b^2$$

$$a^2 - b^2 = (a+b)(a-b)$$

Степень и логарифм

Свойства степени при $a > 0, b > 0$

$$a^{-n} = \frac{1}{a^n}$$

$$a^n \cdot a^m = a^{n+m}$$

$$\frac{a^n}{a^m} = a^{n-m}$$

$$(a^n)^m = a^{nm}$$

$$(ab)^n = a^n \cdot b^n$$

$$\left(\frac{a}{b}\right)^n = \frac{a^n}{b^n}$$

Свойства логарифма при $a > 0, a \neq 1, b > 0, x > 0, y > 0$

$$a^{\log_a b} = b$$

$$\log_a a = 1$$

$$\log_a 1 = 0$$

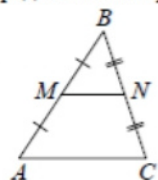
$$\log_a(xy) = \log_a x + \log_a y$$

$$\log_a\left(\frac{x}{y}\right) = \log_a x - \log_a y$$

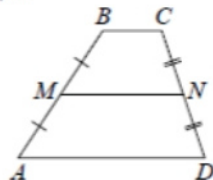
$$\log_a b^k = k \log_a b$$

Геометрия

Средняя линия треугольника и трапеции

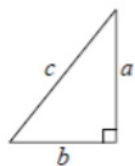


MN — ср. лин.
 $MN \parallel AC$
 $MN = \frac{AC}{2}$



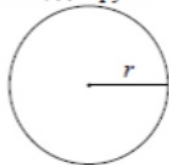
$BC \parallel AD$
 MN — ср. лин.
 $MN \parallel AD$
 $MN = \frac{BC + AD}{2}$

Теорема Пифагора



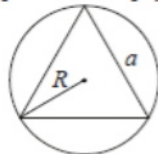
$$a^2 + b^2 = c^2$$

Длина окружности
Площадь круга



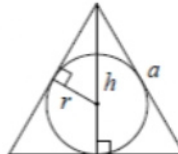
$C = 2\pi r$
 $S = \pi r^2$

Правильный треугольник



$$R = \frac{a\sqrt{3}}{3}$$

$$S = \frac{a^2\sqrt{3}}{4}$$

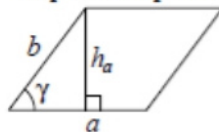


$$r = \frac{a\sqrt{3}}{6}$$

$$h = \frac{a\sqrt{3}}{2}$$

Площади фигур

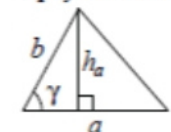
Параллелограмм



$$S = ah_a$$

$$S = absin \gamma$$

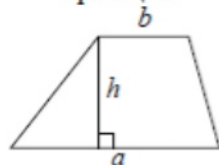
Треугольник



$$S = \frac{1}{2}ah_a$$

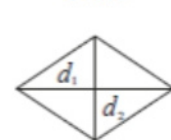
$$S = \frac{1}{2}absin \gamma$$

Трапеция



$$S = \frac{a+b}{2} \cdot h$$

Ромб

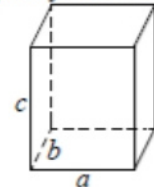


d_1, d_2 — диагонали

$$S = \frac{1}{2}d_1d_2$$

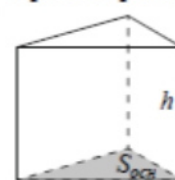
Площади поверхностей и объёмы тел

Прямоугольный параллелепипед



$$V = abc$$

Прямая призма



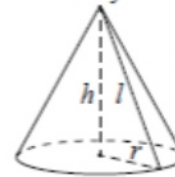
$$V = S_{осн}h$$

Пирамида



$$V = \frac{1}{3}S_{осн}h$$

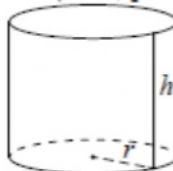
Конус



$$V = \frac{1}{3}\pi r^2 h$$

$$S_{бок} = \pi r l$$

Цилиндр



$$V = \pi r^2 h$$

$$S_{бок} = 2\pi r h$$

Шар

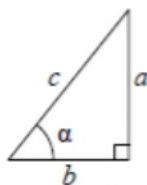


$$V = \frac{4}{3}\pi r^3$$

$$S = 4\pi r^2$$

Тригонометрические функции

Прямоугольный треугольник

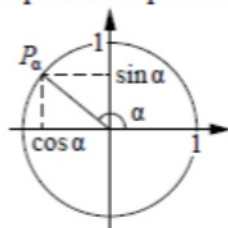


$$\sin \alpha = \frac{a}{c}$$

$$\cos \alpha = \frac{b}{c}$$

$$\operatorname{tg} \alpha = \frac{a}{b}$$

Тригонометрическая окружность



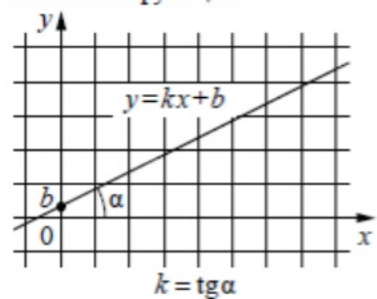
Основное тригонометрическое тождество: $\sin^2 \alpha + \cos^2 \alpha = 1$

Некоторые значения тригонометрических функций

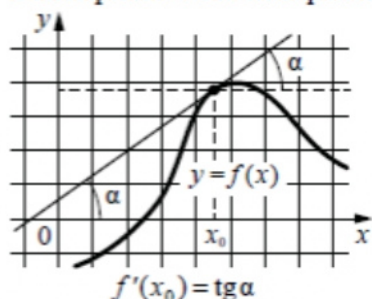
α	радианы	0	$\frac{\pi}{6}$	$\frac{\pi}{4}$	$\frac{\pi}{3}$	$\frac{\pi}{2}$	π	$\frac{3\pi}{2}$	2π
	градусы	0°	30°	45°	60°	90°	180°	270°	360°
$\sin \alpha$	0	$\frac{1}{2}$	$\frac{\sqrt{2}}{2}$	$\frac{\sqrt{3}}{2}$	1	0	-1	0	0
$\cos \alpha$	1	$\frac{\sqrt{3}}{2}$	$\frac{\sqrt{2}}{2}$	$\frac{1}{2}$	0	-1	0	1	1
$\operatorname{tg} \alpha$	0	$\frac{\sqrt{3}}{3}$	1	$\sqrt{3}$	—	0	—	0	0

Функции

Линейная функция



Геометрический смысл производной



Ответом к каждому заданию является конечная десятичная дробь, или целое число, или последовательность цифр. Ответ сначала запишите в поле ответа в тексте работы, а затем перенесите в БЛАНК ОТВЕТОВ № 1 справа от номера соответствующего задания. Каждую цифру, знак «минус» и запятую пишите в отдельной клеточке в соответствии с приведёнными в бланке образцами. Единицы измерений писать не нужно.

1 Найдите значение выражения $\frac{3,8}{2,6 + 1,2}$.
 Ответ: _____.

2 В доме, в котором живёт Дина, 5 этажей и несколько подъездов. На каждом этаже находится по 5 квартир. Дина живёт в квартире №51. В каком подъезде живёт Дина?
 Ответ: _____.

3 Установите соответствие между величинами и их возможными значениями: к каждому элементу первого столбца подберите соответствующий элемент из второго столбца.

<u>ВЕЛИЧИНЫ</u>	<u>ЗНАЧЕНИЯ</u>
А) масса футбольного мяча	1) 18 кг
Б) масса дождевой капли	2) 2,8 т
В) масса взрослого бегемота	3) 20 мг
Г) масса стиральной машины	4) 750 г

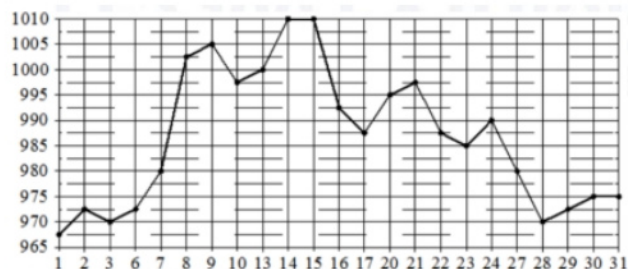
В таблице под каждой буквой, соответствующей величине, укажите номер её возможного значения.

Ответ:

А	Б	В	Г

ТРЕНИРОВОЧНЫЙ ВАРИАНТ № 2202228

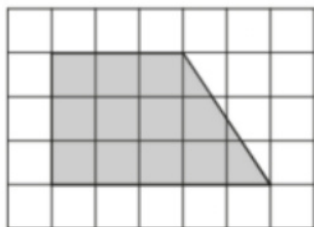
- 4 На рисунке жирными точками показана цена золота, установленная Центробанком РФ во все рабочие дни в октябре 2009 года. По горизонтали указываются числа месяца, по вертикали – цена золота в рублях за грамм. Для наглядности жирные точки на рисунке соединены линией.



Определите по рисунку наименьшую цену золота за данный период. Ответ дайте в рублях за грамм.

Ответ: _____.

- 5 План местности разбит на клетки. Каждая клетка обозначает квадрат 1 м × 1 м. Найдите площадь участка, выделенного на плане. Ответ дайте в квадратных метрах.



Ответ: _____.

- 6 В начале года число абонентов телефонной компании «Восток» составляло 800 тыс. человек, а в конце года их стало 880 тыс. человек. На сколько процентов увеличилось за год число абонентов этой компании?

Ответ: _____.

- 7 Найдите значение выражения

$$\frac{2^7}{2^5 \cdot 2}$$

Ответ: _____.

- 8 Площадь треугольника можно вычислить по формуле $S = \frac{abc}{4R}$, где a , b и c – стороны треугольника, а R – радиус окружности, описанной около этого треугольника. пользуясь этой формулой, найдите S , если $a = 10$, $b = 9$, $c = 17$ и $R = \frac{85}{8}$.

Ответ: _____.


- 9 Решите уравнение

$$x^2 - 7x - 18 = 0.$$

Если уравнение имеет более одного корня, в ответе укажите больший из них.

Ответ: _____.

- 10 Участок земли под строительство санатория имеет форму прямоугольника, стороны которого равны 1000 м и 500 м. Одна из больших сторон участка идёт вдоль моря, а три остальные стороны нужно оградить забором. Найдите длину этого забора. Ответ дайте в метрах.



Ответ: _____.

11 Научная конференция проводится в 3 дня. Всего запланировано 50 докладов: в первый день – 18 докладов, остальные распределены поровну между вторым и третьим днями. На конференции планируется доклад профессора М. Порядок докладов определяется случайным образом. Какова вероятность того, что доклад профессора М. окажется запланированным на последний день конференции?

Ответ: _____.

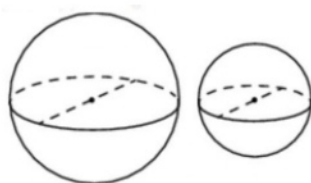
12 В трёх салонах сотовой связи один и тот же смартфон продаётся в кредит на разных условиях. Условия приведены в таблице.

Салон	Цена смартфона (руб.)	Первоначальный взнос (в % от цены)	Срок кредита (мес.)	Сумма ежемесячного платежа (руб.)
Эпсилон	19800	10	6	3200
Дельта	20200	10	12	1580
Омикрон	20800	20	6	2900

Определите, в каком из салонов покупка обойдётся дешевле всего (с учётом переплаты). В ответ запишите стоимость этой покупки в рублях.

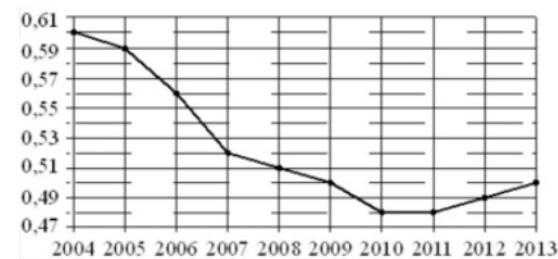
Ответ: _____.

13 Однородный шар диаметром 3 см весит 162 грамма. Сколько граммов весит шар диаметром 2 см, изготовленный из того же материала?



Ответ: _____.

14 На рисунке точками показан прирост населения Китая в период с 2004 по 2013 годы. По горизонтали указывается год, по вертикали – прирост населения в процентах (увеличение численности населения относительно прошлого года). Для наглядности точки соединены линией.



Пользуясь рисунком, поставьте в соответствие каждому из указанных периодов времени характеристику прироста населения Китая.

ПЕРИОДЫ ВРЕМЕНИ

ХАРАКТЕРИСТИКИ

- А) 2005-2007 гг.
- Б) 2007-2009 гг.
- В) 2009-2011 гг.
- Г) 2011-2013 гг.

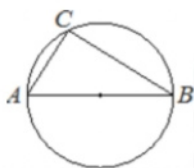
- 1) падение прироста остановилось
- 2) наибольшее падение прироста населения
- 3) прирост населения находился в пределах от 0,5% до 0,52%
- 4) прирост населения увеличивался

В таблице под каждой буквой укажите соответствующий номер.

Ответ:

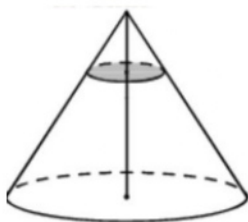
А	Б	В	Г

- 15 На окружности отмечена точка C . Отрезок AB – диаметр окружности, $AC = 9$, $BC = 12$. Найдите радиус окружности.



Ответ: _____.

- 16 Объем конуса равен 27. Через точку, делящую высоту конуса в отношении 1:2, считая от вершины, проведена плоскость, параллельная основанию. Найдите объем конуса, отсекаемого от данного конуса проведенной плоскостью.



Ответ: _____.

- 17 Каждому из четырех неравенств в левом столбце соответствует одно из решений в правом столбце. Установите соответствие между неравенствами и их решениями.

НЕРАВЕНСТВА

А) $\log_2(x - 1) < 1$

Б) $3^{-2x} > \frac{1}{9}$

В) $\frac{x - 1}{(x - 3)^2} > 0$

Г) $x^2 - 4x + 3 > 0$

РЕШЕНИЯ



Впишите в приведённую в ответе таблицу под каждой буквой соответствующий решению номер.

Ответ:

А	Б	В	Г

- 18 Повар испёк для вечеринки 45 кексов, из них 15 штук он посыпал кокосовой стружкой, а 20 кексов посыпал сахарной пудрой. Выберите утверждения, которые верны при указанных условиях.

- 1) Хотя бы 16 кексов посыпаны и сахарной пудрой, и кокосовой стружкой.
- 2) Найдётся 10 кексов, которые ничем не посыпаны.
- 3) Не может оказаться больше 15 кексов, посыпанных и сахарной пудрой, и кокосовой стружкой.
- 4) Если кекс посыпан сахарной пудрой, то он посыпан кокосовой стружкой.

В ответе запишите номера выбранных утверждений без пробелов, запятых и других дополнительных символов.

Ответ: _____.

- 19 Найдите пятизначное число, кратное 25, любые две соседние цифры которого отличаются на 2. В ответе укажите какое-нибудь одно такое число.

Ответ: _____.

- 20 Дорога между пунктами А и В состоит из подъёма и спуска, а её длина равна 25 км. Путь из А в В занял у туриста 6 часов, из которых 1 час ушёл на спуск. Найдите скорость туриста на спуске, если она больше скорости на подъёме на 1 км/ч. Ответ дайте в км/ч.

Ответ: _____.

- 21 Список заданий викторины состоял из 33 вопросов. За каждый правильный ответ ученик получал 7 очков, за неправильный ответ с него списывали 12 очков, а при отсутствии ответа давали 0 очков. Сколько верных ответов дал ученик, набравший 70 очков, если известно, что по крайней мере один раз он ошибся?

Ответ: _____.

Не забудьте перенести все ответы в бланк ответов № 1 в соответствии с инструкцией по выполнению работы. Проверьте, чтобы каждый ответ был записан в строке с номером соответствующего задания.

**Система оценивания экзаменационной работы по математике
(базовый уровень)**

Правильное решение каждого из заданий 1–21 оценивается 1 баллом. Задание считается выполненным верно, если экзаменуемый дал правильный ответ в виде целого числа или конечной десятичной дроби, или последовательности цифр.

Номер задания	Правильный ответ
1	1
2	3
3	4321
4	967,5
5	12
6	10
7	2
8	36
9	9
10	2000
11	0,32
12	20980
13	48
14	2314
15	7,5
16	1
17	3241
18	23
19	97975 или 57975 или 97575 или 57575 или 53575 или 13575
20	5
21	22