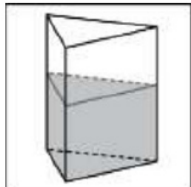
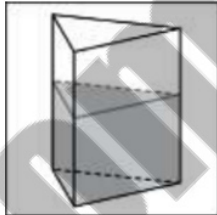
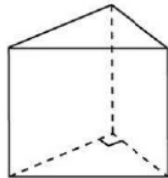
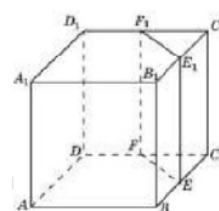


ПРИЗМА

1.	В сосуд, имеющий форму правильной треугольной призмы, налили 2300 см^3 воды и полностью в нее погрузили деталь. При этом уровень жидкости в сосуде поднялся с отметки 25 см до отметки 27 см . Чему равен объем детали? Ответ выразите в см^3 .		184
2.	В сосуд, имеющий форму правильной треугольной призмы, налили воду. Уровень воды достигает 80 см . На какой высоте будет находиться уровень воды, если ее перелить в другой такой же сосуд, у которого сторона основания в 4 раза больше, чем у первого? Ответ выразите в см .		5
3.	Найдите площадь боковой поверхности правильной шестиугольной призмы, сторона основания которой равна 5 , а высота — 10 .		300
4.	Найдите площадь поверхности прямой призмы, в основании которой лежит ромб с диагоналями, равными 6 и 8 , и боковым ребром, равным 10 .		248
5.	Найдите боковое ребро правильной четырехугольной призмы, если сторона ее основания равна 5 , а площадь поверхности равна 190 .		7
6.	Через среднюю линию основания треугольной призмы, площадь боковой поверхности которой равна 24 , проведена плоскость, параллельная боковому ребру. Найдите площадь боковой поверхности отсеченной треугольной призмы.		12
7.	Основанием прямой треугольной призмы служит прямоугольный треугольник с катетами 3 и 5 . Объем призмы равен 30 . Найдите ее боковое ребро.		4
8.	Найдите объем правильной шестиугольной призмы, стороны основания которой равны 1 , а боковые ребра равны $\sqrt{3}$.		4,5
9.	Через среднюю линию основания треугольной призмы, объем которой равен 32 , проведена плоскость, параллельная боковому ребру. Найдите объем отсеченной треугольной призмы.		8

Задание №5 профильного ЕГЭ

10.	Через среднюю линию основания треугольной призмы проведена плоскость, параллельная боковому ребру. Объем отсеченной треугольной призмы равен 5. Найдите объем исходной призмы.	20
11.	Найдите объем призмы, в основаниях которой лежат правильные шестиугольники со сторонами 2, а боковые ребра равны $2\sqrt{3}$ и наклонены к плоскости основания под углом 30° .	18
12.	От треугольной призмы, объем которой равен 6, отсечена треугольная пирамида плоскостью, проходящей через сторону одного основания и противоположную вершину другого основания. Найдите объем оставшейся части.	4
13.	Основанием прямой треугольной призмы служит прямоугольный треугольник с катетами 6 и 8, высота призмы равна 10. Найдите площадь ее поверхности.	288
14.	В основании прямой призмы лежит ромб с диагоналями, равными 6 и 8. Площадь ее поверхности равна 248. Найдите боковое ребро этой призмы.	10
15.	В треугольной призме две боковые грани перпендикулярны. Их общее ребро равно 10 и отстоит от других боковых ребер на 6 и 8. Найдите площадь боковой поверхности этой призмы.	240
16.	Основанием прямой треугольной призмы служит прямоугольный треугольник с катетами 6 и 8. Площадь ее поверхности равна 288. Найдите высоту призмы.	10
17.	Через среднюю линию основания треугольной призмы проведена плоскость, параллельная боковому ребру. Площадь боковой поверхности отсеченной треугольной призмы равна 8. Найдите площадь боковой поверхности исходной призмы.	16
18.	Объем куба равен 12. Найдите объем треугольной призмы, отсекаемой от него плоскостью, проходящей через середины двух ребер, выходящих из одной вершины и параллельной третьему ребру, выходящему из этой же вершины.	1,5
19.	Найдите объем многогранника, вершинами которого являются точки A, B, C, A_1 правильной треугольной призмы $ABCA_1B_1C_1$, площадь основания которой равна 2, а боковое ребро равно 3.	2
20.	Найдите объем многогранника, вершинами которого являются точки A, B, C, A_1, C_1 правильной треугольной призмы $ABCA_1B_1C_1$, площадь основания которой равна 3, а боковое ребро равно 2.	4



Задание №5 профильного ЕГЭ

21.	Найдите объем многогранника, вершинами которого являются точки A_1, B_1, B, C правильной треугольной призмы $ABCA_1B_1C_1$, площадь основания которой равна 4, а боковое ребро равно 3.	4
22.	Найдите объем многогранника, вершинами которого являются точки A, B, C, D, E, F, A_1 правильной шестиугольной призмы $ABCDEF A_1B_1C_1D_1E_1F_1$, площадь основания которой равна 4, а боковое ребро равно 3.	4
23.	Найдите объем многогранника, вершинами которого являются точки A, B, C, A_1, B_1, C_1 правильной шестиугольной призмы $ABCDEF A_1B_1C_1D_1E_1F_1$, площадь основания которой равна 6, а боковое ребро равно 3.	3
24.	Найдите объем многогранника, вершинами которого являются точки $A, B, D, E, A_1, B_1, D_1, E_1$ правильной шестиугольной призмы $ABCDEF A_1B_1C_1D_1E_1F_1$, площадь основания которой равна 6, а боковое ребро равно 2.	8
25.	Найдите объем многогранника, вершинами которого являются точки $A, B, C, D, A_1, B_1, C_1, D_1$ правильной шестиугольной призмы $ABCDEF A_1B_1C_1D_1E_1F_1$, площадь основания которой равна 6, а боковое ребро равно 2.	6
26.	Площадь поверхности правильной треугольной призмы равна 6. Какой будет площадь поверхности призмы, если все ее ребра увеличить в три раза?	54
27.	Найдите объем правильной шестиугольной призмы, все ребра которой равны $\sqrt{3}$.	13,5
28.	В правильной шестиугольной призме $ABCDEF A_1B_1C_1D_1E_1F_1$ все ребра равны 1. Найдите расстояние между точками A и E_1 .	2
29.	В правильной шестиугольной призме $ABCDEF A_1B_1C_1D_1E_1F_1$ все ребра равны 1. Найдите расстояние между точками B и E .	2
30.	В правильной шестиугольной призме $ABCDEF A_1B_1C_1D_1E_1F_1$ все ребра равны $\sqrt{5}$. Найдите расстояние между точками B и E_1 .	5
31.	В правильной шестиугольной призме $ABCDEF A_1B_1C_1D_1E_1F_1$ все ребра равны 1. Найдите тангенс угла AD_1D .	2
32.	В правильной шестиугольной призме $ABCDEF A_1B_1C_1D_1E_1F_1$ все ребра равны 1. Найдите угол DAB . Ответ дайте в градусах.	60
33.	В правильной шестиугольной призме $ABCDEF A_1B_1C_1D_1E_1F_1$ все ребра равны 1. Найдите угол AC_1C . Ответ дайте в градусах.	60

Задание №5 профильного ЕГЭ

34.	В правильной треугольной призме $ABCA_1B_1C_1$, все ребра которой равны 3, найдите угол между прямыми AA_1 и BC_1 . Ответ дайте в градусах.	45
35.	В правильной четырёхугольной призме $ABCD A_1B_1C_1D_1$ известно, что $AC_1 = 2BC$. Найдите угол между диагоналями BD_1 и CA_1 . Ответ дайте в градусах.	60
36.	В правильной треугольной призме $ABCA_1B_1C_1$ стороны основания равны 2, боковые ребра равны 5. Найдите площадь сечения призмы плоскостью, проходящей через середины ребер AB , AC , A_1B_1 и A_1C_1 .	5
37.	В правильной четырёхугольной призме $ABCD A_1B_1C_1D_1$ ребро AA_1 равно 15, а диагональ BD_1 равна 17. Найдите площадь сечения призмы плоскостью, проходящей через точки A , A_1 и C .	120
38.	В правильной треугольной призме $ABCA_1B_1C_1$ известно, что $AB = \sqrt{3}AA_1$. Найдите угол между прямыми AB_1 и CC_1 . Ответ дайте в градусах.	60