

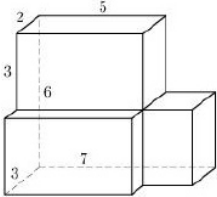
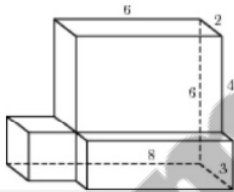
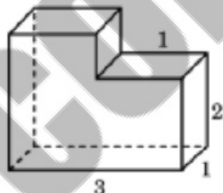
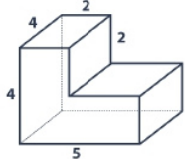
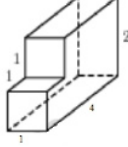
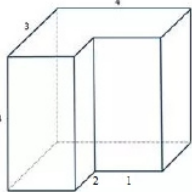
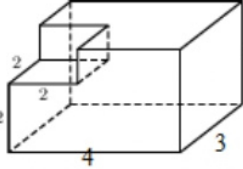
ПЛОЩАДЬ ПОВЕРХНОСТИ И ОБЪЕМ СОСТАВНОГО МНОГОГРАННИКА

1.	Найдите площадь поверхности многогранника, изображенного на рисунке (все двугранные углы прямые).		18
2.	Найдите площадь поверхности многогранника, изображенного на рисунке (все двугранные углы прямые).		76
3.	Найдите площадь поверхности многогранника, изображенного на рисунке (все двугранные углы прямые).		92
4.	Найдите площадь поверхности многогранника, изображенного на рисунке (все двугранные углы прямые).		110
5.	Найдите площадь поверхности многогранника, изображенного на рисунке (все двугранные углы прямые).		94
6.	Найдите площадь поверхности многогранника, изображенного на рисунке (все двугранные углы прямые).		132
7.	Найдите площадь поверхности многогранника, изображенного на рисунке (все двугранные углы прямые).		114

Задание №5 профильного ЕГЭ

8.	<p>Найдите площадь поверхности многогранника, изображенного на рисунке (все двугранные углы прямые).</p>		48
9.	<p>Найдите площадь поверхности многогранника, изображенного на рисунке (все двугранные углы прямые).</p>		84
10.	<p>Найдите площадь поверхности многогранника, изображенного на рисунке (все двугранные углы прямые).</p>		96
11.	<p>Найдите площадь поверхности многогранника, изображенного на рисунке (все двугранные углы прямые).</p>		124
12.	<p>Найдите площадь поверхности многогранника, изображенного на рисунке, все двугранные углы которого прямые.</p>		14
13.	<p>Найдите площадь поверхности пространственного креста, изображенного на рисунке и составленного из единичных кубов.</p>		30
14.	<p>Найдите площадь поверхности многогранника, изображенного на рисунке (все двугранные углы прямые).</p>		162

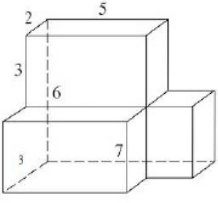
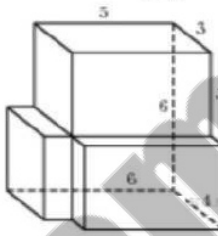
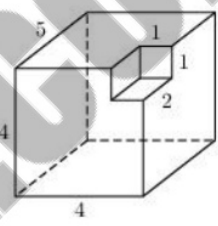
Задание №5 профильного ЕГЭ

15.	Найдите площадь поверхности многогранника, изображенного на рисунке (все двугранные углы прямые).		156
16.	Найдите площадь поверхности многогранника, изображенного на рисунке (все двугранные углы прямые).		152
17.	Найдите объем многогранника, изображенного на рисунке (все двугранные углы многогранника прямые).		8
18.	Найдите объем многогранника, изображенного на рисунке (все двугранные углы прямые).		56
19.	Найдите объем многогранника, изображенного на рисунке (все двугранные углы прямые).		7
20.	Найдите объем многогранника, изображенного на рисунке (все двугранные углы прямые).		40
21.	Найдите объем многогранника, изображенного на рисунке (все двугранные углы прямые).		34
22.	Найдите объем многогранника, изображенного на рисунке (все двугранные углы прямые).		36

Задание №5 профильного ЕГЭ

23.	Найдите объем многогранника, изображенного на рисунке (все двугранные углы прямые).		90
24.	Найдите объем многогранника, изображенного на рисунке (все двугранные углы прямые).		18
25.	Найдите объем многогранника, изображенного на рисунке (все двугранные углы прямые).		24
26.	Найдите объем многогранника, изображенного на рисунке (все двугранные углы прямые).		45
27.	Найдите объем многогранника, изображенного на рисунке (все двугранные углы прямые).		78
28.	Найдите объем многогранника, изображенного на рисунке (все двугранные углы прямые).		104

Задание №5 профильного ЕГЭ

<p>29.</p>	<p>Найдите объем многогранника, изображенного на рисунке (все двугранные углы прямые).</p>		<p>87</p>
<p>30.</p>	<p>Найдите объем многогранника, изображенного на рисунке (все двугранные углы прямые).</p>		<p>114</p>
<p>31.</p>	<p>Найдите объем многогранника, изображенного на рисунке (все двугранные углы прямые).</p>		<p>78</p>

100ballnik.com