

ВСЕРОССИЙСКАЯ ПРОВЕРОЧНАЯ РАБОТА**ХИМИЯ
11 КЛАСС****Вариант 1****Инструкция по выполнению работы**

Проверочная работа включает в себя 15 заданий. На выполнение работы по химии отводится 1 час 30 минут (90 минут).

Оформляйте ответы в тексте работы согласно инструкциям к заданиям. В случае записи неверного ответа зачеркните его и запишите рядом новый.

При выполнении работы разрешается использовать следующие дополнительные материалы:

- Периодическая система химических элементов Д.И. Менделеева;
- таблица растворимости солей, кислот и оснований в воде;
- электрохимический ряд напряжений металлов;
- непрограммируемый калькулятор.

При выполнении заданий Вы можете использовать черновик. Записи в черновике проверяться и оцениваться не будут.

Советуем выполнять задания в том порядке, в котором они даны. Для экономии времени пропускайте задание, которое не удаётся выполнить сразу, и переходите к следующему. Если после выполнения всей работы у Вас останется время, Вы сможете вернуться к пропущенным заданиям.

Баллы, полученные Вами за выполненные задания, суммируются. Постарайтесь выполнить как можно больше заданий и набрать наибольшее количество баллов.

Желаем успеха!

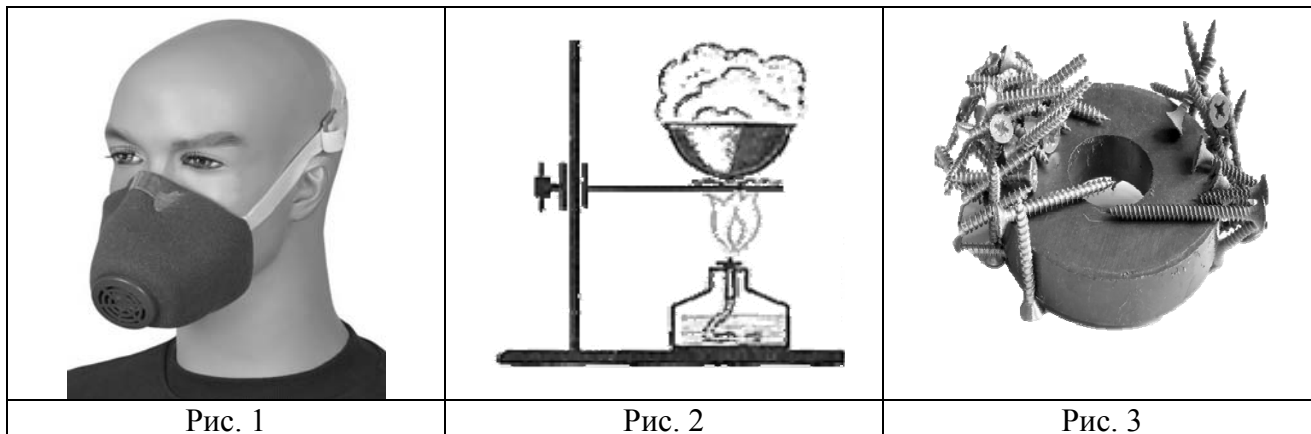
Таблица для внесения баллов участника

Номер задания	1	2	3	4	5	6	7	8	9	10	11	12	13	14	15	Сумма баллов	Отметка за работу
Баллы																	

1

Из курса химии Вам известны следующие **способы** разделения смесей: *отстаивание, фильтрование, дистилляция (перегонка), действие магнитом, выпаривание, перекристаллизация.*

На рисунках 1–3 представлены примеры использования некоторых из перечисленных способов.



Какие из названных способов разделения смесей можно применить для:

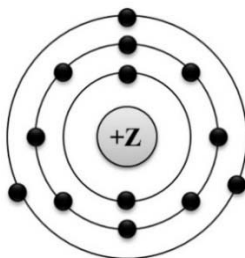
- 1) отделения древесных стружек от попавших в них железных гвоздей;
- 2) очистки вдыхаемого воздуха от мелких частиц асбестовой пыли?

Запишите в таблицу номера рисунков и названия соответствующих способов разделения смеси.

Смесь	Номер рисунка	Способ разделения смеси
Древесные стружки и железные гвозди		
Вдыхаемый воздух с мелкими частицами асбестовой пыли		

2

На рисунке изображена модель электронного строения атома некоторого химического элемента.



На основании предложенной модели выполните следующие задания:

- 1) запишите символ химического элемента, которому соответствует данная модель атома;
- 2) запишите заряд ядра этого элемента и укажите номер группы в Периодической системе химических элементов Д.И. Менделеева, в которой расположен этот элемент;
- 3) определите, к металлам или неметаллам относится простое вещество, которое образует этот элемент.

Ответы запишите в таблицу.

Символ химического элемента	Заряд ядра	№ группы	Металл/неметалл

3

Периодическая система химических элементов Д.И. Менделеева – богатое хранилище информации о химических элементах, их свойствах и свойствах их соединений, о закономерностях изменения этих свойств, о способах получения веществ, а также о нахождении их в природе. Так, например, известно, что с увеличением порядкового номера химического элемента в периодах основной характер их высших оксидов ослабевает, а в группах – усиливается.

Учитывая эти закономерности, расположите в порядке усиления основного характера высшего оксида следующие элементы: Ca, Mg, Al, В. Запишите знаки элементов в нужной последовательности.

Ответ: _____

4

В приведённой ниже таблице перечислены характерные свойства веществ, которые имеют молекулярное и ионное строение.

Характерные свойства веществ	
Молекулярного строения	Ионного строения
<ul style="list-style-type: none"> • при обычных условиях могут находиться в жидком, либо в газообразном, либо в твёрдом агрегатных состояниях; • имеют низкие значения температур кипения и плавления; • имеют низкую теплопроводность; • могут обладать запахом 	<ul style="list-style-type: none"> • при обычных условиях, как правило, твёрдые; • хрупкие; • тугоплавкие; • нелетучие; • в расплавах и растворах проводят электрический ток; • не обладают запахом

Используя данную информацию, определите, какое строение имеют вещества сероводород H_2S и сульфид кальция CaS .

1) сероводород H_2S _____

2) сульфид кальция CaS _____

Прочитайте следующий текст и выполните задания 5–7.

Аммиак (NH_3) – газ с характерным резким запахом, очень хорошо растворяется в воде. Водный раствор аммиака называется «нашатырный спирт». Основное применение нашатырного спирта – это медицина. С его помощью можно привести в чувство человека при обмороке, а хирурги обрабатывают им руки перед операцией. Помимо этого, раствор аммиака препарат нашел широкое применение в косметологии.

Горение аммиака приводит к образованию азота и воды, а каталитическое окисление аммиака сопровождается образованием оксида азота(II) (NO).

Аммиак легко взаимодействует с кислотами, как сильными, так и слабыми, образуя соли аммония. Так, аммиак с азотной кислотой (HNO_3) образует нитрат аммония (NH_4NO_3).

В промышленности аммиак получают взаимодействием простых веществ азота и водорода при температуре $400\text{--}450^\circ\text{C}$ под давлением в присутствии катализатора. В лаборатории аммиак получают взаимодействием хлорида аммония (NH_4Cl) со щелочами, например, с KOH или $\text{Ca}(\text{OH})_2$. Аммиак является исходным веществом для получения в промышленности азотной кислоты и азотных удобрений.

5

Сложные неорганические вещества условно можно распределить, то есть классифицировать, по четырём группам, как показано на схеме. В эту схему для каждой из четырёх групп *впишите* по одной химической формуле веществ, из тех, о которых говорится в приведенном выше тексте.



6

1) Составьте молекулярное уравнение реакции горения аммиака.

Ответ: _____

2) Укажите тип реакции по её тепловому эффекту.

Ответ: _____

7

1. Составьте молекулярное уравнение упомянутой в тексте реакции между хлоридом аммония и гидроксидом калия.

Ответ: _____

2. Укажите, к какому типу (соединения, разложения, замещения, обмена) относится эта реакция.

Ответ: _____

8

При исследовании водопроводной воды в ней были обнаружены следующие анионы: Br^- , Cl^- , CO_3^{2-} . Для проведения качественного анализа к этой воде добавили раствор $\text{Ca}(\text{NO}_3)_2$.

1. Какое изменение в растворе можно наблюдать при проведении данного опыта (концентрация веществ достаточная для проведения анализа)?

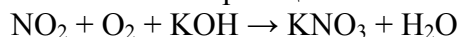
Ответ: _____

2. Запишите сокращённое ионное уравнение произошедшей химической реакции.

Ответ: _____

9

Дана схема окислительно-восстановительной реакции.



1. Составьте электронный баланс этой реакции.

Ответ: _____

2. Укажите окислитель и восстановитель.

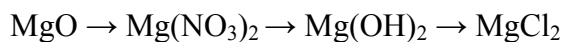
Ответ: _____

3. Расставьте коэффициенты в уравнении реакции.

Ответ: _____

10

Дана схема превращений:



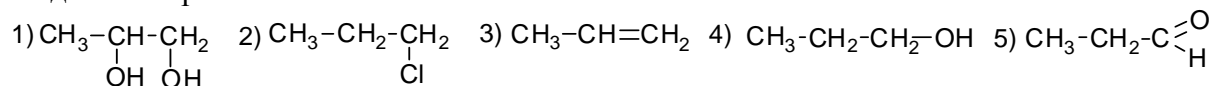
Напишите молекулярные уравнения реакций, с помощью которых можно осуществить указанные превращения.

1) _____

2) _____

3) _____

Для выполнения заданий 11–13 используйте вещества, структурные формулы которых приведены в перечне:




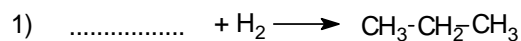
11

Из приведённого перечня выберите непредельный углеводород и двухатомный спирт. Запишите в таблицу номера, под которыми указаны эти соединения.

Непредельный углеводород	Двухатомный спирт

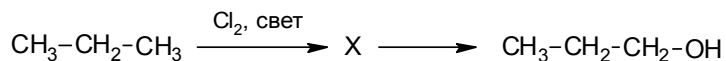
12

Составьте уравнения реакций: в предложенные схемы химических реакций впишите структурные формулы пропущенных веществ и расставьте коэффициенты.



13

Пропиловый спирт используют в качестве растворителя при производстве полимеров, каучуков, моющих средств. В лабораторных условиях пропиловый спирт можно получить в соответствии с приведённой схемой превращений:



Определите вещество X, выбрав его из предложенного выше перечня веществ. Запишите уравнения двух реакций, с помощью которых можно осуществить эти превращения. Запишите название вещества X.

При написании уравнений реакций используйте структурные формулы органических веществ.

1) _____

2) _____

3) _____

14

Одним из важных понятий в экологии и химии является «предельно допустимая концентрация» (ПДК). ПДК – это такая концентрация вредного вещества в окружающей среде, присутствуя в которой постоянно, данное вещество не оказывает прямого или косвенного неблагоприятного влияния на настоящее или будущее поколение в течение всей жизни, не снижает работоспособности человека, не ухудшает его самочувствия и условий жизни.

ПДК угарного газа в воздухе жилых помещений составляет 3 мг/м^3 .

В помещении с печным отоплением площадью 15 м^2 , с высотой потолка 3 м из-за неполного сгорания угля в печи в воздух выделилось 139,5 мг угарного газа. Определите и подтвердите расчётами, превышает ли концентрация угарного газа в воздухе данного помещения значение ПДК. Предложите способ, позволяющий снизить концентрацию угарного газа в помещении.

Ответ: _____

15

Для приготовления маринада авторы одной из поваренных книг рекомендуют в 1 л воды растворить 35 г соли, 75 г сахара и 25 г уксусной кислоты. Полученный раствор используется при мариновании огурцов, помидоров и других овощей. Рассчитайте массовую долю хлорида натрия и сахарозы в полученном маринаде. Запишите подробное решение задачи.

Ответ: _____

Ответы и критерии оценивания проверочной работы по химии

1	Содержание верного ответа и указания по оцениванию (допускаются иные формулировки ответа, не искажающие его смысла)			Баллы
	Смесь	Номер рисунка	Способ разделения смеси	
	Древесные стружки и железные гвозди	3	Действие магнитом	
	Вдыхаемый воздух с мелкими частицами асбестовой пыли	1	Фильтрация	
	Ответ правильный и полный, содержит все названные выше элементы			2
	Допущена ошибка в одном из элементов ответа			1
	Допущено две и более ошибки, или ответ отсутствует			0
	<i>Максимальный балл</i>			2

2	Содержание верного ответа и указания по оцениванию (допускаются иные формулировки ответа, не искажающие его смысла)				Баллы
	Символ химического элемента	Заряд ядра	№ группы	Металл/неметалл	
	Al	+13	III	Металл	
	Ответ правильный и полный, содержит все названные выше элементы				2
	Допущена ошибка в одном из элементов ответа				1
	Допущено две и более ошибки				0
	<i>Максимальный балл</i>				2

3	Содержание верного ответа и указания по оцениванию (допускаются иные формулировки ответа, не искажающие его смысла)	Баллы
		Записан ряд химических элементов: В → Al → Mg → Ca (или В, Al, Mg, Ca)
	Указана правильная последовательность символов	1
	Последовательность символов записана неверно, или ответ отсутствует	0
	<i>Максимальный балл</i>	1

4	Содержание верного ответа и указания по оцениванию (допускаются иные формулировки ответа, не искажающие его смысла)	Баллы
		Элементы ответа: 1) Сероводород имеет молекулярное строение. 2) Сульфид кальция имеет ионное строение
	Ответ правильный и полный, содержит все названные выше элементы	2
	Допущена ошибка в одном из элементов ответа	1
	Все элементы ответа записаны неверно	0
	<i>Максимальный балл</i>	2

5

Содержание верного ответа и указания по оцениванию (допускаются иные формулировки ответа, не искажающие его смысла)	Баллы
Элементы ответа: Оксид: NO; Основание: Ca(OH) ₂ , KOH; Кислота HNO ₃ ; Соль: NH ₄ Cl или NH ₄ NO ₃	
Ответ правильный и полный, содержит все названные выше элементы	2
Правильно заполнены три ячейки схемы	1
Допущено две и более ошибки	0
<i>Максимальный балл</i>	2

6

Содержание верного ответа и указания по оцениванию (допускаются иные формулировки ответа, не искажающие его смысла)	Баллы
Элементы ответа: 1) $4\text{NH}_3 + 3\text{O}_2 = 2\text{N}_2 + 6\text{H}_2\text{O}$ 2) реакция протекает с выделением энергии (экзотермическая)	
Ответ правильный и полный, содержит все названные выше элементы	2
Ответ включает один из названных выше элементов	1
Все элементы ответа записаны неверно	0
<i>Максимальный балл</i>	2

7

Содержание верного ответа и указания по оцениванию (допускаются иные формулировки ответа, не искажающие его смысла)	Баллы
Элементы ответа: 1) $\text{NH}_4\text{Cl} + \text{KOH} = \text{NH}_3 + \text{H}_2\text{O} + \text{KCl}$ 2) реакция обмена	
Ответ правильный и полный, содержит все названные выше элементы	2
Ответ включает один из названных выше элементов	1
Все элементы ответа записаны неверно	0
<i>Максимальный балл</i>	2

8

Содержание верного ответа и указания по оцениванию (допускаются иные формулировки ответа, не искажающие его смысла)	Баллы
Элементы ответа: 1) наблюдается выпадение белого осадка; 2) $\text{Ca}^{2+} + \text{CO}_3^{2-} = \text{CaCO}_3\downarrow$	
Ответ правильный и полный, содержит все названные выше элементы ответа	2
Допущена ошибка в одном из элементов ответа	1
Все элементы ответа записаны неверно	0
<i>Максимальный балл</i>	2

9

Содержание верного ответа и указания по оцениванию (допускаются иные формулировки ответа, не искажающие его смысла)	Баллы
Элементы ответа: 1) Составлен электронный баланс: $\begin{array}{l} 1 \quad \text{O}_2^0 + 4\bar{e} \rightarrow 2\text{O}^{-2} \\ 4 \quad \text{N}^{+4} - 1\bar{e} \rightarrow \text{N}^{+5} \end{array}$ 2) Указано, что азот в степени окисления +4 (или NO ₂) является восстановителем, а кислород в степени окисления 0 (или O ₂) – окислителем. 3) Составлено уравнение реакции: $4\text{NO}_2 + \text{O}_2 + 4\text{KOH} = 4\text{KNO}_3 + 2\text{H}_2\text{O}$	
Ответ правильный и полный, включает в себя все названные выше элементы ответа	3
Правильно записаны два из названных выше элементов ответа	2
Правильно записан один из названных выше элементов ответа	1
Все элементы ответа записаны неверно	0
<i>Максимальный балл</i>	3

10

Содержание верного ответа и указания по оцениванию	Баллы
Написаны уравнения реакций, соответствующие схеме превращений: 1) $\text{MgO} + 2\text{HNO}_3 = \text{Mg}(\text{NO}_3)_2 + \text{H}_2\text{O}$ 2) $\text{Mg}(\text{NO}_3)_2 + 2\text{NaOH} = \text{Mg}(\text{OH})_2 + 2\text{NaNO}_3$ 3) $\text{Mg}(\text{OH})_2 + 2\text{HCl} = \text{MgCl}_2 + 2\text{H}_2\text{O}$ (Допускаются иные, не противоречащие условию задания уравнения реакций.)	
Правильно записаны три уравнения реакций	3
Правильно записаны два уравнения реакций	2
Правильно записано одно уравнение реакции	1
Все уравнения записаны неверно, или ответ отсутствует	0
<i>Максимальный балл</i>	3

11

Содержание верного ответа и указания по оцениванию (допускаются иные формулировки ответа, не искажающие его смысла)	Баллы
Элементы ответа: 31	
Правильно записаны все элементы ответа	2
Правильно записан один элемент ответа	1
Все элементы ответа записаны неверно или ответ отсутствует	0
<i>Максимальный балл</i>	2

12	Содержание верного ответа и указания по оцениванию (допускаются иные формулировки ответа, не искажающие его смысла)	Баллы
	<p>Элементы ответа:</p> <p>1) $\text{CH}_3\text{-CH=CH}_2 + \text{H}_2 \longrightarrow \text{CH}_3\text{-CH}_2\text{-CH}_3$</p> <p>2) $2 \text{CH}_3\text{-CH}_2\text{-CH}_2\text{-OH} + 2\text{Na} \longrightarrow 2 \text{CH}_3\text{-CH}_2\text{-CH}_2\text{-ONa} + \text{H}_2$</p>	
	Правильно записаны два элемента ответа	2
	Правильно записан один элемент ответа	1
	Все элементы ответа записаны неверно или ответ отсутствует	0
	<i>Максимальный балл</i>	2

13	Содержание верного ответа и указания по оцениванию (допускаются иные формулировки ответа, не искажающие его смысла)	Баллы
	<p>Элементы ответа:</p> <p>Написаны уравнения реакций, соответствующие схеме:</p> <p>1) $\text{CH}_3\text{-CH}_2\text{-CH}_3 + \text{Cl}_2 \longrightarrow \text{CH}_3\text{-CH}_2\underset{\text{Cl}}{\text{CH}_2} + \text{HCl}$</p> <p>2) $\text{CH}_3\text{-CH}_2\underset{\text{Cl}}{\text{CH}_2} + \text{KOH} \longrightarrow \text{CH}_3\text{-CH}_2\text{-CH}_2\text{-OH} + \text{KCl}$</p> <p>3) Записано название вещества X: 1-хлорпропан</p>	
	Правильно записаны все элементы ответа	3
	Правильно записаны два элемента ответа	2
	Правильно записан один элемент ответа	1
	Все элементы ответа записаны неверно или ответ отсутствует	0
	<i>Максимальный балл</i>	3

14	Содержание верного ответа и указания по оцениванию (допускаются иные формулировки ответа, не искажающие его смысла)	Баллы
	<p>Элементы ответа:</p> <p>1) Определён объём помещения, и определена концентрация угарного газа в нём: $V(\text{помещения}) = 15 \cdot 3 = 45 \text{ м}^3$ Концентрация угарного газа = $139,5 / 45 = 3,1 \text{ мг/м}^3$</p> <p>2) Сформулирован вывод о превышении ПДК угарного газа в помещении: более 3 мг/м^3.</p> <p>3) Сформулировано одно предложение по снижению концентрации угарного газа в помещении: замена печного отопления на газовое или электрическое; регулярное проветривание (вентиляция) помещения</p>	
	Ответ правильный и полный, содержит все названные выше элементы ответа	3
	Правильно записаны два из названных выше элементов ответа	2
	Правильно записан один из названных выше элементов ответа	1
	Все элементы ответа записаны неверно	0
	<i>Максимальный балл</i>	3

15

Содержание верного ответа и указания по оцениванию (допускаются иные формулировки ответа, не искажающие его смысла)	Баллы
Элементы ответа: Рассчитаны массовые доли растворённых веществ: 1) $w(\text{NaCl}) = 35 / (1000 + 35 + 75 + 25) = 0,031$, или 3,1% 2) $w(\text{C}_{12}\text{H}_{22}\text{O}_{11}) = 75 / (1000 + 35 + 75 + 25) = 0,066$, или 6,6%	
Ответ правильный и полный, содержит все названные выше элементы	2
Допущена ошибка в одном из элементов ответа	1
Все элементы ответа записаны неверно	0
<i>Максимальный балл</i>	2

Система оценивания выполнения всей работы

Максимальный балл за выполнение работы – **33**.

Рекомендуемая шкала перевода суммарного балла за выполнение ВПР в отметку по пятибалльной шкале

Отметка по пятибалльной шкале	«2»	«3»	«4»	«5»
Суммарный балл	0–10	11–19	20–27	28–33