

**Проверочная работа
по ГЕОГРАФИИ**

8 КЛАСС

Вариант 1

Инструкция по выполнению работы


На выполнение работы по географии даётся 90 минут. Работа включает в себя 8 заданий.

Ответы на задания запишите в поля ответов в тексте работы. В случае записи неверного ответа зачеркните его и запишите рядом новый.

При выполнении работы не разрешается пользоваться учебником, рабочими тетрадями, атласом и другим справочным материалом. Для выполнения заданий 2.2 и 4.1 Вам потребуется калькулятор.

При необходимости можно пользоваться черновиком. Записи в черновике проверяться и оцениваться не будут.

Советуем выполнять задания в том порядке, в котором они даны. В целях экономии времени пропускайте задание, которое не удаётся выполнить сразу, и переходите к следующему. Если после выполнения всей работы у Вас останется время, то Вы сможете вернуться к пропущенным заданиям.

Значком  отмечены задания, ответы на которые фиксируются на картах, приведённых на страницах 4 и 10. Для подписи названий географических объектов на карте Вы можете при необходимости использовать цифровые или буквенные обозначения этих объектов с указанием названий на свободном поле под картой.

Желаем успеха!

Таблица для внесения баллов участника

Номер задания	1.1	1.2	1.3	2.1	2.2	3.1	3.2	3.3	4.1	4.2	5.1	5.2	5.3	6.1	6.2	6.3
Баллы																
Номер задания	7.1	7.2	7.3	8.1	8.2	8.3	Сумма баллов	Отметка за работу								
Баллы																

1

1.1. На рисунках представлены контуры стран – соседей России с указанием столиц этих стран. Подпишите под каждым рисунком рядом с номером название соответствующей страны.



1 – _____

2 – _____

3 – _____

4 – _____

Определите расположение указанных Вами стран на схеме и впишите в пустые квадраты их **номера**.

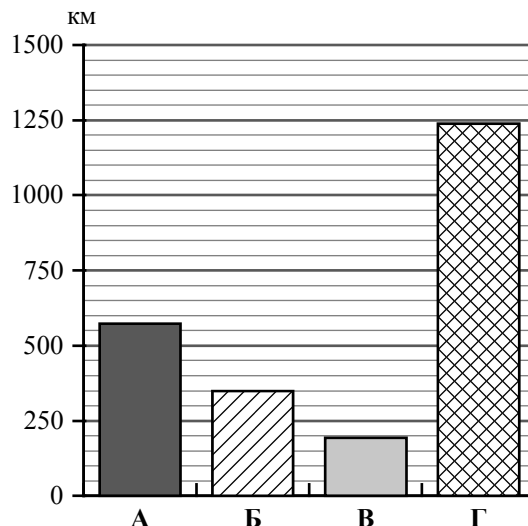


1.2. С какой из указанных Вами стран Россия имеет только морскую границу? Запишите в ответе **название** страны.



Ответ. _____

1.3. На диаграмме отображена протяжённость границ России с указанными Вами странами. Установите соответствие между столбцами диаграммы и названиями этих стран. Запишите в ответе **номера** стран под соответствующими буквами.



□

Ответ.

А	Б	В	Г

Задание 2 выполняется с использованием карты России, приведённой на странице 4.

2

2.1. На карте буквами обозначены объекты, определяющие географическое положение России. Запишите в таблицу названия этих объектов.

Ответ.

А	Б	В	Г

□



2.2. Точка N расположена на территории одного из указанных Вами географических объектов и имеет координаты 71° с.ш. 55° в.д. Поставьте на карте крайнюю южную точку России, которая расположена на одном меридиане с точкой N, и обозначьте её буквой К.


Запишите координаты точки К.

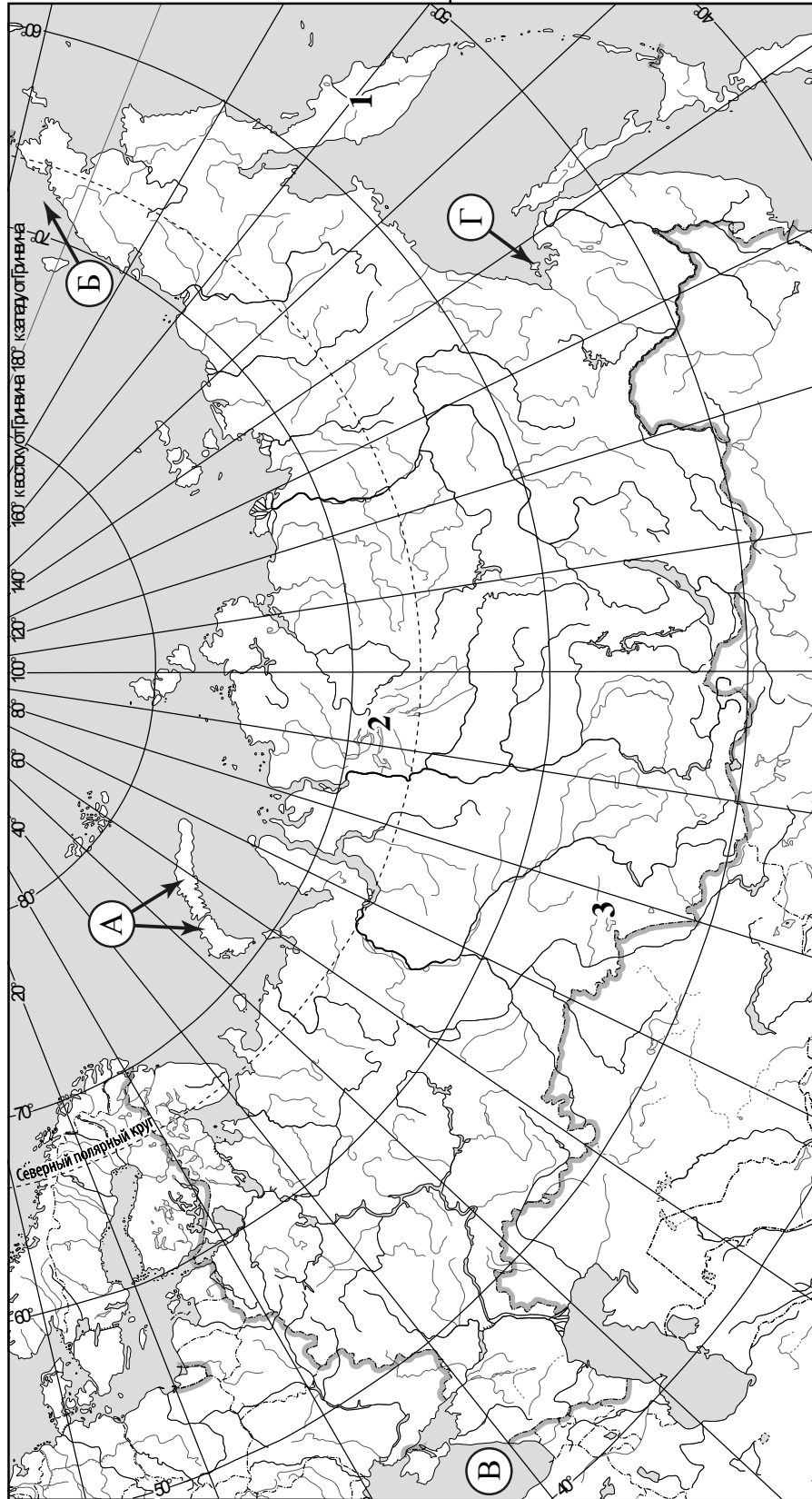
Ответ. _____

Рассчитайте расстояние в километрах от точки N до точки К. Длина дуги меридиана в 1° составляет 111,3 км. Результат округлите до целого числа. (Для расчёта используйте калькулятор.)

□

Ответ. _____

 Карта для выполнения заданий 2.2 и 4.2



Задание 3 выполняется с использованием карты России, приведённой на странице 4.

3

3.1. На карте России цифрами обозначены формы рельефа. Выберите из предложенного списка географические названия этих форм рельефа и впишите в пустые ячейки на схеме.

Алтай, Среднерусская, Барабинская, Среднесибирское, Срединный, Путорана.

хребет	низменность	плато
_____	_____	_____

3.2. Какая форма рельефа обозначена на карте цифрой 1? Запишите в ответе название этого географического объекта.

Ответ. _____

На какой из фотографий представлен указанный Вами географический объект?



Ответ.

3.3. Выберите три утверждения, которые характеризуют особенности указанного Вами географического объекта, и запишите в ответе их номера.

- 1) Территория расположена в области умеренно континентального климата.
- 2) Здесь произрастают хвойные леса из лиственницы и каменной берёзы.
- 3) В пределах этой формы рельефа большое количество вулканов.
- 4) Здесь расположена крайняя восточная точка России.
- 5) Территория богата месторождениями железных руд.
- 6) Эта форма рельефа протягивается с севера на юг по территории полуострова.

Ответ.

4

4.1. Изучите данные таблицы «Гидрографические характеристики реки Индигирки» и заполните пропуски в описании реки. При необходимости сделайте соответствующие расчёты. (Для расчётов используйте калькулятор.)

Таблица «Гидрографические характеристики реки Индигирки»

Исток	Халканский хребет
Устье	Восточно-Сибирское море
Высота истока, м	792
Высота устья, м	0
Длина, км	1726
Тип реки по характеру течения	В верховьях горная, в нижнем течении равнинная
Тип питания	Смешанное с преобладанием снегового
Режим реки	Летнее половодье, ледостав с октября по конец мая

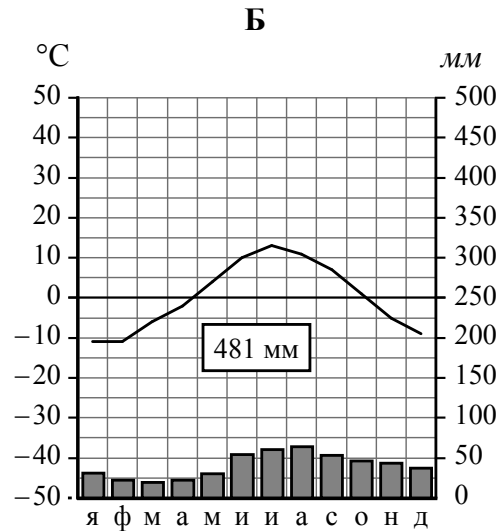
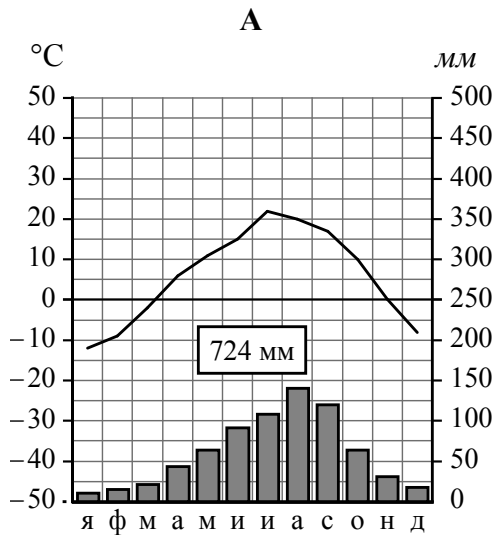
Индигирка – река, протекающая по территории Республики Саха (Якутия), протяжённостью _____. По площади водосборного бассейна Индигирка уступает таким рекам региона, как Лена и Колыма. Река относится к бассейну Северного Ледовитого океана. Начинается Индигирка на северных склонах _____ на высоте _____ над уровнем моря, а впадает в _____. Устье Индигирки находится на высоте _____ над уровнем моря. Таким образом, падение реки составляет _____ м, а её уклон – _____ см/км. Верховья реки находятся в горной местности, поэтому скорость течения здесь большая и достигает 4 м/с. Ниже по течению Индигирка превращается в _____ реку. Бассейн Индигирки расположен в области многолетней мерзлоты, в связи с чем для всех рек на его территории характерно образование гигантских наледей. Питание Индигирки _____ с преобладанием _____. Замерзает река в _____, а вскрывается ото льда в конце мая, поэтому для Индигирки характерно _____ половодье. На Индигирке расположен «полюс холода» Северного полушария – посёлок Оймякон.

4.2. На карте России, приведённой на странице 4, подпишите названия всех водных объектов, которые упоминаются в таблице и тексте.

5

На рисунках представлены климатограммы, построенные по данным метеонаблюдений в разных регионах России. Рассмотрите климатограммы и выполните задания.

5.1. Определите, какому климатическому поясу / типу климата соответствует каждая климатограмма. Подпишите название климатического пояса / типа климата под соответствующей климатограммой.



5.2. Школьник из Мурманска описал особенности местного климата в письме своему другу, который живёт во Владивостоке.

Несмотря на расположение нашего города на севере России, климат здесь довольно мягкий. Температура воздуха зимой, как правило, не опускается ниже -14°C . Наш город – крупнейший северный порт страны, море не замерзает круглый год. Лето обычно прохладное, воздух прогревается в среднем до $12-13^{\circ}\text{C}$. В нашем городе бывают полярная ночь и полярный день, а зимой можно наблюдать полярное сияние.

По тексту письма определите, какой тип климата, представленный одной из климатограмм, характерен для города Мурманска. Укажите в ответе название климатического пояса / типа климата.

Ответ. _____

Определите климатические показатели указанного Вами климатического пояса / типа климата по соответствующей климатограмме и заполните таблицу.

Средняя температура воздуха, $^{\circ}\text{C}$		Годовая амплитуда температур, $^{\circ}\text{C}$	Годовое количество осадков, мм	Месяц, на который приходится наибольшее количество осадков
в январе	в июле			

5.3. Какие климатообразующие факторы определяют климат Мурманска? Запишите в ответе их номера.

- 1) близость Северного Ледовитого океана
- 2) расположение в центральной части страны
- 3) мощный зимний антициклон
- 4) расположение за Северным полярным кругом
- 5) большой угол падения солнечных лучей в течение всего года
- 6) тёплое океаническое течение

Ответ. _____

Задание 6 выполняется с использованием карты России, приведённой на странице 10.

6



Группа туристов отправилась в путешествие по России. На карте отмечены буквами опорные точки их маршрута, которые являются крупными городами: центрами субъектов Российской Федерации (республик, краёв, областей) и/или городами федерального значения. Проследите по карте маршрут туристов и выполните задания.

6.1. Определите по опорным точкам на карте и запишите в таблицу названия субъектов Российской Федерации.

Опорная точка маршрута	А	Б	В
Субъект РФ			

Подпишите на карте названия городов – опорных точек маршрута.

6.2. Из точки А в точку Б туристы решили добраться на самолёте. Заполните пропуски в авиабилете: впишите названия пункта вылета, пункта назначения и время прилёта в пункт назначения (местное время).

 город _____	 город _____
Время вылета – 18:00	Время прилёта – _____
Расчётное время полёта – 3 часа	

6.3. Путь от точки Б до точки В туристы преодолевали на автомобиле. По пути они делали фотографии и записи в дневнике. Рассмотрите фотографии, прочитайте записи туристов и ответьте на вопросы.



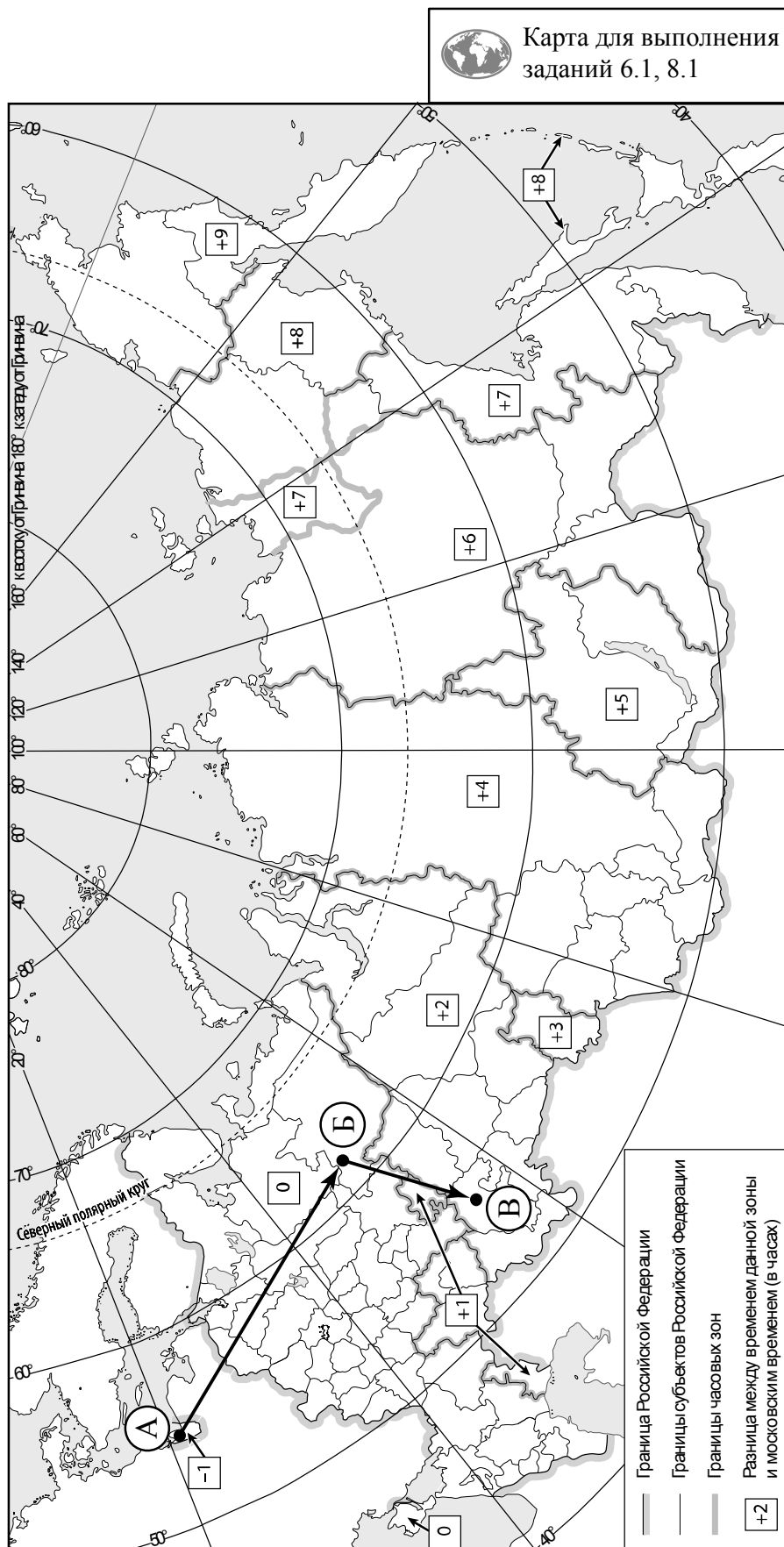
В городе, расположенном на левом берегу реки Сысолы при её впадении в реку Вычегду, откуда началось наше путешествие, находится один из крупнейших в стране целлюлозно-бумажных комбинатов. Регион, столицей которого является этот город, занимает одно из ведущих мест по заготовке и переработке древесины, производству бумаги и картона. Комбинат потребляет огромное количество пресной воды, а его стоки загрязняют реки. Из окна автомобиля мы наблюдали густые, непроходимые темнохвойные леса с елью, пихтой, сосной, лиственницей и даже сибирским кедром. Часть лесных массивов, ещё не тронутых человеком, включена в Список объектов Всемирного природного наследия ЮНЕСКО. Для защиты этих лесов создан заповедник. Однако за пределами заповедника активно ведутся лесозаготовительные работы, и мы наблюдали это по пути. Мы видели огромные территории вырубок, лесовозы и железнодорожные составы, гружённые круглым лесом. На месте вырубок во многих местах образовались болота. По берегам рек можно было наблюдать скопление отходов производства деревообрабатывающих предприятий, в реках плавали остатки брёвен после сплава леса. Мы проехали город Пермь, расположенный на реке Каме, через которую здесь проходит самый крупный на Урале железнодорожный мост. Дорога вновь шла через лесные массивы, но среди древесных пород стали появляться лиственные деревья, а затем стали преобладать дуб и липа. Постепенно леса можно было наблюдать лишь в долинах рек и в виде перелесков среди огромных распаханых пространств. Наше путешествие закончилось на реке Белой в одном из крупнейших городов России, столице одной из республик.

По территории каких природных зон проходил маршрут?

Ответ. _____

Какие проблемы, связанные с влиянием деятельности человека на природу, были зафиксированы туристами в их дневнике?

Ответ. _____

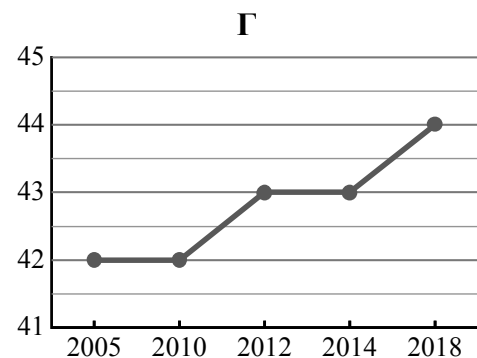
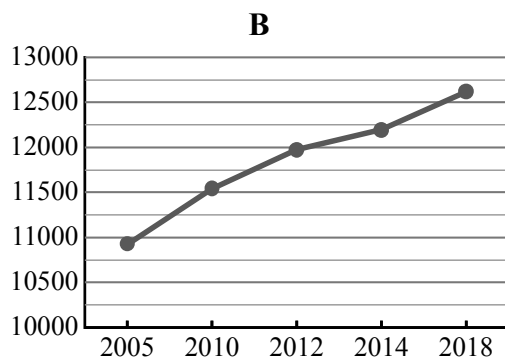
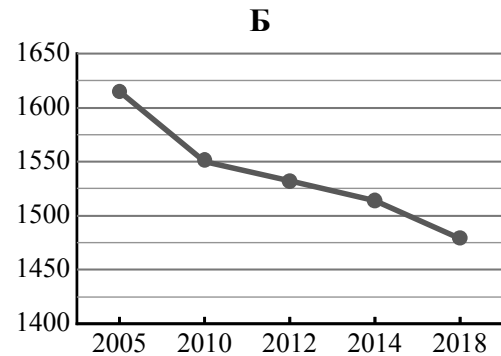
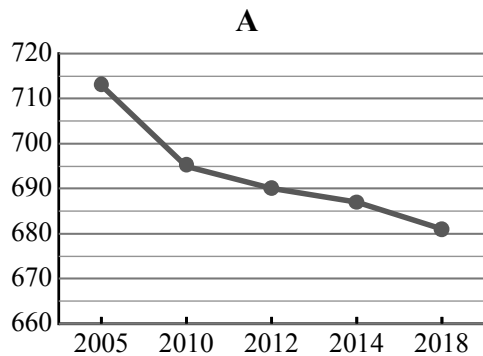


7

Используя представленную ниже таблицу и графики динамики численности населения по субъектам Российской Федерации за период 2005–2018 гг., выполните задания.

Динамика численности населения, тыс. человек

№ п/п	Субъекты РФ	2005 г.	2010 г.	2012 г.	2014 г.	2018 г.
1	Ненецкий автономный округ	42	42	43	43	44
2	Республика Марий Эл	713	695	690	687	681
3	Тульская область	1615	1550	1532	1514	1479
4	г. Москва	10924	11541	11980	12197	12615



7.1. Определите, какому субъекту Российской Федерации соответствует каждый график динамики численности населения. Запишите в ответе **порядковые номера** субъектов Российской Федерации под соответствующими буквами.

Ответ.

А	Б	В	Г

7.2. В каких из приведённых в таблице субъектов Российской Федерации численность населения за указанный период снизилась?

Ответ. _____

7.3. В каком из приведённых в таблице субъектов Российской Федерации рост численности населения за указанный период был наибольшим? (При необходимости Вы можете воспользоваться калькулятором.)

Ответ. _____

8

Школьники – члены клуба юных географов, участвовали в проекте «Географическая экспедиция по родному краю». Цель экспедиции, основные вопросы, поставленные перед экспедицией, и результаты исследований они оформили в виде приведённой ниже таблицы. Выполните задания и заполните таблицу.

Цель экспедиции: изучение природы своего региона		
Название региона (субъекта РФ): _____		
Административный центр: _____		
Вопросы	Специальность	Результаты исследований
1. Какие значения климатических показателей характеризуют особенности климата региона?		
2. Какие представители флоры и фауны распространены/обитают на территории региона?		
3. Представители каких народностей проживают на территории региона?		

8.1. Запишите в таблицу название своего региона (субъекта РФ) и название его административного центра.



Выделите штриховкой на карте России, приведённой на странице 10, свой регион.



8.2. В ходе проекта школьники разбились на три группы, каждая из которых представляла одну из географических специальностей и проводила исследования в рамках одного из вопросов. Выберите из предложенного списка названия географических специальностей и запишите их в соответствующие ячейки таблицы.



*Гидрология, биогеография, почвоведение, экология, этнография, климатология,
ландшафтоведение, экономическая география, геоморфология, картография.*



8.3. Сформулируйте краткие ответы на вопросы, поставленные перед экспедицией, и запишите их в графу таблицы «Результаты исследований».

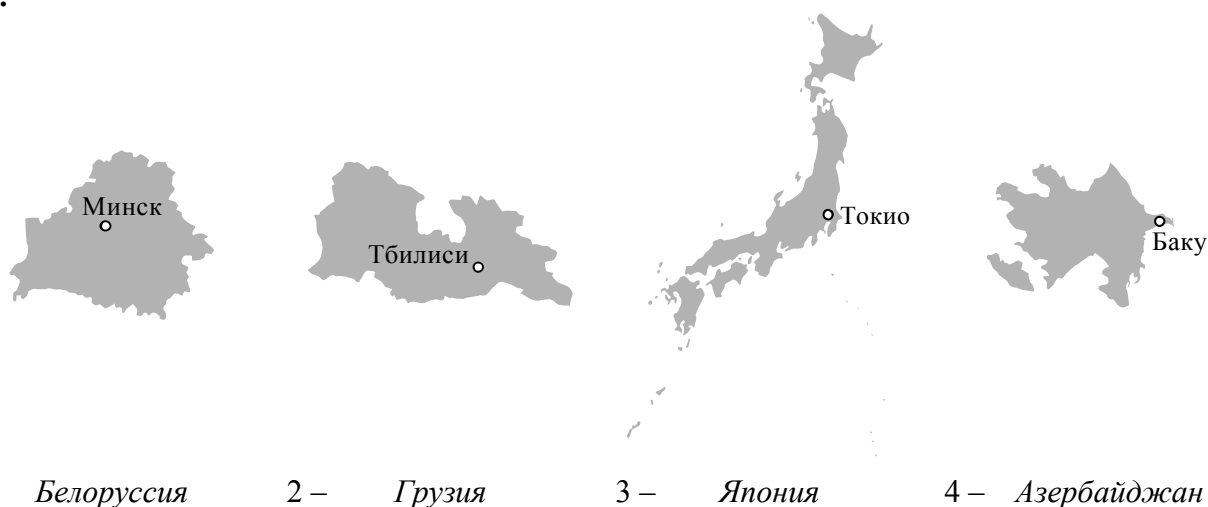
Система оценивания проверочной работы

Полный правильный ответ на каждое из заданий 1.2, 5.1, 7.2, 7.3 оценивается 1 баллом. Если в ответе допущена хотя бы одна ошибка (один из элементов ответа записан неправильно или не записан), выставляется 0 баллов.

Полный правильный ответ на каждое из заданий 1.3, 2.1, 3.3, 5.3, 7.1 оценивается 2 баллами. Если в ответе допущена одна ошибка, или перепутаны местами две цифры/буквы в ответах на задания 1.3 и 7.1, выставляется 1 балл; если допущено две или более ошибки – 0 баллов.

1

1.1.



Содержание верного ответа и указания по оцениванию	Баллы
<p>Правильный ответ должен содержать следующие элементы:</p> <p>1) <u>подписи названий стран</u> под рисунками: 1 – Белоруссия; 2 – Грузия; 3 – Япония; 4 – Азербайджан;</p> <p>2) <u>вписанные номера стран</u> на схеме</p>	
Правильно подписаны названия четырёх стран, вписаны номера четырёх стран	3
<p>Правильно подписаны названия трёх стран; правильно вписаны номера трёх-четырёх стран.</p> <p>ИЛИ Правильно подписаны названия трёх-четырёх стран; правильно вписаны номера двух стран / перепутаны местами номера двух стран</p>	2
<p>Правильно подписаны названия двух стран; правильно вписаны номера этих двух стран.</p> <p>ИЛИ Правильно подписаны названия трёх-четырёх стран; правильно вписан номер только одной страны / ни одного номера не вписано правильно</p>	1
<p>Правильно подписаны названия двух стран; правильно вписан номер только одной страны / номера стран не вписаны / вписаны неправильно.</p> <p>ИЛИ Правильно подписано название только одной страны независимо от наличия/отсутствия вписанных номеров стран.</p> <p>ИЛИ Названия стран не подписаны / подписаны неправильно независимо от наличия/отсутствия вписанных номеров стран.</p> <p>ИЛИ Ответ неправильный</p>	0
<i>Максимальный балл</i>	3

1.2	Япония
1.3	2431 <i>Если за выполнение задания 1.1 выставлено 0 баллов, результат выполнения данного задания не засчитывается</i>

2

2.1	А – острова Новая Земля Б – Чукотское море В – Чёрное море Г – Шантарские острова
-----	--

2.2.

Содержание верного ответа и указания по оцениванию	Баллы
Правильный ответ должен содержать следующие <u>элементы</u> : 1) <u>точку К</u> на карте (крайняя южная точка России на меридиане 55° в.д.); 2) <u>координаты</u> точки К: 51° с.ш. 55° в.д.; 3) <u>расстояние</u> от точки N до точки К: 2226 км	
Правильно поставлена точка К на карте, определены её координаты, рассчитано расстояние. <i>При определении координат допускается погрешность в 1°. При расчёте расстояния допускается соответствующая погрешность в километрах</i>	2
Правильно поставлена точка К на карте, определены её координаты; расстояние не рассчитано / рассчитано неправильно	1
Правильно поставлена точка К на карте; координаты точки не определены / определены неправильно независимо от наличия/отсутствия расчёта расстояния. ИЛИ Точка К на карте не поставлена / поставлена неправильно независимо от наличия/отсутствия определения координат и расчёта расстояния	0
<i>Максимальный балл</i>	2

3

3.1.

Содержание верного ответа и указания по оцениванию	Баллы
<p>Правильный ответ должен содержать <u>заполненную схему</u> с вписанными в неё географическими названиями форм рельефа.</p> <div style="display: flex; justify-content: space-around; align-items: center;"> <div style="text-align: center;"> <div style="border: 1px solid black; padding: 5px; width: 150px;">хребет</div> <div style="border: 1px solid black; padding: 5px; width: 150px; margin-top: 20px;">Срединный</div> </div> <div style="text-align: center;"> <div style="border: 1px solid black; padding: 5px; width: 150px;">низменность</div> <div style="border: 1px solid black; padding: 5px; width: 150px; margin-top: 20px;">Барабинская</div> </div> <div style="text-align: center;"> <div style="border: 1px solid black; padding: 5px; width: 150px;">плато</div> <div style="border: 1px solid black; padding: 5px; width: 150px; margin-top: 20px;">Путорана</div> </div> </div>	
Схема заполнена правильно	2
При заполнении схемы допущена одна ошибка	1
При заполнении схемы допущены две или более ошибки. ИЛИ Ответ неправильный	0
<i>Максимальный балл</i>	2

3.2.

Содержание верного ответа и указания по оцениванию	Баллы
<p>Правильный ответ должен содержать следующие элементы: 1) запись <u>названия географического объекта</u>: Срединный хребет; 2) указание <u>фотографии</u>: Б</p>	
Правильно записано название географического объекта, указана фотография	2
Правильно записано название географического объекта; фотография не указана / указана неправильно	1
Название географического объекта не записано / записано неправильно независимо от указания фотографии. ИЛИ Ответ неправильный	0
<i>Максимальный балл</i>	2

3.3	236 (в любой последовательности)
------------	-------------------------------------

4

4.1.

Содержание верного ответа и указания по оцениванию	Баллы
<p>Правильный ответ должен содержать текст с <u>заполненными</u> пропусками.</p> <p>Индигирка – река, протекающая по территории Республики Саха (Якутия), протяжённостью <u>1726 км</u>. По площади водосборного бассейна Индигирка уступает таким рекам региона, как Лена и Колыма. Река относится к бассейну Северного Ледовитого океана. Начинается Индигирка на северных склонах <u>Халканского хребта</u> на высоте <u>792 м</u> над уровнем моря, а впадает в <u>Восточно-Сибирское море</u>. Устье Индигирки находится на высоте <u>0 м</u> над уровнем моря. Таким образом, падение реки составляет <u>792 м</u>, а её уклон – <u>45,9 см/км</u>. Верховья реки находятся в горной местности, поэтому скорость течения здесь большая и достигает 4 м/с. Ниже по течению Индигирка превращается в <u>равнинную</u> реку. Бассейн Индигирки расположен в области развития многолетней мерзлоты, в связи с чем для всех рек на его территории характерно образование гигантских наледей. Питание Индигирки <u>смешанное</u> с преобладанием <u>снегового</u>. Замерзает река в <u>октябре</u>, а вскрывается ото льда в конце мая, поэтому для Индигирки характерно <u>летнее</u> половодье. На Индигирке расположен «полюс холода» Северного полушария – посёлок Оймякон</p>	
Все пропуски в тексте заполнены правильно	2
При заполнении пропусков допущены одна-две ошибки / один-два пропуска не заполнены	1
При заполнении пропусков допущены три или более ошибки / три или более пропуска не заполнены. ИЛИ Ответ неправильный	0
<i>Максимальный балл</i>	2

4.2.

Содержание верного ответа и указания по оцениванию	Баллы
<p>Правильный ответ должен содержать <u>подписи на карте названий пяти водных объектов</u>: реки – Индигирка, Лена, Колыма; Восточно-Сибирское море, Северный Ледовитый океан</p>	
Правильно подписаны четыре-пять водных объектов	2
Правильно подписаны три любых водных объекта	1
Правильно подписаны один-два водных объекта. ИЛИ Водные объекты не подписаны / подписаны неправильно	0
<i>Максимальный балл</i>	2

5

5.1	А – умеренный / муссонный Б – субарктический
------------	---

5.2.

Содержание верного ответа и указания по оцениванию		Баллы												
<p>Правильный ответ должен содержать <u>следующие элементы</u>:</p> <p>1) <u>указание климатического пояса / типа климата</u>: субарктический;</p> <p>2) <u>заполненную таблицу</u> с климатическими показателями:</p> <table border="1" style="width: 100%; border-collapse: collapse; text-align: center;"> <thead> <tr> <th colspan="2">Средняя температура воздуха, °С</th> <th rowspan="2">Годовая амплитуда температур, °С</th> <th rowspan="2">Годовое количество осадков, мм</th> <th rowspan="2">Месяц, на который приходится наибольшее количество осадков</th> </tr> <tr> <th>в январе</th> <th>в июле</th> </tr> </thead> <tbody> <tr> <td>-11</td> <td>+13</td> <td>24</td> <td>481</td> <td>август</td> </tr> </tbody> </table> <p><i>При определении средних температур допускается погрешность в 1 °С</i></p>		Средняя температура воздуха, °С		Годовая амплитуда температур, °С	Годовое количество осадков, мм	Месяц, на который приходится наибольшее количество осадков	в январе	в июле	-11	+13	24	481	август	
Средняя температура воздуха, °С		Годовая амплитуда температур, °С	Годовое количество осадков, мм				Месяц, на который приходится наибольшее количество осадков							
в январе	в июле													
-11	+13	24	481	август										
Правильно указан климатический пояс / тип климата, заполнена таблица		2												
Правильно указан климатический пояс / тип климата; в таблице допущена одна ошибка		1												
Правильно указан климатический пояс / тип климата; в таблице допущены две или более ошибки / таблица не заполнена. ИЛИ Климатический пояс / тип климата не указан / указан неправильно независимо от заполнения таблицы. ИЛИ Ответ неправильный		0												
<i>Максимальный балл</i>		2												




5.3	146 (в любой последовательности)
------------	-------------------------------------

6

6.1.

Содержание верного ответа и указания по оцениванию				Баллы
Правильный ответ должен содержать <u>следующие</u> элементы: 1) указание в таблице <u>субъектов Российской Федерации (РФ)</u> :				
Опорная точка маршрута	А	Б	В	
Субъект РФ	<i>Калининградская область</i>	<i>Республика Коми</i>	<i>Республика Башкортостан</i>	
2) подписи городов на карте: А – Калининград; Б – Сыктывкар; В – Уфа				
Правильно указаны три субъекта РФ, подписаны три города				2
Правильно указаны три субъекта РФ; правильно подписаны один-два города. ИЛИ Правильно указаны два субъекта РФ; правильно подписаны два-три города				1
Правильно указаны два субъекта РФ; правильно подписан только один город. Правильно указаны два-три субъекта РФ; города подписаны неправильно / не подписаны. ИЛИ Правильно указан только один субъект РФ / субъекты РФ указаны неправильно / не указаны независимо от подписи городов. ИЛИ Ответ неправильный				0
<i>Максимальный балл</i>				2

6.2.

	
 город _____ <i>Калининград</i> _____	 город _____ <i>Сыктывкар</i> _____
Время вылета – 18:00	Время прилёта – _____ <i>22:00</i> _____
Расчётное время полёта – 3 часа	
	

Содержание верного ответа и указания по оцениванию	Баллы
Правильный ответ должен содержать изображение авиабилета <u>с заполненными пропусками</u>	
Правильно заполнены все пропуска	1
Правильно заполнены только один-два пропуска. ИЛИ Все пропуска заполнены неправильно / не заполнены	0
<i>Максимальный балл</i>	1

6.3.

Содержание верного ответа и указания по оцениванию	Баллы
Правильный ответ должен содержать <u>ответы на два вопроса</u>	
Ответ на первый вопрос	1
Природные зоны: тайга, смешанный лес, широколиственный лес, лесостепь	
Правильно указаны три-четыре природные зоны	1
Правильно указаны только одна-две природные зоны. ИЛИ Природные зоны не указаны. ИЛИ Ответ неправильный	0
Ответ на второй вопрос	1
Проблемы, связанные с влиянием деятельности человека на природу: вырубка лесов, большое потребление пресной воды, загрязнение рек, образование болот, сплошная распашка территории. <i>Ответ на второй вопрос может быть приведён в иной, близкой по смыслу формулировке</i>	1
Правильно указано не менее трёх проблем	1
Правильно указаны одна-две проблемы. ИЛИ Ни одной проблемы не указано. ИЛИ Ответ неправильный	0
<i>Максимальный балл</i>	2

7

7.1	2341
7.2	Республика Марий Эл и Тульская область ИЛИ 23 (в любой последовательности)
7.3	г. Москва ИЛИ 4

8

8.1.

Содержание верного ответа и указания по оцениванию	Баллы
Правильный ответ должен содержать следующие элементы: 1) запись в таблице названий региона (субъекта РФ) и его административного центра; 2) <u>выделение региона на карте</u>	
Правильно записаны названия региона и его административного центра, правильно выделен регион на карте	1
Правильно записаны названия региона и его административного центра, регион на карте не выделен / выделен неправильно. ИЛИ Правильно записано только название региона / только административного центра независимо от выделения региона на карте. ИЛИ Названия региона и его административного центра не записаны / записаны неправильно независимо от выделения региона на карте. ИЛИ Ответ неправильный	0
<i>Максимальный балл</i>	1

8.2.

Содержание верного ответа и указания по оцениванию		Баллы
Правильный ответ должен содержать указание <u>географических специальностей</u> в соответствующих ячейках таблицы.		
Вопросы	Специальность	
1. Какие значения климатических показателей характеризуют особенности климата региона?	<i>Климатология</i>	
2. Какие представители флоры и фауны распространены / обитают на территории региона?	<i>Биогеография</i>	
3. Представители каких народностей проживают на территории региона?	<i>Этнография</i>	
Правильно указаны три географические специальности		2
Правильно указаны две географические специальности		1
Правильно указана только одна географическая специальность. ИЛИ Ни одной географической специальности не указано / не указано правильно		0
<i>Максимальный балл</i>		2

8.3.

Содержание верного ответа и указания по оцениванию		Баллы
Правильный ответ должен содержать <u>заполненную графу</u> таблицы «Результаты исследований», содержащую ответы на три вопроса. <i>В ответах на вопросы, в которых требуется указать несколько объектов, следует засчитывать указание двух или более объектов</i>		
Правильно даны ответы на три вопроса		3
Правильно даны ответы на два любых вопроса; в ответе на один из вопросов содержатся ошибки / ответ на один из вопросов не представлен		2
Правильно дан ответ только на один любой вопрос; в ответах на остальные вопросы содержатся ошибки / ответы на остальные вопросы не представлены		1
Ответ неправильный		0
<i>Максимальный балл</i>		3

Система оценивания выполнения всей работы

Максимальный балл за выполнение работы – **40**.

Рекомендации по переводу первичных баллов в отметки по пятибалльной шкале

Отметка по пятибалльной шкале	«2»	«3»	«4»	«5»
Первичные баллы	0 – 12	13 – 26	27 – 34	35 – 40