

ВСЕРОССИЙСКАЯ ПРОВЕРОЧНАЯ РАБОТА**БИОЛОГИЯ
11 КЛАСС****Вариант 1****Инструкция по выполнению работы**

Проверочная работа состоит из одной части и включает в себя 14 заданий. На выполнение работы по биологии отводится 1 час 30 минут (90 минут).

Ответом к заданиям является последовательность цифр, число, слово (словосочетание) или короткий свободный ответ, который записывается в отведённом для этого месте работы. В случае записи неверного ответа зачеркните его и запишите рядом **новый**.

При выполнении заданий Вы можете пользоваться черновиком. Записи в черновике не учитываются при оценивании работы. Советуем выполнять задания в том порядке, в котором они даны. Для экономии времени пропускайте задание, которое не удаётся выполнить сразу, и переходите к следующему. Если после выполнения всей работы у Вас останется время, Вы сможете вернуться к пропущенным заданиям.

Баллы, полученные Вами за выполненные задания, суммируются.

Постарайтесь выполнить как можно больше заданий и набрать наибольшее количество баллов.

Желаем успеха!

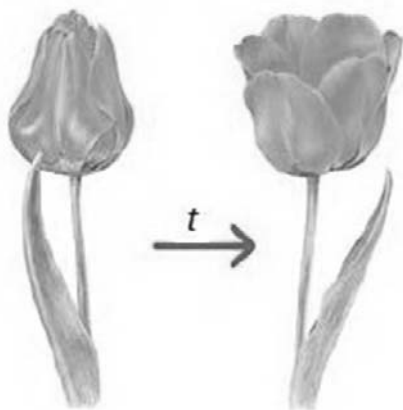
Таблица для внесения баллов участника

Номер задания	1.1	1.2	2.1	2.2	2.3	3	4	5	6.1	6.2	7	8	9	10.1	10.2	11.1	11.2	12.1	12.2
Баллы																			

Номер задания	12.3	13	14	Сумма баллов	Отметка за работу
Баллы					

1

В изображённом на рисунке опыте тюльпан из холодного помещения переносят в более теплое, и через некоторое время происходит распускание бутона.



1.1. Какое свойство живых систем иллюстрирует этот опыт?

Ответ: _____

1.2. Приведите пример процесса, иллюстрирующего подобное свойство у животных.

Ответ: _____

2

Изучите фрагмент экосистемы, представленный на рисунке, и выполните задания.

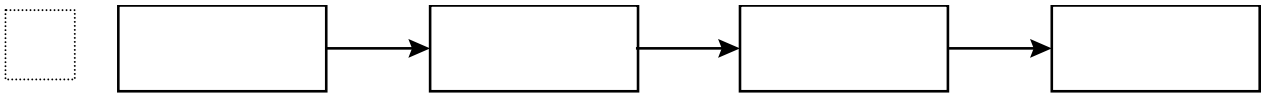


2.1. Выберите из приведённого ниже списка два понятия или термина, которые можно использовать для **экологического описания лесной дикой кошки** в экосистеме.

- 1) продуцент
- 2) детритофаг
- 3) плотоядное животное
- 4) консумент
- 5) паразит

□ Ответ:

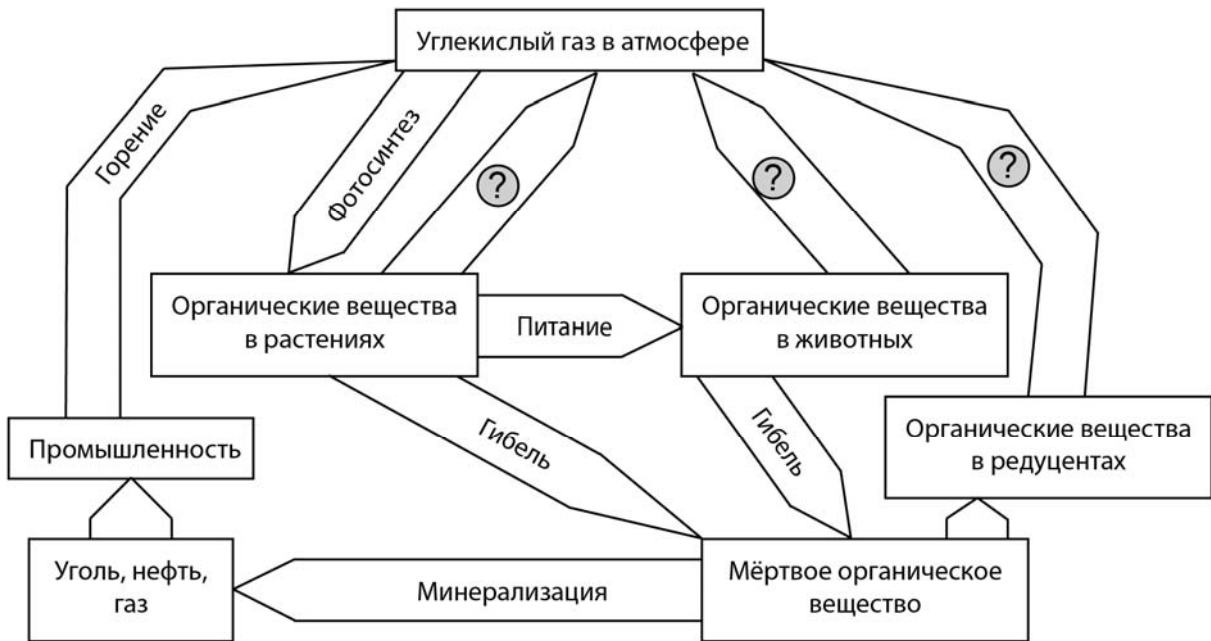
2.2. Составьте пищевую цепь из четырёх организмов, в которую входит кролик. В ответе запишите последовательность букв.



2.3. Правило гласит: «только 10% энергии поступает от каждого предыдущего трофического уровня к последующему». Рассчитайте количество энергии (в кДж), которое перейдёт на уровень совы при первичной годовой продукции экосистемы 370000 кДж. Объясните свои расчёты.

□ Ответ: _____

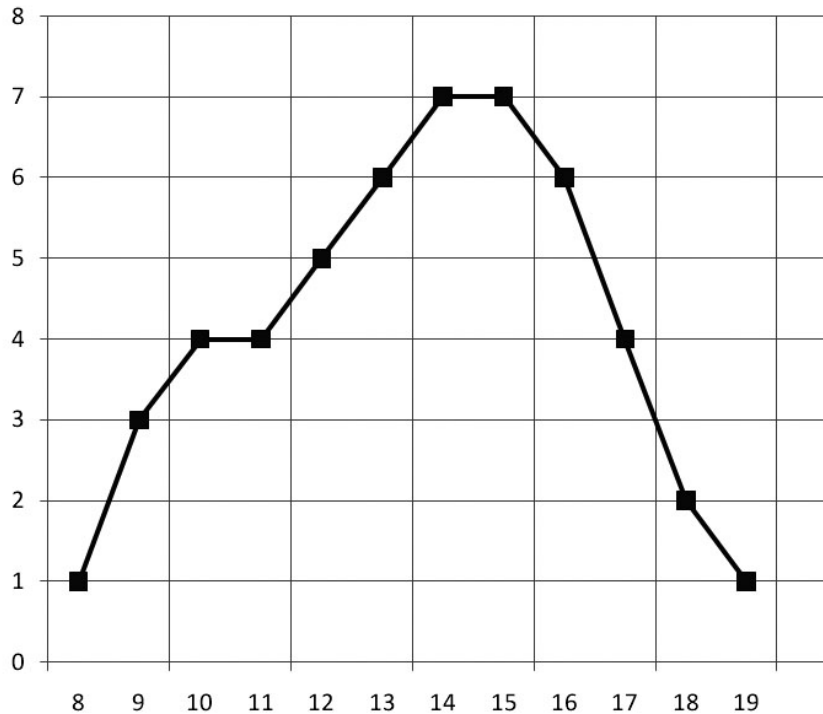
3. Рассмотрите рисунок, на котором представлена схема круговорота углерода в природе. Название какого процесса должно быть написано на месте вопросительного знака?



□ Ответ: _____

4

Михаил изучал вариации длины семян у тыквы. По результатам измерений длины различных семян Михаил построил график (по оси x отложена длина семян (в мм), а по оси y – частота встречаемости семян (в усл. ед.)).



Какая длина семян у наибольшего числа растений?

Ответ: _____

5

Установите последовательность соподчинения элементов биологических систем, начиная с наибольшего.

Элементы:

- 1) зона всасывания
- 2) корневой волосок
- 3) корень
- 4) клеточное ядро
- 5) покровная ткань
- 6) корневая система

Запишите в таблицу соответствующую последовательность цифр.

Ответ:

--	--	--	--	--	--

6

6.1. Белки выполняют множество важных функций в организме человека и животных. Они обеспечивают организм строительным материалом, являются биологическими катализаторами или регуляторами, обеспечивают движение, некоторые транспортируют кислород. Для того чтобы организм не испытывал проблем, человеку в сутки необходимо 100–120 г белков.

Продукты	Содержание белков, г/100 г продукта	Продукты	Содержание белков, г/100 г продукта
Кефир	3,4	Сметана	3,3
Молоко коровье	3,3	Сырки творожные сладкие	18,7
Творог обезжиренный	16,8	Хлеб	13,2
Сыр голландский	24,9	Кетчуп	1
Масло сливочное несолёное	0,5	Крупа гречневая	12,6
Капуста белокочанная	1,4	Вермишель из твёрдых сортов пшеницы	10,4
Мясо свиное жирное	14,5	Горох шлифованный	20,5
Рыба свежая (сазан)	8,6	Печень	16,7

Используя данные таблицы, рассчитайте количество белков, которое человек получил во время завтрака, если в его рационе было 60 г сладких творожных сырков, 30 г хлеба, 40 г голландского сыра и 10 г несолёного сливочного масла. Ответ округлите до целых.

Ответ: _____

6.2. До каких конечных продуктов расщепляются белки пищи?

Ответ: _____

7

Определите происхождение болезней, приведённых в списке. Запишите номер каждой из болезней в списке в соответствующую ячейку таблицы. В ячейках таблицы может быть записано несколько номеров.

Список болезней человека:

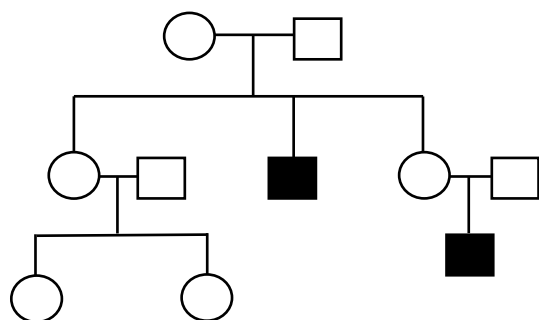
- 1) герпес
- 2) базедова болезнь
- 3) малярия
- 4) алкоголизм
- 5) полидактилия (шестипалость)

Наследственное заболевание (генное)	Приобретённое заболевание	
	Инфекционное	Неинфекционное

8

В медицинской генетике широко используется **генеалогический метод**. Он основан на составлении родословной человека и изучении наследования того или иного признака. В подобных исследованиях используются определённые обозначения. Изучите фрагмент родословного древа одной семьи, у некоторых членов которой отмечается дальтонизм.

Фрагмент родословного древа семьи



- Условные обозначения:
- – женщина
 - – мужчина
 - — □ – брак
 - — □ – дети одного брака
 - ● – проявление исследуемого признака

Используя предложенную схему, определите: доминантный или рецессивный данный признак и сцеплен ли он с половыми хромосомами.

Ответ: _____

9

У темноволосых родителей (доминантный признак (А)) родился светловолосый сын. Определите генотипы членов семьи по указанному признаку.

Ответы занесите в таблицу.

Мать	Отец	Сын

10

Алиса решила сдать кровь в качестве донора. При заборе крови ей определили группу, и выяснилось, что у Алисы четвёртая группа. Алиса знает, что у её матери вторая группа крови.

		Группа крови отца				
		I (0)	II (A)	III (B)	IV (AB)	
Группа крови матери	I (0)	I (0)	I (0) II (A)	I (0) III (B)	II (A) III (B)	Группа крови ребёнка
	II (A)	I (0) II (A)	I (0) II (A)	любая	II (A) III (B) IV (AB)	
	III (B)	I (0) III (B)	любая	I (0) III (B)	II (A) III (B) IV (AB)	
	IV (AB)	II (A) III (B)	II (A) III (B) IV (AB)	II (A) III (B) IV (AB)	II (A) III (B) IV (AB)	

10.1. Какой группы может быть кровь у отца Алисы?



Ответ: _____

10.2. Руководствуясь правилами переливания крови, определите, может ли Алиса быть донором крови для своей подруги, если у неё вторая группа крови.

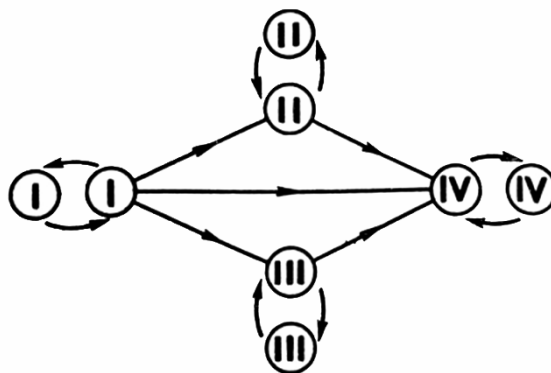


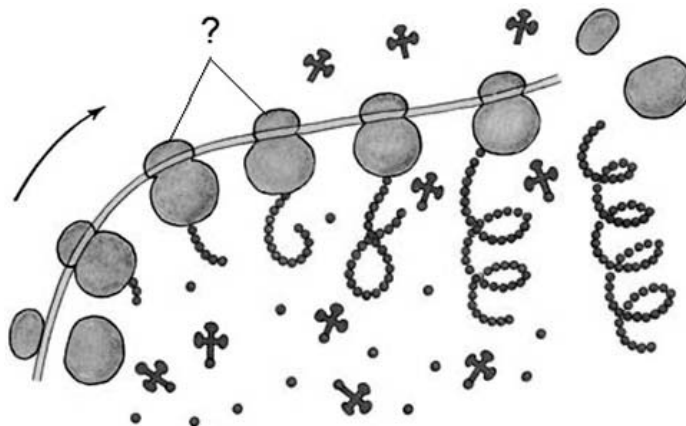
Рис. Правила переливания крови



Ответ: _____

11

На рисунке изображена полисома. Эта структура выполняет важнейшую роль в реализации наследственной информации в клетке.



11.1. Какие органоиды, обозначенные вопросительным знаком, образуют полисому?

Ответ: _____

11.2. Объясните, какой процесс происходит на полисоме и с какой целью органоиды объединяются в эту структуру.

Ответ: _____

12

Фрагмент транскрибируемой цепи молекулы ДНК имеет следующую последовательность:

АТААЦЦГЦТГТАТЦГ

Определите последовательность участка иРНК, матрицей для синтеза которого послужил этот фрагмент ДНК, и аминокислотную последовательность белка, которая кодируется этим фрагментом ДНК. При выполнении задания воспользуйтесь правилом комплементарности и таблицей генетического кода.

Таблица генетического кода (и-РНК)

Первое основание	Второе основание				Третье основание
	У	Ц	А	Г	
У	Фен	Сер	Тир	Цис	У
	Фен	Сер	Тир	Цис	Ц
	Лей	Сер	—	—	А
	Лей	Сер	—	Три	Г
Ц	Лей	Про	Гис	Арг	У
	Лей	Про	Гис	Арг	Ц
	Лей	Про	Глн	Арг	А
	Лей	Про	Глн	Арг	Г
А	Иле	Тре	Асн	Сер	У
	Иле	Тре	Асн	Сер	Ц
	Иле	Тре	Лиз	Арг	А
	Мет	Тре	Лиз	Арг	Г
Г	Вал	Ала	Асп	Гли	У
	Вал	Ала	Асп	Гли	Ц
	Вал	Ала	Глу	Гли	А
	Вал	Ала	Глу	Гли	Г

Правила пользования таблицей

Первый нуклеотид в триплете берётся из левого вертикального ряда, второй – из верхнего горизонтального ряда и третий – из правого вертикального. Там, где пересекутся линии, идущие от всех трёх нуклеотидов, и находится искомая аминокислота.

Ответ:

12.1 иРНК:

12.2 Белок:

12.3. При расшифровке генома гориллы было установлено, что во фрагменте молекулы ДНК доля аденина составляет 10%. Пользуясь правилом Чаргаффа, описывающим количественные соотношения между различными типами азотистых оснований в ДНК ($A = T, G = C$), рассчитайте количество (в %) в этой пробе нуклеотидов с гуанином.

Ответ:

13 Согласно современной эволюционной теории, существует два способа видообразования. Данные способы представлены на схеме.

Видообразование



Объясните, руководствуясь этой схемой, образование различных видов лосося, нерестящихся раз в два года в чётные (первый подвид) и в нечётные (второй подвид) годы.

Ответ: _____

14

На рисунке изображена реконструкция фороракоса – крупной нелетающей птицы, обитавшей 21–11,6 млн лет назад.



Используя фрагмент геохронологической таблицы, определите эру и период, в которые обитал данный организм. Какие преобразования ландшафта в этот период способствовали появлению и развитию этой птицы?

Геохронологическая таблица

ЭРА		Период и продолжительность (в млн лет)	Животный и растительный мир
Название и продолжительность (в млн лет)	Начало (млн лет назад)		
Кайнозойская, 67	67	Антропоген, 1,5	Появление и развитие человека. Формирование существующих растительных сообществ. Животный мир принял современный облик
		Неоген, 23,5	Господство млекопитающих и птиц. Многообразие отрядов хоботных, хищных, предков современных копытных, жирафов и крупных нелетающих птиц. Более прохладный климат послужил причиной постепенного исчезновения тропических форм. Уже хорошо прослеживается климатическая зональность, формируются открытые пространства, саванны, степи, речные долины
		Палеоген, 42	Появление хвостатых лемуринов, позднее – парапитеков, дриопитеков. Бурный расцвет насекомых. Продолжается вымирание крупных пресмыкающихся. Исчезают многие группы головоногих моллюсков. Господство покрытосеменных растений

Мезозойская, 163	230	Мел, 70	Появление высших млекопитающих и настоящих птиц, хотя зубастые птицы ещё распространены. Преобладают костистые рыбы. Сокращение многообразия папоротников и голосеменных растений. Появление и распространение покрытосеменных растений. Сокращаются площади лесов
		Юра, 58	Появление первых птиц и примитивных млекопитающих, расцвет динозавров. Господство голосеменных. Процветание головоногих моллюсков
		Триас, 35	Начало расцвета пресмыкающихся. Появление костистых рыб
Палеозойская, 295	Нет точных данных	Пермь, 55	Вымирание трилобитов. Возникновение зверозубых пресмыкающихся. Исчезновение каменноугольных лесов
		Карбон, 63	Расцвет земноводных. Появление первых пресмыкающихся. Характерно разнообразие насекомых. Расцвет гигантских хвощей, плаунов, древовидных папоротников
		Девон, 40	Быстрая эволюция рыб. В позднем девоне многие группы древних рыб вымерли. Суша подверглась нашествию множества членистоногих. Появились первые земноводные. Появились споровые хвощи и плауны
		Силур, 25	Происходит активное строительство коралловых рифов. Распространены ракоскорпионы. Растения заселяют берега водоёмов
		Ордовик, 42	Множество бесчелюстных рыб. Появляются различные виды водорослей. В конце периода появляются первые наземные растения
		Кембрий, 56	В ходе грандиозного эволюционного взрыва возникло большинство современных типов животных. В океанах и морях многообразие зелёных водорослей

Эра: _____

Период: _____

Преобразования ландшафта: _____

Ответы и критерии оценивания проверочной работы по биологии

Правильный ответ на каждое из заданий 1.1, 1.2, 3, 4, 6.1, 6.2, 8, 10.1, 10.2, 11.1, 12.1, 12.3 оценивается 1 баллом.

Полный правильный ответ на каждое из заданий 2.1, 2.2, 5, 7, 9 оценивается 2 баллами.

Если в ответе допущена одна ошибка (в том числе написана лишняя цифра или не написана одна необходимая цифра), выставляется 1 балл; если допущено две или более ошибки – 0 баллов.

Задания 2.3, 11.2, 13 и 14 оцениваются в соответствии с критериями оценивания.

Максимальный балл за работу – 32.

№	Ответы	Баллы
1.1	раздражимость	1
1.2	движение червя к пище ИЛИ ориентировочный рефлекс на звук у собаки <i>Может быть приведён любой корректный пример</i>	1
2.1	34	2
2.2	ИЗГА, ИЗБА	2
3	дыхание	1
4	14 мм ИЛИ 15 мм ИЛИ 14-15 мм	1
5	631524	2
6.1	25	1
6.2	до аминокислот	1
7	5 13 24	2
8	Признак рецессивный, сцеплен с полом	1
9	Мать – Аа; отец – Аа; сын – аа	2
10.1	III или IV	1
10.2	нет	1
11.1	Рибосомы	1
12.1	иРНК: УАУУГТТЦГАЦАУАГЦ	1
12.2	Белок: тир-три-арг-гис-сер	1
12.3	40%	1

Критерии оценивания заданий с развернутым ответом**Задание 2.3**

Содержание верного ответа и указания по оцениванию	Баллы
Правильный ответ должен содержать следующие элементы: 1) <u>ответ на вопрос</u> : 3700 кДж; 2) <u>объяснение</u> , например: в любой из пищевых цепей сова находится на уровне консумента II порядка, значит к ней приходит 0,01 (1%) от первичной годовой продукции. <i>Объяснение может быть приведено в иной, близкой по смыслу формулировке</i>	
Правильно дан ответ на вопрос, дано объяснение	2
Правильно дан только ответ на вопрос	1
Ответ на вопрос дан неправильно независимо от наличия / отсутствия объяснения	0
<i>Максимальный балл</i>	2

Задание 11.2

Содержание верного ответа и указания по оцениванию	Баллы
Правильный ответ должен содержать следующие элементы: 1) трансляция (синтез белка); 2) на рибосомах, входящих в полисому, происходит более быстрое накопление синтезированного белка (больше рибосом работает одновременно – быстрее накапливается необходимый белок)	
Ответ включает в себя все названные выше элементы	2
Ответ включает в себя один из названных выше элементов	1
Ответ неправильный	0
<i>Максимальный балл</i>	2

Задание 13

Содержание верного ответа и указания по оцениванию	Баллы
Правильный ответ должен содержать следующие элементы: 1) лосось обитал в пределах одной популяции, но имел разные сроки размножения; 2) под воздействием естественного отбора у двух подвидов формировались различные приспособительные признаки; 3) в итоге популяции лосося с различными сроками нереста перестали свободно скрещиваться (возникла репродуктивная изоляция) и стали отдельными видами	
Ответ включает в себя все названные выше элементы	3
Ответ включает в себя два из названных выше элементов ИЛИ Ответ включает в себя три названных выше элемента, но содержит биологические ошибки	2
Ответ включает в себя только один из названных выше элементов и не содержит биологических ошибок, ИЛИ ответ включает в себя два из названных выше элементов, но содержит биологические ошибки	1
Ответ неправильный	0
<i>Максимальный балл</i>	<i>3</i>

Задание 14

Содержание верного ответа и указания по оцениванию	Баллы
Правильный ответ должен содержать следующие элементы: 1) <u>эра</u> : кайнозойская; 2) <u>период</u> : неоген; 3) <u>преобразования ландшафта</u> : формирование открытых пространств, саванн, степей, речных долин	
Ответ включает в себя все названные выше элементы	2
Ответ включает в себя два из названных выше элементов	1
Ответ включает в себя один из названных выше элементов, ИЛИ ответ неправильный	0
<i>Максимальный балл</i>	<i>2</i>

Система оценивания выполнения всей работы

Максимальный балл за выполнение работы – **32**.

Рекомендуемая шкала перевода суммарного балла за выполнение ВПр в отметку по пятибалльной шкале

Отметка по пятибалльной шкале	«2»	«3»	«4»	«5»
Суммарный балл	0–10	11–17	18–24	25–32