

**Проверочная работа
по ГЕОГРАФИИ**

7 КЛАСС

Вариант 1

Инструкция по выполнению работы


На выполнение работы по географии даётся 90 минут. Работа включает в себя 8 заданий.

Ответы на задания запишите в поля ответов в тексте работы. В случае записи неверного ответа зачеркните его и запишите рядом новый.

При выполнении работы не разрешается пользоваться учебником, рабочими тетрадями, атласом и другим справочным материалом. Для выполнения задания 2 Вам потребуются калькулятор и карандаш.

При необходимости можно пользоваться черновиком. Записи в черновике проверяться и оцениваться не будут.

Советуем выполнять задания в том порядке, в котором они даны. В целях экономии времени пропускайте задание, которое не удаётся выполнить сразу, и переходите к следующему. Если после выполнения всей работы у Вас останется время, то Вы сможете вернуться к пропущенным заданиям.

Значком  отмечены задания, ответы на которые записываются на картах, приведённых на страницах 2, 11.

Желаем успеха!

Таблица для внесения баллов участника

Номер задания	1.1	1.2	1.3	1.4	2.1	2.2	2.3	3.1	3.2	3.3	3.4	4.1	4.2	4.3	5.1	5.2
Баллы																
Номер задания	6.1	6.2	6.3	7.1	7.2	8.1	8.2	8.3	Сумма баллов		Отметка за работу					
Баллы																

Задания 1–3 выполняются с использованием карты мира, приведённой на странице 2.

1

На карте мира, приведённой на странице 2, изображён маршрут экспедиции одного из путешественников, портреты которых представлены ниже. Рассмотрите карту и портреты путешественников и выполните задания.

1.1. Маршрут экспедиции кого из путешественников изображён на карте?



Н.Н. Миклухо-Маклай



Америго Веспуччи



Джон Кабот

Ответ. _____



Подпишите на карте название материка, который исследовала эта экспедиция.



1.2. На карте буквами обозначены объекты, определяющие географическое положение указанного Вами материка. Запишите в таблицу названия этих объектов.



А	Б	В	Г

1.3. По линии маршрута экспедиции отмечены точки, расположенные на территории крупных географических объектов. Определите и запишите в ответе географические координаты **точки 2**.



Ответ. _____

1.4. Прочитайте текст, составленный по запискам путешественников, исследователей и туристов, посещавших объект, на территории которого расположена **точка 2**.

Устье этой величественной реки представляет собой огромную дельту, ширина которой превышает 300 км. Здесь можно наблюдать уникальное явление природы, связанное с приливами. Воды океана с пугающим рёвом поднимаются вверх по руслу реки в виде громадной волны высотой до 4–5 м, называемой «поророка». В периоды отливов, напротив, мощный поток воды устремляется в сторону океана, размывая берега и вынося далеко в океан массу обломков горных пород. Эта самая полноводная и длинная река на Земле уникальна во всём, её поистине можно назвать одним из чудес планеты. Она протекает по территории самого большого в мире массива вечнозелёных экваториальных лесов, до сих пор хранящих немало тайн и поражающих многообразием видов обитателей. Огромное множество животных и растений в водах самой реки образуют настоящие «подводные джунгли». Только здесь можно встретить хищную речную рыбу пиранию, розового пресноводного дельфина и гигантскую кувшинку Виктория Регия.

Запишите в ответе название этого географического объекта.

Ответ. _____

2

На уроке географии Елена построила профиль рельефа Северной Америки, представленный на рисунке. Используя рисунок 1 и карту мира, приведённую на странице 2, выполните задания.

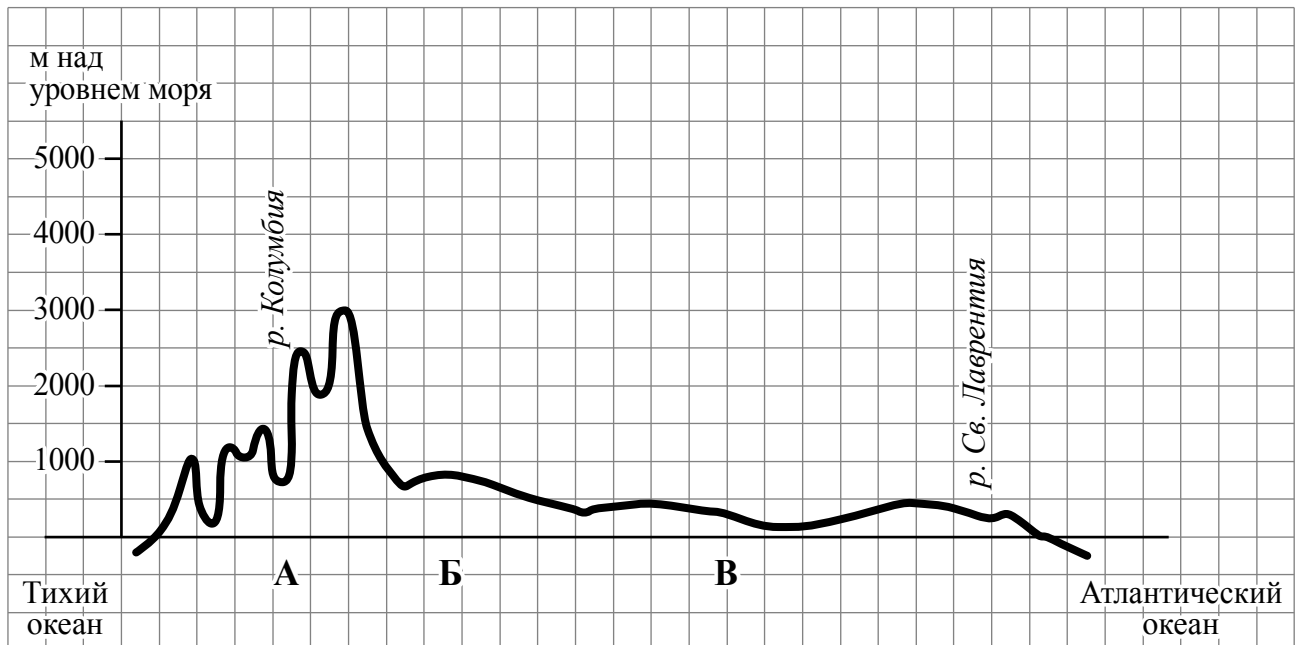


Рисунок 1

2.1. По какому из отрезков, проведённых на карте вдоль трёх параллелей, пересекающих материк Северная Америка, построен профиль рельефа, представленный на рисунке 1? Укажите в ответе значение параллели.

Ответ. _____

Определите по карте протяжённость материка Северная Америка **в градусах** по указанной Вами параллели.

Ответ. _____

Рассчитайте протяжённость материка Северная Америка по указанной Вами параллели **в километрах** с помощью приведённой ниже таблицы. (Для расчёта воспользуйтесь калькулятором.)

Широта	0°	5°	10°	15°	20°	25°	30°	35°	40°	45°
Длина дуги параллели в 1°, км	111,3	110,9	109,6	107,6	104,6	101,0	96,5	91,3	85,4	78,8
Широта	50°	55°	60°	65°	70°	75°	80°	85°	90°	
Длина дуги параллели в 1°, км	71,7	64,0	55,8	47,2	38,2	28,9	19,4	19,4	0	

Ответ. _____

2.2. Укажите географическое название крупной формы рельефа, которой соответствует участок профиля, обозначенный на рисунке 1 буквой А.

Ответ. _____

Определите наибольшую абсолютную высоту территории, через которую проходит профиль на этом участке.

Ответ. _____

2.3. На рисунке 2 представлены значки, которыми обозначаются месторождения полезных ископаемых на географических картах.




Рисунок 2

Внесите в таблицу значки, обозначающие месторождения полезных ископаемых, которые добывают на территории, обозначенной на профиле буквой А.

Урановые руды	Медные руды	Золото	Полиметаллические руды

4

Рассмотрите схему природного процесса и выполните задания.



4.1. Какой природный процесс отображён на схеме?

Ответ. _____

4.2. Установите последовательность этапов указанного Вами природного процесса. Запишите в ответе **порядковые номера** этапов.

ЭТАПЫ:

- 1) Поднявшаяся по трещинам в земной коре магма изливается на земную поверхность в виде лавы.
- 2) Раскалённая магма выделяет газы и пары воды, которые, создавая огромное давление, обеспечивают продвижение магмы от очага к земной поверхности.
- 3) В верхней мантии образуется очаг магмы.
- 4) Лава на земной поверхности охлаждается и затвердевает, образуя вулканическую породу.
- 5) При накоплении застывшей лавы формируется конусовидная гора с кратером на вершине, через который происходят последующие излияния лавы.

Ответ.

--	--	--	--	--	--

4.3. Укажите названия не менее трёх действующих вулканов.

Ответ. _____

5

5.1. Установите соответствие между географическими особенностями и материками, для которых они характерны: для этого к каждой позиции первого столбца подберите соответствующую позицию из второго столбца.

ГЕОГРАФИЧЕСКИЕ ОСОБЕННОСТИ

- А) Около половины площади материка занимают влажные экваториальные леса – сельва.
- Б) На материке находится самая высокая вершина Земли.
- В) На юго-западе материка глубоко в сушу вдаются моря, соединённые с океаном узким проливом.
- Г) Большую часть материка занимают низменности и плоскогорья, а на западе протягивается самая длинная горная цепь Земли.
- Д) Территория материка расположена во всех климатических поясах Земли.
- Е) На материке находится самое высокогорное озеро мира.

МАТЕРИКИ

- 1) Южная Америка
- 2) Евразия

Запишите в таблицу выбранные цифры под соответствующими буквами.

□

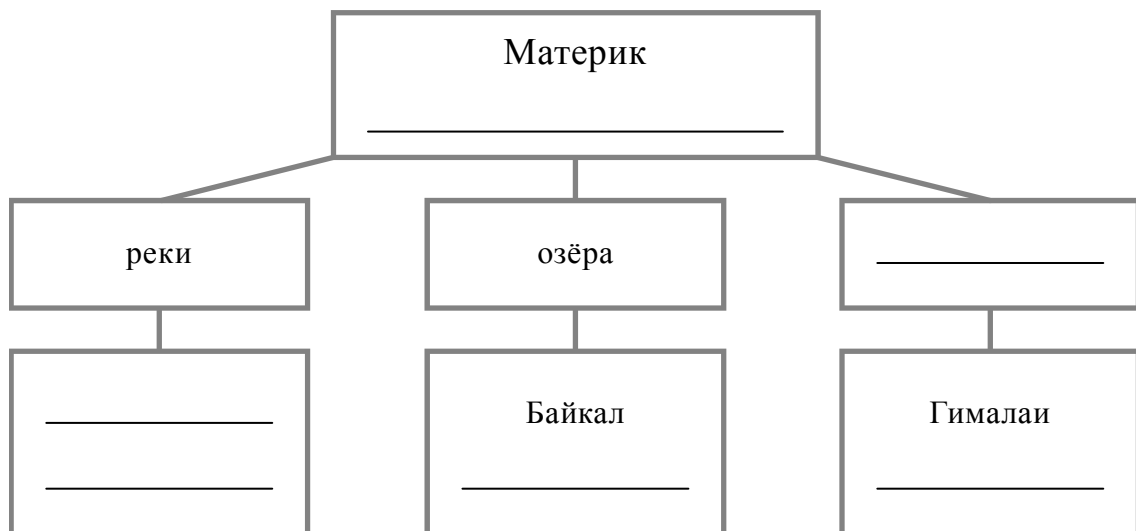
Ответ.

А	Б	В	Г	Д	Е

5.2. В приведённом ниже списке перечислены крупные географические объекты. Выберите из списка названия географических объектов, расположенных на территории одного из указанных в задании 5.1 материков, и заполните схему. Впишите в схему название материка, типы и названия выбранных Вами географических объектов.

Альпы, Верхнее, Анды, Дарлинг, Калахари, Замбези, Янцзы, Виктория, Карибское, Обь, Аппалачи, Ладожское.

□



Задания 6 и 7 выполняются с использованием политической карты мира, приведённой на странице 11.

6


Серхио и Жан познакомились на международном фестивале театров в Италии. Серхио живёт в столице Бразилии, а Жан – в столице Франции. Подростки общаются через Интернет, и при общении им приходится учитывать разницу во времени между их городами.



6.1. На политической карте мира, приведённой на странице 11, выделите штриховкой страны, в которых живут подростки.



6.2. Часы на рисунках отображают время в городах, где живут подростки. Подпишите названия городов под соответствующими часами.




Время по Гринвичу

12:00 (полдень)



10 ноября
13:00



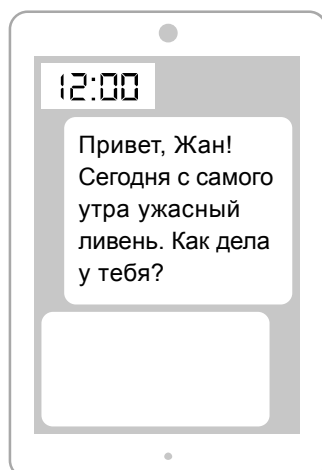
10 ноября
9:00



6.3. Серхио отправил Жану электронное сообщение в 12:00 по местному времени.

Серхио

Жан



Какое время будет отображаться в соответствующем окне на экране смартфона Жана, когда он получит сообщение от Серхио?



Ответ. _____

7

Используя представленную ниже таблицу и политическую карту мира, приведённую на странице 11, выполните задания.

Численность и религиозный состав населения, 2018 г.

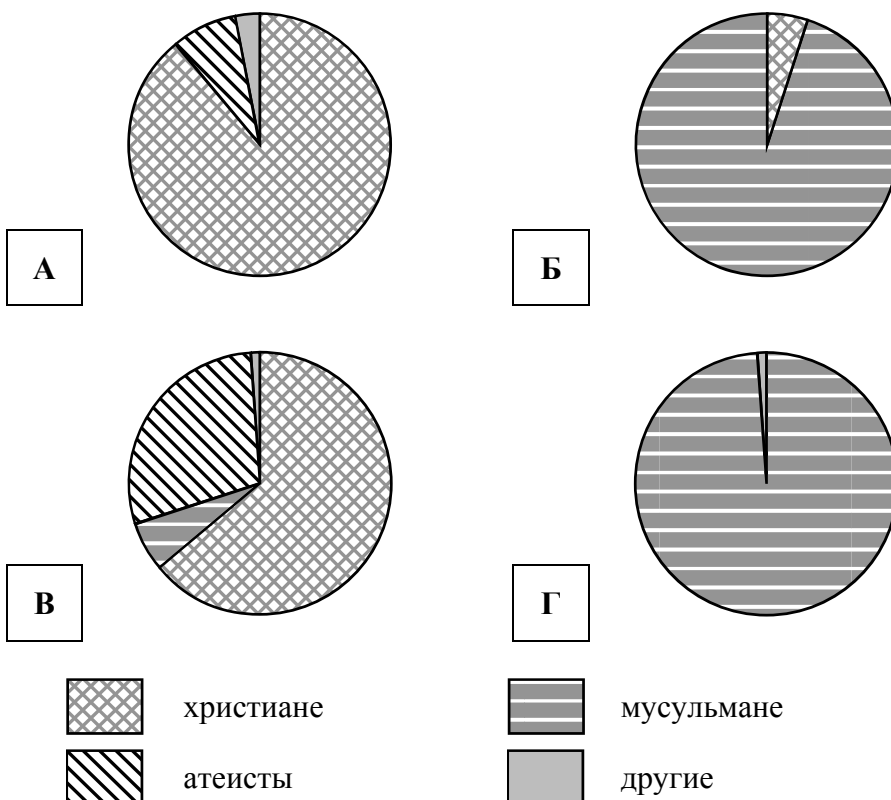
№	Страна	Численность населения, млн человек	Доля населения, %			
			Христиане	Мусульмане	Атеисты	Другие
1	Бразилия	213	89	–	8	3
2	Бельгия	11	64	6	29	1
3	Египет	99	5	95	–	–
4	Иран	83	–	99	–	1



7.1. Подпишите на политической карте мира название страны с самой большой численностью населения.



7.2. Определите, религиозный состав населения какой страны отражает каждая диаграмма. Запишите в ответе порядковые номера стран под соответствующими буквами.



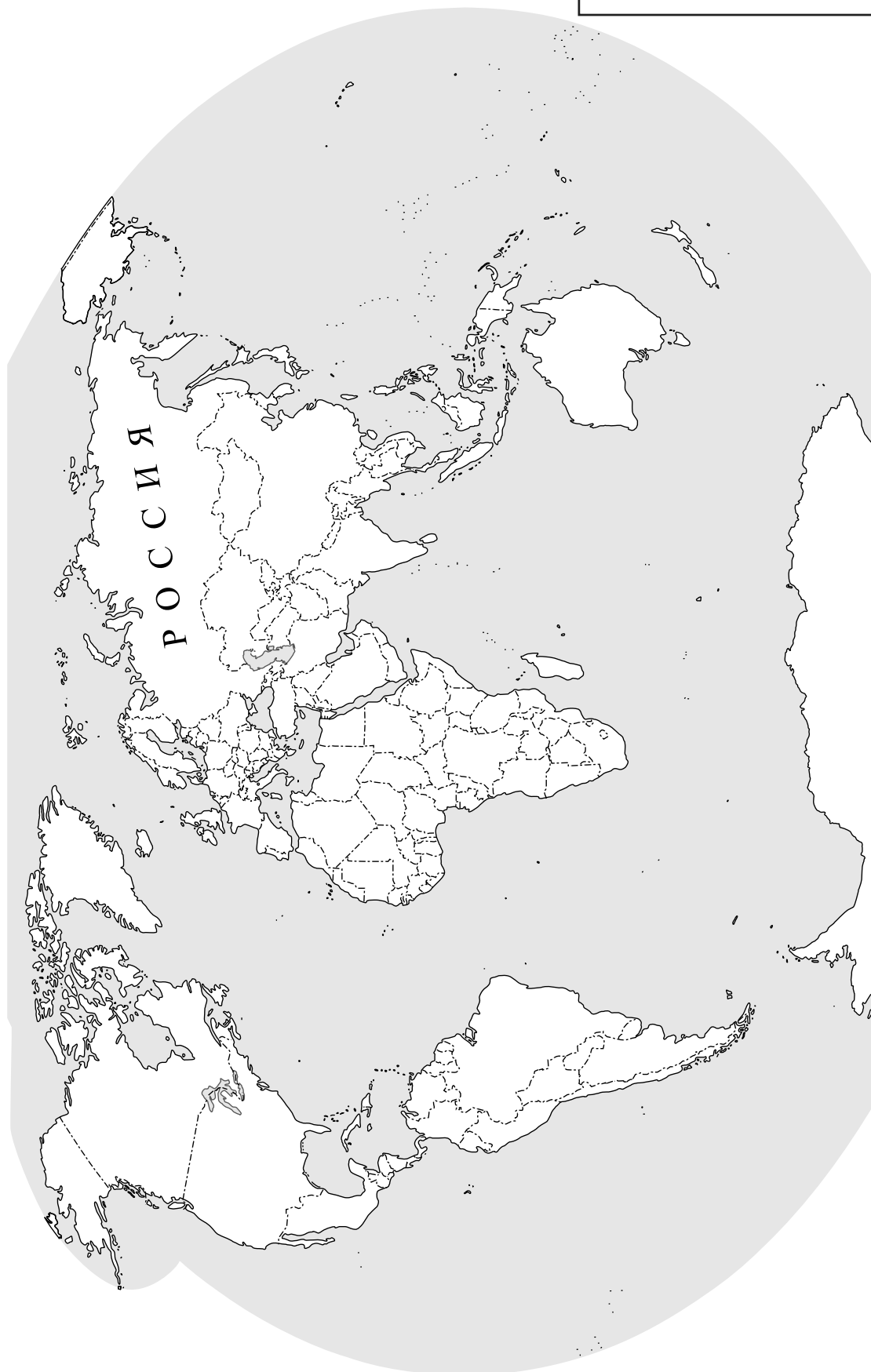
Ответ.

А	Б	В	Г

КОД



Карта для выполнения заданий 6.1, 7.1



8

Представьте, что Вам было поручено взять интервью у зарубежного сверстника, чтобы он познакомил Вас со своей страной. Для иллюстрации этого интервью Вы попросили его прислать несколько фотографий, сделанных в стране, в которой он живёт.

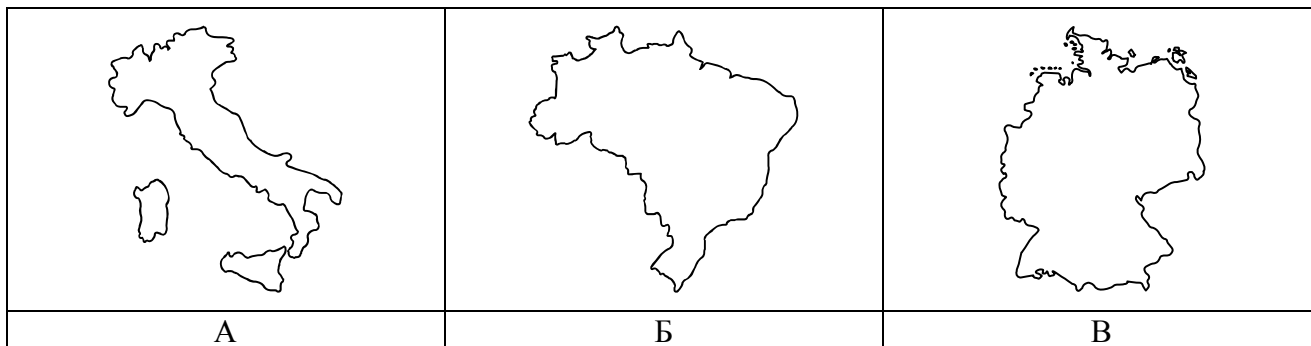
8.1. Рассмотрите фотографии и ответьте на вопросы.



В какой стране живёт Ваш сверстник?

Ответ. _____

8.2. Рассмотрите представленные ниже рисунки. Выберите рисунок с контуром страны, в которой живёт Ваш сверстник. Запишите в ответе букву, которой обозначен этот рисунок.



Ответ.

8.3. Предположите, какие ответы на вопросы о своей стране даст Ваш сверстник в ходе интервью. Запишите их в таблицу.

Вопрос	Ответ
1. В какой части света находится твоя страна?	
2. Какой океан омывает берега твоей страны?	
3. Какие реки протекают в твоей стране?	
4. Какие крупные города, кроме столицы, есть в твоей стране?	
5. Какой официальный язык в твоей стране?	
6. Какие сельскохозяйственные культуры выращивают в твоей стране?	
7. Какие достопримечательности можно посмотреть в твоей стране?	

Система оценивания проверочной работы

Полный правильный ответ на каждое из заданий 1.3, 1.4, 3.1, 4.1, 4.3, 6.3, 7.2, 8.1 и 8.2 оценивается 1 баллом. Если в ответе допущена хотя бы одна ошибка (один из элементов ответа записан неправильно или не записан), выставляется 0 баллов.

Полный правильный ответ на каждое из заданий 1.2, 4.2 и 5.1 оценивается 2 баллами. Если в ответе допущена одна ошибка или перепутаны местами две цифры в ответах на задания 4.2 и 5.1, выставляется 1 балл; если допущено две или более ошибки – 0 баллов.

1

1.1.

Содержание верного ответа и указания по оцениванию	Баллы
Правильный ответ должен содержать следующие <u>элементы</u> : 1) указание <u>путешественника</u> : Америго Веспуччи; 2) подпись <u>названия материка на карте</u> : Южная Америка	
Правильно указан путешественник, подписан материк	2
Правильно указан путешественник; название материка на карте не подписано / подписано неправильно	1
Путешественник не указан / указан неправильно независимо от подписи названия материка на карте. ИЛИ Ответ неправильный	0
<i>Максимальный балл</i>	2

1.2	А – Панамский перешеек Б – Тихий океан В – пролив Дрейка Г – Атлантический океан
1.3	0° ш. 50° з. д. (допускается погрешность в 1°)
1.4	река Амазонка / устье реки Амазонки

2













2.1.

Содержание верного ответа и указания по оцениванию	Баллы
Правильный ответ должен содержать <u>три элемента</u> : 1) <u>значение параллели</u> : 50° с. ш.; 2) <u>протяжённость материка в градусах</u> : 56° (допускается погрешность ±2°); 3) <u>протяжённость материка в километрах</u> : 4015 км (допускается соответствующая погрешность в километрах)	
Правильно указаны значение параллели, протяжённость материка в градусах и протяжённость материка в километрах	2
Правильно указаны значение параллели и протяжённость материка в градусах; протяжённость материка в километрах не указана / указана неправильно	1
Правильно указано только значение параллели; протяжённость материка в градусах и протяжённость материка в километрах не указаны / указаны неправильно. ИЛИ Ответ неправильный	0
<i>Максимальный балл</i>	2

2.2.

Содержание верного ответа и указания по оцениванию	Баллы
Правильный ответ должен содержать <u>следующие элементы</u> : 1) <u>название формы рельефа</u> : горы Кордильеры; 2) <u>абсолютная высота территории</u> : 3000 м	
Правильно названа форма рельефа и определена абсолютная высота территории	2
Правильно названа форма рельефа; абсолютная высота территории не определена / определена неправильно	1
Форма рельефа не названа / названа неправильно независимо от определения абсолютной высоты территории. ИЛИ Ответ неправильный	0
<i>Максимальный балл</i>	2

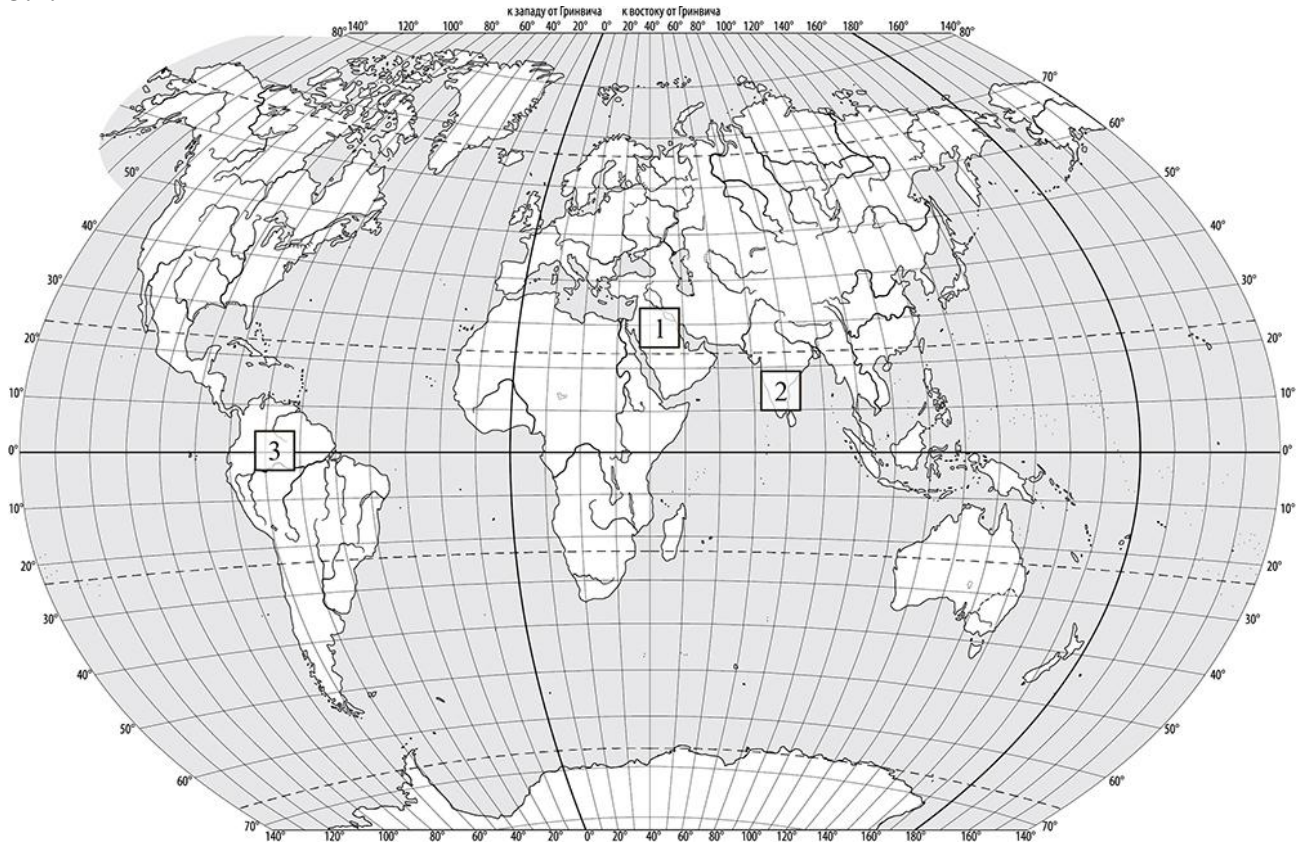
2.3.

Содержание верного ответа и указания по оцениванию	Баллы								
Правильный ответ должен содержать таблицу с внесёнными в неё значками полезных ископаемых:									
<table border="1" style="width: 100%; text-align: center;"> <thead> <tr> <th>Урановые руды</th> <th>Медные руды</th> <th>Золото</th> <th>Полиметаллические руды</th> </tr> </thead> <tbody> <tr> <td></td> <td></td> <td></td> <td></td> </tr> </tbody> </table>	Урановые руды	Медные руды	Золото	Полиметаллические руды					
Урановые руды	Медные руды	Золото	Полиметаллические руды						
									
Правильно заполнены четыре ячейки таблицы	2								
Правильно заполнены три ячейки таблицы	1								
Правильно заполнены одна-две ячейки таблицы. ИЛИ Все ячейки таблицы заполнены неправильно / не заполнены	0								
<i>Максимальный балл</i>	2								

3

3.1	1 – тропический 2 – субэкваториальный 3 – экваториальный
------------	--

3.2.



Содержание верного ответа и указания по оцениванию	Баллы
Правильный ответ должен содержать запись трёх номеров климатограмм в пустые квадраты на карте	
Правильно вписаны три номера климатограмм	1
Правильно вписан только один номер климатограммы. ИЛИ Ответ неправильный	0
<i>Максимальный балл</i>	<i>1</i>

3.3.

Содержание верного ответа и указания по оцениванию	Баллы
Правильный ответ должен содержать следующие элементы: 1) <u>название природной зоны</u> : влажные экваториальные леса; 2) <u>номер климатограммы</u> : 3	
Правильно указаны название природной зоны и номер климатограммы	2
Правильно указано название природной зоны; номер климатограммы не указан / указан неправильно	1
Название природной зоны не указано независимо от указания номера климатограммы. ИЛИ Ответ неправильный	0
<i>Максимальный балл</i>	2

3.4.

Содержание верного ответа и указания по оцениванию	Баллы												
Правильный ответ должен содержать заполненную таблицу:													
<table border="1" style="width: 100%; text-align: center;"> <thead> <tr> <th colspan="2">Средняя температура воздуха, °С</th> <th rowspan="2">Годовая амплитуда температур, °С</th> <th rowspan="2">Годовое количество осадков, мм</th> <th rowspan="2">Месяц, на который приходится наибольшее количество осадков</th> </tr> <tr> <th>в январе</th> <th>в июле</th> </tr> </thead> <tbody> <tr> <td>+28</td> <td>+28</td> <td>0</td> <td>3120</td> <td>апрель</td> </tr> </tbody> </table>	Средняя температура воздуха, °С		Годовая амплитуда температур, °С	Годовое количество осадков, мм	Месяц, на который приходится наибольшее количество осадков	в январе	в июле	+28	+28	0	3120	апрель	
Средняя температура воздуха, °С		Годовая амплитуда температур, °С				Годовое количество осадков, мм	Месяц, на который приходится наибольшее количество осадков						
в январе	в июле												
+28	+28	0	3120	апрель									
Правильно заполнены все ячейки таблицы	2												
В таблице допущена одна ошибка	1												
В таблице допущено две или более ошибки. ИЛИ Ответ неправильный	0												
<i>Максимальный балл</i>	2												

4


4.1	извержение вулкана / вулканизм
4.2	32145 <i>Если за выполнение задания 4.1 выставлено 0 баллов, результат выполнения данного задания не засчитывается</i>
4.3	Котопахи / Ключевская сопка / Фудзияма / Кракатау / Гекла / Везувий / Шивелуч <i>(1 балл ставится при указании не менее трёх объектов; допускается указание других объектов)</i> <i>Если за выполнение задания 4.1 выставлено 0 баллов, результат выполнения данного задания не засчитывается</i>

5

5.1

122121

5.2.


Содержание верного ответа и указания по оцениванию	Баллы
<p>Правильный ответ должен содержать заполненную схему с вписанными в неё названием материка, типами и названиями географических объектов.</p>  <pre> graph TD A["Материк Евразия"] --- B["реки"] A --- C["озёра"] A --- D["горы"] B --- E["Янцзы"] B --- F["Обь"] C --- G["Байкал"] C --- H["Ладожское"] D --- I["Гималаи"] D --- J["Альпы"] </pre>	
Схема заполнена правильно	3
В заполнении схемы допущена одна ошибка	2
В заполнении схемы допущены две ошибки	1
В заполнении схемы допущены три или более ошибки. ИЛИ Ответ неправильный	0
<i>Максимальный балл</i>	3

6

6.1.


Содержание верного ответа и указания по оцениванию	Баллы
Правильный ответ должен содержать <u>выделение на карте двух стран</u> : Бразилии и Франции	
Правильно выделены две страны	1
Правильно выделена только одна любая страна; вторая страна не выделена / выделена неправильно. ИЛИ Страны не выделены / выделены неправильно	0
<i>Максимальный балл</i>	<i>1</i>

6.2.




Время по Гринвичу

12:00 (полдень)

*Париж*

10 ноября

13:00

*Бразилиа*

10 ноября

9:00

Содержание верного ответа и указания по оцениванию	Баллы
Правильный ответ должен содержать <u>подписи названий двух городов</u> : Парижа (столицы Франции) и Бразилиа (столицы Бразилии)	
Правильно подписаны названия двух городов	1
Правильно подписано название только одного любого города; название второго города не подписано / подписано неправильно. ИЛИ Названия городов не подписаны / подписаны неправильно	0
<i>Максимальный балл</i>	<i>1</i>

6.3

16:00

7

7.1.

Содержание верного ответа и указания по оцениванию	Баллы
Правильный ответ должен содержать <u>подпись на карте названия страны</u> : Бразилия	
Страна на карте подписана правильно	1
Страна на карте не подписана / подписана неправильно	0
<i>Максимальный балл</i>	<i>1</i>

7.2

1324

8

8.1	в Бразилии
8.2	Б Если за выполнение задания 8.1 выставлено 0 баллов, результат выполнения данного задания не засчитывается

8.3.

Содержание верного ответа и указания по оцениванию		Баллы																
<p>Правильный ответ должен содержать ответы на семь вопросов.</p> <table border="1"> <thead> <tr> <th>Вопрос</th> <th>Ответ</th> </tr> </thead> <tbody> <tr> <td>1. В какой части света находится твоя страна?</td> <td>В Америке</td> </tr> <tr> <td>2. Какой океан омывает берега твоей страны?</td> <td>Атлантический океан</td> </tr> <tr> <td>3. Какие реки протекают в твоей стране?</td> <td>Амазонка (притоки: Мараньон, Мадейра, Тапажос), Парана, Сан-Франсиску</td> </tr> <tr> <td>4. Какие крупные города, кроме столицы, есть в твоей стране?</td> <td>Рио-де-Жанейро, Сан-Паулу, Форталеза, Манаус, Белен, Ресифи</td> </tr> <tr> <td>5. Какой официальный язык в твоей стране?</td> <td>Португальский</td> </tr> <tr> <td>6. Какие сельскохозяйственные культуры выращивают в твоей стране?</td> <td>Соя, кукуруза, кофейное дерево, какао, апельсины, сахарный тростник</td> </tr> <tr> <td>7. Какие достопримечательности можно посмотреть в твоей стране?</td> <td>Водопады Игуасу, статуя Христа-Искупителя, карнавал в Рио-де-Жанейро, тропические леса Амазонки, гора Сахарная голова, пляж Капакабана</td> </tr> </tbody> </table>		Вопрос	Ответ	1. В какой части света находится твоя страна?	В Америке	2. Какой океан омывает берега твоей страны?	Атлантический океан	3. Какие реки протекают в твоей стране?	Амазонка (притоки: Мараньон, Мадейра, Тапажос), Парана, Сан-Франсиску	4. Какие крупные города, кроме столицы, есть в твоей стране?	Рио-де-Жанейро, Сан-Паулу, Форталеза, Манаус, Белен, Ресифи	5. Какой официальный язык в твоей стране?	Португальский	6. Какие сельскохозяйственные культуры выращивают в твоей стране?	Соя, кукуруза, кофейное дерево, какао, апельсины, сахарный тростник	7. Какие достопримечательности можно посмотреть в твоей стране?	Водопады Игуасу, статуя Христа-Искупителя, карнавал в Рио-де-Жанейро, тропические леса Амазонки, гора Сахарная голова, пляж Капакабана	
Вопрос	Ответ																	
1. В какой части света находится твоя страна?	В Америке																	
2. Какой океан омывает берега твоей страны?	Атлантический океан																	
3. Какие реки протекают в твоей стране?	Амазонка (притоки: Мараньон, Мадейра, Тапажос), Парана, Сан-Франсиску																	
4. Какие крупные города, кроме столицы, есть в твоей стране?	Рио-де-Жанейро, Сан-Паулу, Форталеза, Манаус, Белен, Ресифи																	
5. Какой официальный язык в твоей стране?	Португальский																	
6. Какие сельскохозяйственные культуры выращивают в твоей стране?	Соя, кукуруза, кофейное дерево, какао, апельсины, сахарный тростник																	
7. Какие достопримечательности можно посмотреть в твоей стране?	Водопады Игуасу, статуя Христа-Искупителя, карнавал в Рио-де-Жанейро, тропические леса Амазонки, гора Сахарная голова, пляж Капакабана																	
<p>Ответы на вопросы могут быть даны в иных, близких по смыслу формулировках. В ответах, предполагающих указание нескольких объектов, при оценивании может быть засчитано указание одного объекта. Если в ответе на задание 8.1 название страны не указано / указано неправильно, то результат выполнения данного задания не засчитывается</p>																		
Правильно даны ответы на все вопросы		3																
Правильно даны ответы на пять-шесть любых вопросов; в ответах на один-два вопроса допущены ошибки / ответы на один-два вопроса не представлены		2																
Правильно даны ответы на три-четыре любых вопроса; в ответах на другие три-четыре вопроса допущены ошибки / ответы на другие три-четыре вопроса не представлены		1																
Правильно даны ответы только на один-два вопроса. ИЛИ Ответ неправильный		0																
<i>Максимальный балл</i>		3																

Система оценивания выполнения всей работы

Максимальный балл за выполнение работы – 37.

Рекомендации по переводу первичных баллов в отметки по пятибалльной шкале

Отметка по пятибалльной шкале	«2»	«3»	«4»	«5»
Первичные баллы	0 – 10	11 – 25	26 – 32	33 – 37