

ФЕДЕРАЛЬНАЯ СЛУЖБА ПО НАДЗОРУ В СФЕРЕ ОБРАЗОВАНИЯ И НАУКИ
ФЕДЕРАЛЬНОЕ ГОСУДАРСТВЕННОЕ БЮДЖЕТНОЕ НАУЧНОЕ УЧРЕЖДЕНИЕ
«ФЕДЕРАЛЬНЫЙ ИНСТИТУТ ПЕДАГОГИЧЕСКИХ ИЗМЕРЕНИЙ»

**Методические материалы для предметных
комиссий субъектов Российской Федерации
по проверке выполнения заданий с развернутым
ответом экзаменационных работ ОГЭ 2022 года**

МАТЕМАТИКА

Москва
2022

Руководитель комиссии по разработке контрольных измерительных материалов для проведения государственной итоговой аттестации по образовательным программам основного общего и среднего общего образования по математике И.В. Яценко, в.н.с. ФГБНУ «ФИПИ».

Авторы–составители: А.В. Семенов, М.А. Черняева.

Пособие предназначено для подготовки экспертов по оцениванию выполнения заданий с развернутым ответом, которые являются частью контрольных измерительных материалов (КИМ) для сдачи основного государственного экзамена (ОГЭ) по математике.

Методические материалы включают в себя описание экзаменационной работы 2022 г., научно-методические подходы к проверке и оцениванию выполнения заданий с развернутым ответом, примеры ответов участников экзамена с комментариями к оценке этих ответов, а также материалы для самостоятельной работы эксперта.

Авторы будут благодарны за предложения по совершенствованию пособия.

© И.В. Яценко, А.В. Семенов, М.А. Черняева.

© Федеральный институт педагогических измерений. 2022

ОГЛАВЛЕНИЕ

Введение.....	5
1. Характеристика экзаменационной работы 2022 года. Назначение заданий с развернутым ответом и их особенности.....	6
2. Общие подходы к проверке и оценке выполнения заданий с развернутым ответом	8
3. Примеры оценивания ответов по каждому типу заданий с развернутым ответом с комментариями.....	10
4. Материалы для практических занятий по оценке выполнения заданий с развернутым ответом.....	22
5. Тренировочные варианты.	66

Основной государственный экзамен (ОГЭ) представляет собой форму государственной итоговой аттестации, проводимой в целях определения соответствия результатов освоения обучающимися основных образовательных программ основного общего образования соответствующим требованиям федерального государственного образовательного стандарта. Для указанных целей используются контрольные измерительные материалы (КИМ), представляющие собой комплексы заданий стандартизированной формы.

ОГЭ проводится в соответствии с Федеральным законом «Об образовании в Российской Федерации» от 29.12.2012 № 273-ФЗ и Порядком проведения государственной итоговой аттестации по образовательным программам основного общего образования, утверждённым приказом Минпросвещения России и Рособнадзора от 07.11.2018 № 189/1513.

Содержание КИМ определяется на основе Федерального государственного образовательного стандарта основного общего образования (приказ Минобрнауки России от 17.12.2010 № 1897) с учётом Примерной основной образовательной программы основного общего образования (одобрена решением Федерального учебно-методического объединения по общему образованию (протокол от 08.04.2015 № 1/15)).

В КИМ обеспечена преемственность проверяемого содержания с Федеральным компонентом государственного стандарта основного общего образования по математике (приказ Минобрнауки России от 05.03.2004 № 1089 «Об утверждении Федерального компонента государственных образовательных стандартов начального общего, основного общего и среднего (полного) общего образования»).

Введение

Пособие предназначено для подготовки экспертов по оцениванию заданий с развёрнутым ответом, которые являются частью контрольных измерительных материалов (КИМ) для сдачи основного государственного экзамена (ОГЭ) по математике. Пособие состоит из трёх частей.

В первой части «Методические рекомендации по оцениванию выполнения заданий ОГЭ с развёрнутым ответом. Математика» даётся краткое описание структуры контрольных измерительных материалов 2022 года по математике, характеризуются общие подходы к применению предложенных критериев оценки решений математических заданий с развёрнутым ответом, приводятся примеры оценивания решений и даются комментарии, объясняющие выставленную оценку.

Во второй части «Материалы для самостоятельной работы экспертов» в целях организации самостоятельной и групповой работы экспертов приводятся примеры решений, которые эксперты должны по результатам коллективного обсуждения оценить в соответствии с критериями оценивания выполнения заданий с развёрнутым ответом.

В третьей части «Материалы для проведения зачёта» приведены примеры решений заданий с развёрнутым ответом, предназначенные для проведения индивидуальных зачётных работ по проверке подготовки экспертов.

Каждое задание второй части КИМ ОГЭ по математике оценивается в 2 балла.

	Нумерация заданий						Общ. балл
2022 (6 заданий)	№20	№21	№22	№23	№24	№25	
Максим. балл	2	2	2	2	2	2	12

Тематическая принадлежность заданий осталась в основном неизменной. А именно, в 2022 году, задание №20 – упрощение алгебраических выражений, решение уравнений, решение систем уравнений, №21 – решение текстовой задачи, №22 – построение графика функции, №23 – геометрическая задача на вычисление, №24 – задача по геометрии на доказательство, №25 – геометрическая задача высокого уровня сложности.

1. Характеристика экзаменационной работы 2022 года. Назначение заданий с развернутым ответом и их особенности

Контрольные измерительные материалы (далее КИМ) разработаны с учётом положения, что результатом освоения основной образовательной программы основного общего образования должна стать математическая компетентность выпускников, т.е. они должны: овладеть специфическими для математики знаниями и видами деятельности; научиться преобразованию знания и его применению в учебных и внеучебных ситуациях; сформировать качества, присущие математическому мышлению, а также овладеть математической терминологией, ключевыми понятиями, методами и приёмами.

Работа состоит из двух частей, соответствующих проверке на базовом, повышенном и высоком уровнях.

При проверке базовой математической компетентности обучающиеся должны продемонстрировать: владение основными алгоритмами, знание и понимание ключевых элементов содержания (математических понятий, их свойств, приемов решения задач и пр.), умение пользоваться математической записью, применять знания к решению математических задач, не сводящихся к прямому применению алгоритма, а также применять математические знания в простейших практических ситуациях.

Задания *части 2* направлены на проверку владения материалом на повышенном уровне. Их назначение – дифференцировать хорошо успевающих школьников по уровням подготовки, выявить наиболее подготовленную часть выпускников, составляющую потенциальный контингент профильных классов.

Эти части содержат задания повышенного уровня сложности из различных разделов курса математики. Все задания требуют записи решений и ответа. Задания расположены по нарастанию трудности – от относительно более простых до сложных, предполагающих свободное владение материалом курса и хороший уровень математической культуры.

Все задания второй части экзаменационной работы носят комплексный характер. Они позволяют проверить владение формально-оперативным аппаратом,

способность к интеграции знаний из различных тем школьного курса, владение достаточно широким набором приемов и способов рассуждений, а также умение математически грамотно записать решение.

Задания части 2 относятся к алгебре и геометрии. Задание 20 (алгебраическое), задание 23 (геометрическое) – наиболее простые. Они направлены на проверку владения формально-оперативными алгебраическими навыками: преобразование выражения, решение уравнения, неравенства, систем, построение графика, и умению решить несложную геометрическую задачу на вычисление.

Задание 21 (алгебраическое), задание 24 (геометрическое) – более высокого уровня, они сложнее предыдущих и в техническом, и в логическом отношении.

И, наконец, задания 22 (алгебраическое), задание 25 (геометрическое) – высокого уровня сложности, они требуют свободного владения материалом и довольно высокого уровня математического развития. Рассчитаны эти задачи на обучающихся, изучавших математику более основательно, например, в рамках углубленного курса математики, элективных курсов в ходе предпрофильной подготовки, математических кружков и пр. Хотя эти задания не выходят за рамки содержания, предусмотренного стандартом основной школы, при их выполнении ученик должен продемонстрировать владение довольно широким набором некоторых специальных приемов (выполнения преобразований, решения уравнений, систем уравнений), проявить некоторые элементарные умения исследовательского характера, которые помогут успешно продолжать образование в 10–11 класса в классах углубленного или профильного изучения математики, информатики, физики.

2. Общие подходы к проверке и оценке выполнения заданий с развернутым ответом

Требования к выполнению заданий с развернутым ответом заключаются в следующем: решение должно быть математически грамотным и полным, из него должен быть понятен ход рассуждений обучающегося. Оформление решения должно обеспечивать выполнение указанных выше требований, а в остальном может быть произвольным. Не следует требовать от учащихся слишком подробных комментариев (например, описания алгоритмов). Лаконичное решение, не содержащее неверных утверждений, все выкладки которого правильны, следует рассматривать как решение без недочетов.

Если решение заданий 20–25 удовлетворяет этим требованиям, то выставляется полный балл – 2 балла за каждое задание. Если в решении допущена ошибка непринципиального характера (вычислительная, погрешность в терминологии или символике и др.), не влияющая на правильность общего хода решения (даже при неверном ответе) и позволяющая, несмотря на ее наличие, сделать вывод о владении материалом, то учащемуся засчитывается балл, на 1 меньший указанного, что и отражено в критериях оценивания заданий с развернутым ответом.

Результаты оценивания выполнения заданий фиксируются в протоколе проверки развернутых ответов¹.

¹ Организационно-технологическая схема, используемая при проведении ОГЭ в субъектах Российской Федерации, может предполагать заполнение распечатки протокола проверки развернутых ответов или электронных форм аналогичного назначения.

Рисунок 1. Вариант формата бланка протокола проверки развернутых ответов

Протокол проверки развернутых ответов



Регион 77	Код предмета 2	Название предмета Математика (2021.01.01)	Номер протокола 1000003
ФИО эксперта Эксперт Н.Т.			Код эксперта 300000
Примечание			

Образец заполнения 1 2 3 4 5 6 7 8 9 0 X

№	Код бланка	Позиции оценивания																	
		20	21	22	23	24	25												
1	2020200002152	<input type="checkbox"/>	<input type="checkbox"/>	<input type="checkbox"/>	<input type="checkbox"/>	<input type="checkbox"/>	<input type="checkbox"/>	<input type="checkbox"/>	<input type="checkbox"/>	<input type="checkbox"/>	<input type="checkbox"/>	<input type="checkbox"/>	<input type="checkbox"/>	<input type="checkbox"/>	<input type="checkbox"/>	<input type="checkbox"/>	<input type="checkbox"/>	<input type="checkbox"/>	<input type="checkbox"/>
2		<input type="checkbox"/>	<input type="checkbox"/>	<input type="checkbox"/>	<input type="checkbox"/>	<input type="checkbox"/>	<input type="checkbox"/>	<input type="checkbox"/>	<input type="checkbox"/>	<input type="checkbox"/>	<input type="checkbox"/>	<input type="checkbox"/>	<input type="checkbox"/>	<input type="checkbox"/>	<input type="checkbox"/>	<input type="checkbox"/>	<input type="checkbox"/>	<input type="checkbox"/>	<input type="checkbox"/>
3		<input type="checkbox"/>	<input type="checkbox"/>	<input type="checkbox"/>	<input type="checkbox"/>	<input type="checkbox"/>	<input type="checkbox"/>	<input type="checkbox"/>	<input type="checkbox"/>	<input type="checkbox"/>	<input type="checkbox"/>	<input type="checkbox"/>	<input type="checkbox"/>	<input type="checkbox"/>	<input type="checkbox"/>	<input type="checkbox"/>	<input type="checkbox"/>	<input type="checkbox"/>	<input type="checkbox"/>
4		<input type="checkbox"/>	<input type="checkbox"/>	<input type="checkbox"/>	<input type="checkbox"/>	<input type="checkbox"/>	<input type="checkbox"/>	<input type="checkbox"/>	<input type="checkbox"/>	<input type="checkbox"/>	<input type="checkbox"/>	<input type="checkbox"/>	<input type="checkbox"/>	<input type="checkbox"/>	<input type="checkbox"/>	<input type="checkbox"/>	<input type="checkbox"/>	<input type="checkbox"/>	<input type="checkbox"/>
5		<input type="checkbox"/>	<input type="checkbox"/>	<input type="checkbox"/>	<input type="checkbox"/>	<input type="checkbox"/>	<input type="checkbox"/>	<input type="checkbox"/>	<input type="checkbox"/>	<input type="checkbox"/>	<input type="checkbox"/>	<input type="checkbox"/>	<input type="checkbox"/>	<input type="checkbox"/>	<input type="checkbox"/>	<input type="checkbox"/>	<input type="checkbox"/>	<input type="checkbox"/>	<input type="checkbox"/>
6		<input type="checkbox"/>	<input type="checkbox"/>	<input type="checkbox"/>	<input type="checkbox"/>	<input type="checkbox"/>	<input type="checkbox"/>	<input type="checkbox"/>	<input type="checkbox"/>	<input type="checkbox"/>	<input type="checkbox"/>	<input type="checkbox"/>	<input type="checkbox"/>	<input type="checkbox"/>	<input type="checkbox"/>	<input type="checkbox"/>	<input type="checkbox"/>	<input type="checkbox"/>	<input type="checkbox"/>
7		<input type="checkbox"/>	<input type="checkbox"/>	<input type="checkbox"/>	<input type="checkbox"/>	<input type="checkbox"/>	<input type="checkbox"/>	<input type="checkbox"/>	<input type="checkbox"/>	<input type="checkbox"/>	<input type="checkbox"/>	<input type="checkbox"/>	<input type="checkbox"/>	<input type="checkbox"/>	<input type="checkbox"/>	<input type="checkbox"/>	<input type="checkbox"/>	<input type="checkbox"/>	<input type="checkbox"/>
8		<input type="checkbox"/>	<input type="checkbox"/>	<input type="checkbox"/>	<input type="checkbox"/>	<input type="checkbox"/>	<input type="checkbox"/>	<input type="checkbox"/>	<input type="checkbox"/>	<input type="checkbox"/>	<input type="checkbox"/>	<input type="checkbox"/>	<input type="checkbox"/>	<input type="checkbox"/>	<input type="checkbox"/>	<input type="checkbox"/>	<input type="checkbox"/>	<input type="checkbox"/>	<input type="checkbox"/>
9		<input type="checkbox"/>	<input type="checkbox"/>	<input type="checkbox"/>	<input type="checkbox"/>	<input type="checkbox"/>	<input type="checkbox"/>	<input type="checkbox"/>	<input type="checkbox"/>	<input type="checkbox"/>	<input type="checkbox"/>	<input type="checkbox"/>	<input type="checkbox"/>	<input type="checkbox"/>	<input type="checkbox"/>	<input type="checkbox"/>	<input type="checkbox"/>	<input type="checkbox"/>	<input type="checkbox"/>
10		<input type="checkbox"/>	<input type="checkbox"/>	<input type="checkbox"/>	<input type="checkbox"/>	<input type="checkbox"/>	<input type="checkbox"/>	<input type="checkbox"/>	<input type="checkbox"/>	<input type="checkbox"/>	<input type="checkbox"/>	<input type="checkbox"/>	<input type="checkbox"/>	<input type="checkbox"/>	<input type="checkbox"/>	<input type="checkbox"/>	<input type="checkbox"/>	<input type="checkbox"/>	<input type="checkbox"/>

Дата проверки - -

Подпись эксперта

3. Примеры оценивания ответов по каждому типу заданий с развернутым ответом с комментариями.

Задача 20.

Решите уравнение $x^4 = (4x - 5)^2$.

Решение.

Исходное уравнение приводится к виду:

$$(x^2 - 4x + 5)(x^2 + 4x - 5) = 0.$$

Уравнение $x^2 - 4x + 5 = 0$ не имеет корней.

Уравнение $x^2 + 4x - 5 = 0$ имеет корни -5 и 1 .

Ответ: $-5; 1$.

Критерии оценивания выполнения задания 20

Баллы	Содержание критерия
2	Обоснованно получен верный ответ
1	Решение доведено до конца, но допущена описка или ошибка вычислительного характера, с её учётом дальнейшие шаги выполнены верно
0	Решение не соответствует ни одному из критериев, перечисленных выше
2	<i>Максимальный балл</i>

Сократите дробь $\frac{18^{n+3}}{3^{2n+5} \cdot 2^{n-2}}$.

Решение.

$$\frac{18^{n+3}}{3^{2n+5} \cdot 2^{n-2}} = \frac{(9 \cdot 2)^{n+3}}{3^{2n+5} \cdot 2^{n-2}} = \frac{3^{2n+6} \cdot 2^{n+3}}{3^{2n+5} \cdot 2^{n-2}} = 3^{2n+6-(2n+5)} \cdot 2^{n+3-(n-2)} = 3 \cdot 2^5 = 96.$$

Ответ: 96.

Уточнение – «ошибка вычислительного характера» или «вычислительная ошибка» – это ошибка, допущенная при выполнении сложения, вычитания, умножения и деления. В критериях оценки выполнения задания подчеркивается тот факт, что 1 балл допускается ставить в тех случаях, когда единственная вычислительная ошибка стала причиной того, что неверен ответ.

К вычислительным ошибкам не относятся ошибки в формулах при решении квадратного уравнения, действиях с числами с разными знаками, упрощении выражений со степенями и корнями и т.д.

Пример оценивания решения задания 20

Решите уравнение $\frac{1}{(x-1)^2} + \frac{3}{x-1} - 10 = 0$.

Ответ: $x = 1,5$, $x = 0,8$.

$$\frac{1}{(x-1)^2} + \frac{3}{x-1} - 10 = 0$$

$$\frac{1 + 3(x-1) - 10(x-1)^2}{(x-1)^2} = 0$$

$$1 + 3x - 3 - 10(x^2 - 2x + 1) = 0$$

$$\underline{1} + \underline{3x} - \underline{3} - 10x^2 + \underline{20x} - \underline{10} = 0$$

$$-10x^2 + 23x + 12 = 0$$

$$D = 6^2 - 4ac, D = 529 - 480 = 49 = 7^2$$

$$x_1 = \frac{-23 + 7}{-20} = 1,5 \quad x_2 = \frac{-23 - 7}{-20} = 1,6$$
 Ответ: ~~1,5; 1,6~~ 1,5; 0,8

Комментарий.

В решении записан верный ответ. Но в последних строках решения присутствуют:

- а) ошибка в вычислении корня квадратного уравнения;
- б) ошибка при сложении чисел с разными знаками;
- в) ошибка в формуле корней квадратного уравнения;
- г) ошибка при делении чисел с разными знаками.

Оценка эксперта: 0 баллов.

Задача 21.

Рыболов в 5 часов утра на моторной лодке отправился от пристани против течения реки, через некоторое время бросил якорь. 2 часа ловил рыбу и вернулся обратно в 10 часов утра того же дня. На какое расстояние от пристани он отплыл, если скорость реки равна 2 км/ч, а собственная скорость лодки 6 км/ч?

Решение.

Пусть искомое расстояние равно x км. Скорость лодки при движении против течения равна 4 км/ч, при движении по течению равна 8 км/ч. Время, за которое лодка доплывёт от места отправления до места назначения и обратно, равно $\left(\frac{x}{4} + \frac{x}{8}\right)$ часа. Из условия задачи следует, что это время равно 3 часам. Составим

уравнение: $\frac{x}{4} + \frac{x}{8} = 3$. Решив уравнение, получим $x = 8$.

Ответ: 8 км.

Критерии оценивания выполнения задания 21

Баллы	Содержание критерия
2	Ход решения задачи верный, получен верный ответ
1	Ход решения верный, все его шаги присутствуют, но допущена описка или ошибка вычислительного характера
0	Решение не соответствует ни одному из критериев, перечисленных выше
2	<i>Максимальный балл</i>

Задание 21 тематически сохраняется несколько лет. Критерии его оценивания не менялись.

Пример оценивания решения задания 21

Игорь и Паша могут покрасить забор за 14 часов, Паша и Володя – за 15 часов, а Володя и Игорь за 30 часов. За какое время покрасят забор мальчики, работая втроем. Ответ дайте в минутах.

Ответ: 700 минут.

22.	Скорость работы/ч	t ч	Ачасти забора
И+П	$\frac{1}{14}$	14	1
П+В	$\frac{1}{15}$	15	1
В+И	$\frac{1}{30}$	30	1

$$v(I+P+P+V+V+I) = \frac{1}{14} + \frac{1}{15} + \frac{1}{30} = \frac{1}{14} + \frac{1}{10} = \frac{5+7}{70} = \frac{12}{70} = \frac{6}{35} \text{ (ч.с./ч)}$$
$$t = \frac{A}{v} = \frac{1}{\frac{6}{35}} = \frac{35}{6} \text{ ч} = \frac{35 \cdot 60}{6} \text{ мин} = 350 \text{ мин}$$

Ответ: 350

Комментарий.

Путь решения верный, но допущена вычислительная ошибка.

Оценка эксперта: 1 балл.

Задача 22.

Постройте график функции $y = \frac{x^4 - 13x^2 + 36}{(x-3)(x+2)}$ и определите, при каких значениях c

прямая $y = c$ имеет с графиком ровно одну общую точку.

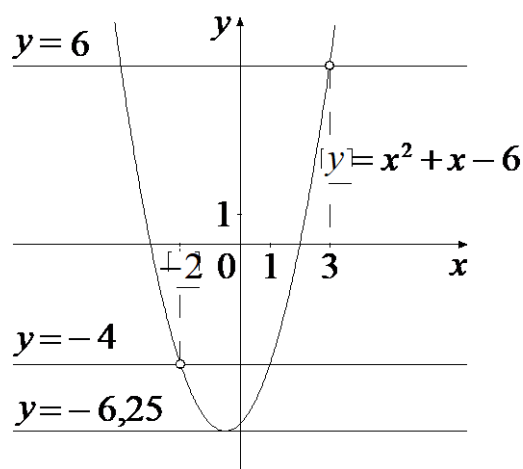
Решение. Разложим числитель дроби на множители:

$$x^4 - 13x^2 + 36 = (x^2 - 4)(x^2 - 9) = (x-2)(x+2)(x-3)(x+3)$$

При $x \neq -2$ и $x \neq 3$ функция принимает вид: $y = (x-2)(x+3) = x^2 + x - 6$,

её график — парабола, из которой выколоты точки $(-2; -4)$ и $(3; 6)$.

Прямая $y = c$ имеет с графиком ровно одну общую точку либо тогда, когда проходит через вершину параболы, либо тогда, когда пересекает параболу в двух точках, одна из которых — выколотая. Вершина параболы имеет координаты $(-0,5; -6,25)$.



Поэтому $c = -6,25$, $c = -4$ или $c = 6$.

Критерии оценивания выполнения задания 22

Баллы	Содержание критерия
2	График построен верно, верно найдены искомые значения параметра
1	График построен верно, но искомые значения параметра найдены неверно или не найдены
0	Решение не соответствует ни одному из критериев, перечисленных выше
2	<i>Максимальный балл</i>

Основным условием положительной оценки за решение задания является верное построение графика. Верное построение графика включает в себя: масштаб, содержательная таблица значений или объяснение построения, **выколотая точка обозначена в соответствии с ее координатами.**

Пример оценивания решения задания 22

Постройте график функции $y = \frac{9x+1}{9x^2+x}$ и определите, при каких значениях k прямая

$y = kx$ имеет с графиком ровно одну общую точку.

Ответ: 81.

23) $y = \frac{9x+1}{9x^2+x}$

1) $9x^2+x \neq 0$
 $x(9x+1) \neq 0$
 $x \neq 0$ $9x \neq -1$
 $x \neq -\frac{1}{9}$

2) $y = \frac{9x+1}{x(9x+1)}$
 $y = \frac{1}{x}$

x	1	2	-1	-2	4	-4
y	1	0,5	-1	-0,5	0,25	-0,25

3) $\frac{kx}{1} = \frac{1}{x}$
 $kx^2 = 1$ Если $y=1$, а $x^2 = (-\frac{1}{9})^2$, то:
 $k \times (-\frac{1}{9})^2 = 1$
 $k \times \frac{1}{81} = 1$
 $k \times 81 = 81$
 $81 = 81$
 $k = 81$ Ответ: при $k = 81$

Комментарий.

График построен неверно – отсутствует выколота точка. В соответствии с критериями – 0 баллов.

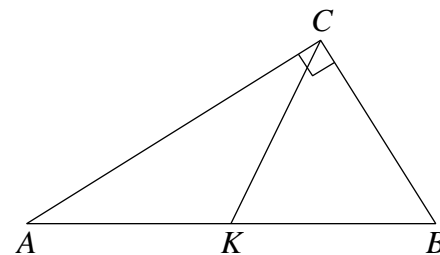
Оценка эксперта: 0 баллов.

Задача 23.

В прямоугольном треугольнике ABC с прямым углом C известны катеты: $AC = 6$, $BC = 8$. Найдите медиану CK этого треугольника.

Решение.

$$\begin{aligned} CK &= \frac{1}{2} AB = \frac{1}{2} \sqrt{AC^2 + BC^2} = \\ &= \frac{1}{2} \sqrt{36 + 64} = 5. \end{aligned}$$



Ответ: 5.

Критерии оценивания выполнения задания 23

Баллы	Содержание критерия
2	Ход решения верный, все его шаги выполнены правильно, получен верный ответ
1	Ход решения верный, все его шаги выполнены правильно, но даны неполные объяснения или допущена одна вычислительная ошибка
0	Решение не соответствует ни одному из критериев, перечисленных выше
2	<i>Максимальный балл</i>

Содержательно задание 23 практически не менялось в течение нескольких лет.

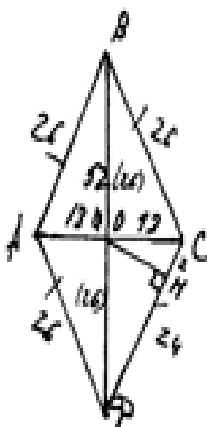
Критерии его оценивания сохранились.

Пример оценивания решения задания 23

Высота, опущенная из вершины ромба, делит противоположную сторону на отрезки равные 24 и 2, считая от вершины острого угла. Вычислите длину высоты ромба.

Ответ: 10.

24.



Найти:
OH?

Решение:

- 1) Так ABCD - ромб $\Rightarrow AB = CD = BC = DA = 26$ см
- 2) По свойству катетов AD, лежащий против $\angle 30^\circ (\angle ADB)$ равен $\frac{1}{2} AB$ (катет равен гипотенузы) $\Rightarrow AD = 13$ см. Так $AD = DC$ - ромб $\Rightarrow AD = DC = 13$ см
- 3) По свойству диагоналей AC перпендикулярно BD в точке O $\Rightarrow BD = 2 \cdot 13 = 26$ см
- 4) Работаем в $\triangle OHD$ - прямоугольном; По $\triangle BHD$ Пифагора:
 $26^2 = 24^2 + OH^2$
 $676 = 576 + OH^2$
 $OH^2 = 676 - 576$
 $OH^2 = 100$
 $OH = 10$

Ответ: OH = 10 см

Комментарий.

Учащийся использует данные, которых нет в условии (считая острый угол ромба 60°).

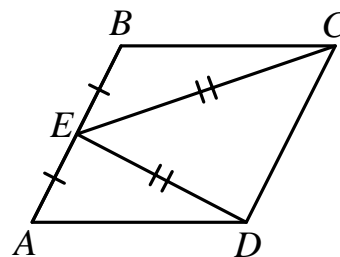
Оценка эксперта: 0 баллов.

Задача 24.

В параллелограмме $ABCD$ точка E — середина стороны AB . Известно, что $EC = ED$. Докажите, что данный параллелограмм — прямоугольник.

Доказательство. Треугольники BEC и AED равны по трём сторонам.

Значит, углы CBE и DAE равны. Так как их сумма равна 180° , то углы равны 90° . Такой параллелограмм — прямоугольник.



Критерии оценивания выполнения задания 24

Баллы	Содержание критерия
2	Доказательство верное, все шаги обоснованы
1	Доказательство в целом верное, но содержит неточности
0	Решение не соответствует ни одному из критериев, перечисленных выше
2	<i>Максимальный балл</i>

Пример оценивания решения задания 24

Пример.

Две окружности с центрами E и F пересекаются в точках C и D , центры E и F лежат по одну сторону относительно прямой CD . Докажите, что прямая CD перпендикулярна прямой EF .

№25

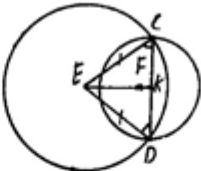
Дано:

окр(E); окр(F)
окр(E) \cap окр(F) = C и D

Доказ-ть: $CD \perp EF$

~~Решение~~ Доказательство

Проведём EC и ED — радиусы, тогда $EC = ED$.
 $\triangle ECD$ — равнобедренный, т.к. $EC = ED$ (как радиусы) $\Rightarrow \angle EDC = \angle ECD$,
 $CK = KD \Rightarrow \triangle EKC = \triangle EKD$ (по 2 сторонам и углу между ними).
Тогда $\angle CEK = \angle DEK \Rightarrow EK$ — биссектриса $\angle CED$. В равнобедренном треугольнике биссектриса, выходящая из вершины, является медианой и высотой $\Rightarrow EF \perp CD$ з.т.д.



Комментарий.

Не доказано, что точка F лежит на высоте EK .

Оценка эксперта: 0 баллов.

Задача 25.

Основание AC равнобедренного треугольника ABC равно 12. Окружность радиуса 8 с центром вне этого треугольника касается продолжений боковых сторон треугольника и касается основания AC . Найдите радиус окружности, вписанной в треугольник ABC .

Решение.

Пусть O — центр данной окружности,

а Q — центр окружности, вписанной

в треугольник ABC .

Точка касания M окружностей делит AC

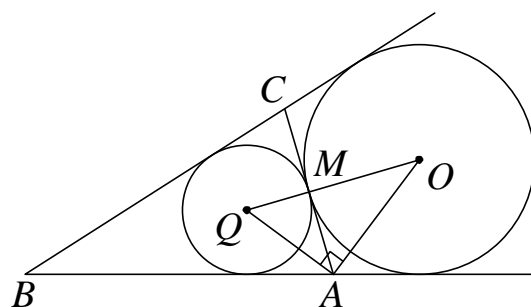
пополам.

Лучи AQ и AO — биссектрисы смежных углов, значит, угол OAQ прямой. Из

прямоугольного треугольника OAQ получаем: $AM^2 = MQ \cdot MO$. Следовательно,

$$QM = \frac{AM^2}{OM} = \frac{9}{2} = 4,5.$$

Ответ: 4,5.



Критерии оценивания выполнения задания 25

Баллы	Содержание критерия
2	Ход решения верный, получен верный ответ
1	Ход решения верный, все его шаги присутствуют, но допущена описка или ошибка вычислительного характера
0	Решение не соответствует ни одному из критериев, перечисленных выше
2	Максимальный балл

Пример оценивания решения задания 25.

Биссектриса угла A , треугольника ABC делит высоту BH в отношении $5:4$, считая от вершины. BC равно 6 . Найдите радиус описанной окружности.

Ответ: 5 .

N 26. $90 - 2\alpha$ B
 $(\angle BAC = 2\alpha)$ опустим из K на AB высоту
 Она равна KM т.к. AB дуги.
 $\angle AKB = 90 + 2\alpha$ как внешн K
 $\triangle AKM \Rightarrow \angle ABK = 9 - 2\alpha \Rightarrow$
 $\angle BKM = 2\alpha$ по \triangle подобия
 $M_2B = 3x (\sqrt{4x^2 + 5x^2} = \sqrt{9x^2} = 3x) \Rightarrow$
 $\sin 2\alpha = \frac{3}{5}$
 по \triangle подобия $\frac{a}{\sin \alpha} = 2R \Rightarrow \frac{BC}{\sin 2\alpha} = 2R \Rightarrow$
 $R = \frac{6}{\frac{6}{5}} = 5$
 Ответ: $R = 5$

Комментарий.

При правильном ответе решение содержит более одной ошибки и описки.

Оценка эксперта: 0 баллов.

4. Материалы для практических занятий по оценке выполнения заданий с развернутым ответом

4.1. Задание 20.

Пример 1.

Решите уравнение $\frac{1}{(x-1)^2} + \frac{3}{x-1} - 10 = 0$.

Ответ: $x = 1,5$, $x = 0,8$.

$$\begin{aligned} \frac{1}{(x-1)^2} + \frac{3}{x-1} - 10 &= 0; & \frac{1}{(x-1)(x-1)} + \frac{3(x-1)}{(x-1)(x-1)} - \frac{10(x-1)(x-1)}{(x-1)(x-1)} &= 0; \\ 1 + 3(x-1) - 10(x-1)(x-1) &= 0, \text{ если } x \neq 1 \\ 1 + 3x - 3 - 10(x-1)^2 &= 0; \\ -2 + 3x - 10x^2 + 20x - 10 &= 0; \\ -10x^2 + 23x - 12 &= 0 \quad | \cdot (-1); \\ 10x^2 - 23x + 12 &= 0; \\ D = b^2 - 4ac; D = 529 - 4 \cdot 10 \cdot 12 &= 529 - 480 = 49 \\ x_1 = \frac{-b + \sqrt{D}}{2a} = \frac{23 + 7}{2 \cdot 10} = \frac{30}{20} = 1,5; & x_2 = \frac{23 - 7}{20} = \frac{16}{20} = 0,8 \end{aligned}$$

Ответ: $-1,3$; $3,6$

Комментарий.

При нахождении корней квадратного уравнения допущена ошибка. При наличии общей формулы для нахождения корней квадратного уравнения, записанной верно, не извлечен корень из дискриминанта при вычислении корней.

Оценка эксперта: 0 баллов.

Пример 2.

Решите уравнение $\frac{1}{x^2} + \frac{4}{x} - 12 = 0$.

Ответ: $x = 0,5$, $x = -\frac{1}{6}$.

21 $\frac{1}{x^2} + \frac{4}{x} - 12 = 0$
 $1 + 4x - 12x^2 = 0$ ОДЗ: $x \neq 0$
 $12x^2 - 4x - 1 = 0$
 $12x^2 - 6x + 2x - 1 = 0$
 $(2x - 1)(6x + 1) = 0$
 $x = \frac{1}{2} = 0,5$ \vee $x = -\frac{1}{6}$
Пр.: \checkmark \checkmark

Ответ: $0,5 ; -\frac{1}{6}$

Комментарий.

Правильно выполнены преобразования, получен верный ответ.

Оценка эксперта: 2 балла.

Пример 3.

Решите уравнение $\frac{1}{(x-1)^2} + \frac{3}{x-1} - 10 = 0$.

Ответ: $x = 1,5$, $x = 0,8$.

②1) $\frac{1}{(x-1)^2} + \frac{3}{x-1} - 10 = 0$

1) Пусть $(x-1) = t$, тогда:

$$\frac{1}{t^2} + \frac{3}{t} - 10 = 0$$
$$\frac{1 + 3t - 10t^2}{t^2} = 0 \quad t^2 \neq 0$$
$$\Rightarrow -10t^2 + 3t + 1 = 0 \quad |(-1)$$
$$10t^2 + 3t - 1 = 0$$
$$D = 9 + 4 \cdot 1 \cdot 10 = 49$$
$$\sqrt{D} = 7$$
$$t_1 = \frac{3+7}{20} = 0,5$$
$$t_2 = \frac{3-7}{20} = -\frac{1}{5} = -0,2$$

2) $(x-1) = t$, следовательно:

- $x-1 = 0,5$
 $x = 1,5$
- $x-1 = -0,2$
 $x = 1 - 0,2 = 0,8$

Ответ: $-0,2$ и $0,8$.

Комментарий.

Все этапы решения присутствуют, корни в правом столбце найдены верно.

Оценка эксперта: 1 балл.

Пример 4.

Решите уравнение $\frac{1}{x^2} + \frac{4}{x} - 12 = 0$.

Ответ: $x = 0,5$, $x = -\frac{1}{6}$.

521.

$$\frac{1}{x^2} + \frac{4}{x} - 12 = 0$$
$$\frac{1}{x} = t$$
$$t^2 + 4t - 12 = 0$$
$$D = 16 + 48 = 64$$
$$t = \frac{-4 \pm 8}{2} = 2$$
$$t = \frac{-4 - 8}{2} = -6$$
$$\frac{1}{x} = 2 \quad \text{или} \quad \frac{1}{x} = -6$$
$$x = \frac{1}{2} \quad \text{или} \quad x = -\frac{1}{6}$$

Ответ: $(-\frac{1}{6}; \frac{1}{2})$

Комментарий.

Все этапы решения присутствуют, корни найдены верно. Неверную запись ответа свидетельствует о неверном владении символикой как при записи корней квадратного уравнения, так и при записи множества корней исходного уравнения.

Оценка эксперта: 1 балл.

4.2. Задание 21

Пример 1.

Игорь и Паша могут покрасить забор за 20 часов, Паша и Володя – за 21 час, а Володя и Игорь за 28 часов. За какое время покрасят забор мальчики, работая втроем. Ответ дайте в минутах.

Ответ: 900 минут.

№ 22

- 1) Пусть работа, которую нужно сделать во всех случаях равна 1.
- 2) Пусть производительность труда Игоря - x , Паша - y , а Володя - z
- 3) Тогда: производительность труда Игоря и Паша $= x+y = \frac{1}{20}$
 Паша и Володя - $y+z = \frac{1}{21}$ (часа)
 Володя и Игорь - $z+x = \frac{1}{28}$ (часа)
- 4) Решим систему уравнений:

$$\begin{cases} x+y = \frac{1}{20} \\ y+z = \frac{1}{21} \\ z+x = \frac{1}{28} \end{cases}$$

$$x+y = \frac{1}{20} - y$$

$$z = \frac{1}{21} - y$$

$$\frac{1}{20} - y + \frac{1}{21} - y = \frac{1}{28}$$

$$-2y = \frac{1}{28} - \frac{1}{20} - \frac{1}{21}$$

$$-2y = \frac{15 - 20 - 21}{420}$$

$$-2y = \frac{-26}{420}$$

$$y = \frac{13}{420}$$

$$x = \frac{1}{20} - \frac{13}{420}$$

$$x = \frac{21}{420} - \frac{13}{420}$$

$$x = \frac{8}{420}$$

$$z = \frac{1}{21} - \frac{13}{420}$$

$$z = \frac{20}{420} - \frac{13}{420}$$

$$z = \frac{7}{420}$$

- 5) Таким образом производительность всех мальчиков: $\frac{8}{420} + \frac{7}{420} + \frac{13}{420} = \frac{28}{420}$ - в час, а в минуту: $\frac{28}{420 \cdot 60}$
- 6) Время за которое она выполнят работу: $1 \cdot \frac{28}{420 \cdot 60} = \frac{420 \cdot 60}{28} = \frac{60 \cdot 60}{4} = 900$ минут

Ответ: за 900 минут мальчики покрасят забор, работая втроем.

Комментарий.

Ход решения верный, ответ верный.

Оценка эксперта: 2 балла.

Пример 2.

Игорь и Паша могут покрасить забор за 14 часов, Паша и Володя – за 15 часов, а Володя и Игорь за 30 часов. За какое время покрасят забор мальчики, работая втроем. Ответ дайте в минутах.

Ответ: 700 минут.

№ 22

$$\begin{aligned} H + P &= 14 \\ P + B &= 15 \\ B + I &= 30 \end{aligned}$$
$$\begin{cases} X + Y = \frac{1}{14} \\ Y + Z = \frac{1}{15} \\ Z + X = \frac{1}{30} \end{cases} \quad \begin{cases} X + Y = \frac{1}{14} \\ Y = \frac{1}{15} - Z \\ X = \frac{1}{30} - Z \end{cases}$$
$$\begin{aligned} \frac{1}{15} - Z + \frac{1}{30} - Z &= \frac{1}{14} \\ -2Z + \frac{3}{30} &= \frac{1}{14} \\ -2Z &= \frac{1}{14} - \frac{3}{30} \\ -2Z &= \frac{30 - 42}{420} \end{aligned}$$
$$2Z = \frac{12}{420}$$
$$Z = \frac{12}{420} : 2 = \frac{12}{420} \cdot \frac{1}{2} = \frac{1}{70}$$
$$Y = \frac{1}{15} - \frac{1}{70} = \frac{70 - 15}{1050} = \frac{55}{1050}$$
$$X = \frac{1}{30} - \frac{1}{70} = \frac{70 - 30}{2100} = \frac{40}{2100} = \frac{4}{210}$$
$$\begin{aligned} \frac{1}{70} + \frac{55}{1050} + \frac{4}{210} &= \frac{7}{210} + \frac{55}{1050} = \frac{1}{30} + \frac{55}{1050} = \frac{1050 + 1650}{31500} = \\ &= \frac{2700}{31500} = \frac{27}{315} \text{ (ч)} \end{aligned}$$
$$\frac{27}{315} \cdot \frac{60}{1} = \frac{1620}{315} = 5 \frac{45}{315} = 5 \frac{1}{7} \text{ (минут)}$$

Ответ: $5 \frac{1}{7}$ (минут)

Комментарий.

Логическая ошибка – выпускник перепутал производительность и время.

Оценка эксперта: 0 баллов.

Пример 3.

Игорь и Паша могут покрасить забор за 14 часов, Паша и Володя – за 15 часов, а Володя и Игорь за 30 часов. За какое время покрасят забор мальчики, работая втроем. Ответ дайте в минутах.

Ответ: 700 минут.

№ 22. ~~Пусто~~.
Найти: $\frac{1}{x+y+z}$.

	Мощность Произв	Время	РАБОТА
Игорь	x	$\frac{1}{x}$	1
Паша	y	$\frac{1}{y}$	1
Володя	z	$\frac{1}{z}$	1

1) $\begin{cases} \frac{1}{x+y} = 14 \\ \frac{1}{y+z} = 15 \\ \frac{1}{x+z} = 30 \end{cases} ; \begin{cases} x+y = \frac{1}{14} \\ y+z = \frac{1}{15} \\ x+z = \frac{1}{30} \end{cases}$

2) $\begin{cases} x+y = \frac{1}{14} \\ y = \frac{1}{15} - z \\ x = \frac{1}{30} - z \end{cases} \Rightarrow \begin{cases} \frac{1}{15} - z + \frac{1}{30} - z = \frac{1}{14} \\ \frac{3}{30} - 2z = \frac{1}{14} \\ 2z = \frac{3}{30} - \frac{1}{14} \\ 2z = \frac{1}{10} - \frac{1}{14} \\ 2z = \frac{4}{140} - \frac{1}{140} \\ 2z = \frac{3}{140} \\ z = \frac{3}{280} \end{cases}$

3) $y = \frac{1}{15} - \frac{1}{280} = \frac{70-15}{1050} = \frac{55}{1050} = \frac{11}{210}$

4) $x = \frac{1}{30} - \frac{1}{280} = \frac{7-3}{210} = \frac{4}{210} = \frac{2}{105}$

5) $\frac{1}{x+y+z} = \frac{1}{\frac{1}{70} + \frac{11}{210} + \frac{3}{280}} = \frac{1}{\frac{3+11+4}{210}} = \frac{210}{18} = \frac{70}{6}$

В 1 часе 60 минут, тогда $\Rightarrow \frac{70}{6} \cdot 60 = 700$ мин.
Ответ: 700 мин.

Комментарий.

Ход решения верный, ответ верный.

Оценка эксперта: 2 балла.

Пример 4.

Игорь и Паша могут покрасить забор за 14 часов, Паша и Володя – за 15 часов, а Володя и Игорь за 30 часов. За какое время покрасят забор мальчики, работая втроем. Ответ дайте в минутах.

Ответ: 700 минут.

(22)

	Р	Л	А
$x+y$	$\frac{1}{x+y}$	1	
$y+z$	$\frac{1}{y+z}$	1	
$z+x$	$\frac{1}{z+x}$	1	

$$\begin{cases} \frac{1}{x+y} = 14 \\ \frac{1}{y+z} = 15 \\ \frac{1}{z+x} = 30 \end{cases} \Leftrightarrow \begin{cases} x+y = \frac{1}{14} \\ y+z = \frac{1}{15} \\ z+x = \frac{1}{30} \end{cases} \Leftrightarrow \begin{cases} y = \frac{1}{14} - x \\ \frac{1}{14} - x + (\frac{1}{30} - x) = \frac{1}{15} \quad (*) \\ z = \frac{1}{30} - x \end{cases}$$

$$y = \frac{1}{2 \cdot 7} - \frac{4}{2 \cdot 3 \cdot 5 \cdot 7} = \frac{11}{2 \cdot 3 \cdot 5 \cdot 7}$$

$$z = \frac{1}{2 \cdot 3 \cdot 5} - \frac{4}{2 \cdot 3 \cdot 5 \cdot 7} = \frac{3}{2 \cdot 3 \cdot 5 \cdot 7}$$

$$\frac{1}{x+y+z} = \frac{1}{\frac{4}{2 \cdot 3 \cdot 5 \cdot 7} + \frac{11}{2 \cdot 3 \cdot 5 \cdot 7} + \frac{3}{2 \cdot 3 \cdot 5 \cdot 7}} = \frac{2 \cdot 3 \cdot 5 \cdot 7}{18} = \frac{35}{2} = 17.5 \text{ ч}$$

= 1050 мин

Ответ ~~17.5 ч~~ 1050 мин

$$* \frac{1}{14} - x + \frac{1}{30} - x = \frac{1}{15}$$

$$-2x = \frac{1}{15} - \frac{1}{30} - \frac{1}{14}$$

$$-2x = \frac{1}{3 \cdot 5} - \frac{1}{2 \cdot 3 \cdot 5} - \frac{1}{7 \cdot 2}$$

$$-2x = \frac{14 - 7 - 15}{2 \cdot 3 \cdot 5 \cdot 7}$$

$$-2x = \frac{-8}{2 \cdot 3 \cdot 5 \cdot 7}$$

$$x = \frac{4}{2 \cdot 3 \cdot 5 \cdot 7}$$

Комментарий.

Вычислительная ошибка на последнем шаге.

Оценка эксперта: 1 балл.

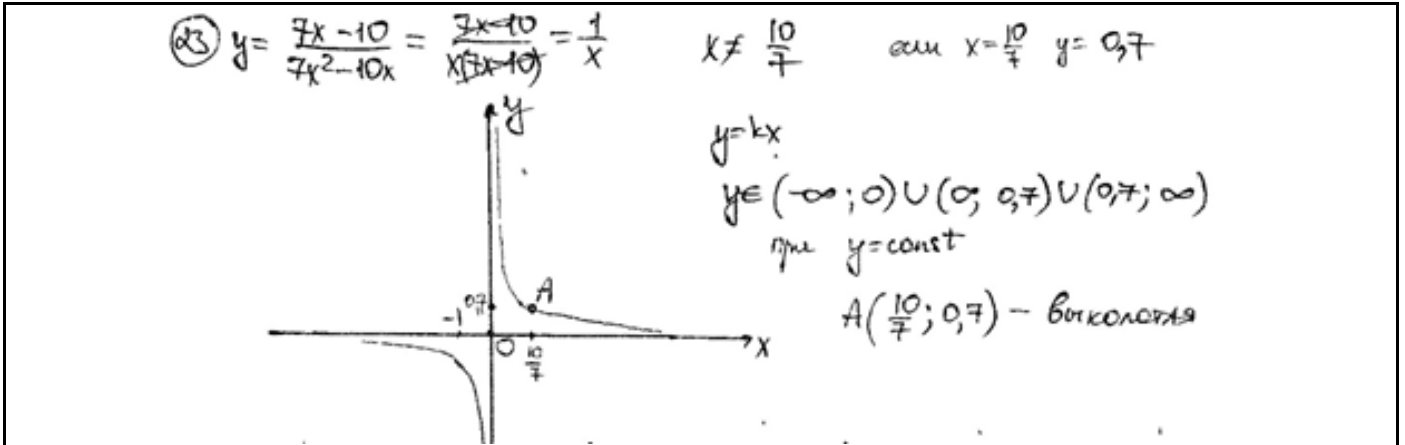
4.3. Задание 22

Пример 1.

Постройте график функции $y = \frac{7x-10}{7x^2-10x}$ и определите, при каких значениях k

прямая $y = kx$ имеет с графиком ровно одну общую точку.

Ответ: 0,49.



Комментарий.

Форма графика соблюдена, выколота точка обозначена верно. Вторая часть задания не выполнена.

Оценка эксперта: 1 балл.

Пример 2.

Постройте график функции $y = \frac{9x+1}{9x^2+x}$ и определите, при каких значениях k прямая $y = kx$ имеет с графиком ровно одну общую точку.

$y = kx$ имеет с графиком ровно одну общую точку.

Ответ: 81.

N 23

$y = \frac{9k+1}{9k^2+k}$ -- $(9k^2+1 \neq 0; k \neq -\frac{1}{3})$

$y = \frac{1}{k}$ от $9kx$

$y = -\frac{1}{3}$ $y = -2$

$-1 = -\frac{1}{3}k$

$k = 81$ - при этом k
таблица точек

Ответ: $k = 81$

(при $k=0$ - 0 точек
при $k \neq 81; 0 \neq 2$ точек)

(1) Вычитался, поэтому об баллах не дедать баллов

(ил. обратные стороны)

Комментарий.

Форма графика соблюдена, выколота точка обозначена верно. Вторая часть задания выполнена верно.

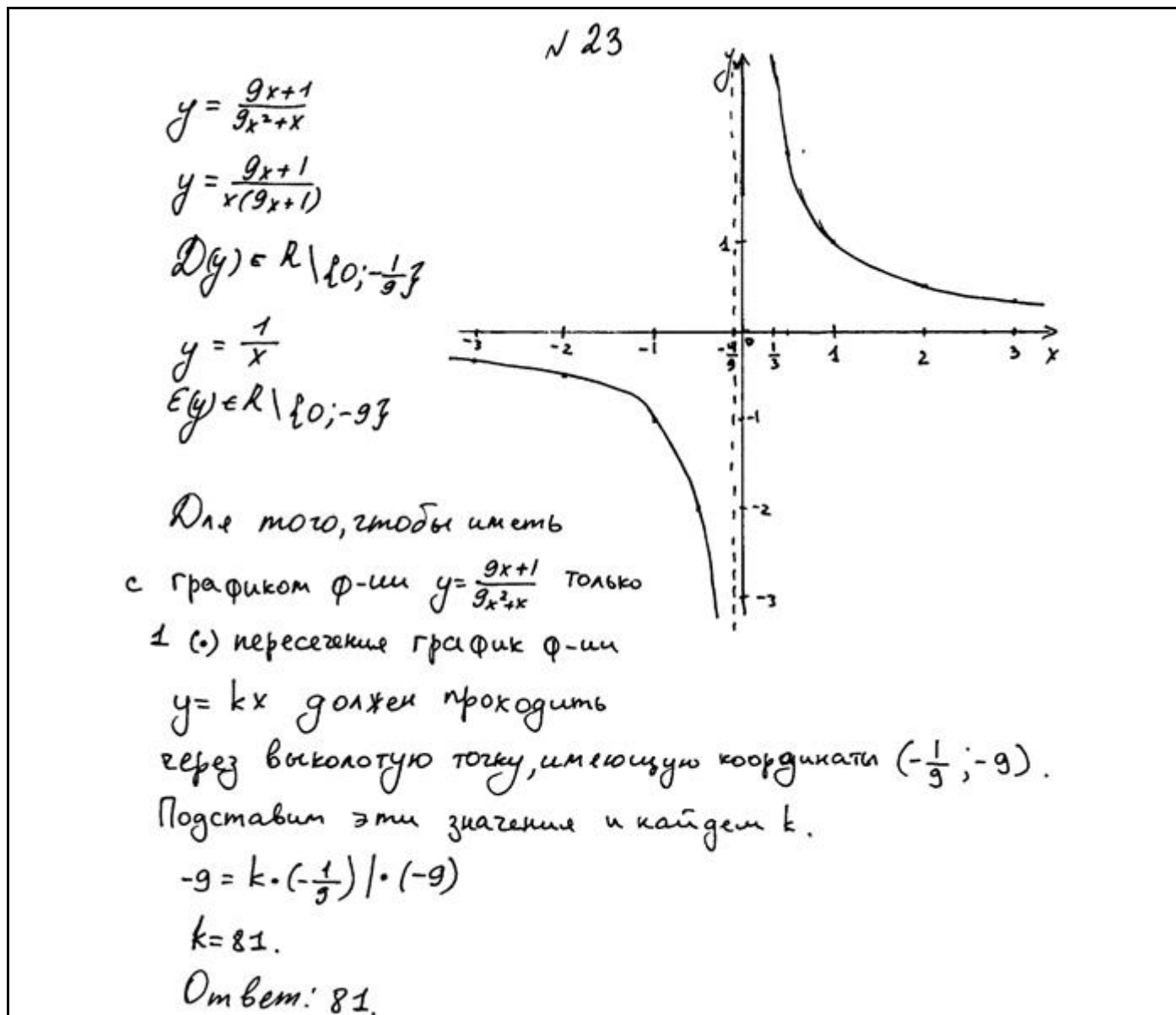
Оценка эксперта: 2 балла.

Пример 3.

Постройте график функции $y = \frac{9x+1}{9x^2+x}$ и определите, при каких значениях k прямая

$y = kx$ имеет с графиком ровно одну общую точку.

Ответ: 81.



Комментарий.

Несмотря на описание, по данному рисунку нельзя судить о верности графика.

Оценка эксперта: 0 баллов.

Пример 4.

Постройте график функции $y = \frac{9x+1}{9x^2+x}$ и определите, при каких значениях k прямая

$y = kx$ имеет с графиком ровно одну общую точку.

Ответ: 81.

23. $y = \frac{9x+1}{9x^2+x} = \frac{9x+1}{x(9x+1)} = \frac{1}{x}$.

Графиком данной функции является гипербола.

УДЗ: Построим график функции

$9x^2+x \neq 0$ $y = \frac{1}{x}$:

$x(9x+1) \neq 0$

$x \neq 0$ $9x \neq -1$

$x \neq -\frac{1}{9}$

x	1	2	4	-1	-2	-4
y	1	0,5	0,25	-1	-0,5	-0,25

$k \in \mathbb{R} \setminus \{0\}$

~~у~~ прямая $y = kx$ имеет одну общую точку при $k \in \mathbb{R}$

Комментарий.

График построен верно. Наличие некоторой прямой на графике, не может быть поводом для снижения баллов за построение графика.

Оценка эксперта: 1 балл.

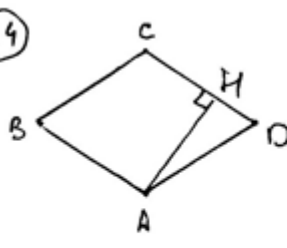
4.4. Задание 23

Пример 1.

Высота, опущенная из вершины ромба, делит противоположную сторону на отрезки равные 24 и 2, считая от вершины острого угла. Вычислите длину высоты ромба.

Ответ: 10.

(24)



Дано:
 ABCD - ромб
 AH - высота
 CH = 2
 DH = 24
 AH = ?

Решение:

1) Т.к. ромб стороны равны $CD = AD = CH + DH$
 $AD = 26$

2) $AH = \sqrt{AD^2 - DH^2}$ (по т.т. Пифагора на $\triangle AHD$)
 $AH = \sqrt{676 - 576} = \sqrt{200} = 10\sqrt{2}$

Отв: $10\sqrt{2}$

Комментарий.

Вычислительная ошибка при вычислении разности под знаком корня.

Оценка эксперта: 1 балл.

Пример 2.

Высота, опущенная из вершины ромба, делит противоположную сторону на отрезки равные 24 и 2, считая от вершины острого угла. Вычислите длину высоты ромба.

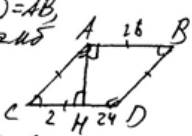
Ответ: 10.

№ 24.

Дано:
 ABCD - ромб
 AH - высота
 DH = 24
 CH = 2
 Найти: AH = ?

Решение:

$CD = CA = BD = AB$
 т.к. ABCD - ромб
 $CH + HD = 26$
 $CD = AB = AC = BD = 26$, т.к.
~~стор.~~ (по т.т. Пифагора)
 $AH^2 = 26^2 - 2^2 = 676 - 4 = 672$
 $AH = \sqrt{672} = 4\sqrt{42}$
 Ответ: $4\sqrt{42}$.



Комментарий.

Учащийся решает свою задачу: не учтен порядок расположения отрезков.

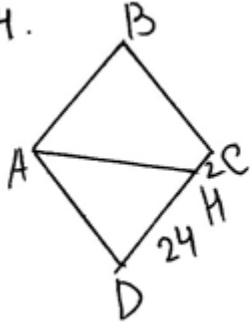
Оценка эксперта: 0 баллов.

Пример 3.

Высота, опущенная из вершины ромба, делит противоположную сторону на отрезки равные 24 и 2, считая от вершины острого угла. Вычислите длину высоты ромба.

Ответ: 10.

24.



Т.к. у ромба все стороны равны, то $AB = BC = CD = DA = 26$. Тогда $AH^2 = AD^2 - DH^2 = 676 - 576 = 100 = 10^2$.

Ответ: $AH = 10$.

Комментарий.

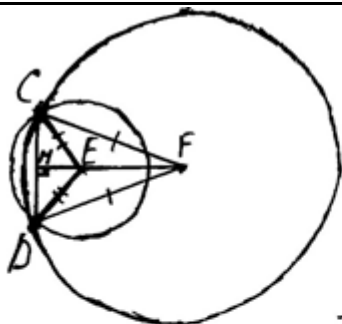
Задача выполнена верно, не смотря на изображение перпендикуляра AH .

Оценка эксперта: 2 балла.

4.5. Задание 24

Пример 1.

Две окружности с центрами E и F пересекаются в точках C и D , центры E и F лежат по одну сторону относительно прямой CD . Докажите, что прямая CD перпендикулярна прямой EF .



Дано: C и D - точки пересечения окружностей;

E и F по одну сторону от CD .

Доказ-ть: $CD \perp EF$

Доказ-во:

- 1) Проведём радиусы CE ; ED ; CF и FD .
- 2) Рассмотрим тр-к CDE . // Радиусы равны $\Rightarrow \Rightarrow$ тр-к равнобедренный.
- 3) Проведём медиану EM . В равнобедренном тр-нике медиана, проведённая к основанию явл. высотой $\Rightarrow EM$ - высота.
- 4) Рассмотрим тр-к CFD . Радиусы равны $\Rightarrow \Rightarrow$ тр-к равнобедренный \Rightarrow медиана, проведённая к основанию явл. высотой. $\Rightarrow \Rightarrow FM$ - медиана и высота.
- 5) Высоты EM и FM лежат на одной прямой с отрезком FE ; основание CD лежит на прямой CD .
- 6) Так как ^{высоты} тр-ников \perp к основанию CD и лежат на одной прямой с EF , то $EF \perp CD$.
Ч.Т.Д.

Комментарий.


Неточность в обосновании (см. пункт 5)

Оценка эксперта: 1 балл.

Пример 2.

Две окружности с центрами E и F пересекаются в точках C и D , центры E и F лежат по одну сторону относительно прямой CD . Докажите, что прямая CD перпендикулярна прямой EF .

№ 25



Дано: окружность с центром в точке E , окружность с центром в точке F , точки C, D - точки пересечения окружностей

Доказать: $EF \perp CD$

~~1) Рассмотрим треугольник CFD .~~

2) Пусть пересечение EF и CD - K , а пересечение с окружностью

3) Так как центры окружностей находится на одной прямой, CD их общая хорда, а $EF \perp FK$ - радиус одной из окружностей, то FK делит CD пополам.

4) Рассмотрим треугольник CFD , FK - медиана CD ,

5) $FD = FC$, т.к. они являются радиусами окружности

6) следовательно $\triangle CFD$ - равнобедренный, следовательно FK также является высотой, следовательно $EF \perp CD$

Комментарий.

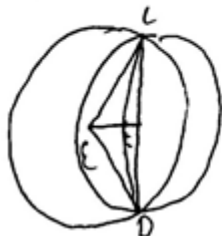
Не доказано, почему FK делит CD пополам.

Оценка эксперта: 0 баллов.

Пример 3.

Две окружности с центрами E и F пересекаются в точках C и D , центры E и F лежат по одну сторону относительно прямой CD . Докажите, что прямая CD перпендикулярна прямой EF .

25.



Дано: окр. с ц. E , окр. с ц. F
окр. пересекаются в C и D ;

Док-м: $CD \perp EF$

Док-во.

1). Проведем радиусы EC, ED, FC, FD

$EC = ED$ (радиусы) $\Rightarrow E$ равноудалена от C и D

$FC = FD$ (радиусы) $\Rightarrow F$ равноудалена от C и D

} $\Rightarrow EF$ - сущ. перпендикуляр к $CD \Rightarrow EF \perp CD$

Комментарий.

Классическое доказательство данного факта.

Оценка эксперта: 2 баллов.

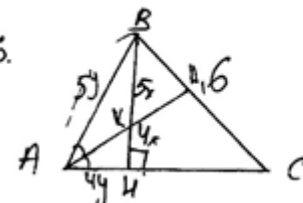
4.6. Задание 25

Пример 1.

Биссектриса угла A , треугольника ABC делит высоту BH в отношении $5:4$, считая от вершины. BC равно 6. Найдите радиус описанной окружности.

Ответ: 5.

Решение:



Дано: $\triangle ABC$, $\text{сис } \angle A$ делит BH ($5:4$), $BC=6$
 Найти: R .

Решение: $AA_1 - \text{сис } \angle A \Rightarrow \frac{AB}{BK} = \frac{AK}{KH} = \frac{5}{4}$ $AB=5y$ $AK=4y \Rightarrow BH=3y$ и $BH=9x$
 $9x=3y$ $3x=y$ $2R = \frac{a}{\sin A} = \frac{BC}{\sin A} = \frac{6}{\sin A}$ $\sin A = \frac{3y}{5y} = \frac{3}{5} = 0,6$

Комментарий.

Решение незаконченное: формула для нахождения радиуса выписана, все компоненты найдены, но не получен итоговый результат.

Оценка эксперта: 1 балл.

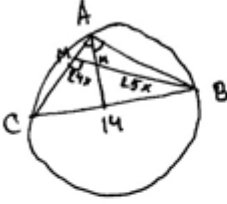
Пример 2.

Биссектриса A , треугольника ABC делит высоту BH в отношении $25:24$, считая от вершины. BC равно 14 . Найдите радиус описанной окружности.

Ответ: 25.

26.

Дано:
АМ - биссектриса
 $\frac{AM}{BH} = \frac{24}{25}$
 $BC = 14$
Найти:
 R



Решение:
 $\Rightarrow AM$ - биссектриса (по условию)
 $\frac{AM}{AB} = \frac{MH}{BH} = \frac{24}{25}$
Пусть $AM = 24y$, тогда
 $AB = 25y$
 $MB = 7y$ (по теореме Пифагора)
 $\Rightarrow \sin \angle A = \frac{7}{25}$
 $2R = \frac{CB}{\sin \angle A} = \frac{14}{\frac{7}{25}} = 50$
 $R = 25$
Ответ: 25.

Комментарий.

Решение верное.

Оценка эксперта: 2 балла.

Пример 3.

Биссектриса угла A , треугольника ABC делит высоту BH в отношении $5:4$, считая от вершины. BC равно 6 . Найдите радиус описанной окружности.

Ответ: 5 .

26.

Дано:
 $Окр(O; R)$
 $\triangle ABC$
 $BC = 6$
 AA_1 - биссектриса
 BH - высота.
 $BM:MH = 5:4$

Найти:
 R

Решение:
 $R = \frac{BC}{2 \sin A} = \frac{6}{2 \sin A} = \frac{3}{\sin A}$

1. Рассмотрим $\triangle ABH$:
 $\sin A = \frac{BH}{AB} = \frac{9x}{AB} = \frac{9x}{5x} = 1,8$ (т.к. AM делит основание, в том же отношении, что и базовые стороны) \Rightarrow

$\Rightarrow R = \frac{3}{\sin A} = \frac{3}{1,8} = \frac{2}{3}$

Ответ: $R = \frac{2}{3}$.

Комментарий.

Логическая ошибка, неверно применено свойство биссектрисы.

Оценка эксперта: 0 баллов.

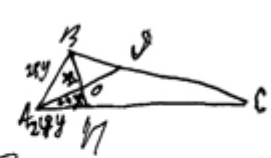
Пример 4.

Биссектриса A , треугольника ABC делит высоту BH в отношении $25:24$, считая от вершины. BC равно 14. Найдите радиус описанной окружности.

Ответ: 25.

Дано:
 $\triangle ABC$
 AD - биссектриса
 BH - высота
 $BC = 14$
 $BO : OH = 25x : 24x$
 $R = ?$

26.



Решение:

- 1) $\frac{AB}{AH} = \frac{BO}{OH} = \frac{25|y|}{24|y|}$ - свойство биссектрисы в $\triangle ABH$
- 2) $\triangle ABH$ - прямоугольный \Rightarrow
 $25y^2 = AB^2 = AH^2 + BH^2$ (Пифагор) \Rightarrow
 $25y^2 = 24y^2 + (49x)^2 \Rightarrow 49y^2 = (49x)^2 \Rightarrow y^2 = 49x^2$
 $\Rightarrow y = 7x$
- 3) $\sin \angle BAH = \sin \angle BAH = \frac{BH}{AB} = \frac{49x}{25y} =$
 $= \frac{49x \cdot 7}{7x \cdot 25} = \frac{7}{25}$
- 4) $2R = \frac{BC}{\sin A}$ (следствие из теоремы синусов) \Rightarrow
 $2R = \frac{14}{\frac{7}{25}} \Rightarrow 2R = 50 \Rightarrow R = 25$ Ответ: $R = 25$

Комментарий.

Вычислительная ошибка.

Оценка эксперта: 1 балл.

Рекомендуется следующий порядок самостоятельной работы эксперта:

- а) прочесть все 6 решений подряд и составить свое предварительное мнение об оценках;
- б) вернуться к началу и прочесть все решения еще раз, на этот раз выставляя свои собственные оценки, в соответствии с критериями оценивания;
- в) после этого сверить свои оценки с предлагаемыми оценками в таблице ответов;
- г) при наличии расхождений в оценках вернуться к спорным моментам и обдумать их, принять окончательное аргументированное решение.

В каждой части приложена таблица ответов.

Задание 20 с развернутым ответом повышенного уровня сложности.

Задание для самостоятельной работы экспертов.

Задание 1.

Решите уравнение $\frac{1}{(x-1)^2} + \frac{3}{x-1} - 10 = 0$.

Ответ: $x = 1,5$, $x = 0,8$.

(N21)

$$\frac{1}{(x-1)^2} + \frac{3}{x-1} - 10 = 0 \quad y = \frac{1}{x-1} \quad (x \neq 1)$$
$$y^2 + 3y - 10 = 0 \quad ; \quad D = 9 + 40 = 49 \quad ; \quad x_{1,2} = \frac{-3 \pm 7}{2}$$
$$x_1 = -5 \quad ; \quad x_2 = 2$$

1) $\frac{1}{x-1} = -5$ 2) $\frac{1}{x-1} = 2$ Ответ: $0,8$; ~~1,5~~

$$7 = -5x + 5 \quad \quad \quad 7 = 2x - 2$$
$$x = \frac{4}{5} = 0,8 \quad \quad \quad x = \frac{3}{2} = 1,5$$

Оценка эксперта: _____

Задание 2.

Решите уравнение $\frac{1}{(x-1)^2} + \frac{3}{x-1} - 10 = 0$.

Ответ: $x = 1,5$, $x = 0,8$.

$$\begin{aligned} & \sqrt{21} \quad 22x+1 \\ & \frac{1}{(x-1)^2} + \frac{3}{x-1} - 10 = 0 \quad | \cdot (x-1)^2 \\ & 1 + (x-3) - 10x^2 + 20x - 10 \\ & -10x^2 + 21x - 12 = 0 \quad | : (-1) \\ & 10x^2 - 21x + 12 = 0 \\ & D = b^2 - 4ac \\ & D = 441 - 4 \cdot (10) \cdot (12) \\ & D = 441 - 480 = -39 \\ & \text{Решения нет} \end{aligned}$$

Оценка эксперта: _____

Задание 3.

Решите уравнение $\frac{1}{x^2} + \frac{4}{x} - 12 = 0$.

Ответ: $x = 0,5$, $x = -\frac{1}{6}$.

N 2 1

$$\frac{1}{x^2} + \frac{4}{x} - 12 = 0; \quad | \cdot x^2$$

$x \neq 0$

$$1 + 4x - 12x^2 = 0;$$

$$12x^2 - 4x - 1 = 0;$$

$$D_1 = \frac{4 + 12}{12} = \frac{16}{12} = \quad D_1 = k^2 - ac -$$

$$D_1 = 4 + 12 = 16.$$

$D_1 > 0$, уравнение имеет 2 корня:

$$x = \frac{-k \pm \sqrt{D_1}}{a}$$

$$x = \frac{2 \pm 4}{12}$$

$$\begin{cases} x = 0,5, \\ x = -\frac{1}{6}. \end{cases}$$

Ответ: $0,5$; $-\frac{1}{6}$.

Оценка эксперта: _____

Задание 4.

Решите уравнение $\frac{1}{(x-1)^2} + \frac{3}{x-1} - 10 = 0$.

Ответ: $x = 1,5$, $x = 0,8$.

$$21. \frac{1}{(x-1)^2} + \frac{3}{x-1} - 10 = 0$$

$$\frac{1^{11}}{(x-1)^2} + \frac{3^{1x-1}}{x-1} = 10$$

$$\frac{1 + 3(x-1)}{(x-1)^2} = 10$$

$$\frac{1 + 3x - 3}{(x-1)^2} = 10$$

$$\frac{3x - 2}{x^2 - 2x + 1} = 10$$

$$3x - 2 = 10(x^2 - 2x + 1)$$

$$3x - 2 = 10x^2 - 20x + 10$$

$$10x^2 - 20x + 10 - 3x + 2 = 0$$

$$10x^2 - 23x + 12 = 0$$

$$D = b^2 - 4ac = 529 - 4 \cdot 10 \cdot 12 = 529 - 480 = 49 > 0 \Rightarrow 2$$

различных корней.

$$x_{1,2} = \frac{-b \pm \sqrt{D}}{2a} = \frac{23 \pm 7}{20} \begin{cases} \frac{23+7}{20} = \frac{30}{20} = 1,5 \\ \frac{23-7}{20} = \frac{16}{20} = 0,8 \end{cases}$$

Ответ: $x_1 = 0,8$

$x_2 = 1,5$.

Оценка эксперта: _____

Оценивание задания 20

Задание	1	2	3	4
Оценка эксперта	1	0	2	2

Задание 21 с развернутым ответом повышенного уровня сложности.

Задание для самостоятельной работы экспертов.

Задание 1.

Игорь и Паша могут покрасить забор за 20 часов, Паша и Володя – за 21 час, а Володя и Игорь за 28 часов. За какое время покрасят забор мальчики, работая втроем. Ответ дайте в минутах. Ответ: 900 минут.

✓ 2 2

Пусть Игорь – x , Паша – y , Володя – z . Составим таблицу.

#	σ	t	A
x	} $\frac{1}{20}$ $3/4$.	} $20z$	} $1z$.
y			
z	} $\frac{1}{21}$ $3/4$.	} $21z$	} $1z$
x и z			

Составим систему

$$\begin{cases} x+y = \frac{1}{20} \\ y+z = \frac{1}{21} \\ z+x = \frac{1}{28} \end{cases} \quad \begin{cases} x = \frac{1}{20} - y \\ y = \frac{1}{21} - z \\ z = \frac{1}{28} - x \end{cases}$$

Составим и решим уравнение

$$x = \frac{1}{20} - \left(\frac{1}{21} - \left(\frac{1}{28} - x \right) \right)$$

$$x = \frac{1}{20} - \frac{1}{21} + \frac{1}{28} - x$$

$$2x = \frac{16}{420}$$

$$2x = \frac{4}{105}$$

$$x = \frac{2}{105}$$

П.к. $y+z = \frac{1}{21}$, то

$$x+y+z = \frac{1}{21} + \frac{2}{105}$$

$$x+y+z = \frac{7}{105} \quad 3/4.$$

$$t = \frac{A}{\sigma}$$

$$t = \frac{1}{\frac{7}{105}}$$

$$t = 15z$$

Ответ: 15 часов.

Оценка эксперта: _____

Задание 2.

Игорь и Паша могут покрасить забор за 20 часов, Паша и Володя – за 21 час, а Володя и Игорь за 28 часов. За какое время покрасят забор мальчики, работая втроем. Ответ дайте в минутах. Ответ: 900 минут.

22.
 Буквами И, П и В я обозначил соответственно скорости Игоря, Паша и Володи (в $\frac{\text{забор}}{\text{час}}$)

$$\begin{cases} И + П = \frac{1}{20}; \\ П + В = \frac{1}{21}; \\ В + И = \frac{1}{28}; \end{cases}$$

$$\begin{cases} 20И + 20П = 1; \\ 21П + 21В = 1; \\ 28В + 28И = 1; \end{cases}$$

$$\begin{cases} 20П = 1 - 20И \\ 28И = 1 - 28В \\ И = \frac{1}{28} - В \end{cases}$$

$$\begin{cases} 20П = 1 - 20\left(\frac{1}{28} - В\right) \\ 20П = 1 - \frac{5}{7} + 20В \\ 20П = 20В + \frac{2}{7} \\ П = В + \frac{1}{70} \end{cases}$$

$$\begin{cases} 21П + 21В = 1 \\ 21\left(В + \frac{1}{70}\right) + 21В = 1 \\ 21В + 21В = 1 - \frac{21}{70} \\ 42В = 0,7 \\ 21В = 0,35 \\ 21П = 1 - 0,35 \\ 21П = 0,65 \\ \frac{В}{П} = \frac{0,35}{0,65} = \frac{7}{13} \end{cases}$$

$$\begin{cases} И + П = \frac{1}{20} \\ И + П = 3В \end{cases}$$

Пусть $x = \frac{В}{7}$, тогда:
 $П = 13x$; $21x = 0,05$

$$\begin{cases} И + 13x = 3 \cdot 7x \\ И = 21x - 13x \\ И = 8x \end{cases}$$

Скорость всех трех мальчиков вместе:

$$7x + 8x + 13x = 28x$$

За три часа они покрасят:

$$84x = 21x \cdot 4 = 0,05 \cdot 4 = 0,2 \text{ (забора)}$$

$$1 = \cancel{28x} \cdot 15$$

Они покрасят забор за 15 ч
 $15 \cdot 4 = 15 \cdot 60 = 900$ мин

Ответ: за 900 минут

Оценка эксперта: _____

Задание 3.

Игорь и Паша могут покрасить забор за 14 часов, Паша и Володя – за 15 часов, а Володя и Игорь за 30 часов. За какое время покрасят забор мальчики, работая втроем. Ответ дайте в минутах. Ответ: 700 минут.

№ 22

$$v_{ИИ} = \frac{1}{14}; \quad v_{ПВ} = \frac{1}{15}; \quad v_{ВИ} = \frac{1}{30} \text{ — машин.}$$

$$\frac{1}{14} + \frac{1}{15} + \frac{1}{30} = \frac{5}{6} \cdot \frac{6}{35} \Rightarrow t = \frac{35}{6} \text{ — но это двойная}$$

$\Rightarrow \frac{35}{3} \text{ ч} = 11 \frac{2}{3} \text{ (ч)} = 11 \text{ ч } 40 \text{ мин}$ время 11к учил
каждого покраси =>

Ответ: 11 ч 40 мин. или 700 мин.

Оценка эксперта: _____

Задание 4.

Игорь и Паша могут покрасить забор за 20 часов, Паша и Володя – за 21 час, а Володя и Игорь за 28 часов. За какое время покрасят забор мальчики, работая втроем. Ответ дайте в минутах. Ответ: 900 минут.

②②

И+П. 1	$\frac{1}{20}$	20
П+В. 1	$\frac{1}{21}$	21
В+И. 1	$\frac{1}{28}$	28
И+В+П. 1	$\frac{1}{x}$	x

Составлю и решу уравнение:

$$\frac{1}{20} + \frac{1}{21} + \frac{1}{28} = \frac{1}{x},$$
$$\frac{21+20+15}{420} = \frac{1}{x},$$
$$x(41+15) = 420 \cdot 1,$$
$$56x = 420,$$
$$x = \frac{420}{56} = 7,5 \text{ (ч).}$$

$\times 7,5$
 $\frac{60}{450,0}$

$$x = \frac{420}{56} = 7,5 \text{ (ч).}$$

$$2) 7,5 \text{ часов} = 7,5 \cdot 60 \text{ (мин.)} = 450 \text{ (мин.)}$$

Ответ: 450 минут.

Оценка эксперта: _____

Задание 5.

Игорь и Паша могут покрасить забор за 20 часов, Паша и Володя – за 21 час, а Володя и Игорь за 28 часов. За какое время покрасят забор мальчики, работая втроем. Ответ дайте в минутах. Ответ: 900 минут.

22.

	Игорь	Паша	Володя	
	t_1	t_2	t_3	
	$t_1 + t_2 = 20$	$t_2 + t_3 = 21$	$t_1 + t_3 = 28$	
1)	$t_2 = 20 - t_1$	$20 - t_1 + t_3 = 21$	$t_3 = 1 + t_1$	
		$t_1 + 1 + t_1 = 28$	$2t_1 = 27$	
			$t_1 = 13,5$, тогда	
			$t_2 = 6,5$	
			$t_3 = 14,5$	
2)	Тогда	$14,5 + 6,5 + 13,5 = 34,5$		
3)	Т.к. они работают втроем	$34,5 \cdot 3 = 11,5$		
	$11,5$ часов =	690 минут		
	Ответ:	690 минут = 11,5 часов		

Оценка эксперта: _____

Оценивание задания 21

Задание	1	2	3	4	5
Оценка эксперта	1	2	0	0	0

Задание 22 с развернутым ответом повышенного уровня сложности.

Задание для самостоятельной работы экспертов.

Задание 1.

Постройте график функции $y = \frac{7x-10}{7x^2-10x}$ и определите, при каких значениях k прямая $y = kx$ имеет с графиком ровно одну общую точку. Ответ: 0,49.

№23.

$$y = \frac{7x-10}{7x^2-10x} \quad y = \frac{1}{x}, \quad 7x^2-10x \neq 0 \quad x \neq 0 \text{ и } x \neq \frac{10}{7}$$

$$y \neq 0 \text{ и } y \neq 0,7$$

x	-4	-2	-1	-0,5	-0,25	0,25	0,5	1	2	4
y	-0,25	-0,5	-1	-2	-4	4	2	1	0,5	0,25

$$y = kx$$

$$k = \frac{y}{x}$$

$$k = \frac{10}{4} \quad 0,49$$

$$k = 0,49$$

Ответ: при $k = 0,49$ имеется 1 точка.

Оценка эксперта: _____

Задание 2.

Постройте график функции $y = \frac{7x-10}{7x^2-10x}$ и определите, при каких значениях k прямая $y = kx$ имеет с графиком ровно одну общую точку. Ответ: 0,49.

23) $y = \frac{7x-10}{7x^2-10x};$

ОДЗ: $7x^2-10x \neq 0.$

$x(7x-10) \neq 0.$

$x \neq 0$ или $7x-10 \neq 0.$

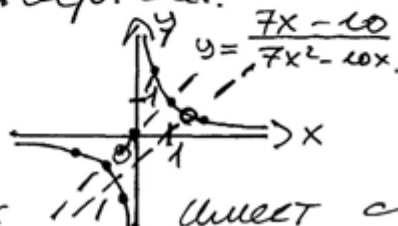
$x \neq \frac{10}{7}.$

$y = \frac{\cancel{7x-10}}{x \cancel{(7x-10)}};$

$y = \frac{1}{x}$ - обратная пропорциональность. График - гиперболы, ветви которой расположены в I и III координатных четвертях.

x	-2	-1	-0,5	0,5	1	2
y	-0,5	-1	-2	2	1	0,5

$y = kx.$



Ответ: не существует таких значений k , при которых $y = kx$ имеет с графиком функции ровно одну общую точку.

Оценка эксперта: _____

Задание 3.

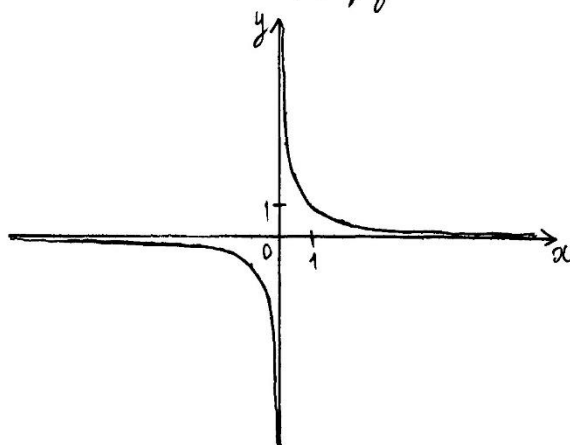
Постройте график функции $y = \frac{9x+1}{9x^2+x}$ и определите, при каких значениях k прямая

$y = kx$ имеет с графиком ровно одну общую точку. Ответ: 81.

№23.

$y = \frac{9x+1}{9x^2+x}$ - это обратная пропорциональность,
график: гипербола, расположенная
в I и III координатных четвертях.

x	1	-1	2
y	1	-1	$\frac{1}{2}$



$y = kx$, - это прямая пропорциональность, график: прямая,
проходящая через точку с коорд. (0;0).

Приравнивая графики, получаем:

$$kx = \frac{9x+1}{9x^2+x}$$

$$kx = \frac{9x+1}{(9x+1) \cdot x}$$

$$kx = \frac{1}{x}$$

$$kx^2 = 1, \Rightarrow \begin{cases} x = \frac{1}{k} \\ x = -\frac{1}{k} \end{cases}$$

Таким образом, при $k \neq 0$, имеется 2 возм. значения
"x", а при $k = 0$, - ни одного.

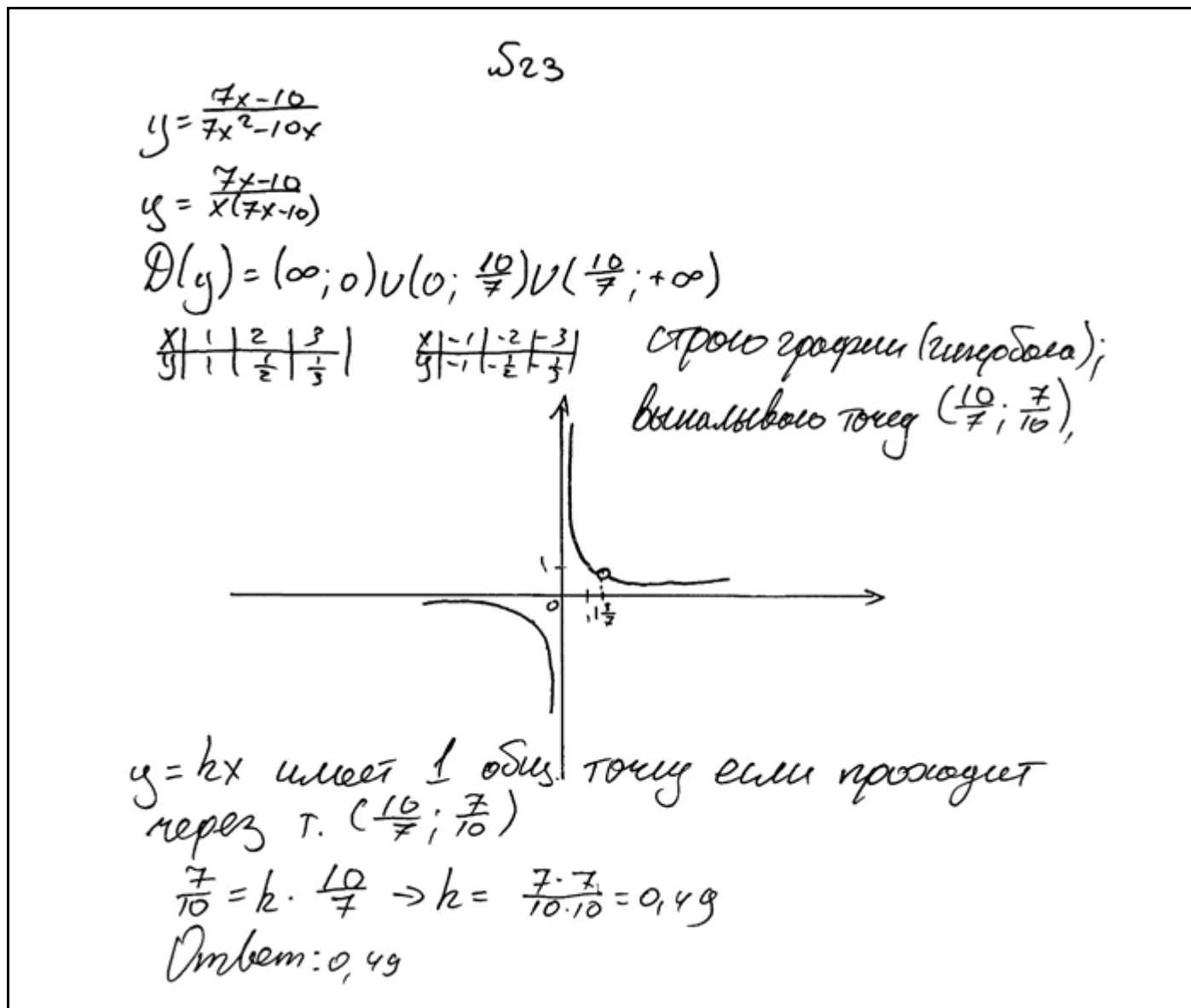
Ответ: нет таких "k".

Оценка эксперта: _____

Задание 4.

Постройте график функции $y = \frac{7x-10}{7x^2-10x}$ и определите, при каких значениях k

прямая $y = kx$ имеет с графиком ровно одну общую точку. Ответ: 0,49.



Оценка эксперта: _____

Задание 5.

Постройте график функции $y = \frac{9x+1}{9x^2+x}$ и определите, при каких значениях k прямая

$y = kx$ имеет с графиком ровно одну общую точку. Ответ: 81.

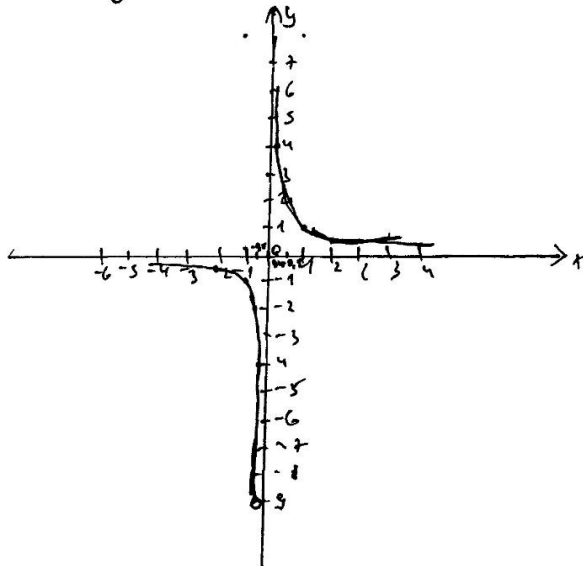
23). $y = \frac{9x+1}{9x^2+x}$ $D(y) = \mathbb{R}$, кроме 0 и $-\frac{1}{9}$.

$$y = \frac{9x+1}{9x(9x+1)}$$

$$y = \frac{1}{9x}, \text{ где } x \neq 0, x \neq -\frac{1}{9}$$

Графиком ф-ии является гипербала.
Составим таблицу.

x	y
-1	-1
0,5	2
-0,5	-2
0,25	4
-0,25	-4
2	0,5
-2	0,5



Прямая $y = kx$ имеет с графиком ф-ии ровно одну общую точку, когда k как $(-\frac{1}{9}) \cdot 9$ принаудителю кривой

Если $x = -\frac{1}{9}$, $y = -9$, то

$$-9 = -\frac{1}{9}k$$

$$k = 9$$

При $k=9$ прямая $y = kx$ имеет с графиком ф-ии ровно одну общую точку.

Ответ: 9.

Оценка эксперта: _____

Оценивание задание 22

Задание	1	2	3	4	5
Оценка эксперта	0	1	0	2	1

Задание 23 с развернутым ответом повышенного уровня сложности.

Задание для самостоятельной работы экспертов.

Задание 1.

Высота, опущенная из вершины ромба, делит противоположную сторону на отрезки равные 24 и 2, считая от вершины острого угла. Вычислите длину высоты ромба.

Ответ: 10.

$\sqrt{24}$

1) П.к. $DA=DC$ (ABCD-ромб) $\Rightarrow DA=24+2=26$
 2) По теореме Пифагора $AH^2 = DA^2 - DH^2 = 100 \Rightarrow AH=10$

Ответ: 10

Чертеж

Оценка эксперта: _____

Задание 2.

Высота, опущенная из вершины ромба, делит противоположную сторону на отрезки равные 24 и 2, считая от вершины острого угла. Вычислите длину высоты ромба.

Ответ: 10.

$\sqrt{4}$

1). Т.к. ABCD-ромб, у него все стороны равны
 $\Rightarrow AB=BC=DC=AD$
 2). Зная, что $DH=24$, а $CH=1$, мы найдем сторону CD , $CD=DH+HC=24+1=25$
 $\Rightarrow AB=BC=DC=AC=25$
 3). $\triangle AHC$ - прямоугольный, $\angle H=90^\circ$, т.к. AH - высота
 4). По теореме Пифагора найдем катет AH
 $AD^2 = DH^2 + AH^2$, отсюда выразим AH
 $AH = \sqrt{AD^2 - DH^2} = \sqrt{25^2 - 24^2} = \sqrt{625 - 576} = \sqrt{49} = \pm 7$
 $-7 < 0$, не подходит
 $AH = 7$

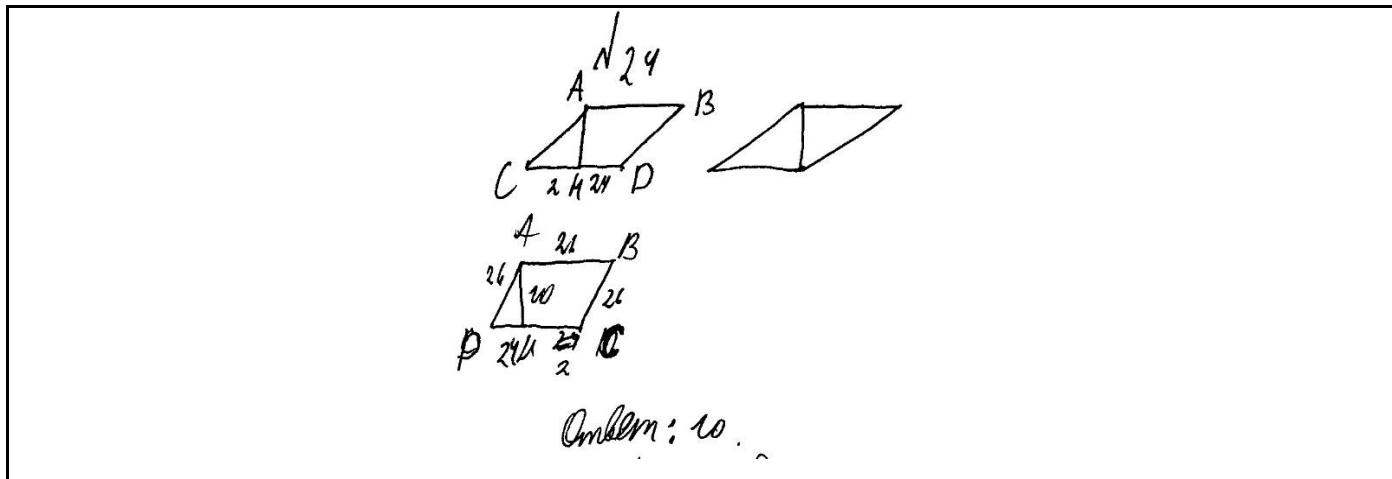
Ответ: 7

Оценка эксперта: _____

Задание 3.

Высота, опущенная из вершины ромба, делит противоположную сторону на отрезки равные 24 и 2, считая от вершины острого угла. Вычислите длину высоты ромба.

Ответ: 10.



Оценка эксперта: _____

Задание 4.

Высота, опущенная из вершины ромба, делит противоположную сторону на отрезки равные 24 и 2, считая от вершины острого угла. Вычислите длину высоты ромба.

Ответ: 10.

24

1) ABCD - ромб $\Rightarrow AB = BC = CD = AD = 24 + 2 = 26$

2) AK - высота $\Rightarrow \angle AKD = 90^\circ$, $\triangle AKD$ - прямоуголь.

3) По теореме Пифагора: $AK^2 = AD^2 - DK^2$
 $AK^2 = 26^2 - 2^2 = 676 - 4 = 672$
 $AK = \sqrt{672}$
 $AK = \sqrt{10}$ - не подходит по смыслу

Ответ: $AK = 10$

Оценка эксперта: _____

Оценивание задания 23

Задание	1	2	3	4
Оценка эксперта	2	1	0	2

Задание 24 с развернутым ответом повышенного уровня сложности.

Задание для самостоятельной работы экспертов.

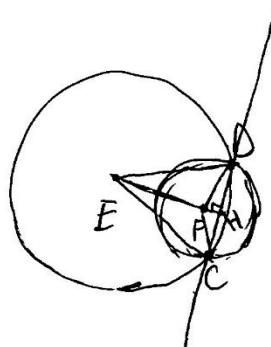

Задание 1.

Две окружности с центрами E и F пересекаются в точках C и D , центры E и F лежат по одну сторону относительно прямой CD . Докажите, что прямая CD перпендикулярна прямой EF .

№ 25

Дано: окружности с центрами E и F , пересекаются в точках C и D ; E, F лежат по одну сторону от прямой CD
Док-ть: $CD \perp EF$

Решение:



$\triangle CED$ и $\triangle CFD$ - равнобедренные т.к.
 EC, ED, FD, FC - радиусы

CD - хорда

Проверим высоту EH и FH к прямой CD
 EH и FH - расстояние от центра до хорды
образует прямой угол и является медианой.

~~т.к.~~ $\triangle ECD$ и $\triangle CFD$ равнобедренные и $\angle CED$ и
 $\angle CFD$ опираются на одну и ту же дугу

EH - серединный перпендикуляр. точка F
лежит на серединном перпендикуляре и равноудале-
на от концов хорды. т.к. F лежит на EH и
образует с CD 90° $CD \perp EF$ ч.т.д.

Оценка эксперта: _____

Задание 2.

Две окружности с центрами E и F пересекаются в точках C и D , центры E и F лежат по одну сторону относительно прямой CD . Докажите, что прямая CD перпендикулярна прямой EF .

25.

1) Рассмотрим $\triangle PKL$ - он P/O по определению т.к. $PK = PL$ как радиусы окружности с центром $P \Rightarrow$ по св-ву P/O при-ле $\angle PKL = \angle PLK$

2) P/O секу $LF \parallel PK$ $KF \parallel PL$
Значит $\begin{cases} \angle PKL = \angle KLF \\ \angle PLK = \angle LKF \end{cases}$ как накр/лет при пер. прямых PK и LF и секу $KL \Rightarrow$
 $\Rightarrow \angle KLF = \angle PLK \Rightarrow LA$ - осн-са $\triangle PKL$
 $\angle LKF = \angle PLK \Rightarrow \angle LKF = \angle PLK = \angle LKL \Rightarrow \triangle KFL$ - P/O по св-ву.

3) $\triangle PKL = \triangle PLK$ по 3 сторонам:
 • $PK = PL$ как радиусы
 • $KF = LF$ (пункт 2)
 • $PL = PL$ - общая
 $\Rightarrow \angle KPL = \angle LPK$

4) Из п.3 следует, что PH - осн-са $\triangle PKL$. Из п.1 - $\triangle PKL$ - P/O : по св-ву P/O при-ле AB делит AB пополам и является высотой $\Rightarrow \angle PHK = 90^\circ$, а по условию $AB \perp CD \Rightarrow PH \perp CD$, т.д.

Оценка эксперта: _____

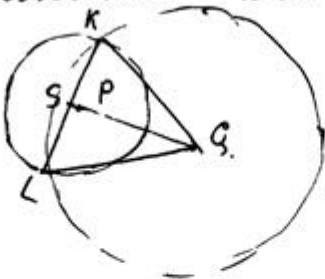
Задание 3.

Две окружности с центрами E и F пересекаются в точках C и D , центры E и F лежат по одну сторону относительно прямой CD . Докажите, что прямая CD перпендикулярна прямой EF .

25. Дано: ~~Решение~~ Док-во:

окр $(P; R_1)$
окр $(Q; R_2)$

Док-ть
 $PQ \perp KL$



1. Проведем $KQ = LQ$ - радиусы окр.
 $\triangle KQL$ - р/б. т.к. $KQ = LQ \Rightarrow$
 $\angle LKQ = \angle KQL$.
2. Доведем QP до отрезка KL
3. т.к. $(\cdot)P$ - центр окр $(\cdot)K$ и $(\cdot)L$ равноудалены от нее. Тогда P лежит на отрезке $QS \Rightarrow$
 $(\cdot)K$ и $(\cdot)L$ равноудалены от $(\cdot)S \Rightarrow$
 $KS = SL \Rightarrow QS$ - медиана.
4. В равнобедренном \triangle медиана = высоте и биссектрисе $\Rightarrow QS$ - высота $QS \perp KL$ - основание.
 QP лежит на $QS \Rightarrow QP \perp KL$.
Ч.Т.Д.

Оценка эксперта: _____

Задание 4.

Две окружности с центрами E и F пересекаются в точках C и D , центры E и F лежат по одну сторону относительно прямой CD . Докажите, что прямая CD перпендикулярна прямой EF .

25)

Рассмотрим $\triangle KQ L$ и $\triangle K P L$
 проведем KQ и QL ,
 затем KP и PL

Дано: окр. (P, r_1)
 окр. (Q, r_2)
 окр. $(P, r_1) \cap$ окр. $(Q, r_2) = K, L$

$\left. \begin{array}{l} KQ = QL \text{ как радиусы} \\ KP = PL \text{ как радиусы} \\ PQ - \text{общая сторона} \end{array} \right\} \Rightarrow \triangle K P Q = \triangle Q P L$

$\angle K Q P = \angle P Q L$ как соответствующие элементы.

Следовательно QH - биссектриса

Так как $KQ = QL$, $\triangle K Q L$ - равнобедренный. По св-ву равнобедренного треугольника биссектриса, проведенная к основанию, является высотой ч.т.д.

Оценка эксперта: _____

Оценивание задания 24

Задание	1	2	3	4
Оценка эксперта	0	1	0	2

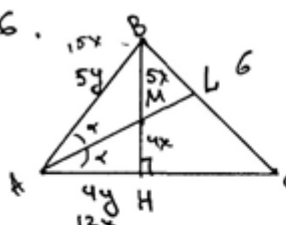
Задание 25 с развернутым ответом высокого уровня сложности.

Задание для самостоятельной работы экспертов.

Задание 1.

Биссектриса угла A , треугольника ABC делит высоту BH в отношении $5:4$, считая от вершины. BC равно 6. Найдите радиус описанной окружности. Ответ: 5.

√26.



Дано:
 $ABC - \Delta$
 $BH - h$
 $AL - l$
 $AL \cap BH = T.M$
 $BM : MH = 5 : 4$
 $BC = 6$
 $R - ?$

Решение:
 По Т. о Биссектрисе
 $\Delta B \Delta ABH$ $AM - l$
 $\frac{AB}{AH} = \frac{BM}{MH} = \frac{5}{4}$
 по Т. Пифагора
 $\Delta ABH, \Delta ABH - \Delta H = 90^\circ$
 $AB^2 = BH^2 + AH^2$
 $25y^2 = 16y^2 + 81x^2$
 $9y^2 = 81x^2$
 $3y = 9x$
 $y = 3x$
 Ответ: 5

$\sin \angle A = \frac{BH}{AH} = \frac{9x}{15x} = 0,6$
 По Т. sin
 $2R = \frac{BC}{\sin \angle A}$
 $2R = \frac{6}{0,6}$
 $2R = 10$
 $R = 5$

Оценка эксперта: _____

Задание 2.

Биссектриса угла A , треугольника ABC делит высоту BH в отношении $5:4$, считая от вершины. BC равно 6. Найдите радиус описанной окружности. Ответ: 5.



Дано: AD - бис. $\angle A$; BH - выс.; $\frac{BO}{OH} = \frac{5}{4}$
 $BC = 6$ Найти: R - ?

Решение:

№20

1) по свойству биссектрисы треугольника: $\frac{BO}{OH} = \frac{AB}{AH} = \frac{5}{4}$ и по т.п. по свойству высоты (как среднее пропорциональное) получали, что $\frac{BC}{HC} = \frac{5}{4}$

2) пусть x - 1 часть

$$\frac{BC}{HC} = \frac{5}{4} \quad \frac{6}{HC} = \frac{5x}{4x} \quad HC = \frac{6 \cdot 4x}{5x} = \frac{24}{5} = 4,8$$

3) $\triangle BHC$ ($\angle H = 90^\circ$): по теореме Пифагора: $BC^2 = BH^2 + HC^2$
 $BH^2 = 6^2 - 4,8^2$ $BH^2 = (6-4,8)(6+4,8) = 1,2 \cdot 10,8$ $BH = 3,6$

4) $\triangle AHB$ ($\angle H = 90^\circ$): по теореме Пифагора: $AB^2 = AH^2 + BH^2$
 $25x^2 = 16x^2 + 12,96$ $9x^2 = 12,96$ $x^2 = 1,44$ $x = 1,2$ - 1 часть

$$AB = 1,2 \cdot 5 = 6$$

5) по теореме синусов: $2R = \frac{AB}{\sin \angle H}$; $2R = \frac{6}{1}$

$$2R = 6 \quad R = 3$$

Ответ: $R = 3$.

Оценка эксперта: _____

Задание 3.

Биссектриса угла A , треугольника ABC делит высоту BH в отношении $5:4$, считая от вершины. BC равно 6. Найдите радиус описанной окружности. Ответ: 5.

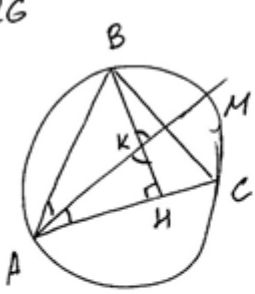
ΔABC $\overset{\text{Равно:}}{\sim} \Delta ALC$ AL - биссектриса $S = \frac{abc}{4R}$
 $\frac{BO}{OH} = \frac{5}{4}$ $\text{Катеты: } R$
 $BC = 6$
 Пусть x - катет $OH = 4x$, $BO = 5x$
 $HC = \sqrt{36 - 81x^2}$
 $\Delta AOB \sim \Delta AOC$ (2 признака)
 $\frac{AO}{AK} = \frac{BO}{OH} = \frac{AB}{AO}$
 $\frac{AO}{AK} = \frac{5}{4} = \frac{AB}{AO}$ y - катет $AO = 5y$
 $AK = 4y$
 $AO^2 = AB \cdot AK$
 $(5y)^2 = AB \cdot 4y$
 $25y^2 = 4y \cdot AB$
 $AB = \frac{25y}{4}$
 $AO = 5y$
 $OH = 4x$
 $BO = 5x$
 $HC = \sqrt{36 - 81x^2}$
 $(5y)^2 + (4x)^2 = (5y)^2$
 $16y^2 + 16x^2 = 25y^2$
 $16x^2 = 9y^2$
 $x^2 = \frac{9y^2}{16}$
 $x = \frac{3y}{4}$
 $BO = 5 \cdot \frac{3y}{4} = \frac{15y}{4}$
 $OH = 4 \cdot \frac{3y}{4} = 3y$
 $(3y + \frac{15y}{4})^2 + 36 - \frac{81 \cdot 9y^2}{16} = 36$
 $(\frac{12y + 15y}{4})^2 = \frac{81 \cdot 9y^2}{16}$
 $\frac{27y^2}{16} + \frac{225y^2}{16} + 2 \cdot 3y \cdot \frac{15y}{4} = \frac{81 \cdot 9y^2}{16}$
 $81 \cdot 16y^2 + 225y^2 + 4 \cdot 2 \cdot 3y \cdot 15y = 81 \cdot 9y^2$
 $9y^2 + \frac{225y^2}{16} + 2 \cdot 3y \cdot \frac{15y}{4} = \frac{81 \cdot 9y^2}{16}$
 $9 \cdot 16y^2 + 225y^2 + 8 \cdot 3y \cdot 15y = 81 \cdot 9y^2$

Оценка эксперта: _____

Задание 4.

Биссектриса A , треугольника ABC делит высоту BH в отношении $25:24$, считая от вершины. BC равно 14. Найдите радиус описанной окружности. Ответ: 25.

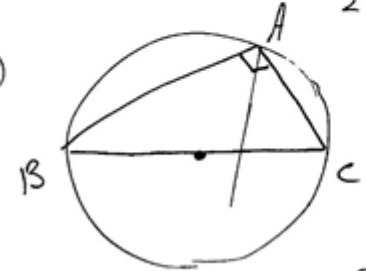
№26G



Решение

- $\angle BKM$ опирается на ту же дугу что и $\angle BAM$, значит $\angle BKM = \angle BAM$
- $\angle BKM = \angle AKH$, как вертикальные углы
 $\angle BKM = \angle BAM = \angle MAC$
- Рассмотрим $\triangle AKH$:
 $\angle AHB = 90^\circ$ - прямой, так BH - высота к AC .
 $\angle KAH = \angle AKH$ (по ②), то
 $\angle KAC = 45^\circ$
- $\angle BAC = \angle BAM + \angle MAC$
 $\angle MAC = 45^\circ = \angle BAM$, то
 $\angle BAC = 45^\circ + 45^\circ = 90^\circ$
 $\angle BAC = 90^\circ$, то
 $BC = d = 2R = 14$
 $R = 7$

5)



Ответ: 7

Дано
 $\triangle ABC$
 AM - биссектриса
 BH - высота
 $BK : KH = 25 : 24$
 $BC = 14$
 $R = ?$

Оценка эксперта: _____

Оценивание задания 25

Задание	1	2	3	4
Оценка эксперта	2	0	0	0

5. Тренировочные варианты.

Вариант 1.

№1. Решите уравнение $\frac{1}{x^2} + \frac{4}{x} - 12 = 0$. Ответ: $x = 0,5$, $x = -\frac{1}{6}$.

Баллы	Содержание критерия
2	Обоснованно получен верный ответ
1	Решение доведено до конца, но допущена описка или ошибка вычислительного характера, с её учётом дальнейшие шаги выполнены верно
0	Решение не соответствует ни одному из критериев, перечисленных выше
2	<i>Максимальный балл</i>

521.

$$\frac{1}{x^2} + \frac{4}{x} - 12 = 0$$
$$\frac{1}{x} = t$$
$$t^2 + 4t - 12 = 0$$
$$D = 16 + 48 = 64$$
$$t = \frac{-4 + 8}{2} = 2$$
$$t = \frac{-4 - 8}{2} = -6$$
$$\frac{1}{x} = 2 \quad \text{или} \quad \frac{1}{x} = -6$$
$$x = \frac{1}{2} \quad \text{или} \quad x = -\frac{1}{6}$$

Ответ: $(-\frac{1}{6}; \frac{1}{2})$

Оценка эксперта: _____

Комментарий: _____

№2. Решите уравнение $\frac{1}{(x-1)^2} + \frac{3}{x-1} - 10 = 0$. Ответ: $x = 1,5$, $x = 0,8$.

№21.

$$\frac{1}{(x-1)^2} + \frac{3}{x-1} - 10 = 0, \text{ домножим на } -(x-1)^2$$

$$\Downarrow$$

$$\begin{cases} 10 \cdot (x-1)^2 - 3(x-1) - 1 = 0 \\ x \neq 1 \end{cases}$$

$$\uparrow x+1$$

$$\begin{cases} 10x^2 - 23x + 12 = 0 \end{cases}$$

$$\Downarrow$$

$$10k^2 - 15k - (8k - 12) = 0; k \neq 1$$

$$\Downarrow$$

$$5k(2k-3) - 4(2k-3) = 0; k \neq 1$$

$$\Downarrow$$

$$(5k-4)(2k-3) = 0; k \neq 1$$

$$\Downarrow$$

$$\begin{cases} x \neq 1 \\ x = 0,8 \\ x = 1,5 \end{cases}$$

$$\Downarrow$$

$$\begin{cases} x = 0,8 \\ x = 1,5 \end{cases}$$

Ответ: $\{0,8; 1,5\}$

Оценка эксперта: _____

Комментарий: _____

№3. Решите уравнение $\frac{1}{(x-1)^2} + \frac{3}{x-1} - 10 = 0$. Ответ: $x = 1,5$, $x = 0,8$.

$$21. \frac{1}{(x-1)^2} + \frac{3}{x-1} - 10 = 0$$

$$\frac{1}{(x-1)^2} + \frac{3}{x-1} = 10$$

$$\frac{1 + 3(x-1)}{(x-1)^2} = 10$$

$$\frac{1 + 3x - 3}{(x-1)^2} = 10$$

$$\frac{3x - 2}{x^2 - 2x + 1} = 10$$

$$3x - 2 = 10(x^2 - 2x + 1)$$

$$3x - 2 = 10x^2 - 20x + 10$$

$$10x^2 - 20x + 10 - 3x + 2 = 0$$

$$10x^2 - 23x + 12 = 0$$

$$D = b^2 - 4ac = 529 - 4 \cdot 10 \cdot 12 = 529 - 480 = 49 > 0 \Rightarrow 2$$

различных корней.

$$x_{1,2} = \frac{-b \pm \sqrt{D}}{2a} = \frac{23 \pm 7}{20}$$

$$\frac{23+7}{20} = \frac{30}{20} = 1,5$$

$$\frac{23-7}{20} = \frac{16}{20} = 0,8$$

Ответ: $x_1 = 0,8$

$x_2 = 1,5$.

Оценка эксперта: _____

Комментарий: _____

№4. Игорь и Паша могут покрасить забор за 20 часов, Паша и Володя – за 21 час, а Володя и Игорь за 28 часов. За какое время покрасят забор мальчики, работая втроем. Ответ дайте в минутах. Ответ: 900 минут.

Баллы	Содержание критерия
2	Ход решения задачи верный, получен верный ответ
1	Ход решения верный, все его шаги присутствуют, но допущена описка или ошибка вычислительного характера
0	Решение не соответствует ни одному из критериев, перечисленных выше
2	Максимальный балл

Реш.

Пусть произв. Игоря = $\frac{1}{x}$ р/ч, Паша = $\frac{1}{y}$ р/ч, Володя $\frac{1}{z}$ р/ч,
 Тогда $\frac{1}{x} + \frac{1}{y} = \frac{1}{20}$, $\frac{1}{y} + \frac{1}{z} = \frac{1}{21}$, $\frac{1}{z} + \frac{1}{x} = \frac{1}{28}$ р/ч.
 $\frac{1}{x} + \frac{1}{y} + \frac{1}{z} = ???$

Сложив 3 уравнения получим

$$2\left(\frac{1}{x} + \frac{1}{y} + \frac{1}{z}\right) = \frac{1}{20} + \frac{1}{21} + \frac{1}{28}$$

$$2\left(\frac{1}{x} + \frac{1}{y} + \frac{1}{z}\right) = \frac{21}{420} + \frac{20}{420} + \frac{15}{420} \quad \frac{56}{420} = \frac{2}{15}$$

$$2\left(\frac{1}{x} + \frac{1}{y} + \frac{1}{z}\right) = \frac{2}{15}$$

$\frac{1}{x} + \frac{1}{y} + \frac{1}{z} = \frac{1}{15}$ за час они втроем сделают $\frac{1}{15}$ работы
 Значит все они выполнят за 15 часов.
 Ответ: 15ч.

Оценка эксперта: _____

Комментарий: _____

№5. Игорь и Паша могут покрасить забор за 14 часов, Паша и Володя – за 15 часов, а Володя и Игорь за 30 часов. За какое время покрасят забор мальчики, работая втроем. Ответ дайте в минутах. Ответ: 700 минут.

№ 22

Пусть x забор/ч – производительность (скорость покраски) Паша, y ч/забор – Игорь, а z ч/забор – Володя. Тогда $\frac{1}{x+y}$ ч – время покраски забора Пашей и Игорем, $\frac{1}{x+z}$ ч – Пашей и Володей, $\frac{1}{y+z}$ ч – Игорем и Володей. А по условию задачи эти времена равны соответственно 14 ч, 15 ч и 30 ч. Составим и решим систему уравнений.

$$\begin{cases} \frac{1}{x+y} = 14 \\ \frac{1}{x+z} = 15 \\ \frac{1}{y+z} = 30 \end{cases}$$

$$1) \frac{1}{x+y} = 14$$

$$\begin{cases} x+y \neq 0 \\ x+y = \frac{1}{14} \end{cases}$$

$$\begin{cases} x+y \neq 0 \\ y = \frac{1}{14} - x \end{cases}$$

$$2) \frac{1}{x+z} = 15$$

$$\begin{cases} x+z \neq 0 \\ x+z = \frac{1}{15} \end{cases}$$

$$\begin{cases} x+z \neq 0 \\ z = \frac{1}{15} - x \end{cases}$$

$$3) \frac{1}{y+z} = 30$$

$$\begin{cases} y+z \neq 0 \\ y+z = \frac{1}{30} \end{cases}$$

$$\begin{cases} \frac{1}{14} - x + \frac{1}{15} - x \neq 0 \\ \frac{1}{14} - x + \frac{1}{15} - x = \frac{1}{30} \end{cases}$$

$$4) \frac{1}{x+y+z} = \frac{1}{\frac{1}{210} + \frac{2}{105} + \frac{1}{70}} = \frac{1}{\frac{1}{210} + \frac{4}{210} + \frac{3}{210}} = \frac{1}{\frac{8}{210}} =$$

$$= \frac{210}{8} = \frac{35}{1} = 11 \frac{2}{3} \text{ ч} = 11 \text{ ч } 40 \text{ мин}$$

(время покраски забора, если бы все 3 мальчика работали вместе)

Ответ: $11 \frac{2}{3}$ ч

$$\begin{cases} \frac{29}{210} \neq 2x \\ 2x = \frac{29}{210} - \frac{7}{210} \end{cases}$$

$$\begin{cases} x \neq \frac{29}{420} \\ x = \frac{22}{420} \end{cases}$$

$$x = \frac{11}{210}$$

$$\Rightarrow y = \frac{1}{14} - \frac{11}{210} = \frac{4}{210} = \frac{2}{105}$$

$$\Rightarrow z = \frac{1}{15} - \frac{11}{210} = \frac{3}{210} = \frac{1}{70}$$

Оценка эксперта: _____

Комментарий: _____

№6. Игорь и Паша могут покрасить забор за 20 часов, Паша и Володя – за 21 час, а Володя и Игорь за 28 часов. За какое время покрасят забор мальчики, работая втроем. Ответ дайте в минутах. Ответ: 900 минут.

22

Пусть Паша красит за 1 час x часть забора,
 Тогда Володя красит за 1 час y часть забора,
 а Игорь – z часть забора.

Паша и Володя красят за час $x+y$ часть забора, Володя и Игорь – $z+y$,
 а Игорь и Паша – $x+z$.

Паша за 20 часов П. и И. красят весь забор: $1 = 20(x+z)$
 За 21 час весь забор закрасивают Паша и Володя:
 $1 = 21(y+z)$. а В. и И. за 28 часов: $1 = 28(z+y)$

$$\begin{cases} 20(x+z) = 1 \\ 21(y+z) = 1 \\ 28(z+y) = 1 \end{cases} \Leftrightarrow \begin{cases} 420(x+z) = 21 \\ 420(x+y) = 20 \\ 420(z+y) = 15 \end{cases} \Leftrightarrow \begin{cases} 420x + 420z = 21 \\ 420x + 420y = 20 \\ 420z + 420y = 15 \end{cases}$$

Сложим 1 и 3 уравнения и вычтем 2

$$420x + 420z + 420z - 420x + 420y = 21 + 15 - 20$$

$$840z = 16 \quad z = \frac{16}{840}$$

Сложим 2 и 3 уравнения и вычтем 1: $420y + 420z + 420z + 420x -$
 $- 420x - 420y = 20 + 15 - 21 \quad 840z = 14 \quad z = \frac{14}{840}$

Сложим 1 и 3 уравнения и вычтем 2

$$420x + 420y + 420z + 420x - 420y - 420z = 21 + 15 - 20$$

$$840x = 16 \quad x = \frac{16}{840}$$

Все вместе они красят $x+y+z$ часть забора: $\frac{16 + 14 + 16}{840} = \frac{46}{840} = \frac{23}{420}$
 , а за $\frac{420}{23}$ часов они красят весь забор, $= 18 \text{ часов} = 18 \cdot 60 \text{ минут} =$
 $= 1080 \text{ минут}$

Ответ: За 900 минут.

Оценка эксперта: _____

Комментарий: _____

№7. Постройте график функции $y = \frac{9x+1}{9x^2+x}$ и определите, при каких значениях k

прямая $y = kx$ имеет с графиком ровно одну общую точку. Ответ: 81.

Баллы	Содержание критерия
2	График построен верно, верно найдены искомые значения параметра
1	График построен верно, но искомые значения параметра найдены неверно или не найдены
0	Решение не соответствует ни одному из критериев, перечисленных выше
2	Максимальный балл

№23

$$y = \frac{9x+1}{9x^2+x} = \frac{9x+1}{x(9x+1)} = \frac{1}{x} \quad \text{ОДЗ: } \begin{cases} 9x^2+x \neq 0 \\ x(9x+1) \neq 0 \\ x \neq 0; 9x+1 \neq 0 \\ 9x \neq -1 \\ x \neq -\frac{1}{9} \end{cases}$$

$y = \frac{1}{x}$ - графиком функции является гипербола

x	1	-1	2	-2	4	-4
y	1	-1	0,5	-0,5	0,25	-0,25

$$y = kx$$

$$k \cdot \left(-\frac{1}{9}\right) = -9$$

$$k = -9 : \left(-\frac{1}{9}\right) = -9 \cdot \left(-\frac{9}{1}\right)$$

$$k = -81$$


$$k = 0$$

Ответ: при $k = -81$ и $k = 0$ прямая $y = kx$ имеет с графиком ровно одну общую точку.

Оценка эксперта: _____

Комментарий: _____

№8. Постройте график функции $y = \frac{9x+1}{9x^2+x}$ и определите, при каких значениях k прямая $y = kx$ имеет с графиком ровно одну общую точку. Ответ: 81.



Оценка эксперта: _____

Комментарий: _____

№9. Высота, опущенная из вершины ромба, делит противоположную сторону на отрезки равные 24 и 2, считая от вершины острого угла. Вычислите длину высоты ромба.

Ответ: 10.

Баллы	Содержание критерия
2	Ход решения верный, все его шаги выполнены правильно, получен верный ответ
1	Ход решения верный, все его шаги выполнены правильно, но даны неполные объяснения или допущена одна вычислительная ошибка
0	Решение не соответствует ни одному из критериев, перечисленных выше
2	Максимальный балл

24.

Найти: OH ?

Решение:

- 1) Т.к. $ABCD$ - ромб $\Rightarrow AB = CD = BC = DA = 26$ см
- 2) По свойству катетов AD , лежащий против $\angle 30^\circ (\angle ADB)$ равен $\frac{1}{2} AB$ (катет к гипотенузе) $\Rightarrow AD = 13$ см. Т.к. $AD = DC$ - диаг. ромба $\Rightarrow AD = DC = 13$ см
- 3) По свойству диагоналей AC и BD $\angle 2$ равны $\Rightarrow BD = 26 \cdot 2 = 52$ см
- 4) Рассм. в DMH - прямоугольном; По ∇ Пифагора:

$$26^2 = 24^2 + OH^2$$

$$676 = 576 + OH^2$$

$$OH^2 = 676 - 576$$

$$OH^2 = 100$$

$$OH = 10$$

Ответ: $OH = 10$ см

Оценка эксперта: _____

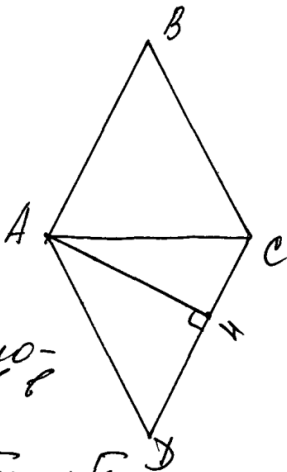
Комментарий: _____

№10. Высота, опущенная из вершины ромба, делит противоположную сторону пополам, на отрезки равные 1. Вычислите длину высоты ромба. Ответ: $\sqrt{3}$.

24

Дано:
 $ABCD$ - ромб
 $AH \perp CD$
 AH - высота
 $CH = 1$
 $DH = 1$

 $HI \perp AH$



1. по т. о пропорциональных отрезков в $\triangle ACD$

$$AH = \sqrt{CH \cdot HD} = \sqrt{1 \cdot 1} = 1$$

Ответ: $AH = 1$

Оценка эксперта: _____

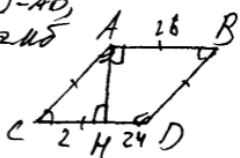
Комментарий: _____

№11. Высота, опущенная из вершины ромба, делит противоположную сторону на отрезки равные 24 и 2, считая от вершины острого угла. Вычислите длину высоты ромба. Ответ: 10.

№ 24.

Дано:
 $ABCD$ - ромб
 AH - высота
 $DH = 24$
 $CH = 2$
 Найти: $AH = ?$

Решение:
 $CD = CA = BD = AB$
 т.к. $ABCD$ - ромб
 \downarrow
 $CH + HD = 26$
 $CD = AB = AC = BD = 26$, т.к.



$26^2 = (CH + HD)^2 = (2 + 24)^2 = 26^2$ (по теор. Пифагора)

$$AH^2 = 26^2 - 2^2 = 676 - 4 = 672$$

$$AH = \sqrt{672} = 4\sqrt{42}$$

Ответ: $4\sqrt{42}$.

Оценка эксперта: _____

Комментарий: _____

№12. Две окружности с центрами E и F пересекаются в точках C и D , центры E и F лежат по одну сторону относительно прямой CD . Докажите, что прямая CD перпендикулярна прямой EF .

Баллы	Содержание критерия
2	Доказательство верное, все шаги обоснованы
1	Доказательство в целом верное, но содержит неточности
0	Решение не соответствует ни одному из критериев, перечисленных выше
2	Максимальный балл

№ 25

Дано:
 окружность с центром в P и радиусом R ;
 окружность с центром в Q и радиусом r .

До-ть: $PQ \perp KL$

Решение

1) E - точка пересечения дуг PQ и KL

2) Проведём радиусы R от центра окружности P к точкам K и L . Мы получили $\triangle PKL$.

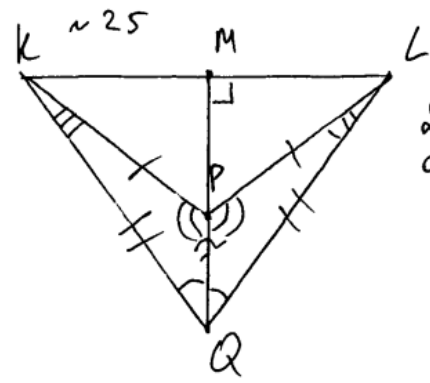
3) Рассмотрим $\triangle PKL$:
 $PK = PL$ ($R = PK = PL$) $\Rightarrow \triangle PKL$ - равнобедр.
 $\angle KLP = \angle LKP$

4) По т. кос в $\triangle PLE$ и $\triangle PKE$:
 $PE^2 = R^2 + EL^2 - 2R \cdot EL \cdot \cos \angle KLP$
 $PE^2 = R^2 + KE^2 - 2R \cdot KE \cdot \cos \angle LKP$
 \Downarrow
 $R^2 + EL^2 - 2R \cdot EL \cdot \cos \angle KLP = R^2 + KE^2 - 2R \cdot KE \cdot \cos \angle LKP$
 $\angle KLP = \angle LKP$
 \Downarrow
 $EL = KE$
 PE - медиана P в $\triangle PKL$
 \Downarrow
 PE - высота $\triangle PKL$ по св-ву медианы в \triangle

Оценка эксперта: _____

Комментарий: _____

№13. Две окружности с центрами P и Q пересекаются в точках K и L , центры P и Q лежат по одну сторону относительно прямой KL . Докажите, что прямая PQ перпендикулярна прямой KL .



Дано:
 окружности с
 центрами
 P и Q , и
 радиусами PK и QK соответв.
 Доказать:
 $PQ \perp KL$

Доказательство
 $QK = QL$ (R одной окр)
 $PK = PL$ (R одной окр)
 $\triangle PKQ = \triangle PLQ$ (3 признака)
 MQ - биссектриса угла KQL , она же
 является и медианой и высотой
 т.к. ($KQ = QL$)
 $PQ \perp KL$ (т.к. отрезок PQ лежит на
 прямой MQ , которая $\perp KL$, соответ
 ственно KL также $\perp PQ$)

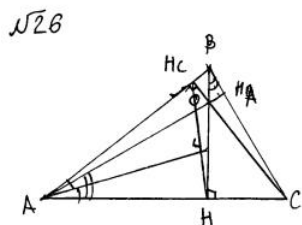
Оценка эксперта: _____

Комментарий: _____

№14. Биссектриса угла A , треугольника ABC делит высоту BH в отношении $5:4$, считая от вершины. Длина BC равна 6 . Найдите радиус описанной окружности.

Ответ: 5 .

Баллы	Содержание критерия
2	Ход решения верный, получен верный ответ
1	Ход решения верный, все его шаги присутствуют, но допущена описка или ошибка вычислительного характера
0	Решение не соответствует ни одному из критериев, перечисленных выше
2	Максимальный балл



1) Пусть AL - биссектриса и BL : $LN = 5:4 \Rightarrow AB:AN = 5:4 \Rightarrow AB = 5x$ и $AN = 4x$, т.к. $\triangle ABC$ - прямоугольный то $BH = 3x$.

2) Пусть AN - высота, тогда четырехугольник $ABHN$ - вписанный \Rightarrow
 $\angle OAN = \angle HBC \Rightarrow \triangle AON \sim \triangle HBC \Rightarrow \frac{AO}{BC} = \frac{AN}{BH} = \frac{4}{3} \Rightarrow AO = \frac{4}{3} \cdot BC = 8$

3) Пусть AN - высота, тогда $\triangle ANH$ - вписанный и $\triangle ANH$ - прямоугольный, то ON диаметр описанной окружности этого четырехугольника \Rightarrow радиус описанной окружности $\triangle ANH = 5$.

4) Пусть AN - высота, тогда $\triangle ANH$ - вписанный, то $\angle ABC = \angle ANH \Rightarrow$
 $\triangle ANH \sim \triangle ABC \Rightarrow \frac{r_{ABC}}{r_{ANH}} = \frac{AB}{AN} = \frac{5}{4} \Rightarrow r_{ABC} = \frac{5}{4} \cdot r_{ANH} = 5$

Ответ: 5 .

Оценка эксперта: _____

Комментарий: _____

№15. Биссектриса A , треугольника ABC делит высоту BH в отношении $25:24$, считая от вершины. Длина BC равна 14 . Найдите радиус описанной окружности.

Ответ: 25 .

26.

Решено:
 $\frac{AM}{BH} = \frac{24}{25}$
 $BC = 14$
 Найти:
 R

Решение:
 $\triangle AMH$ - биссектриса (по условию)

$$\frac{AM}{AB} = \frac{MH}{BH} = \frac{24}{25}$$

Пусть $AM = 24y$, тогда
 $AB = 25y$
 $MB = 7y$ (по теореме Пифагора)

$$\sin \angle A = \frac{7}{25}$$

$$2R = \frac{CB}{\sin \angle A} = \frac{14}{\frac{7}{25}} = 50$$

$$R = 25$$

Ответ: 25 .

Оценка эксперта: _____

Комментарий: _____

Вариант 2.

№1. Решите уравнение $\frac{1}{(x-1)^2} + \frac{3}{x-1} - 10 = 0$. Ответ: $x = 1,5$, $x = 0,8$.

Баллы	Содержание критерия
2	Обоснованно получен верный ответ
1	Решение доведено до конца, но допущена описка или ошибка вычислительного характера, с её учётом дальнейшие шаги выполнены верно
0	Решение не соответствует ни одному из критериев, перечисленных выше
2	Максимальный балл

$$\textcircled{21} \quad \frac{1}{(x-1)^2} + \frac{3}{x-1} - 10 = 0$$

1) Пусть $(x-1) = t$, тогда.

$$\frac{1}{t^2} + \frac{3}{t} - 10 = 0$$

$$\frac{1 + 3t - 10t^2}{t^2} = 0 \quad t^2 \neq 0$$

$$\Rightarrow -10t^2 + 3t + 1 = 0 \quad | \cdot (-1)$$

$$10t^2 + 3t - 1 = 0$$

$$D = 9 + 4 \cdot \overset{40}{1 \cdot 10} = 49$$

$$\sqrt{D} = 7$$

$$t_1 = \frac{3+7}{20} = 0,5$$

$$t_2 = \frac{3-7}{20} = \frac{-4}{20} = -0,2$$

Ответ: $-0,2$ и $0,8$.

2) $(x-1) = t$, следовательно:

$$\bullet x-1 = 0,5$$

$$x = 1,5$$

$$\bullet x-1 = -0,2$$

$$x = 1 - 0,2 = 0,8$$

Оценка эксперта: _____

Комментарий: _____

№2. Решите уравнение $\frac{1}{x^2} + \frac{4}{x} - 12 = 0$. Ответ: $x = 0,5$, $x = -\frac{1}{6}$.

в21

$$\begin{aligned} \frac{1}{x^2} + \frac{4}{x} - 12 &= 0; \\ \frac{1}{x^2} + \frac{4x}{x^2} - 12 &= 0; \\ \frac{1}{x^2} + \frac{4x}{x^2} - \frac{12x^2}{x^2} &= 0, \\ \frac{-12x^2 + 4x + 1}{x^2} &= 0; \end{aligned}$$

Дробь равна 0, когда её числитель равен 0.

$$-12x^2 + 4x + 1 = 0; \quad a = -12, \quad b = 4, \quad c = 1$$

$$D = b^2 - 4ac = 4^2 - 4(-12) \cdot 1 = 16 + 48 = 64$$

$$x_1 = \frac{-4 + 8}{2(-12)} = -\frac{4}{24} = -\frac{1}{6}$$

$$x_2 = \frac{-4 - 8}{2(-12)} = \frac{-12}{-24} = \frac{12}{24} = \frac{1}{2} = 0,5$$

Ответ: $-\frac{1}{6}; 0,5$

Оценка эксперта: _____

Комментарий: _____

№3. Решите уравнение $\frac{1}{(x-1)^2} + \frac{3}{x-1} - 10 = 0$. Ответ: $x = 1,5$, $x = 0,8$.

$$1. \quad \frac{1}{(x-1)^2} + \frac{3}{x-1} - 10 = 0.$$

$$\frac{1 + 3(x-1) - 10(x-1)^2}{(x-1)^2} = 0.$$

$$\frac{1 + 3x - 3 - 10x^2 + 20x - 10}{(x-1)^2} = 0$$

$$\begin{aligned} x - 1 &\neq 0 \\ x &\neq 1 \end{aligned}$$

$$-10x^2 + 23x - 12 = 0 \quad | \cdot (-1)$$

$$10x^2 - 23x + 12 = 0$$

$$D = 529 - 480 = 49 = 7^2$$

$$x_1 = \frac{23 - 7}{20} = \frac{16}{20} = 0,8$$

$$x_2 = \frac{23 + 7}{20} = \frac{30}{20} = 1,5$$

ОТВЕТ: 0,8; 1,5.

Оценка эксперта: _____

Комментарий: _____

№4. Игорь и Паша могут покрасить забор за 20 часов, Паша и Володя – за 21 час, а Володя и Игорь за 28 часов. За какое время покрасят забор мальчики, работая втроем. Ответ дайте в минутах. Ответ: 900 минут.

Баллы	Содержание критерия
2	Ход решения задачи верный, получен верный ответ
1	Ход решения верный, все его шаги присутствуют, но допущена описка или ошибка вычислительного характера
0	Решение не соответствует ни одному из критериев, перечисленных выше
2	Максимальный балл

Начало решения задания №4

№22. (I). Пусть У работы Паша = x .

Тогда У работы Игоря = y ; У работы Володи = z .

Примем весь покрашенный забор (всю работу) за 1.

Тогда, по условию $\frac{1}{x+y} = 20$ часов; $\frac{1}{x+z} = 21$ час; $\frac{1}{y+z} = 28$ часов

$$(II) \begin{cases} \frac{1}{x+y} = 20 \\ \frac{1}{x+z} = 21 \\ \frac{1}{y+z} = 28 \end{cases}$$

$$\begin{cases} y = \frac{1}{20} - x \\ \frac{1}{x+z} = 21 \\ \frac{1}{\frac{1}{20} - x + z} = 28 \end{cases}$$

$$\frac{1 \cdot 20}{1 - 20x + 20z} = 28$$

$$20z - 20x = \frac{20}{28} - 1 = \frac{10}{14} - 1 = \frac{5}{7} - 1 = -\frac{2}{7}$$

$$20z = -\frac{2}{7} + 20x$$

$$z = (-\frac{2}{7} + 20x) / 20$$

Продолжение на следующей странице

$$\frac{\frac{-2}{7} + 20x}{20} = \frac{-2 + 140x}{140} = \frac{2(70x - 1)}{2 \cdot 70} = \frac{70x - 1}{70} = z$$

$$x + \frac{70x - 1}{70} = 21$$

$$\frac{70}{70} \cdot 70x + 70x - 1 = 21$$

$$\frac{70}{140x - 1} = 21$$

$$140x - 1 = \frac{70}{21} = \frac{2 \cdot 10}{3 \cdot 7} = \frac{10}{3}$$

$$140x = \frac{10}{3} + 1 = \frac{13}{3}$$

$$x = \frac{\frac{13}{3}}{3 \cdot 140} = \frac{13}{420}$$

$$z = \left(\frac{70 \cdot \frac{13}{420} - 1}{70} \right) = \frac{\frac{13}{6} - 1}{70} = \frac{7}{6 \cdot 70} = \frac{7}{420}$$

$$y = \frac{1}{20} - \frac{13}{420} = \frac{21}{420} - \frac{13}{420} = \frac{8}{420}$$

$$\frac{1}{\frac{7}{420} + \frac{8}{420} + \frac{13}{420}} = \frac{420}{7+8+13} = \frac{420}{28} = 15 \text{ часов}$$

$$15 \text{ часов} = 15 \cdot 60 = 900 \text{ минут.}$$

Оценка эксперта: _____

Комментарий: _____

№5. Игорь и Паша могут покрасить забор за 20 часов, Паша и Володя – за 21 час, а Володя и Игорь за 28 часов. За какое время покрасят забор мальчики, работая втроем. Ответ дайте в минутах. Ответ: 900 минут.

22) Примем всю работу за единицу. Тогда производительность Игоря (И) и Паша (П) $\rightarrow \frac{1}{20}$; Паша и Володя (В) $\rightarrow \frac{1}{21}$; Володя и Игорь $\rightarrow \frac{1}{28}$; С такими показателями производительности вместе они покрасят забор дважды:

$$\left(\frac{1}{20} + \frac{1}{21} + \frac{1}{28}\right)t = 2 \quad (И+П+В)t = 1$$

т.к. $(И+П+П+В+В+И)t = 2$ т.е. $(2И+2П+2В)t = 2$

где t – время в часах (за которое ребята выполнят работу дважды)

$$\text{т.о., } \frac{t}{20} + \frac{t}{21} + \frac{t}{28} = 2 \Rightarrow \frac{3 \cdot 5 \cdot t + 4 \cdot 5 \cdot t + 3 \cdot 7 \cdot t}{3 \cdot 4 \cdot 5 \cdot 7} = 2$$

$$\frac{(15+20+21)t}{420} = 2 \quad \frac{56t}{420} = 2 \quad 28t = 420$$

$$t = 154 \rightarrow 2 \text{ раза}$$

$$t_1 = \frac{154}{2} = 7,54 = 7,5 \cdot 60 \text{ мин} = 450 \text{ мин} \rightarrow \text{ответ: } 450 \text{ мин}$$

Оценка эксперта: _____

Комментарий: _____

№6. Игорь и Паша могут покрасить забор за 14 часов, Паша и Володя – за 15 часов, а Володя и Игорь за 30 часов. За какое время покрасят забор мальчики, работая втроем. Ответ дайте в минутах. Ответ: 700 минут.

Дано: №22.
 П } 14ч
 И }
 П } 15ч
 В }
 В } 30ч
 И }
 Найти: П } ?
 И }
 В } ?

Решение:
 $П > И > В$
 $И = 30 - 14 = 16$ ч – дел. р. И
 $(14 \cdot 2) - 16 = 12$ ч – дел. р. П
 $30 - 16 = 14$ ч – дел. р. В.

$$\frac{14 + 16 + 12}{6} = 7 \text{ ч} = 420 \text{ мин}$$

– требуется, чтобы мальчики покрасили забор, работая втроем.

Ответ: 420 мин.

Оценка эксперта: _____

Комментарий: _____

№7. Постройте график функции $y = \frac{7x-10}{7x^2-10x}$ и определите, при каких значениях k прямая $y = kx$ имеет с графиком ровно одну общую точку. Ответ: 0,49.

Баллы	Содержание критерия
2	График построен верно, верно найдены искомые значения параметра
1	График построен верно, но искомые значения параметра найдены неверно или не найдены
0	Решение не соответствует ни одному из критериев, перечисленных выше
2	Максимальный балл

N23.

$$y = \frac{7x-10}{7x^2-10x}$$

$$y = \frac{7x-10}{x(7x-10)}$$

ОДЗ: $x \neq 0$
 $x \neq \frac{10}{7}$

$y = \frac{1}{x}$ - График

при $x = \frac{10}{7}$: $y = \frac{1 \cdot 7}{10} = \frac{7}{10} = 0,7$

$$\frac{7}{10} = k \cdot \frac{10}{7}$$

$$k = \frac{7 \cdot 7}{10 \cdot 10} = \frac{49}{100} = 0,49 \quad \text{При } k = 0,49$$

Ответ: 0,49.

Оценка эксперта: _____

Комментарий: _____

№8. Постройте график функции $y = \frac{9x+1}{9x^2+x}$ и определите, при каких значениях k прямая $y = kx$ имеет с графиком ровно одну общую точку. Ответ: 81.

№ 23

$$y = \frac{9x+1}{9x^2+x}$$

$$y = \frac{9x+1}{x(9x+1)}$$

$$D(y) \in \mathbb{R} \setminus \{0; -\frac{1}{9}\}$$

$$y = \frac{1}{x}$$

$$E(y) \in \mathbb{R} \setminus \{0; -9\}$$

Для того, чтобы иметь с графиком ф-ии $y = \frac{9x+1}{9x^2+x}$ только 1 (•) пересечение график ф-ии $y = kx$ должен проходить через выколотую точку, имеющую координаты $(-\frac{1}{9}; -9)$.
 Подставим эти значения и найдем k .

$$-9 = k \cdot (-\frac{1}{9}) \mid \cdot (-9)$$

$$k = 81.$$

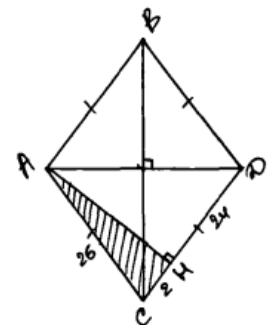
Ответ: 81

Оценка эксперта: _____

Комментарий: _____

№9. Высота, опущенная из вершины ромба, делит противоположную сторону на отрезки равные 24 и 2, считая от вершины острого угла. Вычислите длину высоты ромба. Ответ: 10.

Баллы	Содержание критерия
2	Ход решения верный, все его шаги выполнены правильно, получен верный ответ
1	Ход решения верный, все его шаги выполнены правильно, но даны неполные объяснения или допущена одна вычислительная ошибка
0	Решение не соответствует ни одному из критериев, перечисленных выше
2	Максимальный балл



②) Дано: $ABCD$ – ромб; AH – высота; $CH=2$; $HD=24$
Найти: AH

Решение: 1) Ромб – это параллелограмм, у которого все стороны равны $\Rightarrow AC = CD = 24 + 2 = 26$
2) Рассмотрим $\triangle ACH$. он прямоугольный, т.к. AH – высота $ABCD$; AC – гипотенуза, CH – катет, AH – катет
 \Rightarrow по теореме Пифагора найдем катет AH .

$$26^2 = AH^2 + 2^2$$

$$676 = AH^2 + 4$$

$$672 = AH^2$$

$$4\sqrt{168} = AH \text{ (высота)}$$

Ответ: $4\sqrt{168}$ – высота ромба.

Оценка эксперта: _____

Комментарий: _____

№10. Высота, опущенная из вершины ромба, делит противоположную сторону на отрезки равные 24 и 2, считая от вершины острого угла. Вычислите длину высоты ромба. Ответ: 10.

$BM = 24$
 $BM \perp CM$
 или противоположные углы
 равны

$BC = 26 \Rightarrow$
 $BA = 26$

$\triangle DAM: DA = \sqrt{26^2 - 2^2} = 10$
 Ответ: $AM = 10$

Оценка эксперта: _____

Комментарий: _____

№11. Высота, опущенная из вершины ромба, делит противоположную сторону на отрезки равные 24 и 2, считая от вершины острого угла. Вычислите длину высоты ромба. Ответ: 10.

(24)

Дано:
 ABCD - ромб
 AH - высота
 $CH = 2$
 $HD = 24$
 AH - ?

Решение:
 1) Т.к. ромб стороны равны $CD = AD = CH + DH$
 $AD = 26$

2) $AH = \sqrt{AD^2 - DH^2}$ (по т.к. Пифагора на $\triangle AHD$)
 $AH = \sqrt{676 - 576} = \sqrt{200} = 10\sqrt{2}$

Ответ: $10\sqrt{2}$

Оценка эксперта: _____

Комментарий: _____

№12. Две окружности с центрами E и F пересекаются в точках C и D , центры E и F лежат по одну сторону относительно прямой CD . Докажите, что прямая CD перпендикулярна прямой EF .

Баллы	Содержание критерия
2	Доказательство верное, все шаги обоснованы
1	Доказательство в целом верное, но содержит неточности
0	Решение не соответствует ни одному из критериев, перечисленных выше
2	Максимальный балл

№25.



Дано: окр. $(P; r_1)$; окр. $(Q; r_2)$; окр. $(P; r_1) \cap$ окр. $(Q; r_2) = K; L$ так, что $PT = TQ$
 Док-ть: $PQ \perp KL$.

Док-во:

1) нарисуем $\triangle PKQ$.

2) м.к. $PT = TQ$ - по усл. $\Rightarrow KT$ - медиана $\triangle PKQ$ к стороне PQ

3) м.к. (\cdot) -а $K \in$ окр. $(P; r_1)$ и окр. $(Q; r_2) \Rightarrow PK = r_1$, $KQ = r_2$; $PL = PK = r_1$; $QL = r_2$

4) из п. 2 и 3 $\Rightarrow \triangle PKQ$ - р/б по усл. $(PK = PL)$
 Аналогично $\triangle KQL$ - р/б.

5) м.к. $KT = TL$, $PK = PL \Rightarrow PT$ - медиана, а по св-ву р/б \triangle -а $\Rightarrow PT \perp KL$.

Аналогично QT - медиана $\Rightarrow QT \perp KL$

\Downarrow

м.к. $PT = TQ$ (по усл.) $\Rightarrow PQ \perp KL$.

ч. м. д.

Оценка эксперта: _____

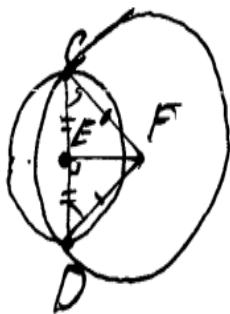
Комментарий: _____

№13. Две окружности с центрами E и F пересекаются в точках C и D , центры E и F лежат по одну сторону относительно прямой CD . Докажите, что прямая CD перпендикулярна прямой EF .

№25.



Вариант I.
 Д/н - радиусы $EC = ED$; $FC = FD$.
 Равн. $\triangle CED$. $\triangle CED$ - р/б (по окруж.)
 $\Rightarrow EH$ опущена к основанию
 $\triangle CED$: $\triangle CEF = \triangle DEF$ (по 3-м сторонам) \Rightarrow
 $\Rightarrow \angle CFE = \angle DFE \Rightarrow EF$ - бисс.
 Т.к. EF - бисс, то HF тоже бисс, т.к. $EF \in HF$
 \Rightarrow в р/б $\triangle CED$: EH - бисс. (т.к. $E \in HF$)
 $\Rightarrow EH$ и высота и медиана (т.к. опущена к основанию). Т.к. $EH \in HF$; то $HF \perp CD$
 и $EF \perp CD$, з.т.д.



Вариант II.
 Д/н - радиусы $CF = DF$. Тогда $\triangle CFD$ - р/б
 $\Rightarrow \angle ECF = \angle FDE$ (по св-ву р/б \triangle)
 Т.к. CD - диаметр, то $EC = ED$ - радиусы
 $\Rightarrow EF$ - медиана в р/б $\triangle CFD \Rightarrow$
 EF и высота и биссектриса (по теореме о высоте к основанию в р/б \triangle), з.т.д.

Оценка эксперта: _____

Комментарий: _____

№14. Биссектриса A , треугольника ABC делит высоту BH в отношении 25:24, считая от вершины. Длина BC равна 14. Найдите радиус описанной окружности.

Ответ: 25.

Баллы	Содержание критерия
2	Ход решения верный, получен верный ответ
1	Ход решения верный, все его шаги присутствуют, но допущена описка или ошибка вычислительного характера
0	Решение не соответствует ни одному из критериев, перечисленных выше
2	Максимальный балл

$\text{Зад } \omega(O; R)$
 $BL: LH = 25:24$
 $BC = 14$

 $\text{НД } R$

1. по свойству биссектрисы в $\triangle ABH$

$$\frac{AB}{AH} = \frac{BL}{LH} = \frac{25}{24}$$

2. по теореме Пифагора в $\triangle ABH$

$$BH = \sqrt{25^2 - 24^2} = 7a$$

Ответ: $R = 25$

3. в $\triangle ABH$:

$$\sin A = \frac{BH}{AB} = \frac{7}{25}$$

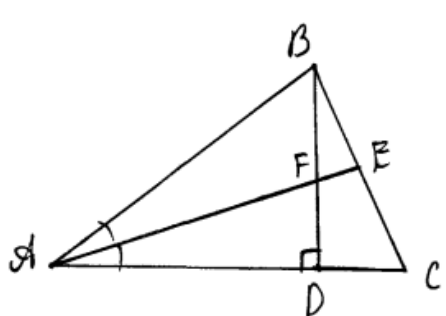
4. $R = \frac{BC}{2 \sin A} = \frac{14 \cdot 25}{14} = 25$

Оценка эксперта: _____

Комментарий: _____

№15. Биссектриса угла A , треугольника ABC делит высоту BH в отношении 5:4, считая от вершины. Длина BC равна 6. Найдите радиус описанной окружности.

Ответ: 5.



№26

дано:

$\triangle ABC, \angle BDC = 90^\circ, \angle BAE = \angle EAC,$
 $AE \cap BD = F, BF:FD = 5:4, BC = 6,$

найти:

$R_{\text{оп. окружности}},$

решение:

- 1) по св. биссектрисы в $\triangle ABD, AB:AD = BF:FD = 5:4 \Rightarrow$
 по теореме Пифагора, $AB:BD = 5:3 \Rightarrow$
 $\sin \angle BAC = \frac{3}{5},$
- 2) по следствию из теоремы синусов,
 $\frac{BC}{\sin \angle BAC} = 2R_{\text{оп.}}, \quad \frac{BC}{\frac{3}{5}} = \frac{6}{\frac{3}{5}} = 10, \Rightarrow R_{\text{оп.}} = 5,$

Ответ: 5.

Оценка эксперта: _____

Комментарий: _____