

Тренировочная работа №3 по МАТЕМАТИКЕ 9 класс

20 января 2022 года

Вариант МА2190303

Выполнена: ФИО _____ класс _____

Инструкция по выполнению работы

Работа состоит из двух частей, включающих в себя 25 заданий. Часть 1 содержит 19 заданий, часть 2 содержит 6 заданий с развёрнутым ответом.

На выполнение работы по математике отводится 3 часа 55 минут (235 минут).

Ответы к заданиям 7 и 13 запишите в виде одной цифры, которая соответствует номеру правильного ответа.

Для остальных заданий части 1 ответом является число или последовательность цифр. Если получилась обыкновенная дробь, ответ запишите в виде десятичной.

Решения заданий части 2 и ответы к ним запишите на отдельном листе бумаги. Задания можно выполнять в любом порядке. Текст задания переписывать не надо, необходимо только указать его номер.

Сначала выполняйте задания части 1. Начать советуем с тех заданий, которые вызывают у Вас меньше затруднений, затем переходите к другим заданиям. Для экономии времени пропускайте задание, которое не удаётся выполнить сразу, и переходите к следующему. Если у Вас останется время, Вы сможете вернуться к пропущенным заданиям.

При выполнении части 1 все необходимые вычисления, преобразования выполняйте в черновике. **Записи в черновике, а также в тексте контрольных измерительных материалов не учитываются при оценивании работы.**

Если задание содержит рисунок, то на нём непосредственно в тексте работы можно выполнять необходимые Вам построения. Рекомендуем внимательно читать условие и проводить проверку полученного ответа.

При выполнении работы Вы можете воспользоваться справочными материалами, выданными вместе с вариантом КИМ, и линейкой.

Баллы, полученные Вами за выполненные задания, суммируются. Постарайтесь выполнить как можно больше заданий и набрать наибольшее количество баллов.

После завершения работы проверьте, чтобы ответ на каждое задание был записан под правильным номером.

Желаем успеха!

Часть 1

Ответами к заданиям 1–19 являются число или последовательность цифр.

Прочитайте внимательно текст и выполните задания 1–5.

Хозяин дачного участка строит баню с парным отделением. Парное отделение имеет следующие размеры: длина — 3,5 м, ширина — 2,2 м, высота — 2 м. Окон в парном отделении нет, для доступа внутрь планируется дверь шириной 60 см, высота дверного проёма — 1,8 м. Для прогрева парного отделения можно использовать электрическую или дровяную печь. В таблице представлены характеристики трёх печей.

Номер печи	Тип	Объём помещения (куб. м)	Масса (кг)	Стоимость (руб.)
1	дровяная	8–12	40	18 000
2	дровяная	10–16	48	19 500
3	электрическая	9–15,5	15	15 000

Для установки дровяной печи дополнительных затрат не потребуется. Установка электрической печи потребует подведения специального кабеля, что обойдётся в 6500 руб.

1 Установите соответствие между массами и номерами печей.

Заполните таблицу, в бланк ответов перенесите последовательность трёх цифр без пробелов, запятых и других дополнительных символов.

Масса (кг)	15	40	48
Номер печи			

2 Найдите объём парного отделения строящейся бани. Ответ дайте в кубических метрах.

Ответ: _____.

3 Во сколько рублей обойдётся покупка электрической печи с установкой и доставкой, если доставка печи до дачного участка будет стоить 800 рублей?

Ответ: _____.

- 4 На электрическую печь сделали скидку 15 %. Сколько рублей стала стоить печь без учёта установки и доставки?

Ответ: _____.

- 5 Хозяин выбрал дровяную печь (рис. 1). Чертёж передней панели печи показан на рис. 2.




Рис. 1

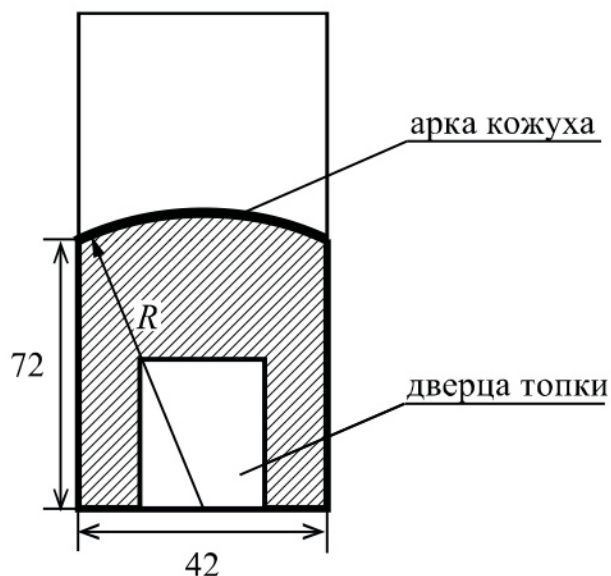


Рис. 2

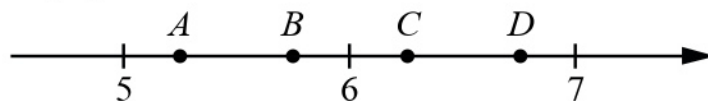
Печь снабжена кожухом вокруг дверцы топки. Верхняя часть кожуха выполнена в виде арки, приваренной к передней стенке печи по дуге окружности с центром в середине нижней части кожуха (рис. 2). Для установки печи хозяину понадобилось узнать радиус закругления арки R . Размеры кожуха в сантиметрах показаны на рисунке. Найдите радиус закругления арки в сантиметрах.

Ответ: _____.

- 6 Найдите значение выражения $30 - 0,8 \cdot (-10)^2$.

Ответ: _____.

- 7 На координатной прямой отмечены точки A , B , C , D . Одна из них соответствует числу $\sqrt{39}$. Какая это точка?



- 1) точка A 2) точка B 3) точка C 4) точка D

Ответ:

- 8 Найдите значение выражения $\sqrt{a^2 - 10ab + 25b^2}$ при $a = 7$ и $b = 2$.

Ответ: _____.

- 9 Найдите корень уравнения $1 - 10x = 5x + 10$.

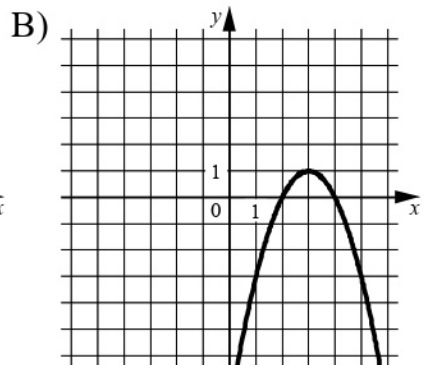
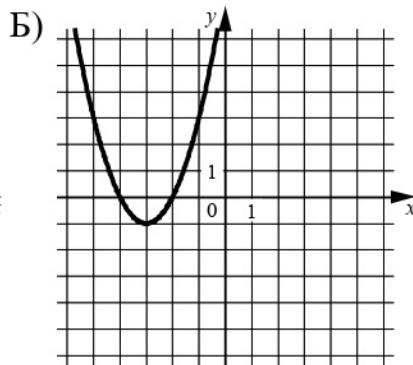
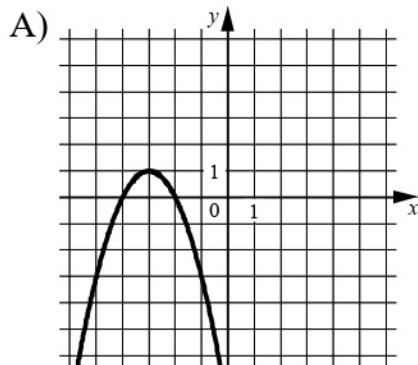
Ответ: _____.

- 10 В фирме такси в данный момент свободно 12 машин: одна чёрная, 3 жёлтые и 8 зелёных. По вызову выехала одна из машин, случайно оказавшаяся ближе всего к заказчику. Найдите вероятность того, что к нему придет жёлтое такси.

Ответ: _____.

11 Установите соответствие между графиками функций и формулами, которые их задают.

ГРАФИКИ



ФОРМУЛЫ

1) $y = -x^2 + 6x - 8$

2) $y = x^2 + 6x + 8$

3) $y = -x^2 - 6x - 8$

В таблице под каждой буквой укажите соответствующий номер.

Ответ:

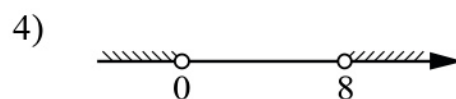
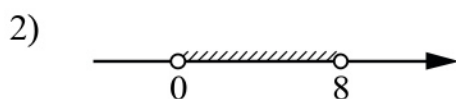
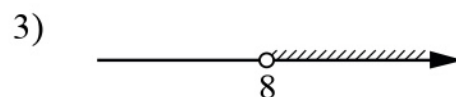
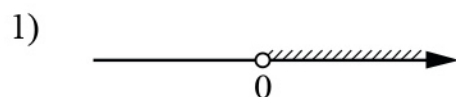
А	Б	В

12 Перевести значение температуры по шкале Фаренгейта в шкалу Цельсия позволяет формула $t_C = \frac{5}{9}(t_F - 32)$, где t_C — температура в градусах Цельсия, t_F — температура в градусах Фаренгейта. Скольким градусам по шкале Цельсия соответствует 203 градуса по шкале Фаренгейта?

Ответ: _____.

13 Укажите решение неравенства

$$8x - x^2 > 0.$$

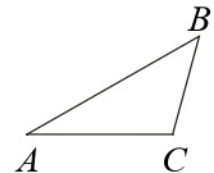


Ответ:

- 14** При проведении опыта вещество равномерно охлаждали в течение 10 минут. При этом каждую минуту температура вещества уменьшалась на 6°C . Найдите температуру вещества (в градусах Цельсия) через 7 минут после начала проведения опыта, если его начальная температура составляла -9°C .

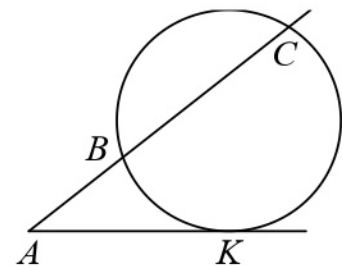
Ответ: _____.

- 15** В треугольнике ABC угол A равен 30° , угол B равен 45° , $BC = 10\sqrt{2}$. Найдите длину стороны AC .



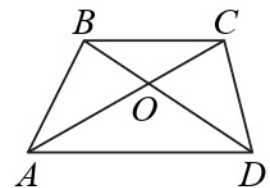
Ответ: _____.

- 16** Через точку A , лежащую вне окружности, проведены две прямые. Одна прямая касается окружности в точке K . Другая прямая пересекает окружность в точках B и C , причём $AB = 5$, $BC = 15$. Найдите длину отрезка AK .



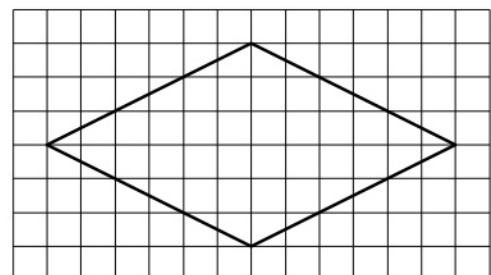
Ответ: _____.

- 17** Диагонали AC и BD трапеции $ABCD$ с основаниями BC и AD пересекаются в точке O , $BC = 3$, $AD = 7$, $AC = 20$. Найдите длину отрезка AO .



Ответ: _____.

- 18** На клетчатой бумаге с размером клетки 1×1 изображён ромб. Найдите длину его большей диагонали.



Ответ: _____.

19 Какие из следующих утверждений верны?

- 1) В параллелограмме есть два равных угла.
- 2) Площадь треугольника меньше произведения двух его сторон.
- 3) Средняя линия трапеции равна сумме её оснований.

В ответе запишите номера выбранных утверждений без пробелов, запятых и других дополнительных символов.

Ответ: _____.

Часть 2

При выполнении заданий 20–25 используйте отдельный лист бумаги. Сначала укажите номер задания, а затем запишите его решение и ответ. Пишите чётко и разборчиво.

20 Решите уравнение $x^3 + 5x^2 - 4x - 20 = 0$.

21 Имеются два сосуда, содержащие 30 кг и 42 кг раствора кислоты различной концентрации. Если их слить вместе, то получится раствор, содержащий 40 % кислоты. Если же слить равные массы этих растворов, то полученный раствор будет содержать 37 % кислоты. Сколько процентов кислоты содержится во втором растворе?

22 Постройте график функции

$$y = x|x| + |x| - 3x.$$

Определите, при каких значениях m прямая $y = m$ имеет с графиком ровно две общие точки.

23 Найдите длину боковой стороны AB трапеции $ABCD$, если углы ABC и BCD равны 60° и 135° соответственно, а $CD = 36$.

24 Сторона AD параллелограмма $ABCD$ вдвое больше стороны CD . Точка M — середина стороны AD . Докажите, что CM — биссектриса угла BCD .

25 Биссектриса CM треугольника ABC делит сторону AB на отрезки $AM = 10$ и $MB = 18$. Касательная к окружности, описанной около треугольника ABC , проходит через точку C и пересекает прямую AB в точке D . Найдите длину отрезка CD .

Тренировочная работа №3 по МАТЕМАТИКЕ 9 класс

20 января 2022 года

Вариант МА2190304

Выполнена: ФИО _____ класс _____

Инструкция по выполнению работы

Работа состоит из двух частей, включающих в себя 25 заданий. Часть 1 содержит 19 заданий, часть 2 содержит 6 заданий с развёрнутым ответом.

На выполнение работы по математике отводится 3 часа 55 минут (235 минут).

Ответы к заданиям 7 и 13 запишите в виде одной цифры, которая соответствует номеру правильного ответа.

Для остальных заданий части 1 ответом является число или последовательность цифр. Если получилась обыкновенная дробь, ответ запишите в виде десятичной.

Решения заданий части 2 и ответы к ним запишите на отдельном листе бумаги. Задания можно выполнять в любом порядке. Текст задания переписывать не надо, необходимо только указать его номер.

Сначала выполняйте задания части 1. Начать советуем с тех заданий, которые вызывают у Вас меньше затруднений, затем переходите к другим заданиям. Для экономии времени пропускайте задание, которое не удаётся выполнить сразу, и переходите к следующему. Если у Вас останется время, Вы сможете вернуться к пропущенным заданиям.

При выполнении части 1 все необходимые вычисления, преобразования выполняйте в черновике. **Записи в черновике, а также в тексте контрольных измерительных материалов не учитываются при оценивании работы.**

Если задание содержит рисунок, то на нём непосредственно в тексте работы можно выполнять необходимые Вам построения. Рекомендуем внимательно читать условие и проводить проверку полученного ответа.

При выполнении работы Вы можете воспользоваться справочными материалами, выданными вместе с вариантом КИМ, и линейкой.

Баллы, полученные Вами за выполненные задания, суммируются. Постарайтесь выполнить как можно больше заданий и набрать наибольшее количество баллов.

После завершения работы проверьте, чтобы ответ на каждое задание был записан под правильным номером.

Желаем успеха!

Часть 1

Ответами к заданиям 1–19 являются число или последовательность цифр.

Прочитайте внимательно текст и выполните задания 1–5.

Хозяин дачного участка строит баню с парным отделением. Парное отделение имеет следующие размеры: длина — 3,5 м, ширина — 2,2 м, высота — 2 м. Окон в парном отделении нет, для доступа внутрь планируется дверь шириной 60 см, высота дверного проёма — 1,8 м. Для прогрева парного отделения можно использовать электрическую или дровяную печь. В таблице представлены характеристики трёх печей.

Номер печи	Тип	Объём помещения (куб. м)	Масса (кг)	Стоимость (руб.)
1	дровяная	8–12	40	18 000
2	дровяная	10–16	48	19 500
3	электрическая	9–15,5	15	15 000

Для установки дровяной печи дополнительных затрат не потребуется. Установка электрической печи потребует подведения специального кабеля, что обойдётся в 6500 руб.

- 1** Установите соответствие между объёмами помещения и номерами печей, для которых данный объём является наибольшим для отопления помещений. Заполните таблицу, в бланк ответов перенесите последовательность трёх цифр без пробелов, запятых и других дополнительных символов.

Объём (куб. м)	12	15,5	16
Номер печи			

- 2** Найдите площадь пола парного отделения строящейся бани. Ответ дайте в квадратных метрах.

Ответ: _____.

- 3** Во сколько рублей обойдётся покупка дровяной печи, подходящей по объёму парного отделения, с доставкой, если доставка печи до дачного участка будет стоить 1200 рублей?

Ответ: _____.

- 4 На дровяную печь, масса которой 40 кг, сделали скидку 10 %. Сколько рублей стала стоить печь без учёта доставки?

Ответ: _____.

- 5 Хозяин выбрал дровяную печь (рис. 1). Чертёж передней панели печи показан на рис. 2.



Рис. 1

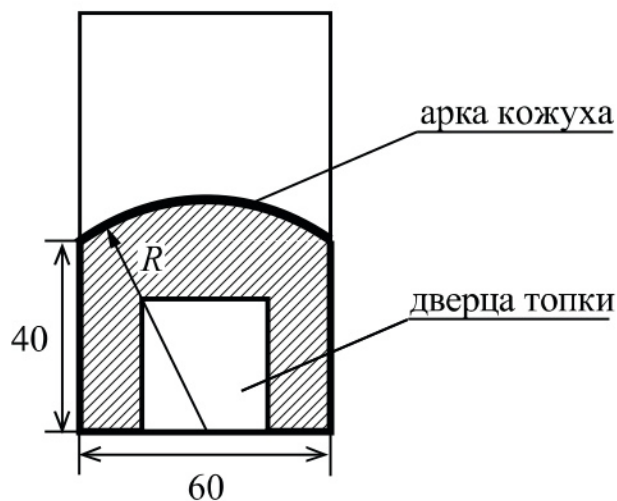


Рис. 2

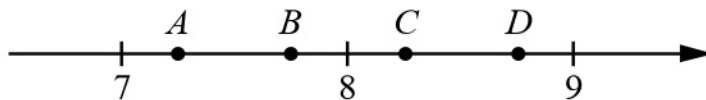
Печь снабжена кожухом вокруг дверцы топки. Верхняя часть кожуха выполнена в виде арки, приваренной к передней стенке печи по дуге окружности с центром в середине нижней части кожуха (рис. 2). Для установки печи хозяину понадобилось узнать радиус закругления арки R . Размеры кожуха в сантиметрах показаны на рисунке. Найдите радиус закругления арки в сантиметрах.

Ответ: _____.

- 6 Найдите значение выражения $-80 + 0,3 \cdot (-10)^3$.

Ответ: _____.

- 7 На координатной прямой отмечены точки A , B , C , D . Одна из них соответствует числу $\sqrt{52}$. Какая это точка?



- 1) точка A 2) точка B 3) точка C 4) точка D

Ответ:

- 8 Найдите значение выражения $\sqrt{a^2 - 6ab + 9b^2}$ при $a = 3$ и $b = 6$.

Ответ: _____.

- 9 Найдите корень уравнения $2 + 3x = -7x - 5$.

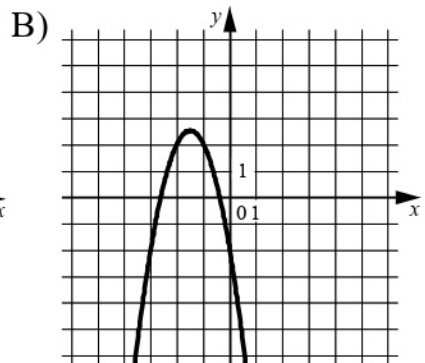
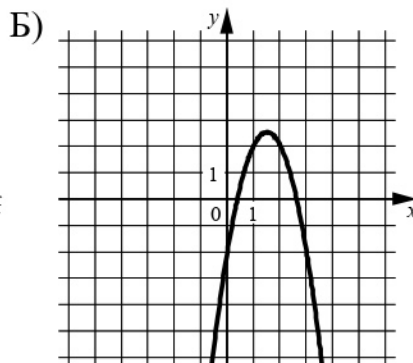
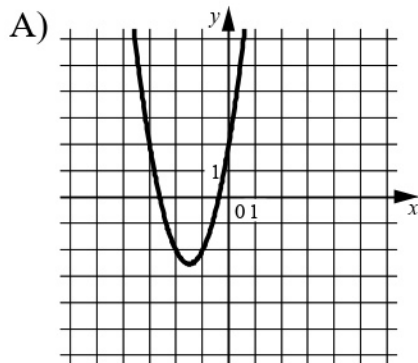
Ответ: _____.

- 10 В фирме такси в данный момент свободно 12 машин: 3 чёрные, 3 жёлтые и 6 зелёных. По вызову выехала одна из машин, случайно оказавшаяся ближе всего к заказчику. Найдите вероятность того, что к нему приедет жёлтое такси.

Ответ: _____.

11 Установите соответствие между графиками функций и формулами, которые их задают.

ГРАФИКИ



ФОРМУЛЫ

- 1) $y = -2x^2 + 6x - 2$ 2) $y = -2x^2 - 6x - 2$ 3) $y = 2x^2 + 6x + 2$

В таблице под каждой буквой укажите соответствующий номер.

Ответ:

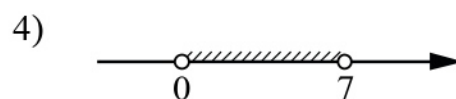
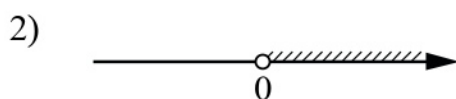
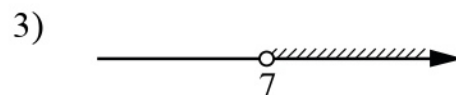
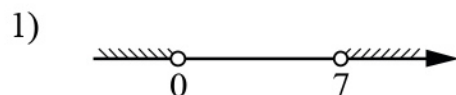
А	Б	В

12 Перевести значение температуры по шкале Фаренгейта в шкалу Цельсия позволяет формула $t_C = \frac{5}{9}(t_F - 32)$, где t_C — температура в градусах Цельсия, t_F — температура в градусах Фаренгейта. Скольким градусам по шкале Цельсия соответствует 158 градусов по шкале Фаренгейта?

Ответ: _____.

13 Укажите решение неравенства

$$7x - x^2 < 0.$$

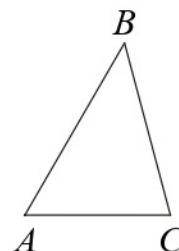


Ответ:

- 14** При проведении опыта вещество равномерно охлаждали в течение 10 минут. При этом каждую минуту температура вещества уменьшалась на 9°C . Найдите температуру вещества (в градусах Цельсия) через 6 минут после начала проведения опыта, если его начальная температура составляла -6°C .

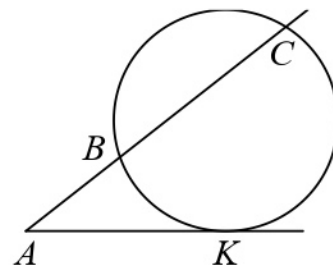
Ответ: _____.

- 15** В треугольнике ABC угол A равен 60° , угол B равен 45° , $BC = 7\sqrt{6}$. Найдите длину стороны AC .



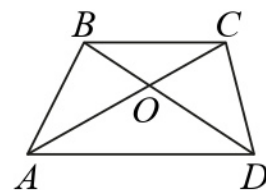
Ответ: _____.

- 16** Через точку A , лежащую вне окружности, проведены две прямые. Одна прямая касается окружности в точке K . Другая прямая пересекает окружность в точках B и C , причём $AB = 4$, $BC = 32$. Найдите длину отрезка AK .



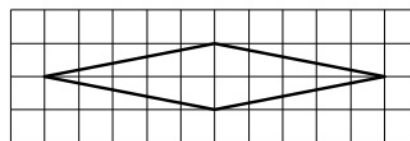
Ответ: _____.

- 17** Диагонали AC и BD трапеции $ABCD$ с основаниями BC и AD пересекаются в точке O , $BC = 4$, $AD = 9$, $AC = 26$. Найдите длину отрезка AO .



Ответ: _____.

- 18** На клетчатой бумаге с размером клетки 1×1 изображён ромб. Найдите длину его большей диагонали.



Ответ: _____.

19 Какое из следующих утверждений верно?

- 1) Площадь трапеции равна произведению основания трапеции на высоту.
- 2) Две окружности пересекаются, если радиус одной окружности больше радиуса другой окружности.
- 3) Существует прямоугольник, диагонали которого взаимно перпендикулярны.

В ответе запишите номер выбранного утверждения.

Ответ:

Часть 2

При выполнении заданий 20–25 используйте отдельный лист бумаги. Сначала укажите номер задания, а затем запишите его решение и ответ. Пишите чётко и разборчиво.

20 Решите уравнение $x^3 + 5x^2 - x - 5 = 0$.

21 Имеются два сосуда, содержащие 24 кг и 26 кг раствора кислоты различной концентрации. Если их слить вместе, то получится раствор, содержащий 39 % кислоты. Если же слить равные массы этих растворов, то полученный раствор будет содержать 40 % кислоты. Сколько процентов кислоты содержится во втором растворе?

22 Постройте график функции

$$y = x|x| + |x| - 5x.$$

Определите, при каких значениях m прямая $y = m$ имеет с графиком ровно две общие точки.

23 Найдите длину боковой стороны AB трапеции $ABCD$, если углы ABC и BCD равны 30° и 120° соответственно, а $CD = 25$.

24 Сторона CD параллелограмма $ABCD$ вдвое больше стороны AD . Точка N — середина стороны CD . Докажите, что AN — биссектриса угла BAD .

25 Биссектриса CM треугольника ABC делит сторону AB на отрезки $AM = 18$ и $MB = 19$. Касательная к окружности, описанной около треугольника ABC , проходит через точку C и пересекает прямую AB в точке D . Найдите длину отрезка CD .