

НОМЕР КИМ

Инструкция по выполнению работы

Экзаменационная работа состоит из двух частей, включающих в себя 25 заданий. Часть 1 содержит 19 заданий, часть 2 содержит 6 заданий с развёрнутым ответом.

На выполнение экзаменационной работы по математике отводится 3 часа 55 минут (235 минут).

Ответы к заданиям 7 и 13 запишите в бланк ответов № 1 в виде одной цифры, которая соответствует номеру правильного ответа.

Для остальных заданий части 1 ответом является число или последовательность цифр. Ответ запишите в поле ответа в тексте работы, а затем перенесите в бланк ответов № 1. Если получилась обыкновенная дробь, ответ запишите в виде десятичной.

Решения заданий части 2 и ответы к ним запишите на бланке ответов № 2. Задания можно выполнять в любом порядке. Текст задания переписывать не надо, необходимо только указать его номер.

Все бланки заполняются яркими чёрными чернилами. Допускается использование гелевой или капиллярной ручки.

Сначала выполняйте задания части 1. Начать советуем с тех заданий, которые вызывают у Вас меньше затруднений, затем переходите к другим заданиям. Для экономии времени пропускайте задание, которое не удаётся выполнить сразу, и переходите к следующему. Если у Вас останется время, Вы сможете вернуться к пропущенным заданиям.

При выполнении части 1 все необходимые вычисления, преобразования выполняйте в черновике. **Записи в черновике, а также в тексте контрольных измерительных материалов не учитываются при оценивании работы.**

Если задание содержит рисунок, то на нём непосредственно в тексте работы можно выполнять необходимые Вам построения. Рекомендуем внимательно читать условие и проводить проверку полученного ответа.

При выполнении работы Вы можете воспользоваться справочными материалами, выданными вместе с вариантом КИМ, и линейкой.

Баллы, полученные Вами за выполненные задания, суммируются. Постарайтесь выполнить как можно больше заданий и набрать наибольшее количество баллов.

После завершения работы проверьте, чтобы ответ на каждое задание в бланках ответов № 1 и № 2 был записан под правильным номером.

Желаем успеха!

Часть 1

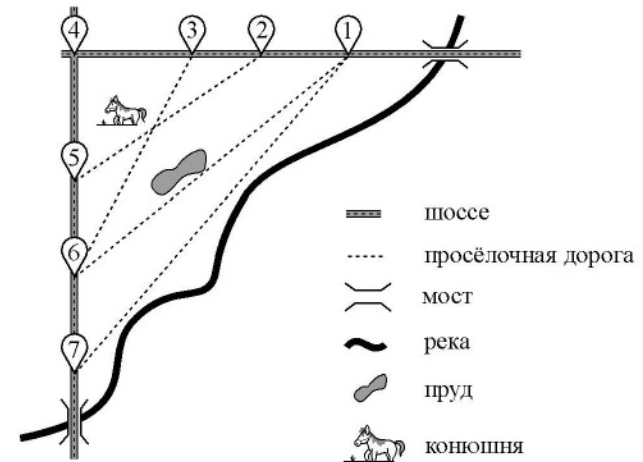
Ответами к заданиям 1–19 являются число или последовательность цифр, которые следует записать в БЛАНК ОТВЕТОВ № 1 справа от номера соответствующего задания, начиная с первой клеточки. Если ответом является последовательность цифр, то запишите её без пробелов и других дополнительных символов. Каждый символ пишите в отдельной клеточке в соответствии с приведёнными в бланке образцами.

Прочитайте внимательно текст и выполните задания 1–5.

На рисунке изображён план сельской местности.

Таня на летних каникулах приезжает в гости к дедушке в деревню Антоновка (на плане обозначена цифрой 1). В конце каникул дедушка на машине собирается отвезти Таню на автобусную станцию, которая находится в деревне Богданово. Из Антоновки в Богданово можно проехать по просёлочной дороге мимо реки. Есть другой путь — по шоссе до деревни Ванютино, где нужно повернуть под прямым углом налево на другое шоссе, ведущее в Богданово. Третий маршрут проходит по просёлочной дороге мимо пруда до деревни Горюново, где можно свернуть на шоссе до Богданово. Четвёртый маршрут пролегает по шоссе до деревни Доломино, от Доломино до Горюново по просёлочной дороге мимо конюшни и от Горюново до Богданово по шоссе. Ещё один маршрут проходит по шоссе до деревни Егорка, по просёлочной дороге мимо конюшни от Егорки до Жилино и по шоссе от Жилино до Богданово.

Шоссе и просёлочные дороги образуют прямоугольные треугольники.



По шоссе Таня с дедушкой едут со скоростью 50 км/ч, а по просёлочным дорогам — со скоростью 30 км/ч. Расстояние от Антоновки до Доломино равно 12 км, от Доломино до Егорки — 4 км, от Егорки до Ванютино — 12 км, от Горюново до Ванютино — 15 км, от Ванютино до Жилино — 9 км, а от Жилино до Богданово — 12 км.

- 1** Пользуясь описанием, определите, какими цифрами на плане обозначены деревни.
Заполните таблицу, в бланк ответов перенесите последовательность четырёх цифр без пробелов, запятых и других дополнительных символов.

Деревни	Богданово	Горюново	Доломино	Егорка
Цифры				

- 2** Найдите расстояние от Ванютино до Богданово по шоссе. Ответ дайте в километрах.

Ответ: _____.

- 3** Найдите расстояние от Доломино до Горюново по прямой. Ответ дайте в километрах.

Ответ: _____.

- 4** За какое наименьшее количество минут Таня с дедушкой могут добраться из Доломино в Горюново?

Ответ: _____.

- 5** На шоссе машина дедушки расходует 5,5 литра бензина на 100 км. Известно, что на путь из Антоновки до Богданово через Ванютино и путь через Егорку и Жилино мимо конюшни ей необходим один и тот же объём бензина. Сколько литров бензина на 100 км машина дедушки расходует на просёлочных дорогах?

Ответ: _____.

- 6** Найдите значение выражения $6,8 + 2,6$.

Ответ: _____.

- 7** Между какими целыми числами заключено число $\frac{124}{15}$?

1) 8 и 9 2) 9 и 10 3) 10 и 11 4) 11 и 12

Ответ:

- 8** Найдите значение выражения $\frac{(8^3)^{-7}}{8^{-23}}$.

Ответ: _____.

- 9** Найдите корень уравнения $-4x - 9 = 6x$.

Ответ: _____.

- 10** В фирме такси в данный момент свободно 30 машин: 6 чёрных, 3 жёлтых и 21 зелёная. По вызову выехала одна из машин, случайно оказавшаяся ближе всего к заказчику. Найдите вероятность того, что к нему придет жёлтое такси.

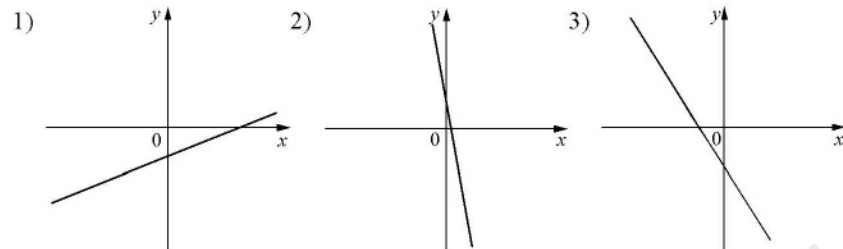
Ответ: _____.

11 На рисунках изображены графики функций вида $y=kx+b$. Установите соответствие между знаками коэффициентов k и b и графиками функций.

КОЭФФИЦИЕНТЫ

- А) $k < 0, b < 0$ Б) $k < 0, b > 0$ В) $k > 0, b < 0$

ГРАФИКИ



В таблице под каждой буквой укажите соответствующий номер.


Ответ:

А	Б	В

12 В фирме «Родник» стоимость (в рублях) колодца из железобетонных колец рассчитывается по формуле $C = 6000 + 4100n$, где n — число колец, установленных в колодце. Пользуясь этой формулой, рассчитайте стоимость колодца из 8 колец. Ответ дайте в рублях.

Ответ: _____.

13 Укажите неравенство, решение которого изображено на рисунке.



- 1) $x^2 + 64 > 0$ 2) $x^2 - 64 > 0$ 3) $x^2 - 64 < 0$ 4) $x^2 + 64 < 0$

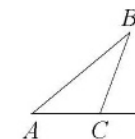
Ответ:

14 В амфитеатре 13 рядов. В первом ряду 22 места, а в каждом следующем на 3 места больше, чем в предыдущем. Сколько мест в одиннадцатом ряду амфитеатра?

Ответ: _____.

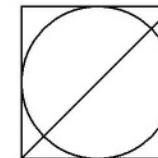
15 В треугольнике ABC угол C равен 133° . Найдите внешний угол при вершине C . Ответ дайте в градусах.

Ответ: _____.



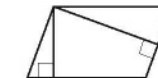
16 Радиус вписанной в квадрат окружности равен $2\sqrt{2}$. Найдите диагональ этого квадрата.

Ответ: _____.



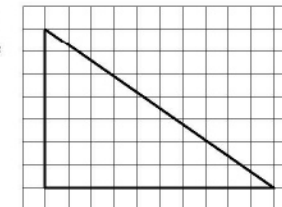
17 Площадь параллелограмма равна 48, а две его стороны равны 8 и 16. Найдите его высоты. В ответе укажите меньшую высоту.

Ответ: _____.



18 На клетчатой бумаге с размером клетки 1×1 изображен прямоугольный треугольник. Найдите длину его большего катета.

Ответ: _____.



19 Какое из следующих утверждений верно?

- 1) Площадь любого параллелограмма равна произведению длин его сторон.
- 2) Треугольник со сторонами 1, 2, 4 существует.
- 3) Основания любой трапеции параллельны.

В ответ запишите номер выбранного утверждения.

Ответ: _____.



Не забудьте перенести все ответы в бланк ответов №1 в соответствии с инструкцией по выполнению работы. Проверьте, чтобы каждый ответ был записан в строке с номером соответствующего задания.

Часть 2

При выполнении заданий 20–25 используйте БЛАНК ОТВЕТОВ № 2. Сначала укажите номер задания, а затем запишите его решение и ответ. Пишите чётко и разборчиво.

20 Решите уравнение $x^2 - 3x + \sqrt{6-x} = \sqrt{6-x} + 40$.

21 Расстояние между пристанями А и В равно 72 км. Из А в В по течению реки отправился плот, а через час вслед за ним отправилась моторная лодка, которая, прибыв в пункт В, тотчас повернула обратно и возвратилась в А. К этому времени плот прошёл 33 км. Найдите скорость лодки в неподвижной воде, если скорость течения реки равна 3 км/ч.

22 Постройте график функции

$$y = \frac{4x - 5}{4x^2 - 5x}.$$

Определите, при каких значениях k прямая $y = kx$ имеет с графиком ровно одну общую точку.

23 Углы B и C треугольника ABC равны соответственно 64° и 86° . Найдите BC , если радиус окружности, описанной около треугольника ABC , равен 13.

24 Основания BC и AD трапеции $ABCD$ равны соответственно 9 и 36, $BD = 18$. Докажите, что треугольники CBD и BDA подобны.

25 В параллелограмме $ABCD$ проведена диагональ AC . Точка O является центром окружности, вписанной в треугольник ABC . Расстояния от точки O до точки A и прямых AD и AC соответственно равны 13, 9 и 5. Найдите площадь параллелограмма $ABCD$.



Проверьте, чтобы каждый ответ был записан рядом с номером соответствующего задания.