

**Основной государственный экзамен  
по МАТЕМАТИКЕ**

**Инструкция по выполнению работы**

Экзаменационная работа состоит из двух частей, включающих в себя 25 заданий. Часть 1 содержит 19 заданий, часть 2 содержит 6 заданий с развёрнутым ответом.

На выполнение экзаменационной работы по математике отводится 3 часа 55 минут (235 минут).

Ответы к заданиям 7 и 13 запишите в бланк ответов № 1 в виде одной цифры, которая соответствует номеру правильного ответа.

Для остальных заданий части 1 ответом является число или последовательность цифр. Ответ запишите в поле ответа в тексте работы, а затем перенесите в бланк ответов № 1. Если получилась обыкновенная дробь, ответ запишите в виде десятичной.

Решения заданий части 2 и ответы к ним запишите на бланке ответов № 2. Задания можно выполнять в любом порядке. Текст задания переписывать не надо, необходимо только указать его номер.

Все бланки заполняются яркими чёрными чернилами. Допускается использование гелевой или капиллярной ручки.

Сначала выполняйте задания части 1. Начать советуем с тех заданий, которые вызывают у Вас меньше затруднений, затем переходите к другим заданиям. Для экономии времени пропускайте задание, которое не удаётся выполнить сразу, и переходите к следующему. Если у Вас останется время, Вы сможете вернуться к пропущенным заданиям.

При выполнении части 1 все необходимые вычисления, преобразования выполняйте в черновике. **Записи в черновике, а также в тексте контрольных измерительных материалов не учитываются при оценивании работы.**

Если задание содержит рисунок, то на нём непосредственно в тексте работы можно выполнять необходимые Вам построения. Рекомендуем внимательно читать условие и проводить проверку полученного ответа.

При выполнении работы Вы можете воспользоваться справочными материалами, выданными вместе с вариантом КИМ, и линейкой.

Баллы, полученные Вами за выполненные задания, суммируются. Постарайтесь выполнить как можно больше заданий и набрать наибольшее количество баллов.

После завершения работы проверьте, чтобы ответ на каждое задание в бланках ответов № 1 и № 2 был записан под правильным номером.

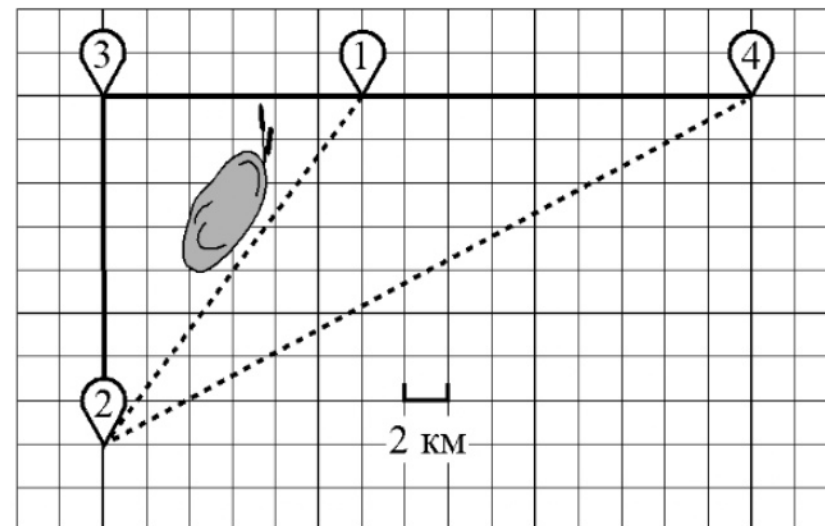
*Желаем успеха!*

**Часть 1**

*Ответами к заданиям 1–19 являются, число или последовательность цифр, которые следует записать в БЛАНК ОТВЕТОВ № 1 справа от номера соответствующего задания, начиная с первой клеточки. Если ответом является последовательность цифр, то запишите её без пробелов и других дополнительных символов. Каждый символ пишите в отдельной клеточке в соответствии с приведёнными в бланке образцами.*

**Прочитайте внимательно текст и выполните задания 1–5.**

Серёжа летом отдыхает с папой в деревне Пирожки. В среду они собираются съездить на машине в село Княжеское. Из деревни Пирожки в село Княжеское можно проехать по прямой грунтовой дороге. Есть более длинный путь: по прямолинейному шоссе через деревню Васильево до деревни Рябиновка, где нужно повернуть под прямым углом налево на другое шоссе, ведущее в село Княжеское. Есть и третий маршрут: в деревне Васильево можно свернуть на прямую грунтовую дорогу в село Княжеское, которая идёт мимо пруда. Шоссе и грунтовые дороги образуют прямоугольные треугольники.



По шоссе Серёжа с папой едут со скоростью 60 км/ч, а по грунтовой дороге — со скоростью 40 км/ч. На плане изображено взаимное расположение населённых пунктов, длина стороны каждой клеточки равна 2 км.

**1** Пользуясь описанием, определите, какими цифрами на плане обозначены населённые пункты.

Заполните таблицу, в бланк ответов перенесите последовательность трёх цифр без пробелов, запятых и других символов.

Населенные пункты	д. Пирожки	с. Княжеское	д. Рябиновка
Цифры			

Ответ: \_\_\_\_\_.

**2** Сколько километров проедут Серёжа с папой от деревни Васильево до села Княжеское, если они поедут по шоссе через деревню Рябиновку?

Ответ: \_\_\_\_\_.

**3** Найдите расстояние от деревни Васильево до села Княжеское по прямой. Ответ дайте в километрах.

Ответ: \_\_\_\_\_.

**4** Сколько минут затратят на дорогу из деревни Пирожки в село Княжеское Серёжа с папой, если они поедут сначала по шоссе, а затем свернут в деревне Васильево на прямую грунтовую дорогу, которая проходит мимо пруда?

Ответ: \_\_\_\_\_.

**5** В таблице указана стоимость (в рублях) некоторых продуктов в четырёх магазинах, расположенных в деревне Пирожки, селе Княжеском, деревне Васильево и деревне Рябиновке.

Наименование продукта	д. Пирожки	с. Княжеское	д. Васильево	д. Рябиновка
Молоко (1л)	48	45	50	52
Хлеб (1 батон)	34	32	33	28
Сыр «Российский» (1 кг)	240	280	270	260
Говядина (1 кг)	370	400	380	420
Картофель (1 кг)	22	16	28	30


Серёжа с папой хотят купить 2 л молока, 3 батона хлеба и 1 кг сыра «Российский». В каком магазине такой набор продуктов будет стоить дешевле всего? В ответ запишите стоимость данного набора в этом магазине.

Ответ: \_\_\_\_\_.

**6** Найдите значение выражения  $8,4 + 3,7$ .

Ответ: \_\_\_\_\_.

**7** На координатной прямой отмечены числа  $p, q, r$ .



Какая из разностей  $q - p, q - r, r - p$  положительна?

- 1)  $q - p$       2)  $q - r$       3)  $r - p$       4) ни одна из них

Ответ:

**8** Найдите значение выражения  $(a^3)^{-4} : a^{-14}$  при  $a = 5$ .

Ответ: \_\_\_\_\_.

9 Решите уравнение  $10 \cdot (x-9) = 7$ .

Ответ: \_\_\_\_\_.

10 Родительский комитет закупил 25 пазлов для подарков детям в связи с окончанием учебного года, из них 22 с машинами и 3 с видами городов. Подарки распределяются случайным образом между 25 детьми, среди которых есть Коля. Найдите вероятность того, что Коле достанется пазл с машиной.

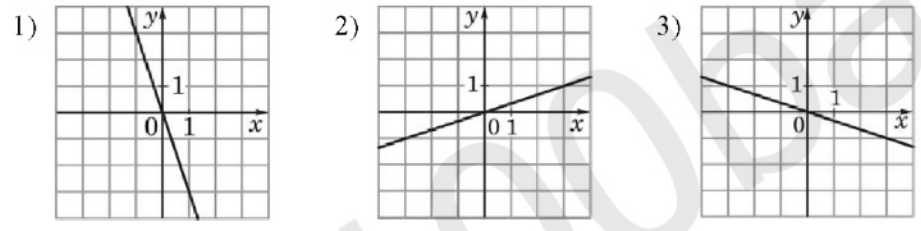
Ответ: \_\_\_\_\_.

11 Установите соответствие между функциями и их графиками.

КОЭФФИЦИЕНТЫ

- А)  $y = -3x$       Б)  $y = -\frac{1}{3}x$       В)  $y = \frac{1}{3}x$

ГРАФИКИ



В таблице под каждой буквой укажите соответствующий номер.

Ответ:

А	Б	В

12 Перевести значение температуры по шкале Цельсия в шкалу Фаренгейта, позволяет формула  $t_F = 1,8t_C + 32$ , где  $t_C$  — температура в градусах Цельсия,  $t_F$  — температура в градусах Фаренгейта. Скольким градусам по шкале Фаренгейта соответствует  $-95$  градусов по шкале Цельсия?

Ответ: \_\_\_\_\_.

13 Укажите решение системы неравенств  $(x+5)(x-9) > 0$

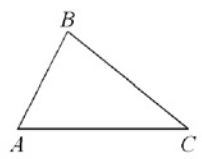
- 1)  $(-5; +\infty)$       3)  $(9; +\infty)$   
 2)  $(-5; 9)$       4)  $(-\infty; -5) \cup (9; +\infty)$

Ответ:

14 В ходе биологического эксперимента в чашку Петри с питательной средой поместили колонию микроорганизмов массой 14 мг. За каждые 30 минут масса колонии увеличивается в 3 раза. Найдите массу колонии микроорганизмов через 90 минут после начала эксперимента. Ответ дайте в миллиграммах.

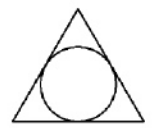
Ответ: \_\_\_\_\_.

15 В треугольнике  $ABC$  известно, что  $AB=12$ ,  $BC=15$ ,  $\sin \angle ABC = \frac{4}{9}$ . Найдите площадь треугольника  $ABC$ .



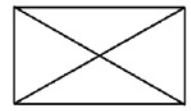
Ответ: \_\_\_\_\_.

16 Радиус окружности, вписанной в равносторонний треугольник, равен  $3\sqrt{3}$ . Найдите длину стороны этого треугольника.



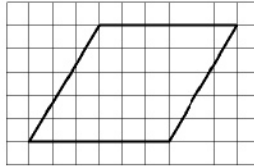
Ответ: \_\_\_\_\_.

17 Диагональ прямоугольника образует угол  $86^\circ$  с одной из его сторон. Найдите острый угол между диагоналями этого прямоугольника. Ответ дайте в градусах.



Ответ: \_\_\_\_\_.

- 18 На клетчатой бумаге с размером клетки  $1 \times 1$  изображён параллелограмм. Найдите площадь этого параллелограмма.



Ответ: \_\_\_\_\_.

- 19 Какое из следующих утверждений верно?

- 1) Отношение площадей подобных треугольников равно коэффициенту подобия.
- 2) Диагонали прямоугольника точкой пересечения делятся пополам.
- 3) Биссектриса треугольника делит пополам сторону, к которой проведена.

В ответ запишите номер выбранного утверждения.

Ответ: \_\_\_\_\_.

**!** Не забудьте перенести все ответы в бланк ответов № 1 в соответствии с инструкцией по выполнению работы. Проверьте, чтобы каждый ответ был записан в строке с номером соответствующего задания.

## Часть 2

При выполнении заданий 20–25 используйте БЛАНК ОТВЕТОВ № 2. Сначала укажите номер задания, а затем запишите его решение и ответ. Пишите чётко и разборчиво.

20 Решите уравнение  $(x^2 - 9)^2 + (x^2 + x - 6)^2 = 0$ .

- 21 Из двух городов одновременно навстречу друг другу отправились два велосипедиста. Проехав некоторую часть пути, первый велосипедист сделал остановку на 48 минут, а затем продолжил движение до встречи со вторым велосипедистом. Расстояние между городами составляет 168 км, скорость первого велосипедиста равна 15 км/ч, скорость второго — 30 км/ч. Определите расстояние от города, из которого выехал второй велосипедист, до места встречи.

- 22 Постройте график функции

$$y = \frac{1}{2} \left( \left| \frac{x}{2,5} - \frac{2,5}{x} \right| + \frac{x}{2,5} + \frac{2,5}{x} \right).$$

Определите, при каких значениях  $m$  прямая  $y = m$  имеет с графиком ровно одну общую точку.

- 23 Найдите боковую сторону  $AB$  трапеции  $ABCD$ , если углы  $ABC$  и  $BCD$  равны соответственно  $60^\circ$  и  $135^\circ$ , а  $CD = 24$ .

- 24 Внутри параллелограмма  $ABCD$  выбрали произвольную точку  $E$ . Докажите, что сумма площадей треугольников  $BEC$  и  $AED$  равна половине площади параллелограмма.

- 25 Окружности радиусов 45 и 90 касаются внешним образом. Точки  $A$  и  $B$  лежат на первой окружности, точки  $C$  и  $D$  — на второй. При этом  $AC$  и  $BD$  — общие касательные окружностей. Найдите расстояние между прямыми  $AB$  и  $CD$ .

**!** Проверьте, чтобы каждый ответ был записан рядом с номером соответствующего задания.

## СПРАВОЧНЫЕ МАТЕРИАЛЫ ПО МАТЕМАТИКЕ

### АЛГЕБРА

- Формула корней квадратного уравнения:

$$x = \frac{-b \pm \sqrt{D}}{2a}, \text{ где } D = b^2 - 4ac.$$

- Если квадратный трехчлен  $ax^2 + bx + c$  имеет два корня  $x_1$  и  $x_2$ , то

$$ax^2 + bx + c = a(x - x_1)(x - x_2);$$

если квадратный трехчлен  $ax^2 + bx + c$  имеет единственный корень  $x_0$ , то

$$ax^2 + bx + c = a(x - x_0)^2.$$

- Формула  $n$ -го члена арифметической прогрессии ( $a_n$ ), первый член которой равен  $a_1$  и разность равна  $d$ :

$$a_n = a_1 + d(n - 1).$$

- Формула суммы первых  $n$  членов арифметической прогрессии  $S_n = \frac{(a_1 + a_n)n}{2}$ .

- Формула  $n$ -го члена геометрической прогрессии ( $b_n$ ), первый член которой равен  $b_1$ , а знаменатель равен  $q$ :

$$b_n = b_1 \cdot q^{n-1}$$

- Формула суммы первых  $n$  членов геометрической прогрессии  $S_n = \frac{(q^n - 1)b_1}{q - 1}$ .

**Таблица квадратов двузначных чисел**

		Единицы									
		0	1	2	3	4	5	6	7	8	9
Десятки	1	100	121	144	169	196	225	256	289	324	361
	2	400	441	484	529	576	625	676	729	784	841
	3	900	961	1024	1089	1156	1225	1296	1369	1444	1521
	4	1600	1681	1764	1849	1936	2025	2116	2209	2304	2401
	5	2500	2601	2704	2809	2916	3025	3136	3249	3364	3481
	6	3600	3721	3844	3969	4096	4225	4356	4489	4624	4761
	7	4900	5041	5184	5329	5476	5625	5776	5929	6084	6241
	8	6400	6561	6724	6889	7056	7225	7396	7569	7744	7921
	9	8100	8281	8464	8649	8836	9025	9216	9409	9604	9801

### ГЕОМЕТРИЯ

- Сумма углов выпуклого  $n$ -угольника равна  $180^\circ(n - 2)$ .

- Радиус  $r$  окружности, вписанной в правильный треугольник со стороной  $a$ , равен  $\frac{\sqrt{3}}{6}a$ .

- Радиус  $R$  окружности, описанной около правильного треугольника со стороной  $a$ , равен  $\frac{\sqrt{3}}{3}a$ .

- Для треугольника  $ABC$  со сторонами  $AB = c$ ,  $AC = b$ ,  $BC = a$ :

$$\frac{a}{\sin A} = \frac{b}{\sin B} = \frac{c}{\sin C} = 2R,$$

где  $R$  – радиус описанной окружности.

- Для треугольника  $ABC$  со сторонами  $AB = c$ ,  $AC = b$ ,  $BC = a$ :

$$c^2 = a^2 + b^2 - 2ab \cos C.$$

- Формула длины  $l$  окружности радиуса  $R$ :

$$l = 2\pi R.$$

- Формула длины  $l$  дуги окружности радиуса  $R$ , на которую опирается центральный угол в  $\varphi$  градусов:

$$l = \frac{2\pi R \varphi}{360}.$$

- Формула площади  $S$  параллелограмма со стороной  $a$  и высотой  $h$ , проведённой к этой стороне:  $S = ah$ .

- Формула площади  $S$  треугольника со стороной  $a$  и высотой  $h$ , проведённой к этой стороне:

$$S = \frac{1}{2}ah.$$

- Формула площади  $S$  трапеции с основаниями  $a$ ,  $b$  и высотой  $h$ :

$$S = \frac{a+b}{2}h.$$

- Формула площади  $S$  круга радиуса  $R$ :  $S = \pi R^2$ .