



Основной Государственный Экзамен по МАТЕМАТИКЕ

Инструкция по выполнению работы

Экзаменационная работа состоит из двух частей, включающих в себя 25 заданий. Часть 1 содержит 19 заданий, часть 2 содержит 6 заданий с развёрнутым ответом.

На выполнение экзаменационной работы по математике отводится 3 часа 55 минут (235 минут).

Ответы к заданиям 7 и 13 запишите в бланк ответов № 1 в виде одной цифры, которая соответствует номеру правильного ответа.

Для остальных заданий части 1 ответом является число или последовательность цифр. Ответ запишите в поле ответа в тексте работы, а затем перенесите в бланк ответов № 1. Если получилась обыкновенная дробь, ответ запишите в виде десятичной.

Решения заданий части 2 и ответы к ним запишите на бланке ответов № 2. Задания можно выполнять в любом порядке. Текст задания переписывать не надо, необходимо только указать его номер.

Все бланки заполняются яркими чёрными чернилами. Допускается использование гелевой или капиллярной ручки.

Сначала выполняйте задания части 1. Начать советуем с тех заданий, которые вызывают у Вас меньше затруднений, затем переходите к другим заданиям. Для экономии времени пропускайте задание, которое не удаётся выполнить сразу, и переходите к следующему. Если у Вас останется время, Вы сможете вернуться к пропущенным заданиям.

При выполнении части 1 все необходимые вычисления, преобразования выполняйте в черновике. **Записи в черновике, а также в тексте контрольных измерительных материалов не учитываются при оценивании работы.**

Если задание содержит рисунок, то на нём непосредственно в тексте работы можно выполнять необходимые Вам построения. Рекомендуем внимательно читать условие и проводить проверку полученного ответа.

При выполнении работы Вы можете воспользоваться справочными материалами, выданными вместе с вариантом КИМ.

Баллы, полученные Вами за выполненные задания, суммируются. Постарайтесь выполнить как можно больше заданий и набрать наибольшее количество баллов.

Для прохождения аттестационного порога необходимо набрать не менее 8 баллов, из которых не менее 2 баллов должны быть получены за решение заданий по геометрии (задания 15–19, 23–25).

После завершения работы проверьте, чтобы ответ на каждое задание в бланках ответов №1 и №2 был записан под правильным номером.

Желаем успеха!

СПРАВОЧНЫЕ МАТЕРИАЛЫ

АЛГЕБРА

- Формула корней квадратного уравнения:

$$x = \frac{-b \pm \sqrt{D}}{2a}, \text{ где } D = b^2 - 4ac.$$

- Если квадратный трёхчлен $ax^2 + bx + c$ имеет два корня x_1 и x_2 , то

$$ax^2 + bx + c = a(x - x_1)(x - x_2);$$

- если квадратный трёхчлен $ax^2 + bx + c$ имеет единственный корень x_0 , то

$$ax^2 + bx + c = a(x - x_0)^2.$$

- Абсцисса вершины параболы, заданной уравнением $y = ax^2 + bx + c$:

$$x_0 = -\frac{b}{2a}.$$

- Формула n -го члена арифметической прогрессии (a_n) , первый член которой равен a_1 и разность равна d :

$$a_n = a_1 + d(n - 1).$$

- Формула суммы первых n членов арифметической прогрессии:

$$S_n = \frac{(a_1 + a_n)n}{2}.$$

- Формула n -го члена геометрической прогрессии b_n , первый член которой равен b_1 , а знаменатель равен q :

$$b_n = b_1 \cdot q^{n-1}$$

- Формула суммы первых n членов геометрической прогрессии:

$$S_n = \frac{(q^n - 1)b_1}{q - 1}.$$

- Формулы сокращённого умножения:

$$(a + b)^2 = a^2 + 2ab + b^2;$$

$$(a - b)^2 = a^2 - 2ab + b^2;$$

$$a^2 - b^2 = (a - b)(a + b).$$

- Свойства арифметического квадратного корня:

$$\sqrt{ab} = \sqrt{a} \cdot \sqrt{b} \text{ при } a \geq 0, b \geq 0;$$

$$\sqrt{\frac{a}{b}} = \frac{\sqrt{a}}{\sqrt{b}} \text{ при } a \geq 0, b > 0.$$

- Свойства степени при $a > 0, b > 0$

$$a^{-n} = \frac{1}{a^n};$$

$$a^n \cdot a^m = a^{n+m};$$

$$\frac{a^n}{a^m} = a^{n-m};$$

$$(a^n)^m = a^{nm};$$

$$(ab)^n = a^n \cdot b^n;$$

$$\left(\frac{a}{b}\right)^n = \frac{a^n}{b^n}.$$

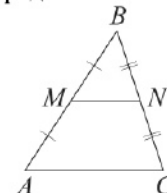
Таблица квадратов двузначных чисел

		Единицы									
		0	1	2	3	4	5	6	7	8	9
Десятки	1	100	121	144	169	196	225	256	289	324	361
	2	400	441	484	529	576	625	676	729	784	841
	3	900	961	1024	1089	1156	1225	1296	1369	1444	1521
	4	1600	1681	1764	1849	1936	2025	2116	2209	2304	2401
	5	2500	2601	2704	2809	2916	3025	3136	3249	3364	3481
	6	3600	3721	3844	3969	4096	4225	4356	4489	4624	4761
	7	4900	5041	5184	5329	5476	5625	5776	5929	6084	6241
	8	6400	6561	6724	6889	7056	7225	7396	7569	7744	7921
	9	8100	8281	8464	8649	8836	9025	9216	9409	9604	9801

ГЕОМЕТРИЯ

Сумма углов выпуклого n -угольника равна $180^\circ(n-2)$.

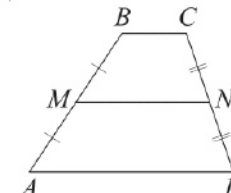
Средняя линия треугольника и трапеции



MN — ср. лин.

$MN \parallel AC$

$$MN = \frac{AC}{2}$$



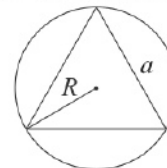
$BC \parallel AD$

MN — ср. лин.

$MN \parallel AD$

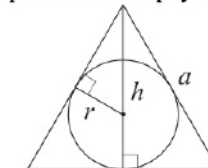
$$MN = \frac{BC + AD}{2}$$

Описанная и вписанная окружности правильного треугольника



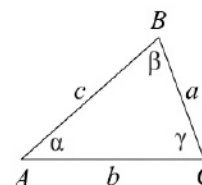
$$R = \frac{a\sqrt{3}}{3}$$

$$S = \frac{a^2\sqrt{3}}{4}$$



$$r = \frac{a\sqrt{3}}{6}$$

$$h = \frac{a\sqrt{3}}{2}$$



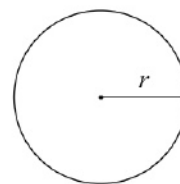
Для треугольника ABC со сторонами $AB=c$, $AC=b$, $BC=a$:

$$\frac{a}{\sin A} = \frac{b}{\sin B} = \frac{c}{\sin C} = 2R,$$

где R — радиус описанной окружности.

Для треугольника ABC со сторонами $AB=c$, $AC=b$, $BC=a$:

$$c^2 = a^2 + b^2 - 2ab \cos C.$$

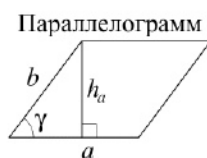


Длина окружности $C = 2\pi r$

Площадь круга $S = \pi r^2$



Площади фигур



$$S = ah_a$$

$$S = ab \sin \gamma$$

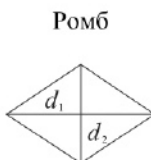


$$S = \frac{1}{2} ah_a$$

$$S = \frac{1}{2} ab \sin \gamma$$



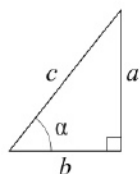
$$S = \frac{a+b}{2} \cdot h$$



$$d_1, d_2 \text{ — диагонали}$$

$$S = \frac{1}{2} d_1 d_2$$

Прямоугольный треугольник



$$\sin \alpha = \frac{a}{c}$$

$$\cos \alpha = \frac{b}{c}$$

$$\operatorname{tg} \alpha = \frac{a}{b}$$

Теорема Пифагора: $a^2 + b^2 = c^2$ Основное тригонометрическое тождество: $\sin^2 \alpha + \cos^2 \alpha = 1$

Некоторые значения тригонометрических функций

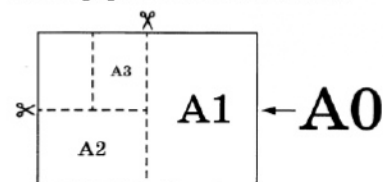
α	градусы	0°	30°	45°	60°	90°	180°	270°	360°
$\sin \alpha$		0	$\frac{1}{2}$	$\frac{\sqrt{2}}{2}$	$\frac{\sqrt{3}}{2}$	1	0	-1	0
$\cos \alpha$		1	$\frac{\sqrt{3}}{2}$	$\frac{\sqrt{2}}{2}$	$\frac{1}{2}$	0	-1	0	1
$\operatorname{tg} \alpha$		0	$\frac{\sqrt{3}}{3}$	1	$\sqrt{3}$	—	0	—	0

Часть 1

Ответами к заданиям 1–20 являются число или последовательность цифр, которые следует записать в БЛАНК ОТВЕТОВ № 1 справа от номера соответствующего задания, начиная с первой клеточки. Если ответом является последовательность цифр, то запишите её без пробелов, запятых и других дополнительных символов. Каждый символ пишите в отдельной клеточке в соответствии с приведёнными в бланке образцами.

Прочитайте внимательно текст и выполните задания 1-5

Общепринятые форматы листов бумаги обозначают буквой А и цифрой: А0, А1, А2 и так далее. Если лист формата А0 разрезать пополам, получаются два листа формата А1. Если лист А1 разрезать пополам, получаются два листа формата А2 и так далее.



При этом отношение длины листа к его ширине у всех форматов, обозначенных буквой А, одно и то же (то есть листы всех форматов подобны друг другу). Это сделано специально – чтобы можно было сохранить пропорции текста на листе при изменении формата бумаги (размер шрифта при этом тоже соответственно изменяется).

В таблице 1 даны размеры листов бумаги четырёх форматов: от А3 до А6.

Таблица 1

Порядковые номера	Ширина (мм)	Длина (мм)
1	148	210
2	210	297
3	105	148
4	297	420



- 1 Для листов бумаги форматов А3, А4, А5 и А6 определите, какими порядковыми номерами обозначены их размеры в таблице 1. Заполните таблицу ниже, в бланк ответов перенесите последовательность четырёх цифр.

Форматы бумаги	А3	А4	А5	А6
Порядковые номера				

- 2 Сколько листов бумаги формата А6 получится при разрезании одного листа бумаги формата А2?

Ответ: _____.

- 3 Найдите длину большей стороны листа бумаги формата А1. Ответ дайте в миллиметрах.

Ответ: _____.

- 4 Найдите площадь листа бумаги формата А4. Ответ дайте в квадратных сантиметрах.

Ответ: _____.

- 5 Размер (высота) типографского шрифта измеряется в пунктах. Один пункт равен $\frac{1}{72}$ дюйма, то есть 0,3528 мм. Какой высоты нужен шрифт (в пунктах), чтобы текст был расположен на листе формата А4 так же, как этот же текст, напечатанный шрифтом высотой 12 пунктов, на листе формата А5? Размер шрифта округлите до целого.

Ответ: _____.

- 6 Найдите значение выражения

$$4,9 - 9,4.$$

Ответ: _____.

- 7 Какое из следующих чисел заключено между числами $\frac{18}{17}$ и $\frac{17}{15}$?

- 1) 1
- 2) 1,1
- 3) 1,2
- 4) 1,3

Ответ:

- 8 Найдите значение выражения

$$\frac{x^9 \cdot x^5}{x^{10}}$$

при $x = 3$.

Ответ: _____.

- 9 Найдите корень уравнения

$$9 + 8x = 6x - 2.$$

Ответ: _____.



- 10 На экзамене 60 билетов, Олег **не выучил** 12 из них. Найдите вероятность того, что ему попадётся выученный билет.

Ответ: _____.

- 11 Установите соответствие между функциями и их графиками.

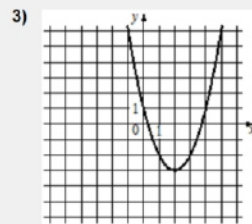
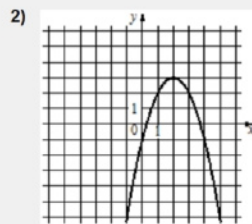
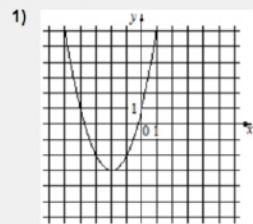
ФУНКЦИИ

А) $y = x^2 + 4x + 1$

Б) $y = x^2 - 4x + 1$

В) $y = -x^2 + 4x - 1$

ГРАФИКИ



В таблице под каждой буквой укажите соответствующий номер.

Ответ:

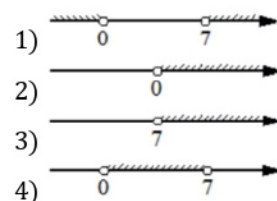
А	Б	В

- 12 Мощность постоянного тока (в ваттах) вычисляется по формуле $P = I^2 R$, где I — сила тока (в амперах), R — сопротивление (в омах). Пользуясь этой формулой, найдите сопротивление R , если мощность составляет 29,25 Вт, а сила тока равна 1,5 А. Ответ дайте в омах.

Ответ: _____.

- 13 Укажите решение неравенства

$$7x - x^2 < 0.$$

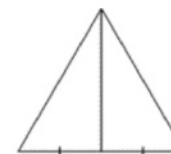


Ответ:

- 14 К концу 2011 года в городе проживало 102 300 человек. Каждый год число жителей города возрастало на одну и ту же величину. В конце 2018 года в городе проживало 114 340 человек. Какова была численность населения этого города к концу 2016 года?

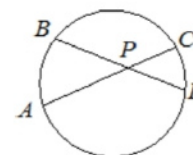
Ответ: _____.

- 15 Сторона равностороннего треугольника равна $16\sqrt{3}$. Найдите медиану этого треугольника.



Ответ: _____.

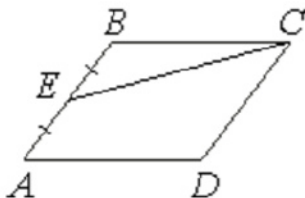
- 16 Хорды AC и BD окружности пересекаются в точке P , $BP = 15$, $CP = 6$, $DP = 10$. Найдите AP .



Ответ: _____.



- 17 Площадь параллелограмма $ABCD$ равна 180. Точка E – середина стороны AB . Найдите площадь трапеции $DAEC$.



Ответ: _____.

- 18 На клетчатой бумаге с размером клетки 1×1 изображён параллелограмм. Найдите его площадь.



Ответ: _____.

- 19 Какое из следующих утверждений верно?

- 1) Тангенс любого острого угла меньше единицы.
- 2) Средняя линия трапеции равна сумме её оснований.
- 3) В параллелограмме есть два равных угла.

В ответ запишите номер выбранного утверждения.

Ответ: _____.

Не забудьте перенести все ответы в бланк ответов № 1 в соответствии с инструкцией по выполнению работы. Проверьте, чтобы каждый ответ был записан в строке с номером соответствующего задания.

Часть 2

При выполнении заданий 21–26 используйте БЛАНК ОТВЕТОВ № 2. Сначала укажите номер задания, а затем запишите его решение и ответ. Пишите чётко и разборчиво.

- 20 Решите уравнение

$$x^2 - 6x + \sqrt{6-x} = \sqrt{6-x} + 7.$$

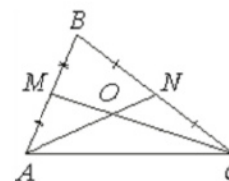
- 21 Поезд, двигаясь равномерно со скоростью 75 км/ч, проезжает мимо пешехода, идущего параллельно путям со скоростью 3 км/ч навстречу поезду, за 30 секунд. Найдите длину поезда в метрах.

- 22 Постройте график функции

$$y = |x|(x + 1) - 6x.$$

Определите, при каких значениях m прямая $y = m$ имеет с графиком ровно две общие точки.

- 23 Точки M и N являются серединами сторон AB и BC треугольника ABC соответственно. Отрезки AN и CM пересекаются в точке O , $AN = 12$, $CM = 18$. Найдите AO .



- 24 Биссектрисы углов B и C трапеции $ABCD$ пересекаются в точке O , лежащей на стороне AD . Докажите, что точка O равноудалена от прямых AB , BC и CD .

- 25 На стороне BC остроугольного треугольника ABC как на диаметре построена полуокружность, пересекающая высоту AD в точке M , $AD = 49$, $MD = 42$, H – точка пересечения высот треугольника ABC . Найдите AH .

Проверьте, чтобы каждый ответ был записан рядом с номером соответствующего задания.



Система оценивания экзаменационной работы по математике

Часть 1

За правильный ответ на каждое из заданий 1–19 ставится 1 балл.

Номер задания	Правильный ответ
1	4213
2	16
3	840
4	623,7
5	17
6	-4,5
7	2
8	81
9	-5,5
10	0,8
11	132
12	13
13	1
14	110 900
15	24
16	25
17	135
18	28
19	3
20	-1
21	650
22	-6,25; 12,25
23	8
24	■
25	13



Часть 2

Критерии оценивания заданий с развёрнутым ответом

20

Решите уравнение $x^2 - 6x + \sqrt{6-x} = \sqrt{6-x} + 7$.

DC8888

$$\begin{aligned} * 6 - x &\geq 0 \\ 6 &\geq x \\ x &\leq 6 \end{aligned}$$

$$\begin{aligned} x^2 - 6x - 7 &= 0 \\ D &= 8^2 \\ x &= \frac{6 \pm 8}{2} \end{aligned}$$

$x_1 = 7$
не подходит
по условию *

$$x_2 = -1$$

ОТВЕТ: -1

Баллы	Содержание критерия
2	Обоснованно получен верный ответ
1	Решение доведено до конца, но допущена описка или ошибка вычислительного характера, с её учётом дальнейшие шаги выполнены верно
0	Решение не соответствует ни одному из критериев, перечисленных выше
2	Максимальный балл

21


Поезд, двигаясь равномерно со скоростью 75 км/ч, проезжает мимо пешехода, идущего параллельно путям со скоростью 3 км/ч навстречу поезду, за 30 секунд. Найдите длину поезда в метрах.

217BDE

$$① v_{сумм} = 75 + 3 = 78 \text{ км/ч} = \frac{78 \cdot 1000}{3600} \text{ м/с} = \frac{13}{3} \text{ м/с}$$

$$② v_{сумм} = \frac{65}{3} \text{ м/с}$$

$$S_{сумм} = \frac{65}{3} \cdot 30 = 650 \text{ м}$$



ОТВЕТ: 650

Баллы	Содержание критерия
2	Ход решения задачи верный, получен верный ответ
1	Ход решения верный, все его шаги присутствуют, но допущена описка или ошибка вычислительного характера
0	Решение не соответствует ни одному из критериев, перечисленных выше
2	Максимальный балл

22

Постройте график функции

$$y = |x|(x+1) - 6x.$$

Определите, при каких значениях m прямая $y = m$ имеет с графиком ровно две общие точки.

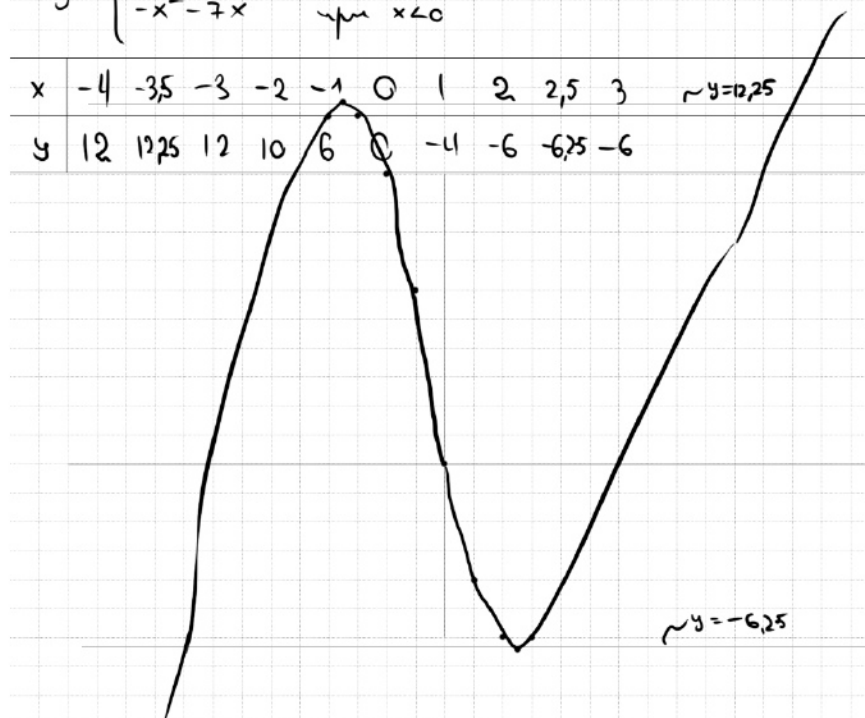
OD3070

$$\begin{aligned} ① \text{ При } x \geq 0 \\ y &= x \cdot (x+1) - 6x \\ y &= x^2 - 5x \\ x_0 &= \frac{-b}{2a} = \frac{-(-5)}{2 \cdot 1} = \frac{5}{2} \end{aligned}$$

$$\begin{aligned} ② \text{ При } x < 0 \\ y &= -x \cdot (x+1) - 6x \\ y &= -x^2 - 7x \\ x_0 &= \frac{-b}{2a} = \frac{-(-7)}{2 \cdot (-1)} = -\frac{7}{2} \end{aligned}$$

$$y = \begin{cases} x^2 - 5x & \text{при } x \geq 0 \\ -x^2 - 7x & \text{при } x < 0 \end{cases}$$

x	-4	-3,5	-3	-2	-1	0	1	2	2,5	3	$\sim y = 12,25$
y	12	12,25	12	10	6	0	-4	-6	-6,25	-6	



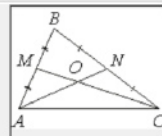
ОТВЕТ: -6,25 ; 12,25

Баллы	Содержание критерия
2	График построен верно, верно найдены искомые значения параметра
1	График построен верно, но искомые значения параметра найдены неверно или не найдены
0	Решение не соответствует ни одному из критериев, перечисленных выше
2	Максимальный балл



23

Точки M и N являются серединами сторон AB и BC треугольника ABC соответственно. Отрезки AN и CM пересекаются в точке O , $AN = 12$, $CM = 18$. Найдите AO .



СВОЙСТВО МЕДИАН



AN - медиана - CM - медиана

$$\Rightarrow \frac{AO}{ON} = \frac{2}{1}$$

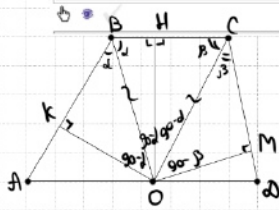
$$\Rightarrow AO = \frac{2}{3} \cdot AN = \frac{2}{3} \cdot 12 = 8$$

ОТВЕТ: 8

Баллы	Содержание критерия
2	Ход решения верный, все его шаги выполнены правильно, получен верный ответ
1	Ход решения верный, все его шаги выполнены правильно, но даны неполные объяснения, или допущена одна вычислительная ошибка
0	Решение не соответствует ни одному из критериев, перечисленных выше
2	Максимальный балл

24

Биссектрисы углов B и C трапеции $ABCD$ пересекаются в точке O , лежащей на стороне AD . Докажите, что точка O равноудалена от прямых AB , BC и CD .



① $\triangle KBO = \triangle BKO$ по стороне и 2 прил. к ней углам
 $\Rightarrow OK = OK$

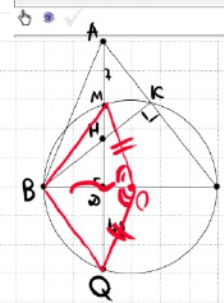
② $\triangle COM = \triangle COM$ по стороне и 2 прил. к ней углам
 $\Rightarrow OM = OM$

$$\Rightarrow OK = OM = ON$$

Баллы	Содержание критерия
2	Доказательство верное, все шаги обоснованы
1	Доказательство в целом верное, но содержит неточности
0	Решение не соответствует ни одному из критериев, перечисленных выше
2	Максимальный балл

25

На стороне BC остроугольного треугольника ABC как на диаметре построена полуокружность, пересекающая высоту AD в точке M , $AD = 49$, $MD = 42$, H — точка пересечения высот треугольника ABC . Найдите AH .



① K лежит на окружности, т.е. $\angle BKC = 90^\circ$
 и $\angle BKC$ — опирается на диаметр.

② AQ и AC — секущие

$$AM \cdot AQ = AK \cdot AC$$

$$7 \cdot (49 + 42) = AK \cdot AC$$

$$637 = AK \cdot AC$$

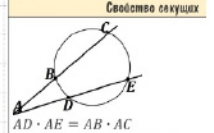
③ $\triangle AKH \sim \triangle ACD$

$$\frac{AK}{AD} = \frac{AH}{AC}$$

$$AD \cdot AH = AK \cdot AC$$

$$749 \cdot AH = 637$$

$$AH = 13$$



ОТВЕТ: 13

Баллы	Содержание критерия
2	Ход решения верный, получен верный ответ
1	Ход решения верный, все его шаги присутствуют, но допущена опечатка или ошибка вычислительного характера
0	Решение не соответствует ни одному из критериев, перечисленных выше
2	Максимальный балл



В соответствии с Порядком проведения государственной итоговой аттестации по образовательным программам основного общего образования (приказ Минпросвещения России и Рособрнадзора от 07.11.2018 № 189/1513 зарегистрирован Минюстом России 10.12.2018 № 52953),

«64. Экзаменационные работы проверяются двумя экспертами. По результатам проверки эксперты независимо друг от друга выставляют баллы за каждый ответ на задания экзаменационной работы... В случае существенного расхождения в баллах, выставленных двумя экспертами, назначается третья проверка. Существенное расхождение в баллах определено в критериях оценивания по соответствующему учебному предмету.

Третий эксперт назначается председателем предметной комиссии из числа экспертов, ранее не проверявших экзаменационную работу.

Третьему эксперту предоставляется информация о баллах, выставленных экспертами, ранее проверявшими экзаменационную работу обучающегося. Баллы, выставленные третьим экспертом, являются окончательными».

1. Работа направляется на третью проверку, если расхождение в баллах, выставленных двумя экспертами за выполнение любого из заданий, составляет 2 балла. В этом случае третий эксперт проверяет только ответ на то задание, которое было оценено двумя экспертами со столь существенным расхождением.

2. Работа участника ОГЭ направляется на третью проверку при наличии расхождений в двух или более заданиях. В этом случае третий эксперт перепроверяет задания 21–26 с развёрнутым ответом.

