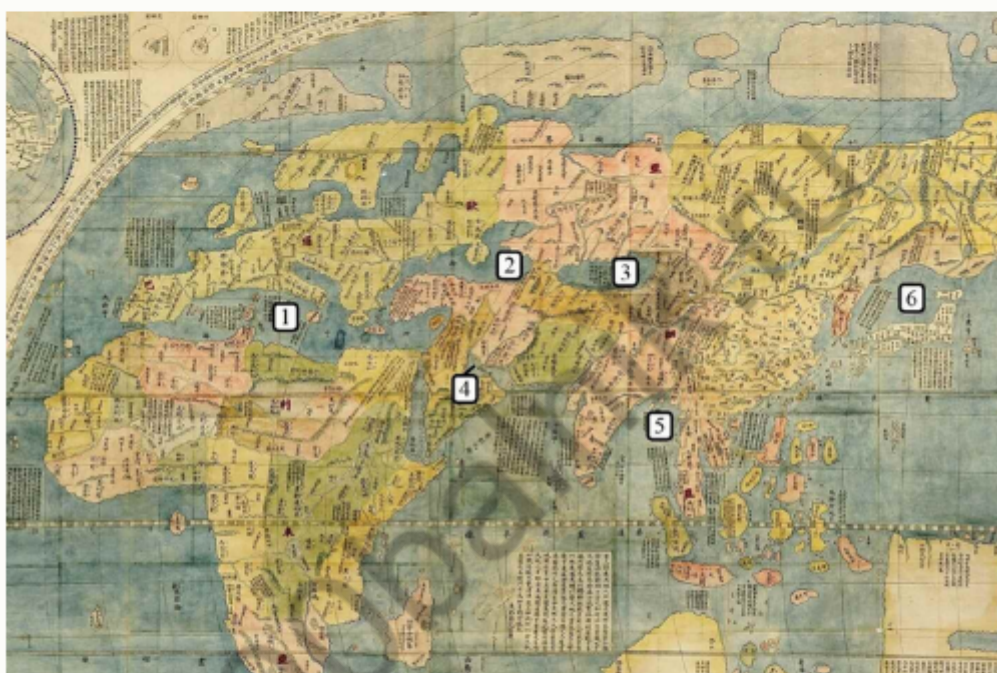


## МОСКОВСКАЯ ОЛИМПИАДА ШКОЛЬНИКОВ ПО ГЕОГРАФИИ 7 КЛАСС ОТБОРОЧНЫЙ ЭТАП 2021-2022

### № 1

Перед Вами фрагмент китайской карты мира, изготовленной в 1602 г. (карта Маттео Риччи), на которой цифровыми индексами обозначены обособленные части Мирового океана. Мы уверены, что вы легко определите пронумерованные водные объекты, учитывая их расположение и очертания на представленной карте.



Расположите данные объекты в порядке возрастания их средней глубины. Последовательно впишите каждый номер объекта в отдельное поле для ответа.


## № 2

Укажите архипелаг, происхождение которого связано с деятельностью живых организмов.

☐ Новая Земля

☐ Зондские острова

☐ Шпицберген

☐ Филиппинские острова

☐ Острова Туамоту

☐ Новосибирские острова

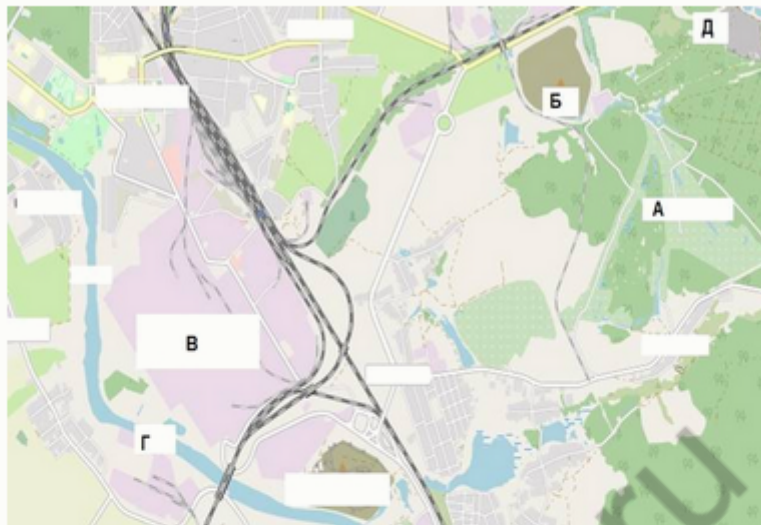
☐ Коморские острова

☐ Алеутские острова

100balnik.ru

### № 3

Рассмотрите картографическое изображение.



Какие объекты соответствуют буквенным индексам «Б», «В» «Г», представленным на данном изображении?

пруды, используемые для рыболовства и  
рыбоводства

болота

территория промышленного  
предприятия

отвалы пустой породы, оставленные  
после разработки месторождения

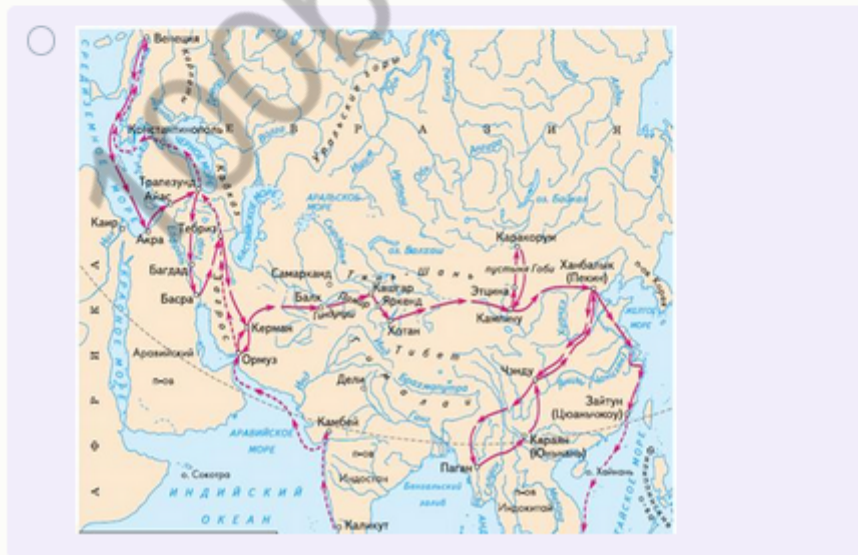
территории бывших карьеров и  
промышленных предприятий

Б

	В
название населённого пункта	
название реки и других водных объектов	
осушенные земли	
территория аэродрома	
производственно-складские помещения	
солончаки	Г
лесные массивы	
территория садоводческого некоммерческого товарищества	
поля, луга, пашня, пастбища	
моховая и лишайниковая растительность	

#### № 4

Выберите картосхему с маршрутами экспедиций выдающегося отечественного географа и путешественника, проводившего свои исследования в обширном субрегионе, значительная часть которого относится к области внутреннего стока. В честь исследователя названы горные хребты и горные вершины в районе его исследования, а также один из подвидов травоядного млекопитающего.





## № 5

Под юрисдикцию какой страны, расположенной на противоположном по отношению к Гринвичскому меридиану полушарии, подпадает территория с координатами:  $9^{\circ}10'$  ю.ш.  $171^{\circ}50'$  з.д.? Укажите название страны.

Ответ

№ 6

Укажите часть света, получившую своё название в честь флорентийского путешественника.

Внимание! Если вы неверно указали часть света, то всё задание не оценивается.

Ответ


Найдите животных, обитающих на её территории.

☐

1

☐

2



☐

3



☐

4



☐

5



☐

6



## № 7

Укажите название крайней точки одного из материков, если о районе, в котором она расположена известно, что в тектоническом отношении – это область альпийской складчатости, а в природно-зональном – часть ареала субтропических лесов и кустарников.

Ответ

100balnik.ru