

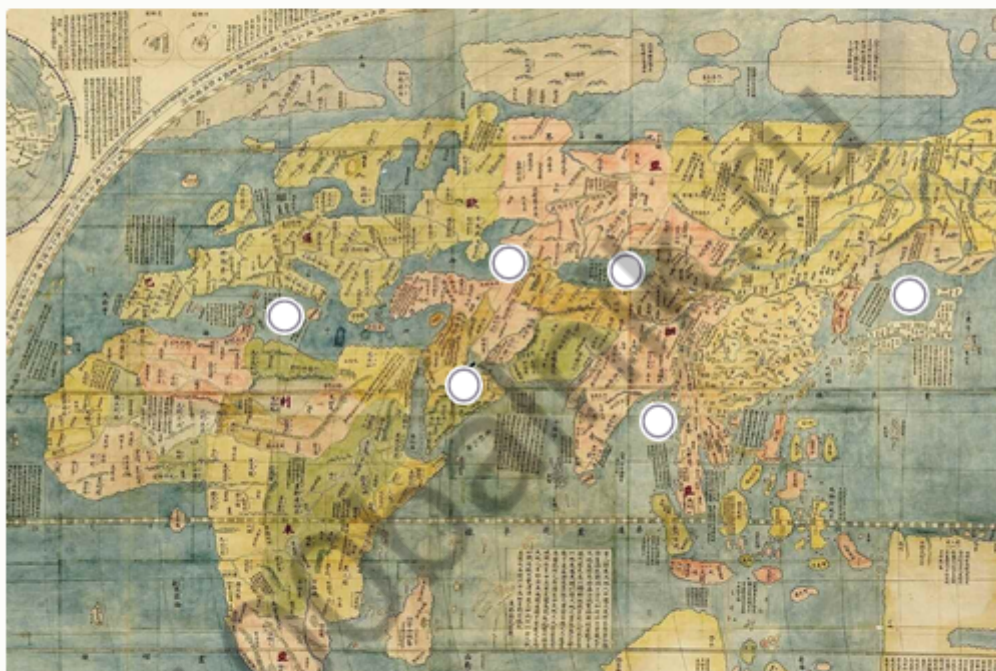
## МОСКОВСКАЯ ОЛИМПИАДА ШКОЛЬНИКОВ ПО ГЕОГРАФИИ 6 КЛАСС

№ 1

Перед Вами фрагмент китайской карты мира, изготовленной в 1602 г. (карта Маттео Риччи), на которой обозначены обособленные части Мирового океана.

Отметьте водный объект с наибольшей средней глубиной.

**Внимание!** Если вы неверно указали точку на карте, то всё задание не оценивается.



Назовите этот географический объект.

Ответ

## № 2

Назовите имя мореплавателя скандинавского происхождения, основавшего первую колонию на острове, который в три с половиной раза меньше по площади Австралийского континента. Наступление глобального похолодания привело к упадку и исчезновению основанных колоний.

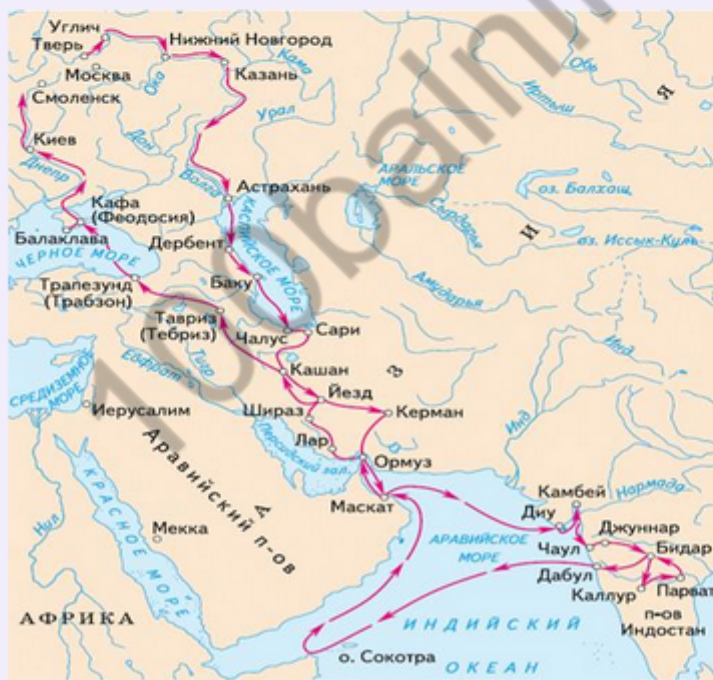
Ответ

100balnik.ru

### № 3

Выберите картосхему с маршрутами экспедиций выдающегося географа и исследователя. За выдающиеся успехи в изучении одного из регионов императорским указом к его фамилии была добавлена приставка с названием этой природной страны. Ученый был одним из организаторов первого в нашей стране статистического учёта населения.

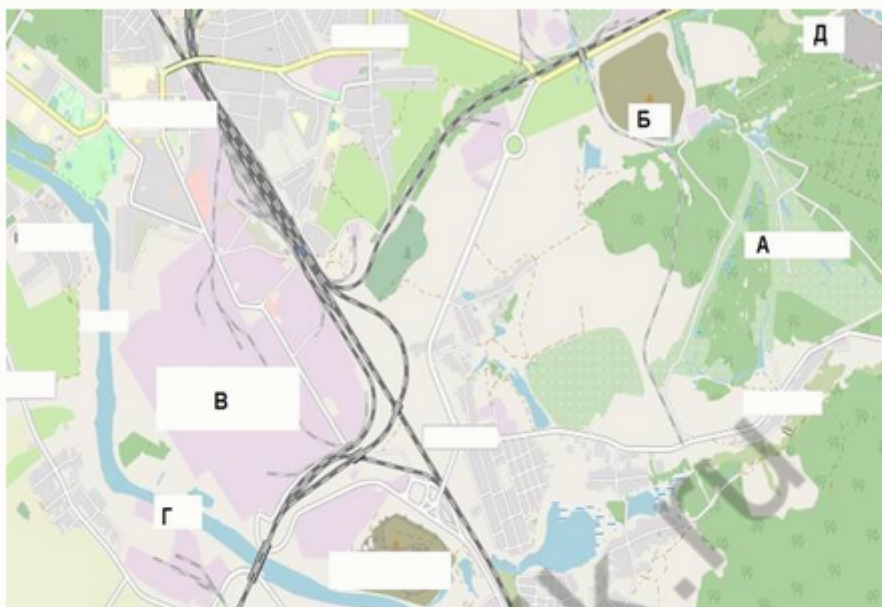






## № 4

Рассмотрите картографическое изображение.



Какие объекты соответствуют буквенным индексам «Б», «В» «Г», представленным на данном изображении?

осушенные земли

Б

территория промышленного предприятия

отвалы пустой породы, оставленные после разработки месторождения

болота

территории бывших карьеров и промышленных предприятий

название реки и других водных объектов

В

территория садоводческого  
некоммерческого товарищества

территория аэродрома

производственно-складские помещения

лесные массивы

пруды, используемые для рыболовства и  
рыбоводства

Г

название населённого пункта

поля, луга, пашня, пастбища

моховая и лишайниковая  
растительность

солончаки

100balnik.ru

### № 5

Под юрисдикцию какой страны, расположенной на противоположном по отношению к экватору полушарии, подпадает территория/акватория со следующими географическими координатами: 29°01' ю.ш. 167°56' в.д.? Укажите название страны.

Ответ

### № 6

Укажите архипелаг, происхождение которого связано с деятельностью живых организмов.

- Бисмарка
- Новая Земля
- Зондские острова
- Тувалу
- Филиппинские острова