

3 Для обеспечения комфортной температуры воздуха в жилых и производственных помещениях в холодное время года действует отопительный период. Он продолжается в то время, когда среднесуточная температура воздуха на улице меньше или равна +8 °С. Запишите перечисленные города в порядке увеличения средней продолжительности отопительного периода, начиная с города с его наименьшей продолжительностью.

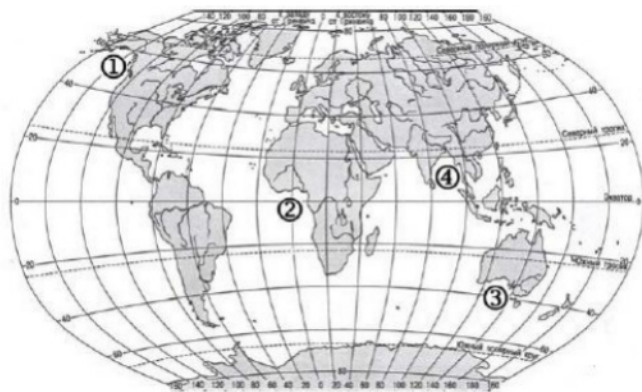
- 1) Элиста
- 2) Пермь
- 3) Ульяновск

Запишите в таблицу получившуюся последовательность цифр.

Ответ:

--	--	--

4 Установите соответствие между рекой и ее расположением на карте, обозначенным цифрой.



РЕКА

РАСПОЛОЖЕНИЕ НА КАРТЕ

- А. Гвинейский
- Б. Бенгальский
- В. Аляска

- 1) 1
- 2) 2
- 3) 3
- 4) 4

Запишите в таблицу выбранные цифры под соответствующими буквами.

Ответ:

А	Б	В

5 Прочитайте приведённый ниже текст, в котором пропущен ряд слов (словосочетаний). Выберите из предлагаемого списка слова (словосочетания), которые необходимо вставить на место пропусков.

ОСОБЕННОСТИ ТЭК ЯПОНИИ

Япония является одним из крупнейших в мире _____ (А) электроэнергии. При этом, не обладая запасами топливных полезных ископаемых, Япония является одним из крупнейших _____ (Б) топливных ресурсов. До 2011 г. около 30 % электроэнергии страны вырабатывалось на атомных электростанциях Японии. Работа АЭС в Японии всегда была предметом споров, т. к. многие общественные деятели и учёные считали очень высокими риски строительства и эксплуатации атомных электростанций в условиях сейсмической активности территории. После цунами и аварии на АЭС «Фукусима» большинство АЭС было остановлено.

В марте 2017 г. атомная энергетика Японии вырабатывала всего 2,15% электроэнергии в стране, ведущая роль в энергетике Японии окончательно закрепилась за _____ (В).

Выбирайте последовательно одно слово за другим, мысленно вставляя на места пропусков слова из списка в нужной форме. Обратите внимание на то, что слов в списке больше, чем Вам потребуется для заполнения пропусков. Каждое слово может быть использовано только **один** раз.

Список слов (словосочетаний):

- | | |
|------------------|--------|
| 1) импортер | 4) ТЭС |
| 2) экспортер | 5) ГЭС |
| 3) производитель | 6) ПЭС |

В данной ниже таблице приведены буквы, обозначающие пропущенные слова (словосочетания). Запишите в таблицу под каждой буквой номер выбранного Вами слова (словосочетания).

Ответ:

А	Б	В

6) Какие три из перечисленных городов России имеют наибольшую численность населения? Запишите цифры, под которыми указаны эти регионы.

- 1) Новосибирск
- 2) Екатеринбург
- 3) Владивосток
- 4) Мурманск
- 5) Омск
- 6) Рязань

Ответ:

--	--	--

7) Установите соответствие между страной и диаграммой, отражающей распределение её экономически активного населения по секторам экономики: к каждой позиции, данной в первом столбце, подберите соответствующую позицию из второго столбца.

СТРАНА

РАСПРЕДЕЛЕНИЕ ЭКОНОМИЧЕСКИ АКТИВНОГО НАСЕЛЕНИЯ

- A) США
- Б) Турция
- В) Нигер



Запишите в таблицу выбранные цифры под соответствующими буквами.

Ответ:

А	Б	В

8) Какие из следующих высказываний верны? Запишите цифры, под которыми они указаны.

- 1) Введение ограничений на развитие атомной энергетики считается важным путём предотвращения глобальных климатических изменений.
- 2) Использование тяжёлой сельскохозяйственной техники приводит к нарушению структуры почв и снижению их плодородия.
- 3) Использование систем оборотного водоснабжения — основная причина загрязнения вод рек и озёр.
- 4) Использование резиновой крошки, полученной при переработке старых автомобильных шин, для создания дорожных покрытий является примером нерационального природопользования.
- 5) Использование отходов лесной промышленности для производства топливных пеллет является примером рационального природопользования.

Ответ: _____.

9) Выберите в приведённом списке три страны, в структуре электроэнергии которых преобладают ТЭС. Запишите в таблицу цифры, под которыми указаны эти города.

- 1) Франция
- 2) Великобритания
- 3) Норвегия
- 4) ЮАР
- 5) Канада
- 6) Россия

Ответ:

--	--	--

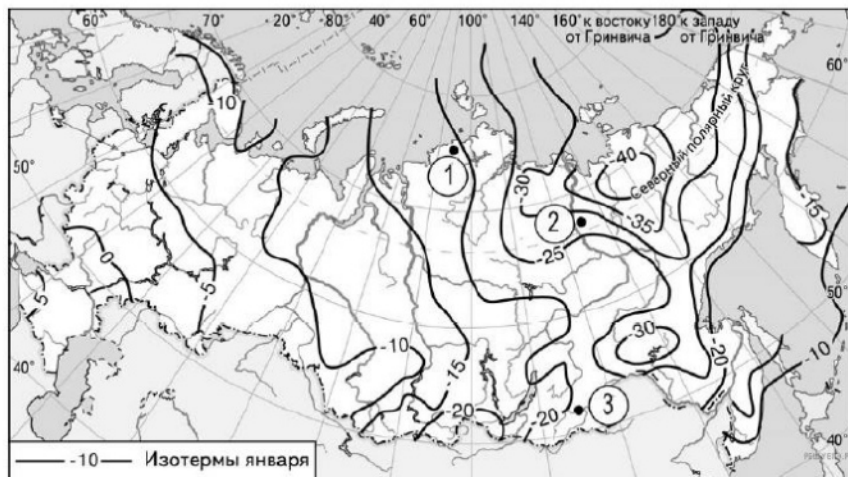
10 На основе анализа данных приведённой ниже таблицы укажите регионы, в которых в период с 2016 по 2018 гг. ежегодно происходило увеличение объёмов промышленного производства. Запишите цифры, под которыми указаны эти регионы.

Динамика объёмов промышленного производства
(в % к предыдущему году)

	2016 г.	2017 г.	2018 г.
1 Республика Крым	125,0	104,5	109,5
2 Владимирская область	96,8	100,6	101,9
3 Забайкальский край	103,8	100,2	103,1
4 Тульская область	114,3	106,2	105,0

Ответ: _____.

11 С помощью карты сравните средние температуры воздуха января в точках, обозначенных на карте цифрами 1, 2, 3. Расположите эти точки в порядке повышения температуры воздуха.



Запишите получившуюся последовательность цифр без пробелов.

Ответ:

12 В каких из высказываний содержится информация об урбанизации? Запишите **все цифры**, под которыми они указаны.

- 1) По состоянию на 2017 г. общая численность населения стран Южной Америки составляла 423 млн человек – на 4 млн больше, чем в начале 2016г.
- 2) Доля горожан в общей численности населения Китая продолжает увеличиваться, в 2017 г. в этой стране в городах проживало более 57 % населения.
- 3) Численность населения Волгоградской области в 2016 г. сократилась более чем на 5 тыс. человек.
- 4) Общая численность городского населения России в 2016 г. увеличилась почти на 200 тыс. человек.
- 5) Рост численности населения США в значительной степени обеспечивается за счёт иммигрантов из самых разных стран мира.

Ответ: _____.

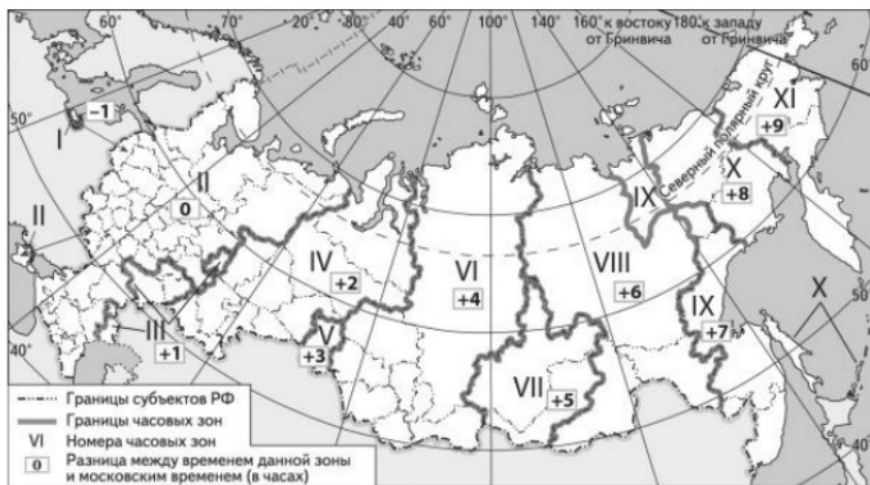
13 Расположите события в геологической истории Земли в хронологическом порядке, начиная с самого раннего.

- 1) Во второй половине раннего мела, появляются покрытосеменные (цветковые) растения, произошедшие скорее всего от беннеттитовых.
- 2) За время девонского периода образовалось множество первых нефтяных, угольных и природно-газовых бассейнов, востребованных ныне.
- 3) В юрском периоде начинается образование таких современных материков как Африка, Америка, Антарктида и Австралия, однако, их географическое расположение отличается от современного.

Запишите в таблицу получившуюся последовательность цифр.

Ответ:

- 14 С помощью карты «Часовые зоны России» определите, сколько времени будет в Магадане (IX часовая зона), когда в Воронеже (II часовая зона) 10 часов.



Ответ запишите в виде числа.

Ответ: _____ ч.

- 15 Медь обладает превосходной тепло- и электропроводностью, что делает данный металл незаменимым для использования в строительстве и электротехнике. В строительстве медь используется в форме кабелей, в нагревательных приборах и вентиляции и других изделиях. Она также широко используется в печатных платах телефонов, компьютеров и других устройств.

Учащиеся нашли в интернете информацию о том, что при ежегодном потреблении медной руды в размере 16 500 тыс. т. ресурсообеспеченность рудой составит 41 год.

Определите, какова величина разведанных запасов медных руд. Ответ дайте в тоннах.

Ответ: _____ т.

- 16 На численность населения субъектов Российской Федерации заметное влияние оказывают как естественное движение населения, так и миграции. Проанализировав данные таблицы, определите величину миграционного прироста (убыли) населения Свердловской области в 2017 г.

Показатель	2016 г.	2017 г.	2018 г.
Численность постоянного населения на 1 января, человек	4 330 006	4 329 341	4 325 256
Среднегодовая численность населения, человек	4 329 674	4 327 299	Нет данных
Естественный прирост населения, человек, значение	-991	-4299	Нет данных

Ответ: _____ чел.

- 17 Определите страну по её краткому описанию. Территория этой страны расположена в Северном полушарии и имеет выход к одному из морей Атлантического океана. На её территории расположена крайняя северная точка материка, на котором находится эта страна. Природа страны крайне разнообразна — здесь можно увидеть пустынные пейзажи, оливковые и апельсиновые рощи, вечнозелёные леса. По форме правления является республикой. В экономике важную роль играют сельское хозяйство и лёгкая промышленность. Большое значение имеет и туристическая отрасль.

Ответ: _____.

- 18 Определите регион России по его краткому описанию. Эта республика расположена в европейской части России и не имеет границы с зарубежными странами. Часть ее территории расположена за полярным кругом. Главными природными богатствами являются запасы леса, нефти, природного газа и каменного угля. Плотность населения ниже средней по России.

Ответ: _____.

Задания 19 и 20 выполняются с использованием приведённой ниже карты и справочных материалов.

Южная Америка. Доля городского населения



19 Расположите перечисленные страны в порядке возрастания в них доли городского населения в общей численности населения, начиная со страны с наименьшим значением этого показателя.

- 1) Аргентина
- 2) Бразилия
- 3) Никарагуа

Запишите в таблицу получившуюся последовательность цифр.

Ответ:

--	--	--

20 Сергею необходимо построить картограмму «Африка. Доля городского населения», используя такую же интервальную шкалу, как на приведённой выше карте Южной Америки.

Установите соответствие между страной и условным обозначением, которое необходимо использовать для отображения доли городского населения каждой из перечисленных стран на карте: к каждой позиции, данной в первом столбце, подберите соответствующую позицию из второго столбца.

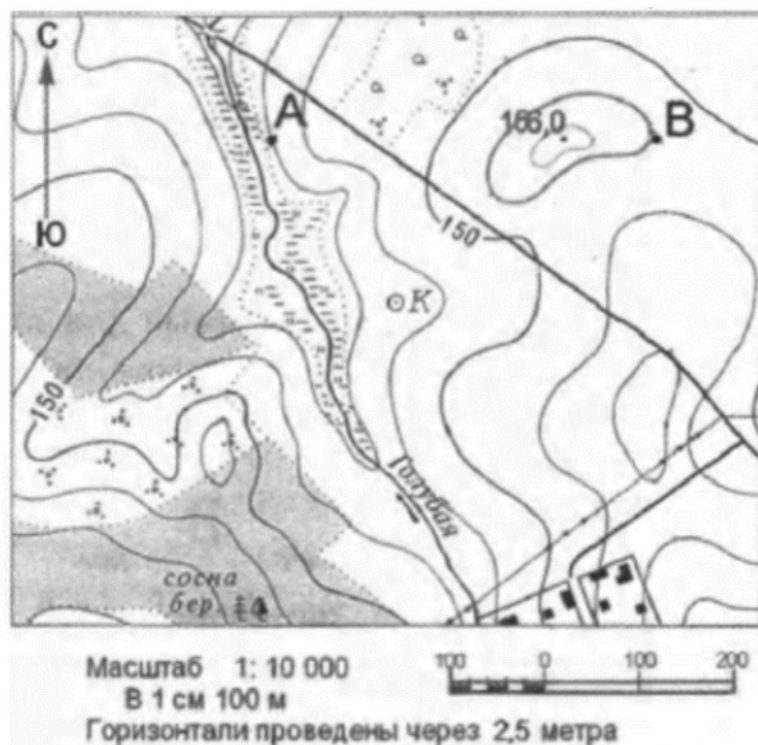
СТРАНА	УСЛОВНОЕ ОБОЗНАЧЕНИЕ			
А) Габон	1) <table border="1" style="display: inline-table; vertical-align: middle;"><tr><td style="width: 10px; height: 10px;"></td><td style="width: 10px; height: 10px;"></td><td style="width: 10px; height: 10px;"></td></tr></table> 0–20			
Б) Египет	2) <table border="1" style="display: inline-table; vertical-align: middle;"><tr><td style="width: 10px; height: 10px;"></td><td style="width: 10px; height: 10px;"></td><td style="width: 10px; height: 10px;"></td></tr></table> 21–40			
В) Чад	3) <table border="1" style="display: inline-table; vertical-align: middle;"><tr><td style="width: 10px; height: 10px;"></td><td style="width: 10px; height: 10px;"></td><td style="width: 10px; height: 10px;"></td></tr></table> 41–60			
	4) <table border="1" style="display: inline-table; vertical-align: middle;"><tr><td style="width: 10px; height: 10px;"></td><td style="width: 10px; height: 10px;"></td><td style="width: 10px; height: 10px;"></td></tr></table> 61–80			
	5) <table border="1" style="display: inline-table; vertical-align: middle;"><tr><td style="width: 10px; height: 10px;"></td><td style="width: 10px; height: 10px;"></td><td style="width: 10px; height: 10px;"></td></tr></table> 81–100			

Запишите в таблицу получившуюся последовательность цифр.

Ответ:

А	Б	В

Задания 21 и 22 выполняются с использованием приведённого ниже фрагмента топографической карты.



21 Определите азимут от колодца на отметку с высотой 156 м. Ответ запишите в виде числа.

Ответ: _____ град.

22 В бланке ответов № 2 укажите номер задания и постройте профиль рельефа местности по линии А-В. Для этого перенесите основу для построения профиля на бланк ответов, используя горизонтальный масштаб — в 1 см 50 м и вертикальный масштаб — в 1 см 5 м. Укажите на профиле положение дороги.

Задания 23–25 выполняются с использованием приведённого ниже текста. Ответ на задание 23 запишите в поле ответа в тексте работы, а затем перенесите в БЛАНК ОТВЕТОВ № 1. Для записи ответов на задания 24 и 25 используйте БЛАНК ОТВЕТОВ № 2. Запишите сначала номер задания (24 или 25), а затем развёрнутый ответ на него. Ответы записывайте чётко и разборчиво.

ЧЕРНАЯ МЕТАЛЛУРГИЯ ШВЕЦИИ

Металлургия в Швеции исторически играла важную роль в экономике страны, и в настоящее время железные руды и высококачественная сталь являются важными статьями экспорта страны. Сырьевой базой отрасли является одно из крупнейших в зарубежной Европе месторождение железных руд Кирунавара, расположенное в северной части страны.

На базе этого месторождения на севере Швеции ещё в 16–17 вв. сформировался горнопромышленный район Берслаген, на долю которого и в настоящее время приходится 2/3 выплавляемой в стране стали. Ныне там налажено производство стали в электродуговых печах. С использованием этой технологии в стране в настоящее время производится более половины выплавляемой в стране стали. В 20 в. крупные металлургические комбинаты были созданы в портовых городах Лулео и Окселесунд.

В настоящее время в Лулео идет строительство завода, на котором сталь будет производиться методом прямого восстановления железа. Этот метод не является новым, такая технология используется, например, на Оскольском металлургическом комбинате в России, но обычно в качестве топлива используется природный газ, который на заводе в Лулео заменят водородом. Водород будут получать методом электролиза из воды, при этом для генерации электроэнергии будут использоваться только возобновляемые источники энергии.

23 Назовите полуостров, на котором находится горнопромышленный район Берслаген.

Ответ: _____.

24 Объясните, почему создание нового производства в г. Лулео, о котором говорится в тексте, является примером рационального природопользования.

25 Объясните, какая особенность электроэнергетики Швеции способствует развитию электрометаллургии в этой стране.

ТРЕНИРОВОЧНЫЙ КИМ № 21 1220

Для записи ответов на задания 26–31 используйте **БЛАНК ОТВЕТОВ № 2**. Запишите сначала номер задания (26, 27 и т.д.), а затем развёрнутый ответ на него. Ответы записывайте чётко и разборчиво.

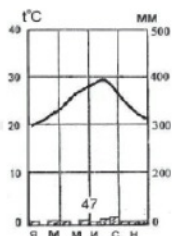
26 На основе анализа данных таблицы справочных материалов предположите, какая из стран: Колумбия или Нигер – находилась в 2017 г. выше в рейтинге ООН по индексу человеческого развития (ИЧР). Для обоснования Вашего ответа запишите необходимые числовые данные из таблицы и вычисления, на основании которых Вы сделали своё предположение.

27 Используя данные справочных материалов, сравните доли населения, занятого в сельском хозяйстве, и доли сельского хозяйства в общих объёмах экспорта Марокко и Туниса. Сделайте вывод о том, в какой из этих стран сельское хозяйство играет большую роль в экономике. Для обоснования Вашего ответа запишите необходимые числовые данные и вычисления.

28 Используя данные таблицы, объясните, почему за последние 25 лет доля лиц старше 65 лет в возрастной структуре населения страны А значительно увеличилась. Укажите две причины. Если Вы укажете более двух причин, оцениваться будут только две указанные первыми.

Показатели	1985 г.	2010 г.
Численность населения, млн человек	16,7	24,6
Доля лиц старше 65 лет, %	3	7
Рождаемость, ‰	30	17
Смертность, ‰	6	Б
Сальдо миграций, ‰	-2	-1
Средняя продолжительность жизни, лет	68	75
Доля городского населения, %	65	68

29 Определите, в каком из 13 климатических поясов Земли расположен пункт, климат которого показан на климатограмме. Для обоснования Вашего ответа приведите два довода. Если Вы приведёте более двух доводов, оцениваться будут только два, указанных первыми.



30 Географические координаты точек А, Б и В показаны в таблице. Определите, в какой из этих точек 15 июля Солнце раньше (по времени Гринвичского меридиана) поднимется над горизонтом. Запишите обоснование вашего ответа.

Точка	Широта	Долгота
А	40° с. ш.	100° з. д.
Б	50° с. ш.	110° з. д.
В	40° с. ш.	110° з. д.

31 Изучая факторы воздействия хозяйственной деятельности человека на грунтовые воды, учащиеся нашли информацию о том, что одним из факторов загрязнения является сельское хозяйство. Одни учащиеся считают, что основным источником загрязнения грунтовых вод в большей степени является растениеводство, другие — что животноводство, в частности крупные животноводческие комплексы. Приведите по одному аргументу в защиту каждой точки зрения.

Проверьте, чтобы каждый ответ на бланках ответов №1 и №2 был записан рядом с правильным номером задания.

Система оценивания экзаменационной работы по географии

Часть 1

Правильные ответы на задания 1–4, 6, 7, 9–11, 13–21, 23 оцениваются 1 баллом. Задание считается выполненным верно, если ответ записан в той форме, которая указана в инструкции по выполнению задания.

Правильное выполнение заданий 5, 8 и 12 оценивается 2 баллами. Ответы на эти задания оцениваются следующим образом: полное правильное выполнение задания – 2 балла; выполнение задания с одной ошибкой (одной неверно указанной, в том числе лишней, цифрой наряду со всеми верными цифрами) ИЛИ неполное выполнение задания (отсутствие одной необходимой цифры) – 1 балл; неверное выполнение задания (при указании двух или более ошибочных цифр) – 0 баллов.

Номер задания	Правильный ответ
1	Испания
2	213
3	132
4	241
5	314
6	124
7	213
8	25
9	246
10	134
11	231
12	24
13	231
14	18
15	676500000
16	214
17	Тунис
18	Коми
19	321
20	521
21	41; 42; 43; 44; 45
23	Скандинавский

Критерии оценивания заданий с развёрнутым ответом

22 В бланке ответов № 2 укажите номер задания и постройте профиль рельефа местности по линии А-В. Для этого перенесите основу для построения профиля на бланк ответов, используя горизонтальный масштаб — в 1 см 50 м и вертикальный масштаб — в 1 см 5 м. Укажите на профиле положение дороги.

Содержание верного ответа и указания по оцениванию (допускаются иные формулировки ответа, не искажающие его смысла)	Баллы
<p>1) На рисунке в ответе длина горизонтальной линии основы профиля равна 80 ± 2 мм и расстояние от левой вертикальной линии основы профиля до дороги — 20 ± 2 мм.</p> <p>2) Форма профиля в основном совпадает с эталоном.</p> <p>3) Склон на участке 1 круче, чем на участке 2.</p>	

K1	Умение пользоваться масштабом	
	Ответ включает в себя 1-й и 2-й элементы	2
	Ответ включает в себя только 1-й элемент	1
	Все ответы, которые не соответствуют вышеуказанным критериям выставления оценок в 1 и 2 балла	0
K2	Умение строить профиль рельефа	
	Ответ включает в себя 3-й элемент	1
	Все ответы, которые не соответствуют вышеуказанному критерию выставления оценки в 1 балл	0
<i>Максимальный балл: 3</i>		

* Примечание. Форма профиля считается совпадающей с эталоном, если она соответствует всем следующим четырём условиям: 1) участки со спусками (подъёмами) соответствуют участкам со спусками (подъёмами) на эталоне; 2) профиль не выходит за пределы высот, существующих в пределах участка территории, на которой проходит профиль; 3) на профиле присутствуют все точки с высотами, которые должны быть на нём согласно данным карты; 4) расстояния от левой вертикальной оси профиля до точек с высотами, обозначенными на основе профиля, отличаются от соответствующих расстояний на эталоне не более чем на 4 мм.

24 Объясните, почему создание нового производства в г. Лулео, о котором говорится в тексте, является примером рационального природопользования.

Содержание верного ответа и указания по оцениванию (допускаются иные формулировки ответа, не искажающие его смысла)	Баллы
Использование водорода в качестве топлива позволит сократить выбросы парниковых газов в атмосферу ИЛИ уменьшить загрязнение атмосферы вредными выбросами ИЛИ сберечь исчерпаемые топливные ресурсы.	
Ответ включает в себя названный выше элемент	1
Все ответы, которые не соответствуют вышеуказанному критерию выставления оценки в 1 балл	0
<i>Максимальный балл: 1</i>	

25 Объясните, какая особенность электроэнергетики Швеции способствует развитию электрометаллургии в этой стране.

Содержание верного ответа и указания по оцениванию (допускаются иные формулировки ответа, не искажающие его смысла)	Баллы
В Швеции более половины электроэнергии производится на ГЭС и АЭС, производящих относительно недорогую электроэнергию ИЛИ в Швеции большая часть электроэнергии производится на ГЭС.	
Ответ включает в себя названный выше элемент	1
Все ответы, которые не соответствуют вышеуказанному критерию выставления оценки в 1 балл	0
<i>Максимальный балл: 1</i>	

26 На основе анализа данных таблицы справочных материалов предположите, какая из стран: Колумбия или Нигер – находилась в 2017 г. выше в рейтинге ООН по индексу человеческого развития (ИЧР). Для обоснования Вашего ответа запишите необходимые числовые данные из таблицы и вычисления, на основании которых Вы сделали своё предположение.

Содержание верного ответа и указания по оцениванию (допускаются иные формулировки ответа, не искажающие его смысла)	Баллы
1) В ответе делается предположение, что выше в рейтинге ООН по ИЧР находился Колумбия. В обосновании говорится, что: 2) в Колумбии более высокая средняя ожидаемая продолжительность жизни ИЛИ приводятся значения показателя средней ожидаемой продолжительности жизни: 76 лет в Колумбии и 60 лет в Нигере; 3) в Колумбии выше ВВП на душу населения, и приводятся значения показателя ВВП: 14289 долл. в Колумбии и 986 долл. в Нигере. ИЛИ в Колумбии выше ВВП на душу населения, и приводятся вычисления: 711600: 49,8 в Колумбии и 21900: 22,2 в Нигере.	
Ответ включает в себя три названных выше элемента	2
Ответ включает в себя два (1-й и 2-й) из названных выше элементов. ИЛИ Ответ включает в себя два (1-й и 3-й) из названных выше элементов	1
Все ответы, которые не соответствуют вышеуказанным критериям выставления оценок в 1 и 2 балла	0
<i>Максимальный балл: 2</i>	

- 27 Используя данные справочных материалов, сравните доли населения, занятого в сельском хозяйстве, и доли сельского хозяйства в общих объёмах экспорта Марокко и Туниса. Сделайте вывод о том, в какой из этих стран сельское хозяйство играет большую роль в экономике. Для обоснования Вашего ответа запишите необходимые числовые данные и вычисления.

Содержание верного ответа и указания по оцениванию (допускаются иные формулировки ответа, не искажающие его смысла)	Баллы
1) Доля населения, занятого в сельском хозяйстве, в Марокко выше, чем в Тунисе, ИЛИ приводятся значения: 37% в Марокко и 14% в Тунисе. 2) Доля сельского хозяйства в общем объёме экспорта Марокко выше, чем в общем объёме экспорта Туниса. 3) Для определения доли сельского хозяйства в общем объёме экспорта Марокко приводятся вычисления: $5,5:25,3$; для определения доли сельского хозяйства в общем объёме экспорта Туниса приводятся вычисления: $1,6:14,2$ ИЛИ приводятся значения: 21,7% в Марокко и 11,2% в Тунисе. 4) Сельское хозяйство играет большую роль в экономике Марокко.	
Ответ включает в себя четыре названных выше элемента	2
Ответ включает в себя три любых из названных выше элементов.	1
Все ответы, которые не соответствуют вышеуказанным критериям выставления оценок в 1 и 2 балла	0
<i>Максимальный балл: 2</i>	

- 28 Используя данные таблицы, объясните, почему за последние 25 лет доля лиц старше 65 лет в возрастной структуре населения страны А значительно увеличилась. Укажите две причины. Если Вы укажете более двух причин, оцениваться будут только две указанные первыми.

Показатели	1985 г.	2010 г.
Численность населения, млн человек	16,7	24,6
Доля лиц старше 65 лет, %	3	7
Рождаемость, ‰	30	17
Смертность, ‰	6	6
Сальдо миграций, ‰	-2	-1
Средняя продолжительность жизни, лет	68	75
Доля городского населения, %	65	68

Содержание верного ответа и указания по оцениванию (допускаются иные формулировки ответа, не искажающие его смысла)	Баллы
1) За период с 1985 по 2010 годы почти в два раза снизилась рождаемость, что привело к повышению доли людей старше 65 лет возрастной структуре населения. 2) Существенно выросла средняя продолжительность жизни.	
Ответ включает в себя оба названных выше элемента	2
Ответ включает в себя один (любой) из названных выше элементов. ИЛИ Ответ включает в себя оба названных элемента, но в нём присутствует географическая ошибка	1
Все ответы, которые не соответствуют вышеуказанным критериям выставления оценок в 1 и 2 балла	0
<i>Максимальный балл: 2</i>	

- 29 Определите, в каком из 13 климатических поясов Земли расположен пункт, климат которого показан на климатограмме. Для обоснования Вашего ответа приведите два довода. Если Вы приведёте более двух доводов, оцениваться будут только два, указанных первыми.

Содержание верного ответа и указания по оцениванию (допускаются иные формулировки ответа, не искажающие его смысла)	Баллы
Пункт, климат которого показан на климатограмме, расположен в тропическом климатическом поясе Северного полушария. 1) О том, что он расположен в Северном полушарии, свидетельствует то, что в июле-августе средние месячные температуры значительно выше, чем в декабре-январе.	

2) О том, что он расположен в тропическом поясе, свидетельствует минимальное количество осадков в течение всего года и высокие температуры.	
Ответ включает в себя все названные выше элементы	2
Ответ включает в себя один из названных выше элементов.	1
Все ответы, которые не соответствуют вышеуказанным критериям выставления оценок в 1 и 2 балла	0
<i>Максимальный балл: 2</i>	

30

Географические координаты точек А, Б и В показаны в таблице.

Определите, в какой из этих точек 15 июля Солнце раньше (по времени Гринвичского меридиана) поднимется над горизонтом. Запишите обоснование вашего ответа. Было передано сообщение? Запишите решение задачи. Ответ округлите до целого числа.

Точка	Широта	Долгота
А	40° с. ш.	100° з. д.
Б	50° с. ш.	110° з. д.
В	40° с. ш.	110° з. д.

Содержание верного ответа и указания по оцениванию (допускаются иные формулировки ответа, не искажающие его смысла)	Баллы
Солнце раньше поднимется над горизонтом в точке Б. Обоснованием этого могут служить два факта. 1) Солнце раньше встает на востоке. Точки Б и В расположены восточнее точки А, но точка Б расположена севернее точки В. 2) Так как летом продолжительность дня в Северном полушарии увеличивается при движении от экватора, то раньше всего Солнце поднимется в точке Б.	
Ответ включает в себя все названные выше элементы	2
Ответ включает в себя один из названных выше элементов.	1
Все случаи решения, которые не соответствуют вышеуказанным критериям выставления оценок в 1 и 2 балла	0
<i>Максимальный балл: 2</i>	

31

Изучая факторы воздействия хозяйственной деятельности человека на грунтовые воды, учащиеся нашли информацию о том, что одним из факторов загрязнения является сельское хозяйство. Одни учащиеся считают, что основным источником загрязнения грунтовых вод в большей степени является растениеводство, другие — что животноводство, в частности крупные животноводческие комплексы.

Приведите по одному аргументу в защиту каждой точки зрения.

Содержание верного ответа и указания по оцениванию (допускаются иные формулировки ответа, не искажающие его смысла)	Баллы
К1 Наличие сформулированной точки зрения по вопросу (Положительный балл по этому критерию выставляется только при положительном балле по второму критерию.)	
В ответе сформулирована точка зрения учащегося	1
В ответе не сформулирована точка зрения учащегося	0
К2 Раскрытие причинно-следственных связей	
Рассмотрим аргументы для двух точек зрения: 1) аргумент, подтверждающий точку зрения, согласно которой причиной загрязнения грунтовых вод является растениеводство: говорится, что при внесении удобрений в почву часть попадает в грунтовые воды ИЛИ при использовании пестицидов в грунтовые воды попадают вредные вещества; 2) аргумент, подтверждающий точку зрения, согласно которой причиной загрязнения грунтовых вод является животноводство: говорится, что с территории животноводческих комплексов в грунтовые воды просачиваются продукты жизнедеятельности животных ИЛИ в грунтовые воды попадают продукты разложения из скотомогильников	1
В ответе причинно-следственные связи не раскрываются или в цепочке рассуждений указано неправильно более одного звена	0
К3 Географическая грамотность <i>1 балл по критерию К3 может быть выставлен только в случае, если по критерию К1 выставлен 1 балл</i>	
Отсутствуют фактические и теоретические ошибки (ошибки в использовании географической терминологии, в демонстрации знаний о географических связях и закономерностях).	1

ИЛИ Присутствует не более одной фактической или теоретической ошибки	
Все ответы, которые не соответствуют вышеуказанному критерию выставления оценки в 1 балл	0
<i>Максимальный балл: 3</i>	

В соответствии с Порядком проведения государственной итоговой аттестации по образовательным программам среднего общего образования (приказ Минпросвещения России и Рособнадзора от 07.11.2018 № 190/1512, зарегистрирован Минюстом России 10.12.2018 № 52952)

«82. <...> По результатам первой и второй проверок эксперты независимо друг от друга выставляют баллы за каждый ответ на задания экзаменационной работы ЕГЭ с развёрнутым ответом. <...>

В случае существенного расхождения в баллах, выставленных двумя экспертами, назначается третья проверка. Существенное расхождение в баллах определено в критериях оценивания по соответствующему учебному предмету.

Эксперту, осуществляющему третью проверку, предоставляется информация о баллах, выставленных экспертами, ранее проверявшими экзаменационную работу».

1. Существенным считается расхождение в 2 балла, выставленных экспертами за выполнение любого из заданий 22, 26–31. Третий эксперт проверяет только те ответы на задания, которые вызвали столь существенное расхождение в оценивании.

2. Расхождение в результатах оценивания двумя экспертами ответа на одно из заданий 22, 24–31 заключается в том, что один эксперт указал на отсутствие ответа на задание, а другой выставил за выполнение этого задания ненулевой балл. В этом случае третий эксперт проверяет только ответы на задания, которые были оценены со столь существенным расхождением.