

**Муниципальный этап всероссийской олимпиады школьников по
географии
2021-2022 учебный год
10-11 класс**

**Тестовый тур
Максимальный балл – 30**

1. Какой из перечисленных масштабов мельче?

1. 1:500
2. 1:5 000
3. 1:2 500
4. 1:10 000

2. На карте Восточного полушария густота градусной сетки составляет 10°. Какое количество параллелей будет на карте?

1. 16
2. 17
3. 18
4. 19

3. Выберите государство, которое является самым однопациональным государством в мире:

1. США
2. Япония
3. Россия
4. Франция

4. Единственным в России полигоном для изучения степных, полупустынных и пустынных ландшафтов, а также охраны и изучения популяции сайгака, является заповедник ...

1. «Столбы»
2. Астраханский
3. «Черные земли»
4. Уссийский

5. В какой последовательности представлена группа месторождений каменного угля?

1. Хибины, Саянск, Бодайбо
2. Курская магнитная аномалия, Соликамск, Приангарье
3. Кузнецкий бассейн, восточное крыло Донбасса, Уренгой
4. Кузнецкий, Южно-Якутский, Печорский бассейны

6. В приведенном списке выберите группу рудных полезных ископаемых:

1. апатиты, калийные соли
2. железная руда, нефть
3. бокситы, полиметаллы
4. железная руда, уголь

7. Определите российский город, географическое положение которого совпадает с названием улицы «45-я параллель» в нем?

1. Сочи

2. Ставрополь
3. Симферополь
4. Краснодар

8. Какую из перечисленных стран ещё называют Суоми?

1. Китай
2. Япония
3. Норвегия
4. Финляндия

9. От Москвы до Владивостока скорый поезд проходит 9300 км при средней путевой скорости 63 км/ч. На этом маршруте он делает 145 остановок. Сколько дней составит маршрут следования поезда?

1. 4 дня
2. 5 дней
3. 7 дней
4. 8 дней

10. Укажите вариант, в котором перечислены только страны, где испанский язык является официальным:

1. Аргентина, Куба, Панама
2. Ангола, Мексика, Мозамбик
3. Гондурас, Бразилия, Перу
4. Маврикий, Суринам, Барбадос

11. Какая форма правления характеризует все перечисленные страны: Андорра, Монако, Лихтенштейн?

1. королевство
2. княжество
3. герцогство
4. империя

12. В состав какого государства мира входит самое большое количество островов?

1. Япония
2. Канада
3. Индонезия
4. Мальдивы

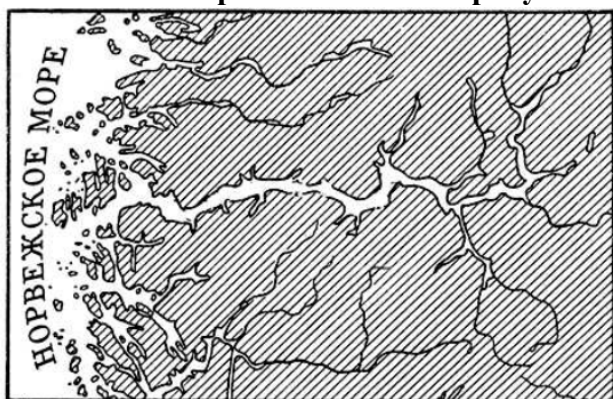
13. В приведенном списке выберите НЕверно указанную пару «страна – столица»:

1. Бразилия – Бразилиа
2. Афганистан – Кабул
3. Иран – Тегеран
4. Австралия – Сидней

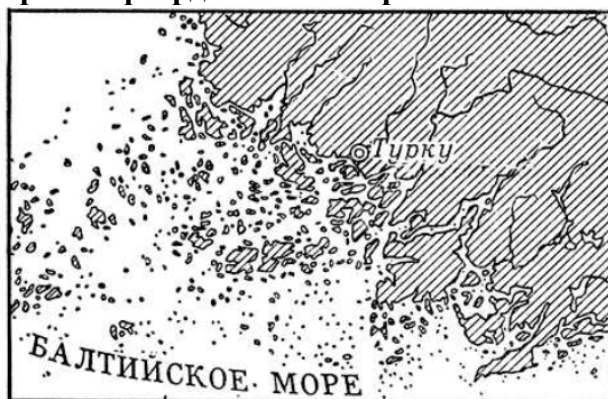
14. Выберите море, которое можно описать так: «Это море самое тёплое и солёное море в мире. Оно расположено на границе двух частей света, между жаркими пустынями. В этом море расположен оживлённый морской путь»:

1. Мраморное
2. Красное
3. Мёртвое
4. Ионическое

15. Выберите на каком из рисунков изображён фьордовый тип берега?



А



Б



В



Г

1. А
2. Б
3. В
4. Г

16. Используя данные таблицы, определите долю городского населения (в %) в Челябинской области. Ответ запишите в виде целого числа и приведите расчеты действий:

Регион	Площадь, тыс. км ²	Численность населения, тыс. чел.		
		Всего	Городское	Сельское
Челябинская область	88	3498	2887	611

Ответ:

Доля городского населения: _____ %

Расчеты: _____

17. Подберите верное соответствие: народный промысел – географическая местность, в которой он возник:

Промысел

- А) лаковая миниатюра
- Б) берестяные изделия
- В) чугунное литьё

Географическая местность

- 1) Палех
- 2) Хохлома
- 3) Великий Устюг
- 4) Касли

Ответ:

А – _____, Б – _____, В – _____.

18. Какое государство расположено ближе всех к Северному полюсу? Как называется это место (мыс), на каком участке суши оно расположено?

Ответ:

Ближайшее к полюсу государство – _____

Название места – _____

Располагается: _____

19. Найдите соответствие между отметками максимальных глубин дна океанов, в которых они расположены:

Максимальные глубины

А) 8 742

Б) 11 022

В) 7 729

Океан

1. Тихий

2. Атлантический

3. Индийский

4. Северный Ледовитый

Ответ:

А – _____, Б – _____, В – _____.

20. Это государство имеет две столицы: официальную и королевскую, в 2018 году оно изменило свое название. Основную часть населения составляют свази, говорящие на языке свати. Назовите современное и прежнее название этого государства и его столицы.

Ответ:

Современное название государства – _____

Прежнее название государства – _____

Официальная столица – _____

Королевская и парламентская столица – _____

**Муниципальный этап всероссийской олимпиады школьников по
географии
2021-2022 учебный год
10-11 класс**








**Теоретический тур
Максимальный балл – 70**








Задание 1. (14 баллов)

Определите города по их внешнему облику, укажите каким странам они принадлежат. Ответы на вопросы запишите в таблице.

Города: Амстердам, Барселона, Венеция, Гонконг, Дубай, Майами, Москва, Лондон, Париж, Прага, Рио-де-Жанейро, Санкт-Петербург, Стамбул, Токио

Ответ:

<i>№ n/n</i>	<i>Облик города</i>	<i>Город/ Страна</i>
1		
2		
3		
4		
5		
6		
7		

8		
9		
10		
11		
12		
13		
14		

Задание 2. (14 баллов)

Воздушным гаваням в мире часто присваивают имена знаменитых людей (например, в Варшаве – аэропорт имени Ф. Шопена, в Генуе – аэропорт имени Х. Колумба, в Белграде – аэропорт им. Н. Тесла). Так в России был реализован проект «Великие имена России», по итогам которого многие воздушные гавани получили имена связанных с этими районами выдающихся соотечественников. По приведённым в таблице именам исторических личностей определите, аэропортам каких городов России они были присвоены?

Города: Владивосток, Казань, Краснодар, Красноярск, Минеральные Воды, Москва (Шереметьево), Москва (Домодедово), Нижний Новгород, Псков, Самара, Ставрополь, Хабаровск, Челябинск, Южно-Сахалинск

№	Историческая личность	Город аэропорта
1	Академик И.В. Курчатов	
2	Полководец А.В. Суворов	
3	Поэт А.С. Пушкин	
4	Императрица Екатерина II Великая	
5	Поэт М.Ю. Лермонтов	
6	Летчик-испытатель В.П. Чкалов	
7	Ученый, конструктор В.П. Королёв	
8	Княгиня Ольга	
9	Путешественник Геннадий Невельской	
10	Писатель А.П. Чехов	
11	Оперный певец Дмитрий Хворостовский	
12	Поэт Габдулла Тукай	
13	Ученый М.В. Ломоносов	
14	Русский путешественник, географ, писатель Владимир Арсеньев	

Задание 3. (14 баллов)

Народная географическая терминология всегда привлекала внимание ученых. Выдающийся отечественный географ, академик Л.С. Берг писал: «Будучи результатом многовековых наблюдений постоянного местного населения и продуктом творчества такого гениального коллектива, каким является народ, народные термины заслуживают самого внимательного отношения, как филологов, так и в особенности географов...». Сегодня такие слова как *булгуннях*, *голец*, *верховик*, *сель*, *тебелер*, *такыр* и другие можно встретить не только в региональной литературе, но и в общих курсах физической географии, геоморфологии, климатологии и других наук. Еще больше народных географических терминов остаются малоизвестными и не вошедшими в научную литературу.

В таблице представлены народные географические термины, подберите к ним соответствующие определения:

Народный термин	Значение
А) артель Б) курумы В) сырт Г) глядень Д) дерунья Е) калач Ж) ильмень З) лобовик И) сквозняк К) чертеж Л) алас М) сопка Н) тугай О) шар	1) встречный ветер (Ярославская область) 2) естественное, удобное для наблюдений, возвышенное место на берегу моря (Европейский Север) 3) круглый рукав реки вокруг острова, крутая извилина у полуострова (Нижняя Волга, Дон) 4) лежище морского зверя на побережье моря, небольшие поселения охотников и зверопромышленников в Русской Америке (Русская Америка) 5) вытянутая плоская широкая увалистая возвышенность; пологий водораздел (Заволжье, Южное Предуралье) 6) метель, вьюга, буран (Костромская область) 7) каменные россыпи, обломки скал, валуны (Азия) 8) пещера в Среднем Поволжье 9) озеро (европейская часть России) 10) поле или сенокосный участок на месте сведенного леса (Пермский край) 11) пролив (у поморов) 12) впадина, неглубокая ложбина, которая образуется при просадке грунта (Сибирь) 13) заливаемые во время паводков и половодий участки долин рек (Центральная Азия) 14) вулкан (Камчатка)

Ответ:

А	Б	В	Г	Д	Е	Ж
З	И	К	Л	М	Н	О

Задание 4. (14 баллов)

Основываясь на приведенном описании, определите ее страну и ее ключевые географические характеристики, зашифрованные буквами (А-О):

(А) – это наиболее экономически развитая конституционная монархия современного мира, расположенная на одноименном архипелаге. На севере страны находится остров (Б). Здесь проживают представители самого северного вида обезьян (В). Они переносят температуры ниже -15°C и практически всё зимнее время проводят в естественных горячих вулканических источниках. (Г) – крупнейший город острова. В нем ежегодно проводятся: весной – «Фестиваль сирени», поздней осенью – «Фестиваль Белой иллюминации», а зимой – самый известный «(Д) фестиваль», привлекающий более 2 млн туристов со всего мира. Самая высокая гора (Е) считается священной и ежегодно становится местом паломничества около миллиона человек.

Эта страна, является одним из немногих районов, сильно страдающих от разрушительных стихийных бедствий. Некоторые из них произошли совсем недавно, например, (Ж) в 1995 году и (З) в 2011 г.; последнее вызвало величайшую техногенную катастрофу на объекте (И).

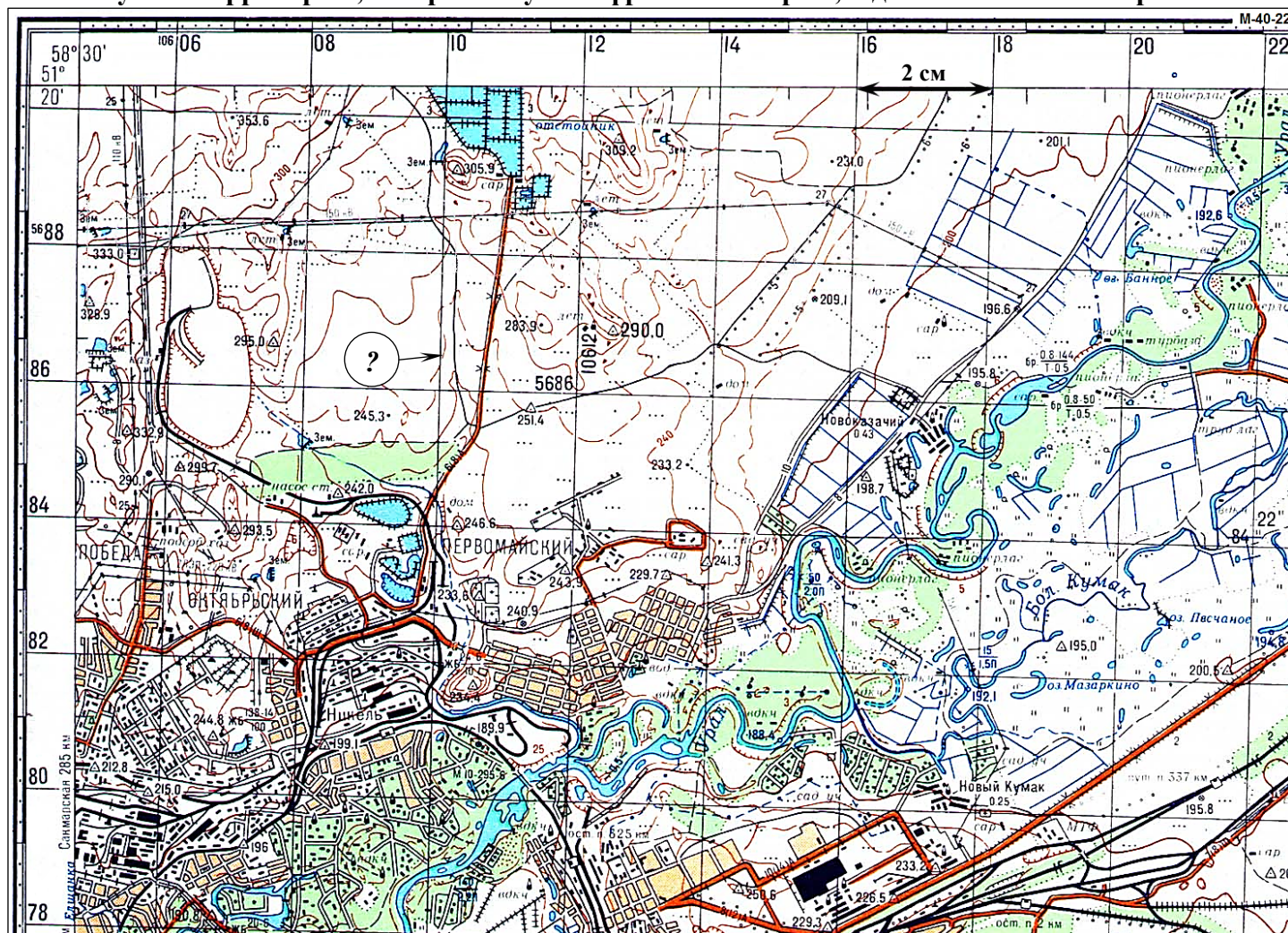
В этой стране очень мало иммигрантов, 98% населения составляют (К), являющиеся потомками древнего народа – (Л). Во главе государства стоит монарх, с единственным в мире типом правления (М). Уровень жизни в этой стране очень высокий, об этом можно судить по показателю (Н), по которому эта страна находится на 2 месте в мире.

(О) – Театральное искусство этой страны многогранно и многолико. Пожалуй, самым известным является театр, сформировавшийся в XVII веке. Все роли в этом театре играют только мужчины.

Ответ:

<i>Зашифрованная характеристика</i>	<i>Ответ</i>
А – страна	
Б – остров	
В – вид обезьян	
Г – город	
Д – фестиваль	
Е – священная гора	
Ж – стихийное бедствие-1	
З – стихийное бедствие-2	
И – объект	
К – народ	
Л – древний народ	
М – вид монархии	
Н – показатель качества жизни	
О – театр	

Изучите территорию, изображенную на фрагменте карты, и дайте ответы на вопросы:



1. Каков характер рельефа территории, отображенной на карте? _____
2. Определите минимальную и максимальную высоту территории (природного рельефа) на приведенном фрагменте топографической карты: _____
3. Определите максимальный перепад высот территории: _____
4. В каком направлении течет река Урал? По каким характеристикам это можно определить?

5. Какова высота сечения рельефа данной карты? _____
6. Какую высоту имеет указанная на фрагменте карты горизонталь? Для каких целей проводятся такие горизонтали? _____
7. Какие формы рельефа (естественные и антропогенные) представлены на данной территории?

8. Какие искусственные водные объекты представлены на данной территории? Для каких целей они используются? _____

9. Какое происхождение имеют озера данной территории? _____

10. Какую специализацию имеет хозяйство этой территории? _____

11. Какие неблагоприятные природные процессы осложняют ведение сельского хозяйства? По каким особенностям территории это можно определить? _____

12. В каком субъекте РФ располагается территория, изображенная на карте? _____

13. Окрестности какого города изображены на этом фрагменте? _____

14. Определите масштаб карты, ход решения запишите: _____