

Министерство образования и науки Республики Татарстан
РЕСПУБЛИКАНСКАЯ ОЛИМПИАДА ШКОЛЬНИКОВ
ПО ОСНОВАМ БЕЗОПАСНОСТИ ЖИЗНЕДЕЯТЕЛЬНОСТИ
(ШКОЛЬНЫЙ ЭТАП)

« _____ » _____ 2021 г.

Республика Татарстан

ТЕОРЕТИЧЕСКИЙ ТУР
5 - 6 класс

Впишите свой код/шифр		

Уважаемый участник Олимпиады!

При выполнении заданий теоретического тура Вам предстоит выполнить определенную работу, которую лучше организовать следующим образом:

– не спеша, внимательно прочитайте задание и входящие в него вопросы или ситуации;

– определите, наиболее верный и полный ответ;

– если вы отвечаете на теоретический вопрос, обдумайте и сформулируйте конкретный ответ только на поставленный вопрос;

– если вы отвечаете на предложенную ситуацию, обдумайте порядок и последовательность действий по предложенной ситуации и впишите ответы в схему в той последовательности, которую вы определили, при этом ответ должен быть кратким, но содержать необходимую информацию;

– если вы отвечаете на задание, связанное с заполнением таблицы, не старайтесь детализировать информацию, вписывайте только те сведения или данные, которые указаны в вопросе или верхних графах;

– после выполнения всех предложенных заданий еще раз удостоверьтесь в правильности выбранных вами ответов и решений;

Задание теоретического тура по данной предметной секции считается выполненным, если Вы вовремя сдаете его членам жюри. Время выполнения задания составляет 45 минут.

Желаем вам успеха!

Оценка за Теоретический блок _____ баллов (максимальная 40 балла)

Оценка за Блок тестирования _____ баллов (максимальная 10 баллов)

Оценка результата участника за ТЕОРЕТИЧЕСКИЙ ТУР _____ баллов

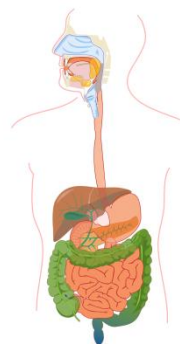
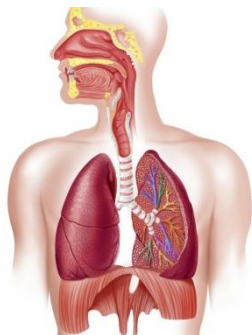
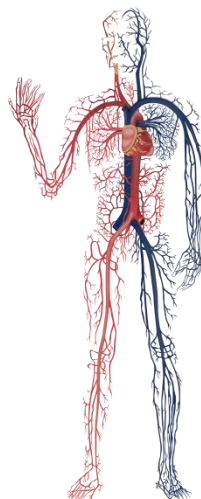
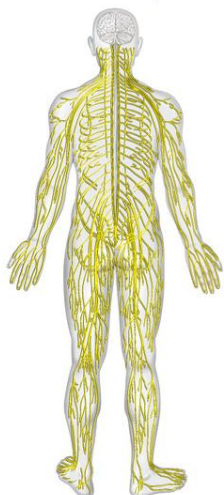
(максимально за теоретический тур 50 баллов)

ЗАДАНИЯ ТЕОРЕТИЧЕСКОГО ТУРА

Задание 1. Чтобы сохранить здоровье, нужно хорошо знать строение своего организма, представлять, где находится тот или иной орган. Иначе без посторонней помощи трудно определить, что болит и какую первую помощь нужно себе оказать. Выполните задание:

А. Укажите название на представленных ниже рисунках. Какие функции выполняет эта система органов человека.

Вариант ответа:



Б. Заполните таблицу, указав «положительное» и «отрицательное» факторы, которые воздействуют на нервную систему человека.

Вариант ответа:

Положительное воздействие на нервную систему	Отрицательное воздействие на нервную систему

Оценочные баллы: максимально – 10 баллов;

Фактически набранные баллы за задание - _____ .

Подписи членов жюри _____

**Задание 2. Как вы думаете, представляет ли опасность компьютер?
Обоснуйте свой ответ с точки зрения психологии и физиологии.**

Вариант ответа:

Психологическая:

- _____

- _____

- _____

- _____

- _____

- _____

Физиологическая:

- _____

- _____

- _____

- _____

- _____

- _____

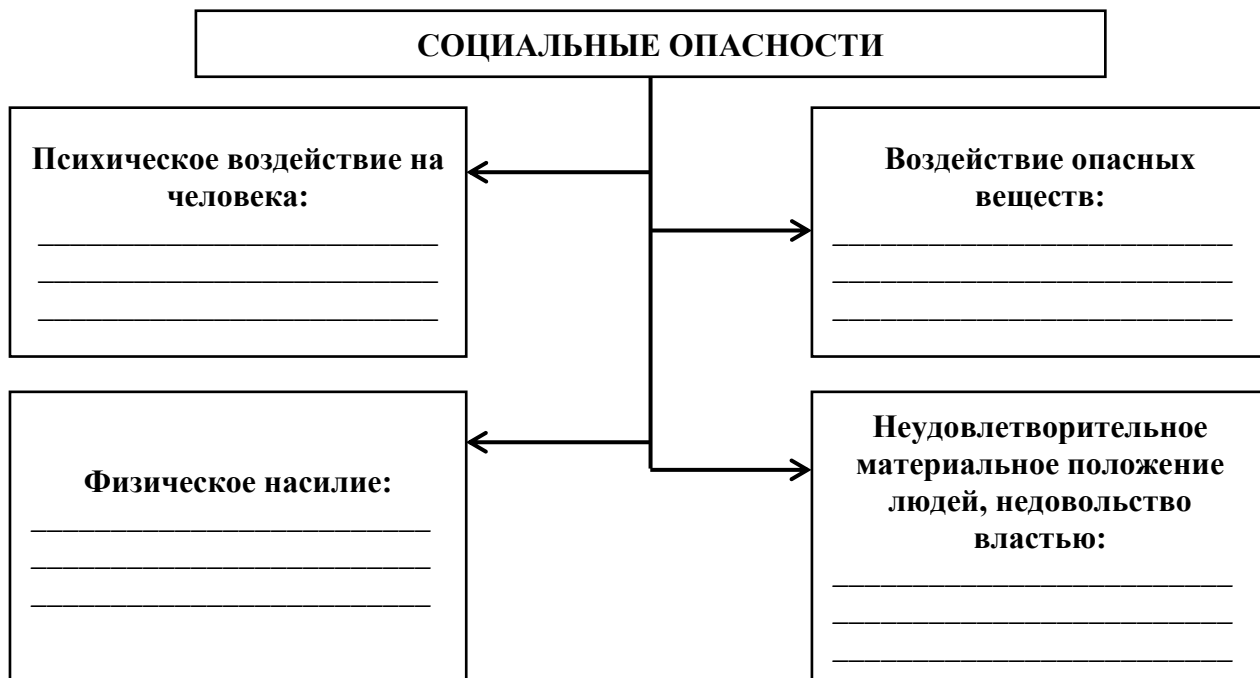
Оценочные баллы: максимально – 10 баллов;

Фактически набранные баллы за задание - _____ .

Подписи членов жюри _____

Задание 3. Рассмотрите схему. Укажите, какой тип вреда для людей, для общества несут социальные опасности.

Вариант ответа:

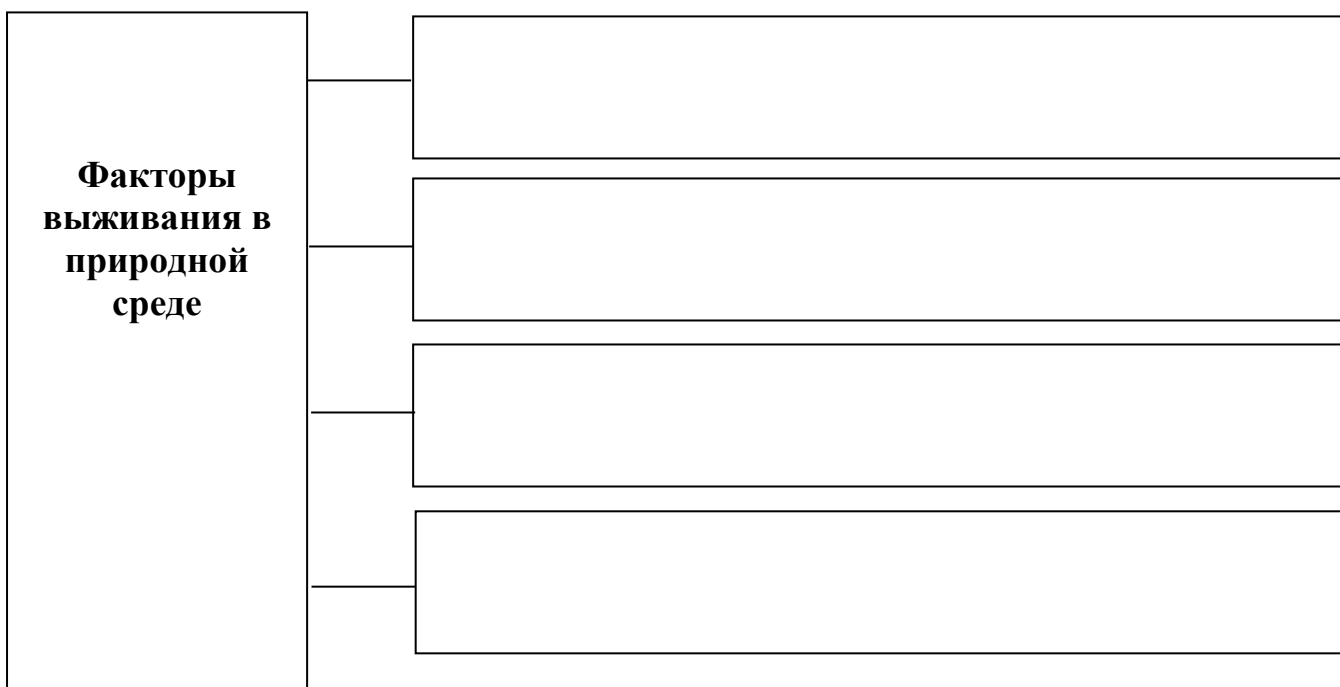


Оценочные баллы: максимально – 10 баллов;

фактически набранные баллы за задание - _____ .

Подписи членов жюри _____

Задание 4. Заполните схему факторов выживания в природных условиях.



Оценочные баллы: максимально – 10 баллов;

Фактически набранные баллы за задание - _____ .

Подписи членов жюри _____

Баллы за задания Теоретического блока				
<i>№ задания</i>	1	2	3	4
<i>Кол-во баллов</i>				

Подпись председателя жюри _____

Подписи членов жюри _____

ЗАДАНИЯ ТЕОРЕТИЧЕСКОГО ТУРА (Блок тестирования)

№ п/п	Тестовые задания	Макс. балл	Кол-во набранных баллов
1	2	3	4
Определите один правильный ответ			
1.	Пешеходы должны двигаться по тротуарам или пешеходным дорожкам, а при их отсутствии? А) по встречной полосе Б) по разделительной полосе В) по проезжей части Г) по обочинам	1	
2.	Очень сильный (скоростью до 20 м/с) и продолжительный ветер, вызывающий большие разрушения на суше и волнения (штормы) на море, называется? А) цунами Б) ураганом В) бурей Г) смерчем	1	
3.	Большинство линий дорожной разметки имеют? А) бежевый цвет Б) красный цвет В) белый цвет Г) жёлтый цвет	1	
4.	Вернувшись с прогулки, вы открыли дверь своей квартиры и обнаружили сильное задымление. Ваши дальнейшие действия? А) войдете в квартиру и будете искать источник задымления Б) откроете окна, чтобы проверить квартиру В) плотно закроете дверь и вызовете пожарных	1	

5.	Основная причина возникновения оползней? А) происходят при избыточном насыщении глинистых пород подземными водами Б) происходят во время землетрясений и извержений вулканов В) падение НЛО Г) продолжительно засушливое лето	1	
6.	Ташкентское землетрясение произошло? А) в 1966 г. Б) в 1940 г. В) в 1972 г. Г) в 1999 г.	1	
7.	При отравлении бытовым или угарным газом в первую очередь необходимо? А) положить холодный компресс на голову пострадавшего Б) как можно скорее прекратить действие газа В) вынести пострадавшего из помещения на свежий воздух Г) дать понюхать пострадавшему нашатырный спирт	1	
8.	Каким образом нельзя определить стороны горизонта? А) по солнцу Б) по часам В) по ветру	1	
9.	Каким образом можно определить стороны горизонта ночью? А) по положению Луны Б) по полярной Звезде В) никак нельзя	1	
10	Чем опасны укусы кровососущих насекомых? А) они переносят инфекции Б) они повреждают кожу человека В) Следы от укусов остаются на всю жизнь	1	
Количество баллов		max 10	

Оценочные баллы: максимально – 10 баллов;
фактически набранные баллы за Блок тестирования - _____ .

Подпись председателя жюри _____
Подписи членов жюри _____