

**ВСЕРОССИЙСКАЯ ОЛИМПИАДА ШКОЛЬНИКОВ ИСТОРИЯ.
2021-2022 уч. г.
ШКОЛЬНЫЙ ЭТАП
10 КЛАСС**

Всего 100 баллов

I. Выберите правильный ответ из числа предложенных. Ответ оформите в таблице (10 баллов).

1. А. Битва у с.Молоди

Б. Плюсское перемирие

В. Осада Баторием Пскова

Г. Основание крепости Уфа

Д. Завоевание Казанского ханства

2. Современниками были:

А. Екатерина II-Лосенко-Шубин-Левицкий

Б. Екатерина II-Пугачев-Салават Юлаев-Батырша

В. Екатерина II- Щербатов-Новиков-Пересветов

Г. Екатерина II-Дашкова-А.Орлов-Ягужинский

Д. Екатерина II-Кинзя Арсланов-Салавт Юлаев-Батырша

3. Крупный политический удар по Орде был нанесен в сражении: у Синих Вод в 1362 г.:

А. Витовтом

Б. Ольгердом

3. Казимиром IV

4.Гедимином

5. Ягайлом

4. Какой генерал командовал русской артиллерией во время Отечественной войны 1812г. и героически погиб на Бородинском поле:

А. П.И.Багратион

Б. А.И.Кутайсов

В. М.И.Плахов

Г. Д.С.Дохтуров

Д. П.В.Чаадаев

5. Первое крупное башкирское восстание в XVII в. в Башкирии произошло одновременно с:

А. Соляным бунтом

Б. Стрелецким мятежом против Нарышкиных

В. Медным бунтом

Г. Восстаниями в Новгороде и Пскове

Д. Азовским сидением казаков

6. Экономические крестьяне появились при:

А. Елизавете Петровне

Б. Екатерине II

В. Павле I

Г. Александре I

Д. Николае I

7. Первым губернатором Уфимской губернии, образованной в 1865г. был:

А. И.И.Неплюев

Б. Н.М.Богданович

В. Г.С.Аксаков

Г. А.С.Ключерев

Д. В.С.Татищев

8. В 1851г.было открыто движение поездов по железной дороге:

А. между Петербургом и Варшавой

Б. между Москвой и Казанью

В. между Москвой и Нижним Новгородом

Г. между Петербургом и Царским селом

Д. между Петербургом и Москвой.

9. Бывший народник, ставший первым марксистом России:

А. М.А.Бакунин

Б. А.И.Желябов

В. Г.В.Плеханов

Г. П.Л.Лавров

Д. П.Н.Ткачев

10. Выступали за установление в России конституционных порядков английского типа:

А. Октябристы

Б. Эсеры

В. Большевики

Г. Меньшевики

Д. Кадеты

1	2	3	4	5	6	7	8	9	10

II. Выберите несколько правильных ответов из числа предложенных.

Ответ оформите в таблице. (8 баллов):

1. Епифанию Премудрому принадлежали:

А. «Повесть о Михаиле Черниговском»

Б. «Житие Сергия Радонежского»

В. «Задонщина»

Г. «Житие Стефана Пермского»

Д. «Сказание о Мамаевом побоище»

2. Воины-герои Советского Союза из Башкирии, закрывшие своим телом амбразуру вражеского дзота. Ответ оформите в таблице.

- А. Даян Мурзин
- Б. Минигали Губайдуллин
- В. Минигали Шаймуратов
- Г. Александр Матросов
- Д. Муса Гареев

3. Выдающимися драматическими актрисами второй половины XIX – первой половины XX века были.

- А. М.Ф. Кшесинская
- Б. Т.П. Карсавина
- В. П.А. Стрепетова
- Г. А.П. Павлова
- Д. В.Ф. Комиссаржевская

4. К правлению Михаила Федоровича относятся:

- А. появление на окраинах Москвы немецкой слободы
- Б. появление патриаршества
- В. появление приказа тайных дел
- Г. появление полков «нового» или «иноземного» строя
- Д. появление первого учебника по истории – «Синописа» И.Гизеля.

Ответ:

1	2	3	4

III.«Да» - «Нет». Если Вы согласны с утверждением, пишите «да», если не согласны – «нет». Ответ оформите в таблице. (10 баллов).

1. Прасковья Ковалева-Жемчугова была крепостной актрисой графа Н.П.Шереметьева.
2. Внутренние таможенные пошлины были отменены Петром Шуваловым.
3. Смерды - сельские жители, зависимые от князя

4. Кондиции, подписанные Анной Иоановной, были одобрены большинством дворян.
5. Во второй антифранцузской коалиции участвовали- Великобритания, Россия, Османская империя, Австрия.
6. Историк Г.Н.Грановский, правовед К.Д.Кавелин относились к славянофилам.
7. Проект реформ государственных учреждений, представленный М.Т. Лорис-Меликовым, часто называют «Конституцией».
8. Автором «Записок о древней и новой России» был М.Сперанский.
9. В годы Первой мировой войны ни один представитель дома Романовых не погиб, непосредственно участвуя в боевых действиях.
10. В области финансов в середине XIX в. важное значение имела финансовая реформа Е.Ф Канкрин, введившая в России твердую денежную единицу –золотой рубль.

1	2	3	4	5	6	7	8	9	10

IV. Прочитайте отрывок из летописи и ответьте на вопросы к нему (4 балла)

«В год 6748. Пришел Батый к Киеву с большой силой, с множеством воинов своих, и окружили они город, и обступила сила татарская, и был город в великой осаде».

1. По какому летоисчислению дается в летописи дата осады Киева?
2. По какому летоисчислению дается дата этого события в школьных учебниках?
3. Назовите дату события.
4. Какое еще значительное событие в истории России произошло в этом году?

V. Определите последовательность присоединения русских земель к Москве. Ответ оформите в таблице. (2 балла).

А.Новгородская республика; Б.Рязанское княжество; В.Ростовская земля;
Г.Тверское княжество; Д.Смоленск; Е.Псковская республика.

1	2	3	4	5	6

VI. Что является лишним в ряду? Ответ обосновать (4 балла)

1. а) отмена кровной мести; б) окончательный разгром печенегов; в) основание в земле Чудь города Юрьева; г) женитьба на дочери шведского короля; д) любовь к книжному чтению, внимание к церкви.
2. а) 1549; б) 1566; в) 1581; г)1598; д) 1613.

Ответ:

1. _____
2. _____

VII. Перед вами имена российских военачальников, которые участвовали в великих войнах России с начала XIX по начала XX вв. Разделите эти имена на 3 группы, озаглавьте каждую группу (название войны, дата войны) и соотнесите имена военачальников с каждой группой. (9 баллов)

Военачальники: 1. П.С. Нахимов, 2. П.И. Багратион, 3. Л.Г. Корнилов, 4. А.П. Ермолов, 5. А.А. Брусилов, 6. Н.Н. Романов, 7. А.И. Деникин, 8. Н.В. Ружский, 9. В.А. Корнилов, 10. В.И. Истомин, 11. Н.Н. Юденич, 12. Н.Н. Раевский, 13. М.В. Алексеев.

Ответ:

1	2	3

VIII. Перед Вами имена правителей Руси-России и события всемирной истории. Установите соответствия между ними. Ответ оформите в таблице. (8 баллов)

Имена правителей



1. Александр I
2. Екатерина II
3. Василий I
4. Николай I
5. Иван Грозный
6. Александр II
7. Николай II
8. Алексей Михайлович

События всемирной истории

- А) Казнь Карла I
- Б) Грюнвальдская битва
- В) Люблинская уния
- Г) Падение Бастилии
- Д) Провозглашение Германской империи
- Е) Убийство эрц-герцога Франца-Фердинанда в Сараеве
- Ж) Июльская революция во Франции
- З) Провозглашение Наполеона I императором

1	2	3	4	5	6	7	8

IX. Какого художники первой половины XIXв. (николаевского времени) называли Гоголем русской живописи? Назовите его имя. Выберите из числа предложенных полотен картины, написанные этим художником. Укажите порядковые номера картин (6 баллов)





Ответ: 1. Имя художника	
2. номера картин	

Х. Прочитайте фрагменты из документов и выполните задания.(9 баллов)

1. Исходя из содержания приведенных текстов, дайте примерное название каждого документа, учитывая его вид.

2. Когда мог появиться 1 документ: до бегства Алексея Петровича во владения австрийского императора или после его возвращения по уговору П.А. Толстого? Почему?

3. В каком году появился 2 документ?

4. Что имеет в виду Петр I под выражением «сей не добрый обычай»?

5. Почему Петр I отказался от традиционного порядка престолонаследия?

6. В чем суть второго документа?

7. Каким образом Петр I стремился обеспечить исполнение обоих документов?

1. Из манифеста....

И хотя он, сын наш, за такие поступки достоин был лишения живота, однако ж, мы отеческим сердцем о нем соболезнуя, в том преступлении его прощаем и от всякого наказания освобождаем.

Однако ж не можем по совести своей его наследником российского престола оставить.

И так мы, яко самодержавный государь, для пользы государственной лишаем его, сына своего Алексея, за те вины и преступления наследства по нас престола нашего всероссийского, хотя б единой персоны нашей фамилии по нас не осталось.

И определяем и объявляем по нас помянутого престола наследником другого сына нашего Петра, хотя еще и малолетка суша, ибо возрастного наследника не имеем.

Желаем же от всех верных наших подданных, дабы сына нашего Петра за законного наследника признавали и почитали и во утверждение сего нашего постановления на сем обращаем пред святым алтарем, над святым Евангелием и целованием креста утвердим.

Всех же тех, кто сему нашему изволению противны будут и сына Алексея нашего почитать дерзнут, изменниками нам и Отечеству объявляем».

2. «Сей недобрый обычай не знаю для чего так был утвержден. Ежели должны мы иметь попечение о целости нашего государства, то за благо рассудим мы сей Устав учинить, дабы всегда было в воле государя – кому хочет, тому и определить наследство, чтобы дети и потомки не впали в такую злость, имели узду на себе.

Того ради повелеваем: все наши подданные и мирские без изъятия сей наш Устав пред Богом и его Евангелием утвердили. Того кто сему будет противен или иначе как толковать его станет, считать изменником. Тот смертной казни подлежать будет.

Ответ:

1.

2.

3.

4.

5.

6.

7.

XI. Вставьте в представленный ниже документ пропущенные слова (11 баллов).

Крепостное право для крестьян отменяется навсегда.

На основании сего Положения и общих законов крестьянам и дворовым людям, вышедших из крепостной зависимости, представляются права, состояния свободных... (1).

Помещик, наделив крестьян в постоянное пользование за установленные повинности землю на основании общих положений, не обязан впредь нив коем случае наделять их каким бы то ни было сверх того количеством земли.

Крестьяне, вышедшие из крепостной зависимости, но состоящие в обязательных отношениях к помещикам, именуются...(2) крестьянами.

Крестьяне, вышедшие из крепостной зависимости и приобретшие в собственность поземельные угодья на основаниях в Положениях изложенных, именуются крестьянами... (3).

... (4) составляются из крестьян, водворенных на земле одного помещика; оно может состоять из целого селения (села или деревни).

... (5) образуются из состоящих в одном уезде и по возможности смежных... (4).

Сельское общественное управление составляют:

1.....(6)

2.....(7)

Волостные управления составляют

1.....(8)

3.....(10)

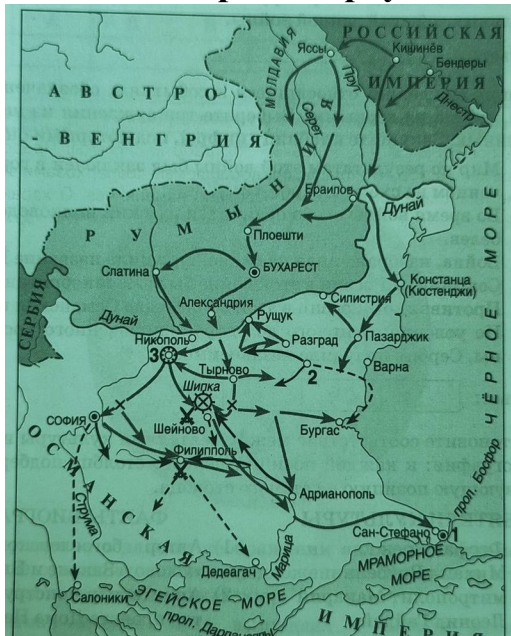
2.....(9)

4.....(11)

Ответы:

- 1.
- 2.
- 3.
- 4.
- 5.
- 6.
- 7.
- 8.
- 9.
- 10.

XII. Рассмотрите карту и выполните задания(7 баллов)



1. Назовите войну, события которой отражены на карте. Укажите ее хронологические рамки.
2. При каком российском императоре произошла эта война?
3. Напишите название, обозначенной на карте—схеме цифрой «3» крепости,

длительная осада которой русскими войсками была одним из центральных событий данной войны.

4. Напишите название города, который обозначен на карте цифрой «1».
5. Полководца, который прославился в этой войне, называли «белым генералом», назовите его имя.
6. В Москве на месте, где был памятник этому полководцу, в 1947 г. был поставлен памятник другому историческому деятелю. Назовите его имя.
7. Как называется мир заключенный после этой войны?

Ответы:

- 1.
- 2.
- 3.
- 4.
- 5.
- 6.
- 7.

ХIII. Перед Вами фрагменты стихотворений, посвященных героям Великой Отечественной войны. Определите, о ком идет речь в каждом фрагменте, соотнесите с портретным изображением, вспомните, когда был совершен описанный подвиг, и заполните таблицу(12 баллов).



А. На лице твоём шрамы и ссадины,
Но молчанье ответом врагу...
Деревянный помост с перекладиной,
Ты босая стоишь на снегу.
Нет, не плачут седые колхозники,
Утирая руками глаза.
Юный голос звучит над пожарищем,
Над молчанием морозного дня:
- Умирать мне не страшно, товарищи,
Мой народ отомстит за меня!

Б. Взрыв раздался, но снова, как град,
Пули сыпались в огненный вечер.
И пополз наш отважный солдат

Вражьи пулям и минам навстречу.
Пулемет, вдруг ожил в амбразуре.
Он кинжальным огнем застрочил.
Лихорадочно, остервенело.
И <...> внезапно вскочил,
И закрыл амбразуру всем телом.

В. Дрожит мотор в последнем содроганьи,
Кругом бушует и гремит гроза.
Нет времени для мысли, для дыханья,
Нет силы приоткрыть в огне глаза!
Но капитан всей волею последней
Ведёт машину прямо на врага!
Горят цистерны, гибнут вражьи танки,
Гремит металл, врагов сбивая с ног...
Мёртв капитан, и на его останки
Ложится пламя кругом, как венок.

Г. Казалось, силы за пределами
У тех, кто в схватке не убит,
Казалось, что полями белыми
Путь к белокаменной открыт.
Но зря махина грозно лязгала
И ликовала вражья рать,
... уже гранаты связывал,
Чтоб вместе с сердцем их взорвать.

Д. А из брандспойда, вырываясь огненно,
Вода петель захлестывает горло.
И медленно стекала, остывала,

Прозрачными слоями, как слюда,
И одевала тело генерала
В звенящий холод голубого льда.

Е. Вот, «И-16» направляет
Он, летчик, прямо на врага.
С трудом штурвалом управляет –
Прострелена его рука.
«Х-111» взорвался,
И смертный груз, и экипаж.
В тот день живым герой остался.
Погиб он после, сокол наш...

Ответ:

№ портрета	Кто изображен	Стих (буква)	Год совершения подвига
1			
2			
3			
4			
5			
6			