

Вариант № 41054174

Инструкция по выполнению работы

Экзаменационная работа состоит из двух частей, включающих в себя 19 заданий. Часть 1 содержит 8 заданий с кратким ответом базового уровня сложности. Часть 2 содержит 4 задания с кратким ответом повышенного уровня сложности и 7 заданий с развёрнутым ответом повышенного и высокого уровней сложности.

На выполнение экзаменационной работы по математике отводится 3 часа 55 минут (235 минут).

Ответы к заданиям 1–12 записываются по приведённому ниже образцу в виде целого числа или конечной десятичной дроби. Числа запишите в поля ответов в тексте работы, а затем перенесите их в бланк ответов № 1.

КИМ Ответ: -0,8

При выполнении заданий 13–19 требуется записать полное решение и ответ в бланке ответов № 2.

Все бланки ЕГЭ заполняются яркими чёрными чернилами. Допускается использование гелевой или капиллярной ручки.

При выполнении заданий можно пользоваться черновиком. Записи в черновике, а также в тексте контрольных измерительных материалов не учитываются при оценивании работы.

Баллы, полученные Вами за выполненные задания, суммируются. Постарайтесь выполнить как можно больше заданий и набрать наибольшее количество баллов.

После завершения работы проверьте, чтобы ответ на каждое задание в бланках ответов № 1 и № 2 был записан под правильным номером.

Желаем успеха!

Справочные материалы

$$\sin^2 \alpha + \cos^2 \alpha = 1$$

$$\sin 2\alpha = 2 \sin \alpha \cdot \cos \alpha$$

$$\cos 2\alpha = \cos^2 \alpha - \sin^2 \alpha$$

$$\sin(\alpha + \beta) = \sin \alpha \cdot \cos \beta + \cos \alpha \cdot \sin \beta$$

$$\cos(\alpha + \beta) = \cos \alpha \cdot \cos \beta - \sin \alpha \cdot \sin \beta$$

1. Задание 1 № 26654

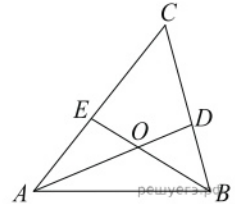
Найдите корень уравнения $16^{x-9} = \frac{1}{2}$.

2. Задание 2 № 320184

Игральный кубик бросают дважды. Сколько элементарных исходов опыта благоприятствуют событию «A = сумма очков равна 5»?

3. Задание 3 № 27764

В треугольнике ABC угол C равен 58° , AD и BE — биссектрисы, пересекающиеся в точке O. Найдите угол AOB. Ответ дайте в градусах.

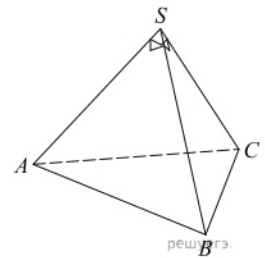


4. Задание 4 № 26760

Найдите значение выражения $\frac{8}{\sin(-\frac{27\pi}{4}) \cos(\frac{31\pi}{4})}$.


5. Задание 5 № 27111

Боковые ребра треугольной пирамиды взаимно перпендикулярны, каждое из них равно 3. Найдите объем пирамиды.



6. Задание 6 № 323079

На рисунке изображён график функции $y = f(x)$. Функция $F(x) = x^3 + 30x^2 + 302x - \frac{15}{8}$ — одна из первообразных функции $y = f(x)$. Найдите площадь закрашенной фигуры.



7. Задание 7 № 28009

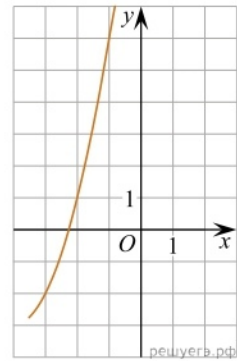
Два тела массой $m = 2$ кг каждое, движутся с одинаковой скоростью $v = 10$ м/с под углом 2α друг к другу. Энергия (в джоулях), выделяющаяся при их абсолютно неупругом соударении определяется выражением $Q = mv^2 \sin^2 \alpha$. Под каким наименьшим углом 2α (в градусах) должны двигаться тела, чтобы в результате соударения выделилось не менее 50 джоулей?

8. Задание 8 № 99610

По морю параллельными курсами в одном направлении следуют два сухогруза: первый длиной 120 метров, второй — длиной 80 метров. Сначала второй сухогруз отстает от первого, и в некоторый момент времени расстояние от кормы первого сухогруза до носа второго составляет 400 метров. Через 12 минут после этого уже первый сухогруз отстает от второго так, что расстояние от кормы второго сухогруза до носа первого равно 600 метрам. На сколько километров в час скорость первого сухогруза меньше скорости второго?

9. Задание 9 № 564654

На рисунке изображён график функции вида $f(x) = ax^2 + bx + c$, где числа a, b и c — целые. Найдите абсциссу вершины параболы.



10. Задание 10 № 320211

Автоматическая линия изготавливает батарейки. Вероятность того, что готовая батарейка неисправна, равна 0,02. Перед упаковкой каждая батарейка проходит систему контроля. Вероятность того, что система забракует неисправную батарейку, равна 0,99. Вероятность того, что система по ошибке забракует исправную батарейку, равна 0,01. Найдите вероятность того, что случайно выбранная батарейка будет забракована системой контроля.

11. Задание 11 № 26698

Найдите наименьшее значение функции $y = 6 \cos x + \frac{24}{\pi}x + 5$ на отрезке $\left[-\frac{2\pi}{3}; 0\right]$.

12. Задание 12 № 485991

а) Решите уравнение $\cos^2 \frac{x}{2} - \sin^2 \frac{x}{2} = \sin \left(\frac{\pi}{2} - 2x\right)$.

б) Укажите корни уравнения, принадлежащие отрезку $\left[\pi, \frac{5\pi}{2}\right]$.

13. Задание 13 № 513920

В треугольной пирамиде $ABCD$ двугранные углы при рёбрах AD и BC равны. $AB \neq BD \neq DC \neq AC \neq 5$.

а) Докажите, что $AD \neq BC$.

б) Найдите объём пирамиды, если двугранные углы при AD и BC равны 60° .

14. Задание 14 № 508570

Решите неравенство: $\log_{1-\frac{x^2}{37}}(x^2 - 12|x| + 37) - \log_{1+\frac{x^2}{37}}(x^2 - 12|x| + 37) \geq 0$.

15. Задание 15 № 506959

Баба Валя, накопив часть своей пенсии, решила улучшить свое материальное положение. Она узнала, что в Спёрбанке от пенсионеров принимают вклады под определенный процент годовых и на этих условиях внесла свои сбережения в ближайшее отделение Спёрбанка. Но через некоторое время соседка ей рассказала, что недалеко от той местности, где проживают пенсионеры, есть коммерческий банк, в котором процент годовых для пенсионеров-вкладчиков в 20 раз выше, чем в Спёрбанке. Баба Валя не доверяла коммерческим банкам, но стремление улучшить свое материальное положение взяло верх. После долгих колебаний и ровно через год после открытия счета в Спёрбанке Баба Валя сняла половину образовавшейся суммы от ее вклада, заявив: «Такой навар меня не устраивает!» и открыла счет в том коммерческом банке, о котором говорила ее соседка, не теряя надежды на значительное улучшение своего материального благосостояния.

Надежды оправдались: через год сумма Бабы Вали в коммерческом банке превысила ее первоначальные кровные сбережения на 65%. Сожалела Баба Валя, что год назад в Спёрбанке сняла не всю сумму, а лишь половину, однако, подумала: «А где же мы не потеряли?..» Гендиректор коммерческого банка оказался хорошим: не оставил Бабу Валю без денег.

А каков в Спёрбанке процент годовых для пенсионеров?

16. Задание 16 № 509425

Точка O — центр окружности, вписанной в треугольник ABC . На продолжении отрезка AO за точку O отмечена точка K так, что $BK = OK$.

а) Докажите, что четырехугольник $ABKC$ вписанный.

б) Найдите длину отрезка AO , если известно, что радиусы вписанной и описанной окружностей треугольника ABC равны 3 и 12 соответственно, а $OK = 5$.

17. Задание 17 № [520999](#)

Найти все значения a , при каждом из которых уравнение

$$\left| x + \frac{a^2}{x} + 1 \right| + \left| x + \frac{a^2}{x} - 1 \right| = 2$$

имеет хотя бы один корень.

18. Задание 18 № [505669](#)

Можно ли из последовательности $1, 1/2, 1/3, 1/4, \dots$ выделить арифметическую прогрессию

а) длиной 4

б) длиной 5

в) длиной k , где k — любое натуральное число?