

Вариант № 8084132

Инструкция по выполнению работы

Экзаменационная работа состоит из двух частей, включающих в себя 29 заданий. Часть 1 содержит 20 заданий с кратким ответом. Часть 2 содержит 9 заданий с развёрнутым ответом.

На выполнение экзаменационной работы по обществознанию отводится 3 часа 55 минут (235 минут).

Ответами к заданиям части 1 являются слово (словосочетание) или последовательность цифр. Ответ запишите по приведённым ниже образцам в поле ответа в тексте работы без пробелов, запятых и других дополнительных символов, а затем перенесите в бланк ответов № 1.

КИМ	Ответ: <u>МОРАЛЬ</u>	1 М О Р А Л Ь	Бланк										
	Ответ: <table border="1" style="display: inline-table; vertical-align: middle;"><tr><td>2</td><td>3</td></tr></table>	2	3	3 2 3									
2	3												
	Ответ: <u>125</u>	4 1 2 5											
	Ответ: <table border="1" style="display: inline-table; vertical-align: middle;"><tr><td>А</td><td>Б</td><td>В</td><td>Г</td><td>Д</td></tr><tr><td>3</td><td>2</td><td>3</td><td>1</td><td>1</td></tr></table>	А	Б	В	Г	Д	3	2	3	1	1	5 3 2 3 1 1	РЕШ
А	Б	В	Г	Д									
3	2	3	1	1									

Задания части 2 (21–29) требуют полного ответа (дать объяснение, описание или обоснование; высказать и аргументировать собственное мнение). В бланке ответов № 2 укажите номер задания и запишите его полное решение. Выполняя последнее задание работы, Вы можете проявить свои знания и умения на том содержании, которое для Вас более привлекательно.

Все бланки ЕГЭ заполняются яркими чёрными чернилами. Допускается использование гелевой или капиллярной ручки.

При выполнении заданий можно пользоваться черновиком. **Записи в черновике, а также в тексте контрольных измерительных материалов не учитываются при оценивании работы.**

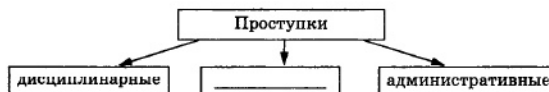
Баллы, полученные Вами за выполненные задания, суммируются. Постарайтесь выполнить как можно больше заданий и набрать наибольшее количество баллов.

После завершения работы проверьте, чтобы ответ на каждое задание в бланках ответов № 1 и № 2 был записан под правильным номером.

Желаем успеха!

1. Задание 1 № 1427

Запишите слово, пропущенное в схеме:



2. Задание 2 № 8949

Найдите понятие, которое является обобщающим для всех остальных понятий представленного ниже ряда. Запишите это слово (словосочетание).

Индивид; индивидуальность; человек; личность; талант.

3. Задание 3 № 13847

Ниже приведён перечень терминов. Все они, за исключением двух, обозначают функции денег.

1) средство мены; 2) средство платежа; 3) средство накопления; 4) мера стоимости; 5) мировые деньги; 6) средство кредита.

Найдите две характеристики, «выпадающие» из общего ряда, и запишите в таблицу цифры, под которыми они указаны.

4. Задание 4 № 11806

Выберите верные суждения о мировоззрении и запишите цифры, под которыми они указаны.

Цифры укажите в порядке возрастания.

- 1) Обыденное мировоззрение является порождением повседневной жизни людей.
- 2) Мировоззрение определяет мотивы и цели человеческой деятельности.
- 3) Мировоззрение всегда связано с определённой стадией исторического развития общества.
- 4) Мировоззрение всегда связано с теоретическим осмыслением результатов человеческой деятельности.
- 5) Идеалы и убеждения не входят в структуру мировоззрения.

5. Задание 5 № 10794

Установите соответствие между отличительными признаками и видами деятельности, которые они иллюстрируют: к каждой позиции, данной в первом столбце, подберите соответствующую позицию из второго столбца.

ОТЛИЧИТЕЛЬНЫЕ ПРИЗНАК	ВИД ДЕЯТЕЛЬНОСТИ
А) направленность на практически полезный результат Б) формирование знаний и умений, развитие мышления В) побудительный мотив деятельности заключается не в её результате, а в самом процессе деятельности Г) все средства специально направлены на изменение субъекта деятельности Д) особенностью деятельности является условная ситуация	1) труд 2) игра 3) учение

Запишите в ответ цифры, расположив их в порядке, соответствующем буквам:

А	Б	В	Г	Д

6. Задание 6 № 3768

К произведениям элитарной (высокой) культуры искусствоведы относят классическую музыку: органные произведения Баха, скрипичную музыку Вивальди, концерты для фортепиано с оркестром Рахманинова. Что позволяет искусствоведам сделать такой вывод?

- 1) самовыражение и свобода творчества авторов
- 2) сложность восприятия произведений неподготовленным слушателем
- 3) установка на следование образцу, который перенимается от предшествующих поколений.
- 4) высокая степень обобщения коллективного опыта
- 5) стереотипизация отражения человеком реального мира в музыке
- 6) ориентация музыки на широкую аудиторию

7. Задание 7 № 1578

Укажите в приведенном перечне основные функции коммерческого банка.

- 1) эмиссия денег
- 2) выпуск ценных бумаг
- 3) осуществление кредитных операций
- 4) установление официального курса национальной валюты
- 5) прием вкладов от граждан и юридических лиц

8. Задание 8 № 13794

Установите соответствие между характеристиками рыночных отношений и видами конкуренции: к каждой позиции, данной в первом столбце, подберите соответствующую позицию из второго столбца.

ХАРАКТЕРИСТИКА	ВИД КОНКУРЕНЦИИ
А) деятельность любой из фирм вызывает обязательную ответную реакцию со стороны конкурентов	1) олигополия
Б) вход на рынок для новых фирм затруднён, но возможен	2) монополия
В) полная информированность любой фирмы о всех параметрах рынка — о ценах, издержках, спросе, объёмах производства	3) чистая конкуренция
Г) кривая спроса для фирмы всегда совпадает с кривой спроса для отрасли	
Д) отсутствие барьеров для осуществления бизнеса	

Запишите в ответ цифры, расположив их в порядке, соответствующем буквам:

А	Б	В	Г	Д

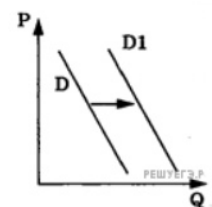
9. Задание 9 № 9017

В компании Z принято стратегическое решение об открытии нового направления по производству бытовой техники. Найдите в приведённом ниже списке подтверждения того, что речь идёт об интенсивном экономическом росте данного предприятия. Запишите цифры, под которыми они указаны.

- 1) используются современные компьютерные технологии
- 2) приобретена партия оборудования прошлого поколения
- 3) осуществляются инвестиции в инновационные разработки
- 4) происходит повышение квалификации работников
- 5) повышается производительность труда
- 6) масштабы производства увеличены за счёт открытия новых цехов

10. Задание 10 № 7860

На рисунке отражены изменения спроса на легковые автомобили на соответствующем рынке: линия спроса D переместилась в новое положение $D1$ (P — цена товара, Q — количество товара). Это перемещение связано, в первую очередь, с



- 1) совершенствованием технологии производства автомобилей
- 2) уменьшением издержек производителей автомобилей
- 3) уменьшение стоимости услуг общественного транспорта
- 4) увеличением доходов населения
- 5) резким снижением цен на бензин

11. Задание 11 № 11813

Выберите верные суждения о видах социальных групп и запишите цифры, под которыми они указаны.

Цифры укажите в порядке возрастания.

1) Взаимодействие членов первичной группы носит непосредственный, межличностный характер.

2) Реальную социальную группу учёные выделяют для целей статистического учёта населения и решения крупных социально-экономических проблем.

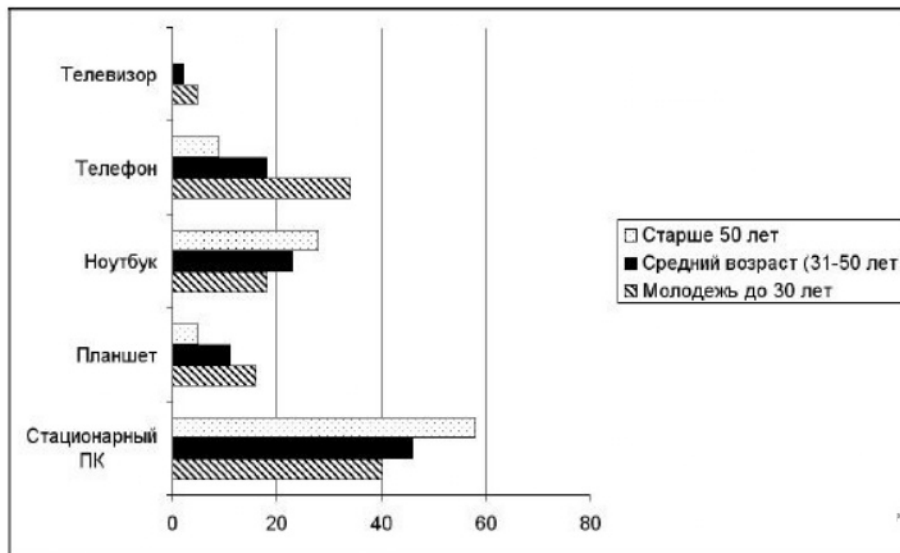
3) В формальной группе статус членов и цель деятельности не всегда чётко определены.

4) Члены реальной группы чётко идентифицируют себя с ней, ощущают свою принадлежность к группе и осознают отличие от других групп.

5) Малой группой называется немногочисленная общность людей, объединённых совместной деятельностью и находящихся в непосредственном личном общении.

12. Задание 12 № 10208

В стране Z был проведён социологический опрос среди различных возрастных групп на тему: «Каким устройством Вы пользуетесь чаще всего для выхода в интернет?» Его результаты отражены в диаграмме.



Найдите в приведённом списке выводы, которые можно сделать на основе диаграммы, и запишите цифры, под которыми они указаны. *Цифры укажите в порядке возрастания.*

1) Стационарный ПК является самым популярным устройством для выхода в интернет среди всех возрастных групп.

2) Молодёжь использует телевизор для выхода в интернет примерно так же часто, как люди старшей возрастной группы — планшет.

3) Телефон является вторым по популярности средством выхода в интернет для всех возрастных групп.

4) Популярность телефона как средства выхода в интернет возрастает с увеличением возраста пользователей.

5) Во всех возрастных категориях ноутбук используется для выхода в интернет чаще, чем планшет.

13. Задание 13 № 11815

Выберите верные суждения о политической культуре и запишите цифры, под которыми они указаны.

Цифры укажите в порядке возрастания.

- 1) Интегративная функция политической культуры связана с формированием у граждан необходимых для участия в политической жизни страны знаний, взглядов, убеждений.
- 2) Для подданнического типа политической культуры характерно пассивное отношение к политической системе.
- 3) Носители гражданской политической культуры стремятся быть активными участниками политического процесса.
- 4) Нормативная функция политической культуры связана с формированием политических качеств, политической социализацией личности.
- 5) Патриархальная политическая культура характеризуется полным отсутствием у членов сообщества интереса к политическим институтам, глобальным политическим процессам.

14. Задание 14 № 11124

Установите соответствие между функциями государственной власти Российской Федерации и субъектами: к каждой позиции, данной в первом столбце, подберите соответствующую позицию из второго столбца.

ФУНКЦИЯ	СУБЪЕКТ ГОСУДАРСТВЕННОЙ ВЛАСТИ
А) осуществление мер по обеспечению законности, прав и свобод граждан, охране собственности и общественного порядка, борьбе с преступностью	1) Государственная Дума 2) Президент РФ 3) Совет Федерации 4) Правительство РФ
Б) принятие решения об отставке Правительства Российской Федерации	
В) решение вопроса о доверии Правительству Российской Федерации	
Г) назначение выборов Президента Российской Федерации	
Д) осуществление мер по обеспечению обороны страны, государственной безопасности, реализации внешней политики Российской Федерации	

Запишите в ответ цифры, расположив их в порядке, соответствующем буквам:

А	Б	В	Г	Д

15. Задание 15 № 1655

Политическая партия находится в меньшинстве в законодательном собрании и критикует деятельность властей. Она не имеет широкого круга членов, предпочитая создавать на местах небольшие, но компетентные и профессиональные штабы. Партия отстаивает идеи социальной справедливости, введения прогрессивной шкалы налогообложения. Выберите из перечня понятия, термины, имеющие отношение к характеристике данной партии.

- 1) социалистическая
- 2) массовая
- 3) оппозиционная
- 4) нелегальная
- 5) кадровая

16. Задание 16 № 8963

Что из перечисленного ниже относится к политическим правам (свободам) гражданина РФ? Запишите цифры, под которыми они указаны.

- 1) обращение в органы государственной власти
- 2) доступ к государственной службе
- 3) защита Отечества
- 4) участие в управлении делами государства
- 5) получение квалифицированной юридической помощи

17. Задание 17 № 13803

Выберите верные суждения об отраслях права. Запишите цифры, под которыми они указаны. *Цифры укажите в порядке возрастания.*

- 1) Гражданское право относится к совокупности отраслей публичного права.
- 2) Составные части системы права, сгруппированные по предмету своего регулирования, составляют отрасль права.
- 3) Конституционное право закрепляет и регулирует наиболее важные, фундаментальные и исходные государственные отношения.
- 4) Административное право регулирует сферу управленческой, исполнительно-распорядительной деятельности государственных органов, общественных организаций, должностных лиц.
- 5) Гражданское право регулирует отношения по осуществлению правосудия при разрешении споров по семейным, трудовым и иным делам.

18. Задание 18 № 9962

Установите соответствие между примерами и мерами юридической ответственности в РФ: к каждой позиции, данной в первом столбце, подберите соответствующую позицию из второго столбца.

ПРИМЕРЫ

- А) возмещение убытков
- Б) предупреждение
- В) дисквалификация
- Г) взыскание неустойки
- Д) замечание

**МЕРЫ ЮРИДИЧЕСКОЙ
ОТВЕТСТВЕННОСТИ В РФ**

- 1) способы защиты гражданских прав
- 2) дисциплинарные взыскания
- 3) административные наказания

Запишите в ответ цифры, расположив их в порядке, соответствующем буквам:

А	Б	В	Г	Д

19. Задание 19 № 12575

Пётр решил организовать индивидуальное предпринимательство (ИП). Найдите в приведённом ниже списке условия, которые позволят ему открыть ИП. Запишите цифры, под которыми они указаны.

Цифры укажите в порядке возрастания.

- 1) уплата государственной пошлины
- 2) регистрация устава предприятия
- 3) согласование учредительных документов
- 4) внесение уставного капитала
- 5) подача заявления о государственной регистрации
- 6) передача документов о регистрации ИП в налоговую инспекцию

20. Задание 20 № 9459

Прочитайте приведённый ниже текст, в котором пропущен ряд слов (словосочетаний). Выберите из предлагаемого списка слова (словосочетания), которые необходимо вставить на место пропусков.

«Мировоззрение — это совокупность представлений, _____ (А) и взглядов на мир и место человека в этом мире. Оно определяет принципы поведения и _____ (Б) человека, формирует его идеалы, моральные нормы, политические ориентации. Мировоззрение — это основной _____ (В), мерило мыслей и поступков человека.

В структуре мировоззрения выделяют два уровня. Конкретно-образный уровень соответствует _____ (Г). Это эмоционально-психологическая сторона мировоззрения. Рациональный уровень связан с наличием у человека _____ (Д), источником которого является рассудок и разум. На этом уровне формируется _____ (Е). Это познавательно-интеллектуальная сторона мировоззрения».

Слова в списке даны в именительном падеже. Каждое слово может быть использовано только один раз. Выбирайте последовательно одно слово за другим, мысленно заполняя каждый пропуск. Обратите внимание на то, что слов в списке больше, чем Вам потребуется для заполнения пропусков.

Список терминов:

- 1) миропонимание
- 2) врождённые инстинкты
- 3) понятийное мышление
- 4) чувственное постижение
- 5) представление
- 6) критерий
- 7) оценка
- 8) наблюдение
- 9) деятельность

В данной ниже таблице приведены буквы, обозначающие пропущенные слова. Запишите в таблицу под каждой буквой номер выбранного Вами слова:

А	Б	В	Г	Д	Е

21. Задание 21 № 436

Автор подчеркивает противоречивость процессов глобализации и информатизации общества в XXI веке. Найдите два подтверждения этому выводу.

Прочитайте текст и выполните задания 21—24.

XXI век глобализации и информатизации не только открывает новые возможности экономического роста, социального прогресса, урегулирования межгосударственных конфликтов, но также повышает уязвимость человека, создает вызовы, ответы на которые не под силу частному капиталу и требуют как международных усилий, так и национальной политики повышения устойчивости общества, социальной защищенности каждого человека к воздействию внешних и внутренних угроз, превращения социальной составляющей в ключевой элемент государственной стратегии.

Осознание необходимости ответственности государства за экономическую и социальную защищенность каждого его жителя стало доминирующей тенденцией развития в прошлом столетии... Опыт разных стран показывает, что обеспечение социально-экономических гарантий населению является не только условием социальной стабильности, но также важнейшим фактором трудовой мотивации, расширения налоговой базы, увеличения потребительского спроса населения; повышения конкурентоспособности трудоспособных, но уязвимых на рынке труда граждан; более полного использования трудового, интеллектуального, творческого потенциала страны, а значит, не только следствием, но и фактором ее экономического роста.

Уровень развития интеллектуального потенциала и качество «человеческого фактора» стали важнейшим фактором, определяющим конкурентоспособность современных национальных экономических систем. Образование и состояние здоровья населения, квалификация трудовых ресурсов, наличие передовых научных школ определяют степень использования, восприимчивость тех или иных стран к достижениям научно-технического прогресса.

Соответственно, страны, не способные обеспечить адекватные стандарты образования и качество жизни своему населению, реальные гарантии на удовлетворение базовых прав личности, оказываются не в состоянии выдерживать требования современной конкурентной борьбы.

В России, несмотря на определенные позитивные сдвиги в динамике макроэкономических показателей, не снижается острота таких проблем социальной сферы, как крайне высокая дифференциация населения по уровню доходов и заработной платы; чрезвычайно низкий уровень заработной платы, пенсий, т. е. доходов, связанных с нынешней или прошлой трудовой деятельностью, которые не обеспечивают для значительной части населения даже доход на уровне прожиточного минимума; не говоря уже о размерах минимальной заработной платы, не выполняющей свои экономические и социальные функции.

Такая ситуация является тормозом развития внутреннего спроса, расширения налоговой базы, не говоря уже о бедственном положении населения...

Несмотря на то, что в последние годы в России наметились позитивные сдвиги в направлении социальной ориентации бюджетных ассигнований, на сегодняшний день главным приоритетом бюджетной политики остаются платежи по государственному долгу (35,9% расходной части федерального бюджета на 2002 г.), в то время как расходы на социальную политику составляют всего 27,5% (в США на социальные статьи приходится около 2/3 федерального бюджета)... Движение к «социальному государству» (каковым объявила себя Российская Федерация согласно статье 7 Конституции) обязывает принципиально усилить социальную ориентацию бюджета и контроль за ее исполнением.

Л.Ф. Лебедева

22. Задание 22 № [437](#)

В тексте отмечено значение обеспечения социально-экономических гарантий населения как фактора экономического роста в стране. На основе текста укажите любые четыре социально-экономических эффекта, которые обеспечивают исполнение социально-экономических гарантий. Опираясь на обществоведческие знания, объясните смысл понятия «экономический рост».

23. Задание 23 № [438](#)

Перечислите, опираясь на текст и обществоведческие знания, три государственные меры, направленные на обеспечение социальной защищенности и развитие человеческих ресурсов страны. Проиллюстрируйте каждую из них конкретным примером. Каждый пример должен быть развернутым.

24. Задание 24 № [439](#)

Автор подчеркивает необходимость усиления социальной направленности бюджетной политики Российского государства. Назовите три направления расходов государственного бюджета России, направленные на развитие человеческого и интеллектуального потенциала нации.

25. Задание 25 № [12251](#)

Используя обществоведческие знания,

- 1) раскройте смысл понятия «мышление»;
- 2) составьте два предложения:
 - одно предложение, содержащее информацию о результатах процесса мышления;
 - одно предложение, раскрывающее связь мышления и языка.

Предложения должны быть распространёнными и содержащими корректную информацию о соответствующих аспектах понятия.

26. Задание 26 № [1995](#)

В любой экономической системе необходимо решать три главных вопроса экономики. Назовите эти вопросы и приведите три примера соответствующих решений этих вопросов в условиях рыночной экономики. (Каждый пример должен быть сформулирован развернуто).

27. Задание 27 № [1774](#)

Объясните, что имел в виду Йоганнес Бехер, утверждая: «Человек становится человеком только среди людей». (Приведите три суждения-объяснения.)

28. Задание 28 № [3381](#)

Используя обществоведческие знания, составьте сложный план, позволяющий раскрыть по существу тему «Экономическая свобода и социальная ответственность». План должен содержать не менее трёх пунктов, из которых два или более детализированы в подпунктах.

29. Задание 29 № 518

→ Выберите одно из предложенных ниже высказываний и на его основе напишите мини-сочинение.

Сформулируйте по своему усмотрению одну или несколько основных идей затронутой автором темы и раскройте её (их) с опорой на обществоведческие знания.

Для раскрытия сформулированной(-ых) Вами основной(-ых) идеи(-й) приведите рассуждения и выводы, используя обществоведческие знания (соответствующие понятия, теоретические положения).

Для иллюстрации сформулированных Вами основной(-ых) идеи(-й), теоретических положений, рассуждений и выводов приведите не менее двух социальных фактов/примеров из различных источников (общественной жизни (в том числе по сообщениям СМИ), личного социального опыта (включая в том числе прочитанные книги, просмотренные кинофильмы), из различных учебных предметов).

Каждый приводимый факт/пример должен быть сформулирован развернуто и подтверждать обозначенную основную идею, теоретическое положение, рассуждение или вывод/ быть с ними явно связан. По своему содержанию примеры не должны быть однотипными (не должны дублировать друг друга).

29.1 Философия: «Только тот постигает истину, кто внимательно изучает природу, людей и самого себя» (Н. Н. Пирогов).

29.2 Экономика: «Цены монополии во всех случаях являются самыми высокими из тех, которые можно выжать из покупателей» (А. Смит).

29.3 Социология, социальная психология: «Каждый хочет быть исключением из правил, и из этого правила нет исключения» (М. Форбс).

29.4 Политология: «Вся тайна политики состоит в том, чтобы знать время, когда солгать, и знать время, когда промолчать» (Маркиза де Помпадур).

29.5 Правоведение: «Чем развитее, зрелее и глубже правосознание, тем совершеннее право» (И. Л. Ильин).