

Всероссийская проверочная работа
по профильному учебному предмету «ХИМИЯ»
для обучающихся первых курсов по очной форме обучения по образовательным
программам среднего профессионального образования на базе основного общего
образования

Вариант 50126

Инструкция по выполнению работы

На выполнение работы по химии отводится 2 часа (120 минут). Работа включает в себя 22 задания.

Ответы на задания запишите в поля ответов в тексте работы. В случае записи неверного ответа зачеркните его и запишите рядом новый.

При выполнении работы разрешается использовать следующие дополнительные материалы:

- Периодическая система химических элементов Д.И. Менделеева;
- таблица растворимости кислот, солей и оснований в воде;
- ряд активности металлов / электрохимический ряд напряжений;
- непрограммируемый калькулятор.

При необходимости можно пользоваться черновиком. Записи в черновике проверяться и оцениваться не будут.

Советуем выполнять задания в том порядке, в котором они даны. Для экономии времени пропускайте задание, которое не удаётся выполнить сразу, и переходите к следующему. Если после выполнения всей работы у Вас останется время, то Вы сможете вернуться к пропущенным заданиям.

Баллы, полученные Вами за выполненные задания, суммируются. Постарайтесь выполнить как можно больше заданий и набрать наибольшее количество баллов.

Желаем успеха!

Таблица для внесения баллов участника

Номер задания	1	2	3	4	5	6	7	8	9	10	11	12	13	14	15	16
Баллы																
Номер задания	17	18	19	20	21	22	Сумма баллов	Отметка за работу								
Баллы																

Периодическая система химических элементов Д.И. Менделеева

		Г р у п п ы																		
		I	II	III	IV	V	VI	VII	VIII											
П е р и о д ы	1	H 1,008 Водород																He 4,00 Гелий		
	2	Li 6,94 Литий	4	Be 9,01 Бериллий	5	B 10,81 Бор	6	C 12,01 Углерод	7	N 14,00 Азот	8	O 16,00 Кислород	9	F 19,00 Фтор	10	Ne 20,18 Неон				
	3	Na 22,99 Натрий	12	Mg 24,31 Магний	13	Al 26,98 Алюминий	14	Si 28,09 Кремний	15	P 30,97 Фосфор	16	S 32,06 Сера	17	Cl 35,45 Хлор	18	Ar 39,95 Аргон				
	4	K 39,10 Калий	20	Ca 40,08 Кальций	21	Sc 44,96 Скандий	22	Ti 47,90 Титан	23	V 50,94 Ванадий	24	Cr 52,00 Хром	25	Mn 54,94 Марганец	26	Fe 55,85 Железо	27	Co 58,93 Кобальт	28	Ni 58,69 Никель
	5	Rb 85,47 Рубидий	30	Zn 65,39 Цинк	31	Ga 69,72 Галлий	32	Ge 72,59 Германий	33	As 74,92 Мышьяк	34	Se 78,96 Селен	35	Br 79,90 Бром	36	Kr 83,80 Криптон				
	6	Cs 132,91 Цезий	56	Ba 137,33 Барий	57	La * 138,91 Лантан	72	Hf 178,49 Гафний	73	Ta 180,95 Тантал	74	W 183,85 Вольфрам	75	Re 186,21 Рений	76	Os 190,2 Осмий	77	Ir 192,22 Иридий	78	Pt 195,08 Платина
	7	Fr [223] Франций	80	Hg 200,59 Ртуть	81	Tl 204,38 Таллий	82	Pb 207,2 Свинец	83	Bi 208,98 Висмут	84	Po [209] Полоний	85	At [210] Астат	86	Rn [222] Радон				
		Rg [280] Рентгений	112	Cn [285] Коперниций	113	Nh [286] Нихоний	114	Fl [289] Флеровий	115	Mc [290] Московский	116	Lv [293] Ливерморий	117	Ts [294] Теннесси	118	Og [294] Оганесон				

* Лантаноиды

58	Ce 140 Церий	59	Pr 141 Празеодим	60	Nd 144 Неодим	61	Pm [145] Прометий	62	Sm 150 Самарий	63	Eu 152 Европий	64	Gd 157 Гадолиний	65	Tb 159 Тербий	66	Dy 162,5 Диспрозий	67	Ho 165 Гольмий	68	Er 167 Эрбий	69	Tm 169 Тулий	70	Yb 173 Иттербий	71	Lu 175 Лютеций
----	------------------------	----	----------------------------	----	-------------------------	----	-----------------------------	----	--------------------------	----	--------------------------	----	----------------------------	----	-------------------------	----	------------------------------	----	--------------------------	----	------------------------	----	------------------------	----	---------------------------	----	--------------------------

** АКТИНОИДЫ

90	Th 232 Торий	91	Pa 231 Протактиний	92	U 238 Уран	93	Np 237 Нептуний	94	Pu [244] Плутоний	95	Am [243] Америций	96	Cm [247] Кюрий	97	Bk [247] Берклий	98	Cf [251] Калифорний	99	Es [252] Эйнштейний	100	Fm [257] Фермий	101	Md [258] Менделеевий	102	No [259] Нобелий	103	Lr [262] Лоуренсий
----	------------------------	----	------------------------------	----	----------------------	----	---------------------------	----	-----------------------------	----	-----------------------------	----	--------------------------	----	----------------------------	----	-------------------------------	----	-------------------------------	-----	---------------------------	-----	--------------------------------	-----	----------------------------	-----	------------------------------

РЯД АКТИВНОСТИ МЕТАЛЛОВ / ЭЛЕКТРОХИМИЧЕСКИЙ РЯД НАПРЯЖЕНИЙ

Li Rb K Ba Sr Ca Na Mg Al Mn Zn Cr Fe Cd Co Ni Sn Pb (H) Sb Bi Cu Hg Ag Pt Au



активность металлов уменьшается

РАСТВОРИМОСТЬ КИСЛОТ, СОЛЕЙ И ОСНОВАНИЙ В ВОДЕ

	H ⁺	Li ⁺	K ⁺	Na ⁺	NH ₄ ⁺	Ba ²⁺	Ca ²⁺	Mg ²⁺	Sr ²⁺	Al ³⁺	Cr ³⁺	Fe ²⁺	Fe ³⁺	Ni ²⁺	Co ²⁺	Mn ²⁺	Zn ²⁺	Ag ⁺	Hg ²⁺	Pb ²⁺	Sn ²⁺	Cu ²⁺	
OH ⁻		Р	Р	Р	Р	Р	М	Н	М	Н	Н	Н	Н	Н	Н	Н	Н	Н	-	-	Н	Н	Н
F ⁻	Р	М	Р	Р	Р	М	Н	Н	Н	М	Н	Н	Н	Р	Р	Р	Р	Р	Р	-	Н	Р	Р
Cl ⁻	Р	Р	Р	Р	Р	Р	Р	Р	Р	Р	Р	Р	Р	Р	Р	Р	Р	Р	Н	Р	М	Р	Р
Br ⁻	Р	Р	Р	Р	Р	Р	Р	Р	Р	Р	Р	Р	Р	Р	Р	Р	Р	Р	Н	М	М	Р	Р
I ⁻	Р	Р	Р	Р	Р	Р	Р	Р	Р	Р	?	Р	?	Р	Р	Р	Р	Р	Н	Н	Н	М	?
S ²⁻	Р	Р	Р	Р	Р	-	-	-	Н	-	-	Н	-	Н	Н	Н	Н	Н	Н	Н	Н	Н	Н
HS ⁻	Р	Р	Р	Р	Р	Р	Р	Р	Р	?	?	?	?	?	Н	?	?	?	?	?	?	?	?
SO ₃ ²⁻	Р	Р	Р	Р	Р	Н	Н	М	Н	?	-	Н	?	Н	Н	?	М	Н	Н	Н	Н	?	?
HSO ₃ ⁻	Р	?	Р	Р	Р	Р	Р	Р	Р	?	?	?	?	?	?	?	?	?	?	?	?	?	?
SO ₄ ²⁻	Р	Р	Р	Р	Р	Н	М	Р	Н	Р	Р	Р	Р	Р	Р	Р	Р	М	-	Н	Р	Р	
HSO ₄ ⁻	Р	Р	Р	Р	Р	?	?	?	-	?	?	?	?	?	?	?	?	?	?	?	?	?	?
NO ₃ ⁻	Р	Р	Р	Р	Р	Р	Р	Р	Р	Р	Р	Р	Р	Р	Р	Р	Р	Р	Р	Р	Р	-	Р
NO ₂ ⁻	Р	Р	Р	Р	Р	Р	Р	Р	Р	?	?	?	?	?	?	?	?	?	М	?	?	?	?
PO ₄ ³⁻	Р	Н	Р	Р	-	Н	Н	Н	Н	Н	Н	Н	Н	Н	Н	Н	Н	Н	Н	Н	Н	Н	Н
HPO ₄ ²⁻	Р	?	Р	Р	Р	Н	Н	М	Н	?	?	Н	?	?	?	?	?	?	?	?	М	Н	?
H ₂ PO ₄ ⁻	Р	Р	Р	Р	Р	Р	Р	Р	Р	?	?	Р	?	?	?	?	?	?	Р	?	-	?	?
CO ₃ ²⁻	Р	Р	Р	Р	Р	Н	Н	Н	Н	?	?	Н	-	Н	Н	Н	Н	Н	Н	Н	Н	?	Н
HCO ₃ ⁻	Р	Р	Р	Р	Р	Р	Р	Р	Р	?	?	Р	?	?	?	?	?	?	?	?	?	?	?
CH ₃ COO ⁻	Р	Р	Р	Р	Р	Р	Р	Р	Р	-	Р	Р	-	Р	Р	Р	Р	Р	Р	Р	Р	-	Р
SiO ₃ ²⁻	Н	Н	Р	Р	?	Н	Н	Н	Н	?	?	Н	?	?	?	?	Н	Н	?	?	Н	?	?

“Р” – растворяется (> 1 г на 100 г H₂O)

“М” – мало растворяется (от 0,1 г до 1 г на 100 г H₂O)

“Н” – не растворяется (меньше 0,01 г на 1000 г воды)

“-” – в водной среде разлагается

“?” – нет достоверных сведений о существовании соединений

1 Выберите два утверждения, в которых говорится о меди как о химическом элементе.

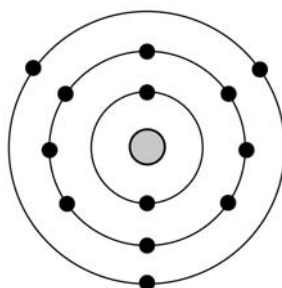
- 1) Оксид меди(I) более богат медью, чем оксид меди(II).
- 2) Медь устойчива к действию влаги.
- 3) Основным компонентом при получении бронзы является медь.
- 4) Медь реагирует с хлором и кислородом.
- 5) Медь входит в состав малахита.

Запишите номера выбранных ответов.

Ответ:

--	--

2 На приведённом рисунке изображена модель атома химического элемента.



Запишите в таблицу величину заряда ядра (X) атома химического элемента и номер периода (Y), в котором данный химический элемент расположен в Периодической системе Д.И. Менделеева. (Для записи ответа используйте арабские цифры.)

Ответ:

X	Y

3 Расположите химические элементы –

- 1) магний 2) кремний 3) алюминий

в порядке увеличения неметаллических свойств образуемых ими простых веществ. Запишите указанные номера элементов в соответствующем порядке.

Ответ:

	→		→	
--	---	--	---	--

4

Установите соответствие между формулой соединения и степенью окисления азота в этом соединении: к каждой позиции, обозначенной буквой, подберите соответствующую позицию, обозначенную цифрой.

ФОРМУЛА СОЕДИНЕНИЯ	СТЕПЕНЬ ОКИСЛЕНИЯ АЗОТА
А) NH_4F	1) +3
Б) N_2O_3	2) -3
В) NF_3	3) -4
	4) +4

Запишите в таблицу выбранные цифры под соответствующими буквами.

Ответ:

А	Б	В

5

Из предложенного перечня выберите два вещества с ковалентной полярной связью.

- 1) CaO
- 2) N_2
- 3) HF
- 4) P_4
- 5) CO

Запишите номера выбранных ответов.

Ответ.

--	--

6

Какие два утверждения верны для характеристики как углерода, так и кремния?

- 1) На внешнем энергетическом уровне в атоме находится четыре электрона.
- 2) Соответствующее простое вещество является металлом.
- 3) В соединениях проявляет только положительную степень окисления.
- 4) Значение электроотрицательности больше, чем у кислорода.
- 5) Химический элемент образует высший оксид состава ЭO_2 .

Запишите номера выбранных ответов.

Ответ.

--	--

7

Из предложенного перечня веществ выберите кислоту и кислотный оксид.

- 1) HNO_2
- 2) NaClO_3
- 3) CO
- 4) NH_4HSO_4
- 5) SO_2

Запишите в поле ответа сначала номер кислоты, а затем номер кислотного оксида.

Ответ.

--	--

8) Какие два из перечисленных веществ вступают в реакцию с магнием?

- 1) Na_2SO_4
- 2) H_2O
- 3) ZnCl_2
- 4) $\text{Ca}(\text{OH})_2$
- 5) K_2O

Запишите номера выбранных ответов.

Ответ:

--	--

9) Установите соответствие между реагирующими веществами и продуктами их взаимодействия: к каждой позиции, обозначенной буквой, подберите соответствующую позицию, обозначенную цифрой.

РЕАГИРУЮЩИЕ ВЕЩЕСТВА

- А) $\text{Fe}_2(\text{SO}_4)_3$ и BaCl_2
- Б) Fe и H_2SO_4 (разб.)
- В) Fe_2O_3 и H_2SO_4 (разб.)

ПРОДУКТЫ
ВЗАИМОДЕЙСТВИЯ

- 1) FeSO_4 и H_2O
- 2) $\text{Fe}_2(\text{SO}_4)_3$ и H_2O
- 3) FeCl_3 и BaSO_4
- 4) FeSO_4 и H_2
- 5) FeCl_2 и BaSO_4

Запишите в таблицу выбранные цифры под соответствующими буквами.

Ответ:

А	Б	В

10) Установите соответствие между веществом и реагентами, с каждым из которых оно может вступать в реакцию: к каждой позиции, обозначенной буквой, подберите соответствующую позицию, обозначенную цифрой.

ВЕЩЕСТВО

- А) Cl_2
- Б) MgO
- В) CuSO_4

РЕАГЕНТЫ

- 1) Na_3PO_4 , LiOH
- 2) Al , HBr
- 3) N_2 , NaCl
- 4) CO_2 , HNO_3 (р-р)

Запишите в таблицу выбранные цифры под соответствующими буквами.

Ответ:

А	Б	В

11

Из предложенного перечня выберите две пары веществ, между которыми протекает реакция замещения.

- 1) хлорид алюминия и калий
- 2) вода и оксид хлора(VII)
- 3) гидроксид алюминия и гидроксид натрия
- 4) серная кислота и цинк
- 5) железо и хлор

Запишите номера выбранных ответов.

Ответ.

12

Установите соответствие между реагирующими веществами и признаком протекающей между ними реакции: к каждой позиции, обозначенной буквой, подберите соответствующую позицию, обозначенную цифрой.

- РЕАГИРУЮЩИЕ ВЕЩЕСТВА
- А) K_2CO_3 (р-р) и HCl (р-р)
 - Б) K_2SiO_3 (р-р) и HCl (р-р)
 - В) $Ca(OH)_2$ (р-р) и HCl (р-р)

- ПРИЗНАК РЕАКЦИИ
- 1) выделение газа
 - 2) образование осадка
 - 3) растворение осадка
 - 4) видимые признаки реакции отсутствуют

Запишите в таблицу выбранные цифры под соответствующими буквами.

Ответ:

А	Б	В
<input type="text"/>	<input type="text"/>	<input type="text"/>

13

Укажите, какие ионы и в каком количестве образуются в растворе при полной диссоциации 1 моль сульфата железа(III).

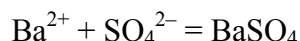
- 1) 1 моль Fe^{3+}
- 2) 2 моль Fe^{3+}
- 3) 3 моль Fe^{3+}
- 4) 1 моль SO_4^{2-}
- 5) 3 моль SO_4^{2-}

Запишите номера выбранных ответов.

Ответ.

14

Из предложенного перечня выберите названия двух веществ, взаимодействию которых в растворе соответствует сокращённое ионное уравнение реакции



- 1) барий
- 2) оксид бария
- 3) гидроксид бария
- 4) серная кислота
- 5) сульфат магния
- 6) сульфат калия

Запишите номера выбранных ответов.

Ответ.

--	--

15

Установите соответствие между схемой процесса, происходящего в окислительно-восстановительной реакции, и названием этого процесса: к каждой позиции, обозначенной буквой, подберите соответствующую позицию, обозначенную цифрой.

СХЕМА ПРОЦЕССА	НАЗВАНИЕ ПРОЦЕССА
А) $\text{P}^0 \rightarrow \text{P}^{+5}$	1) окисление
Б) $\text{Mn}^{+2} \rightarrow \text{Mn}^{+4}$	2) восстановление
В) $\text{Br}^{+1} \rightarrow \text{Br}^{-1}$	

Запишите в таблицу выбранные цифры под соответствующими буквами.

Ответ:

А	Б	В

16

Из перечисленных суждений о правилах работы с веществами и оборудованием в лаборатории и быту выберите верное(-ые) суждение(-я).

- 1) Запрещается переливать излишек взятого для проведения реакции вещества обратно в исходную ёмкость.
- 2) Для проведения реакций между растворами обычно используют мерный цилиндр.
- 3) Для нагревания реакционной смеси пробиркодержатель закрепляют в верхней части пробирки.
- 4) Все реакции с растворами кислот проводят в резиновых перчатках.

Запишите в поле ответа номер(а) верного(-ых) суждения(-й).

Ответ: _____.

17

Установите соответствие между двумя веществами и реактивом, с помощью которого можно различить эти вещества: к каждой позиции, обозначенной буквой, подберите соответствующую позицию, обозначенную цифрой.

ВЕЩЕСТВА

- А) K_2SO_4 и $NaCl$
Б) K_2SO_4 и $(NH_4)_2SO_4$
В) $AlCl_3$ и $BaBr_2$

РЕАКТИВ

- 1) Cu
2) $Ba(NO_3)_2$
3) $NaOH$
4) HNO_3

Запишите в таблицу выбранные цифры под соответствующими буквами.

Ответ:

А	Б	В

Задания 18 и 19 выполняются с использованием следующего текста.

Препараты фтора являются эффективными средствами профилактики кариеса зубов. Фторид алюминия (AlF_3) входит в состав лечебно-профилактических зубных паст. В 100 г фторированной зубной пасты содержится 10 г фторида алюминия.

18

Вычислите массовую долю (в процентах) фтора во фториде алюминия. Запишите число с точностью до целых.

Ответ: _____ %.

19

Определите массу (в граммах) фтора, который содержится в тюбике зубной пасты массой 150 г. Запишите число с точностью до целых.

Ответ: _____ г.

20

Используя метод электронного баланса, расставьте коэффициенты в уравнении реакции, схема которой



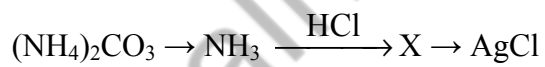
Определите окислитель и восстановитель.

Решение.



21

Дана схема превращений:



Напишите молекулярные уравнения реакций, с помощью которых можно осуществить указанные превращения. Для третьего превращения составьте сокращённое ионное уравнение реакции.

Решение.



22

После пропускания 4,4 г углекислого газа через 320 г раствора гидроксида калия получили раствор средней соли. Вычислите массовую долю щёлочи в исходном растворе.

В ответе запишите уравнение реакции, о которой идёт речь в условии задачи, и приведите все необходимые вычисления (указывайте единицы измерения искомых физических величин).

Решение.

Ответ: