

Всероссийская проверочная работа
по профильному учебному предмету «ХИМИЯ»
для обучающихся первых курсов по очной форме обучения по образовательным
программам среднего профессионального образования на базе основного общего
образования

Вариант 18108

Инструкция по выполнению работы

На выполнение работы по химии отводится 2 часа (120 минут). Работа включает в себя 22 задания.

Ответы на задания запишите в поля ответов в тексте работы. В случае записи неверного ответа зачеркните его и запишите рядом новый.

При выполнении работы разрешается использовать следующие дополнительные материалы:

- Периодическая система химических элементов Д.И. Менделеева;
- таблица растворимости кислот, солей и оснований в воде;
- ряд активности металлов / электрохимический ряд напряжений;
- непрограммируемый калькулятор.

При необходимости можно пользоваться черновиком. Записи в черновике проверяться и оцениваться не будут.

Советуем выполнять задания в том порядке, в котором они даны. Для экономии времени пропускайте задание, которое не удаётся выполнить сразу, и переходите к следующему. Если после выполнения всей работы у Вас останется время, то Вы сможете вернуться к пропущенным заданиям.

Баллы, полученные Вами за выполненные задания, суммируются. Постарайтесь выполнить как можно больше заданий и набрать наибольшее количество баллов.

Желаем успеха!

Таблица для внесения баллов участника

Номер задания	1	2	3	4	5	6	7	8	9	10	11	12	13	14	15	16
Баллы																
Номер задания	17	18	19	20	21	22	Сумма баллов	Отметка за работу								
Баллы																

Периодическая система химических элементов Д.И. Менделеева

		Г р у п п ы																	
		I	II	III	IV	V	VI	VII	VIII										
П е р и о д ы	1	H 1,008 Водород																He 4,00 Гелий	
	2	Li 6,94 Литий	Be 9,01 Бериллий	B 10,81 Бор	C 12,01 Углерод	N 14,00 Азот	O 16,00 Кислород	F 19,00 Фтор	Ne 20,18 Неон										
	3	Na 22,99 Натрий	Mg 24,31 Магний	Al 26,98 Алюминий	Si 28,09 Кремний	P 30,97 Фосфор	S 32,06 Сера	Cl 35,45 Хлор	Ar 39,95 Аргон										
	4	K 39,10 Калий	Ca 40,08 Кальций	Sc 44,96 Скандий	Ti 47,90 Титан	V 50,94 Ванадий	Cr 52,00 Хром	Mn 54,94 Марганец	Fe 55,85 Железо	Co 58,93 Кобальт	Ni 58,69 Никель								
	5	Cu 63,55 Медь	Zn 65,39 Цинк	Ga 69,72 Галлий	Ge 72,59 Германий	As 74,92 Мышьяк	Se 78,96 Селен	Br 79,90 Бром	Kr 83,80 Криптон										
	6	Rb 85,47 Рубидий	Sr 87,62 Стронций	Y 88,91 Итрий	Zr 91,22 Цирконий	Nb 92,91 Ниобий	Mo 95,94 Молибден	Tc 98,91 Технеций	Ru 101,07 Рутений	Rh 102,91 Родий	Pd 106,42 Палладий								
	7	Ag 107,87 Серебро	Cd 112,41 Кадмий	In 114,82 Индий	Sn 118,69 Олово	Sb 121,75 Сурьма	Te 127,60 Теллур	I 126,90 Йод	Xe 131,29 Ксенон										
	8	Cs 132,91 Цезий	Ba 137,33 Барий	La 138,91 Лантан	Hf 178,49 Гафний	Ta 180,95 Тантал	W 183,85 Вольфрам	Re 186,21 Рений	Os 190,2 Осмий	Ir 192,22 Иридий	Pt 195,08 Платина								
	9	Au 196,97 Золото	Hg 200,59 Ртуть	Tl 204,38 Таллий	Pb 207,2 Свинец	Bi 208,98 Висмут	Po [209] Полоний	At [210] Астат	Hs [269] Хассий	Mt [268] Мейтнерий	Ds [271] Дармштадтий								
	10	Rg [280] Рентгений	Cn [285] Коперниций	Nh [286] Нихоний	Fl [289] Флеровий	Mc [290] Московский	Lv [293] Ливерморий	Ts [294] Теннесси	Og [294] Оганесон										

* Лантаноиды

58	Ce 140 Церий	59	Pr 141 Празеодим	60	Nd 144 Неодим	61	Pm [145] Прометий	62	Sm 150 Самарий	63	Eu 152 Европий	64	Gd 157 Гадолиний	65	Tb 159 Тербий	66	Dy 162,5 Диспрозий	67	Ho 165 Гольмий	68	Er 167 Эрбий	69	Tm 169 Тулий	70	Yb 173 Иттербий	71	Lu 175 Лютеций
----	------------------------	----	----------------------------	----	-------------------------	----	-----------------------------	----	--------------------------	----	--------------------------	----	----------------------------	----	-------------------------	----	------------------------------	----	--------------------------	----	------------------------	----	------------------------	----	---------------------------	----	--------------------------

** АКТИНОИДЫ

90	Th 232 Торий	91	Pa 231 Протактиний	92	U 238 Уран	93	Np 237 Нептуний	94	Pu [244] Плутоний	95	Am [243] Америций	96	Cm [247] Кюрий	97	Bk [247] Берклий	98	Cf [251] Калифорний	99	Es [252] Эйнштейний	100	Fm [257] Фермий	101	Md [258] Менделеевий	102	No [259] Нобелий	103	Lr [262] Лоуренсий
----	------------------------	----	------------------------------	----	----------------------	----	---------------------------	----	-----------------------------	----	-----------------------------	----	--------------------------	----	----------------------------	----	-------------------------------	----	-------------------------------	-----	---------------------------	-----	--------------------------------	-----	----------------------------	-----	------------------------------

РЯД АКТИВНОСТИ МЕТАЛЛОВ / ЭЛЕКТРОХИМИЧЕСКИЙ РЯД НАПРЯЖЕНИЙ

Li Rb K Ba Sr Ca Na Mg Al Mn Zn Cr Fe Cd Co Ni Sn Pb (H) Sb Bi Cu Hg Ag Pt Au

↑
активность металлов уменьшается

РАСТВОРИМОСТЬ КИСЛОТ, СОЛЕЙ И ОСНОВАНИЙ В ВОДЕ

	H ⁺	Li ⁺	K ⁺	Na ⁺	NH ₄ ⁺	Ba ²⁺	Ca ²⁺	Mg ²⁺	Sr ²⁺	Al ³⁺	Cr ³⁺	Fe ²⁺	Fe ³⁺	Ni ²⁺	Co ²⁺	Mn ²⁺	Zn ²⁺	Ag ⁺	Hg ²⁺	Pb ²⁺	Sn ²⁺	Cu ²⁺	
OH ⁻		Р	Р	Р	Р	Р	М	Н	М	Н	Н	Н	Н	Н	Н	Н	Н	Н	-	-	Н	Н	Н
F ⁻	Р	М	Р	Р	Р	М	Н	Н	Н	М	Н	Н	Н	Р	Р	Р	Р	Р	Р	-	Н	Р	Р
Cl ⁻	Р	Р	Р	Р	Р	Р	Р	Р	Р	Р	Р	Р	Р	Р	Р	Р	Р	Р	Н	Р	М	Р	Р
Br ⁻	Р	Р	Р	Р	Р	Р	Р	Р	Р	Р	Р	Р	Р	Р	Р	Р	Р	Р	Н	М	М	Р	Р
I ⁻	Р	Р	Р	Р	Р	Р	Р	Р	Р	Р	?	Р	?	Р	Р	Р	Р	Р	Н	Н	Н	М	?
S ²⁻	Р	Р	Р	Р	Р	-	-	-	Н	-	-	Н	-	Н	Н	Н	Н	Н	Н	Н	Н	Н	Н
HS ⁻	Р	Р	Р	Р	Р	Р	Р	Р	Р	?	?	?	?	?	?	?	?	?	?	?	?	?	?
SO ₃ ²⁻	Р	Р	Р	Р	Р	Н	Н	М	Н	?	-	Н	?	Н	Н	?	М	Н	Н	Н	Н	?	?
HSO ₃ ⁻	Р	?	Р	Р	Р	Р	Р	Р	Р	?	?	?	?	?	?	?	?	?	?	?	?	?	?
SO ₄ ²⁻	Р	Р	Р	Р	Р	Н	М	Р	Н	Р	Р	Р	Р	Р	Р	Р	Р	М	М	-	Н	Р	Р
HSO ₄ ⁻	Р	Р	Р	Р	Р	?	?	?	-	?	?	?	?	?	?	?	?	?	?	?	?	?	?
NO ₃ ⁻	Р	Р	Р	Р	Р	Р	Р	Р	Р	Р	Р	Р	Р	Р	Р	Р	Р	Р	Р	Р	Р	-	Р
NO ₂ ⁻	Р	Р	Р	Р	Р	Р	Р	Р	Р	?	?	?	?	?	?	?	?	?	М	?	?	?	?
PO ₄ ³⁻	Р	Н	Р	Р	-	Н	Н	Н	Н	Н	Н	Н	Н	Н	Н	Н	Н	Н	Н	Н	Н	Н	Н
HPO ₄ ²⁻	Р	?	Р	Р	Р	Н	Н	М	Н	?	?	Н	?	?	?	?	?	?	?	?	М	Н	?
H ₂ PO ₄ ⁻	Р	Р	Р	Р	Р	Р	Р	Р	Р	?	?	Р	?	?	?	?	?	?	Р	?	-	?	?
CO ₃ ²⁻	Р	Р	Р	Р	Р	Н	Н	Н	Н	?	?	Н	-	Н	Н	Н	Н	Н	Н	Н	Н	?	Н
HCO ₃ ⁻	Р	Р	Р	Р	Р	Р	Р	Р	Р	?	?	Р	?	?	?	?	?	?	?	?	?	?	?
CH ₃ COO ⁻	Р	Р	Р	Р	Р	Р	Р	Р	Р	-	Р	Р	-	Р	Р	Р	Р	Р	Р	Р	Р	-	Р
SiO ₃ ²⁻	Н	Н	Р	Р	?	Н	Н	Н	Н	?	?	Н	?	?	?	?	?	?	?	?	?	?	?

“Р” – растворяется (> 1 г на 100 г H₂O)

“М” – мало растворяется (от 0,1 г до 1 г на 100 г H₂O)

“Н” – не растворяется (меньше 0,01 г на 1000 г воды)

“-” – в водной среде разлагается

“?” – нет достоверных сведений о существовании соединений

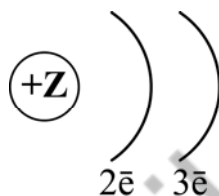
1 Выберите два утверждения, в которых говорится о меди как о простом веществе.

- 1) Соединения меди(I) – хорошие восстановители.
- 2) Важное свойство меди – её высокая электропроводность.
- 3) Медь обуславливает голубой цвет крови некоторых моллюсков.
- 4) Медь используют для получения бронзы.
- 5) Малахит содержит медь.

Запишите номера выбранных ответов.

Ответ:

2 На рисунке изображена схема распределения электронов по электронным слоям атома некоторого химического элемента.



Запишите в таблицу номер периода (X) и номер группы (Y), в которой данный химический элемент расположен в Периодической системе Д.И. Менделеева. (Для записи ответа используйте арабские цифры.)

Ответ:

X	Y

3 Расположите химические элементы –

- 1) фтор 2) иод 3) бром

в порядке увеличения их атомного радиуса.

Запишите указанные номера элементов в соответствующем порядке.

Ответ: → →

4

Установите соответствие между формулой вещества и степенью окисления фосфора в данном веществе: к каждой позиции, обозначенной буквой, подберите соответствующую позицию, обозначенную цифрой.

ФОРМУЛА ВЕЩЕСТВА

СТЕПЕНЬ ОКИСЛЕНИЯ
ФОСФОРА

- А) H_3PO_3
 Б) $(\text{NH}_4)_2\text{HPO}_4$
 В) Ca_3P_2

- 1) -3
 2) $+5$
 3) $+1$
 4) $+3$

Запишите в таблицу выбранные цифры под соответствующими буквами.

Ответ:

А	Б	В

5

Из предложенного перечня выберите два вещества, содержащие как ионную, так и ковалентную связь.

- 1) K_2SO_4
 2) NO
 3) H_3PO_4
 4) KOH
 5) H_2S

Запишите номера выбранных ответов.

Ответ.

--	--

6

Какие два утверждения верны для характеристики как хлора, так и кремния?

- 1) Соответствующее простое вещество газообразно при обычных условиях.
 2) Является неметаллом.
 3) Химический элемент проявляет как положительную, так и отрицательную степень окисления.
 4) Химический элемент **не образует** летучего водородного соединения.
 5) Высшая валентность этого элемента равна IV.

Запишите номера выбранных ответов.

Ответ.

--	--

7 Из предложенного перечня веществ выберите два основных оксида.

- 1) ZnO 2) MgO 3) Al₂O₃ 4) Li₂O 5) N₂O

Запишите номера выбранных ответов.

Ответ.

--	--

8 Какие два из перечисленных веществ вступают в реакцию с оксидом серы(VI)?

- 1) H₂O
2) CO₂
3) Ba(OH)₂
4) NaNO₃
5) O₂

Запишите номера выбранных ответов.

Ответ.

--	--

9 Установите соответствие между веществом(-ами) и продуктами химической реакции: к каждой позиции, обозначенной буквой, подберите соответствующую позицию, обозначенную цифрой.

ВЕЩЕСТВО(-А)	ПРОДУКТЫ РЕАКЦИИ
А) Ca(OH) ₂ и H ₂ SO ₄	1) FeO и H ₂ O
Б) Fe(OH) ₃ $\xrightarrow{t^\circ}$	2) CaSO ₄ и H ₂ O
В) CaO и H ₂ SO ₄	3) CaSO ₄ и H ₂
	4) Fe ₂ O ₃ и H ₂ O
	5) CaSO ₃ и H ₂ O

Запишите в таблицу выбранные цифры под соответствующими буквами.

Ответ:

А	Б	В

10

Установите соответствие между веществом и реагентами, с каждым из которых оно может вступать в реакцию: к каждой позиции, обозначенной буквой, подберите соответствующую позицию, обозначенную цифрой.

ВЕЩЕСТВО

- А) хлор
Б) гидроксид бария
В) оксид серы(IV)

РЕАГЕНТЫ

- 1) Fe, KBr
2) O₂, Ca(OH)₂
3) HCl, Na₂SO₄
4) Cu, CuCl₂

Запишите в таблицу выбранные цифры под соответствующими буквами.

Ответ:

А	Б	В

11

Из предложенного перечня выберите две пары веществ, между которыми протекает реакция обмена.

- 1) фосфор и кислород
2) нитрат железа(II) и гидроксид калия
3) оксид железа(II) и водород
4) алюминий и гидроксид натрия
5) хлорид аммония и нитрат серебра

Запишите номера выбранных ответов.

Ответ.

--	--

12

Установите соответствие между реагирующими веществами и признаком протекающей между ними реакции: к каждой позиции, обозначенной буквой, подберите соответствующую позицию, обозначенную цифрой.

РЕАГИРУЮЩИЕ ВЕЩЕСТВА

- А) AlCl₃ и AgNO₃
Б) MgCl₂ и K₂CO₃
В) CuSO₄ и KOH

ПРИЗНАК РЕАКЦИИ

- 1) выпадение голубого осадка
2) выпадение бурого осадка
3) выпадение белого осадка
4) выделение бесцветного газа

Запишите в таблицу выбранные цифры под соответствующими буквами.

Ответ:

А	Б	В

13

При полной диссоциации 1 моль каких двух из представленных веществ образуется 2 моль анионов?

- 1) карбонат аммония
- 2) нитрат кальция
- 3) фосфат натрия
- 4) хлорид меди(II)
- 5) сульфат железа(II)

Запишите номера выбранных ответов.

Ответ.

--	--

14

Выберите два исходных вещества, взаимодействию которых соответствует сокращённое ионное уравнение реакции



- 1) FePO_4
- 2) H_2O_2
- 3) $\text{Fe}_2(\text{SO}_4)_3$
- 4) $\text{Fe}(\text{OH})_2$
- 5) NaOH
- 6) $\text{Zn}(\text{OH})_2$

Запишите номера выбранных ответов.

Ответ.

--	--

15

Установите соответствие между схемой процесса, происходящего в окислительно-восстановительной реакции, и названием этого процесса: к каждой позиции, обозначенной буквой, подберите соответствующую позицию, обозначенную цифрой.

СХЕМА ПРОЦЕССА

- А) $\text{N}^{+5} \rightarrow \text{N}^{-3}$
- Б) $\text{Mn}^{+4} \rightarrow \text{Mn}^{+6}$
- В) $\text{O}_2^0 \rightarrow 2\text{O}^{-2}$

НАЗВАНИЕ ПРОЦЕССА

- 1) окисление
- 2) восстановление

Запишите в таблицу выбранные цифры под соответствующими буквами.

Ответ:

А	Б	В

16

Из перечисленных суждений о правилах работы с веществами и оборудованием в лаборатории выберите верное(-ые) суждение(-я).

- 1) В лаборатории разрешается брать руками твёрдые реактивы.
- 2) Для проведения всех опытов с раствором соляной кислоты обязательно использование защитных перчаток.
- 3) Запрещено использовать реактивы, хранящиеся в склянках без надписей.
- 4) Работать с водородом в лаборатории можно только с использованием вытяжного шкафа.

Запишите в поле ответа номер(а) верного(-ых) суждения(-й).

Ответ: _____.

17

Установите соответствие между двумя веществами, взятыми в виде водных растворов, и реактивом, с помощью которого можно различить эти вещества: к каждой позиции, обозначенной буквой, подберите соответствующую позицию, обозначенную цифрой.

ВЕЩЕСТВА

РЕАКТИВ

А) KCl и NH_3 1) HI Б) $Al(NO_3)_3$ и KNO_3 2) Na_3PO_4 В) $BaBr_2$ и Na_2SO_4

3) фенолфталеин

4) HNO_3 (разб.)

Запишите в таблицу выбранные цифры под соответствующими буквами.

Ответ:

А	Б	В

Задания 18 и 19 выполняются с использованием следующего текста.

Кальций – один из важнейших макроэлементов, необходимый для всех живых организмов. Для восполнения недостатка кальция в организме человека рекомендован приём витаминно-минеральных комплексов, содержащих карбонат кальция ($CaCO_3$). При некоторых заболеваниях необходим ежедневный приём 500 мг кальция в составе витаминно-минеральных комплексов.

18

Вычислите массовую долю (в процентах) кальция в карбонате кальция. Запишите число с точностью до целых.

Ответ: _____ %.

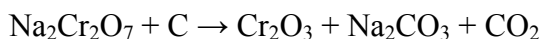
19

Вычислите массу карбоната кальция (в миллиграммах), которую должна содержать одна таблетка витаминно-минерального комплекса, если рекомендован приём двух таблеток в сутки. Запишите число с точностью до целых.

Ответ: _____ мг.

20

Используя метод электронного баланса, расставьте коэффициенты в уравнении реакции, схема которой



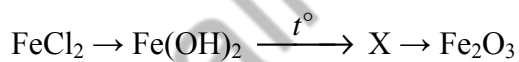
Определите окислитель и восстановитель.

Решение.



21

Дана схема превращений:



Напишите молекулярные уравнения реакций, с помощью которых можно осуществить указанные превращения. Для первого превращения составьте сокращённое ионное уравнение реакции.

Решение.



22

К 134 г раствора с массовой долей хлорида меди(II) 2% добавили избыток раствора нитрата серебра. Определите массу выпавшего осадка.

В ответе запишите уравнение реакции, о которой идёт речь в условии задачи, и приведите все необходимые вычисления (указывайте единицы измерения искомых физических величин).

Решение.

Ответ: