

Всероссийская проверочная работа
по профильному учебному предмету «ИНФОРМАТИКА»
для обучающихся первых курсов по очной форме обучения по образовательным
программам среднего профессионального образования на базе основного общего
образования

Вариант 26200

Инструкция по выполнению работы

На выполнение работы по информатике отводится 2 часа 30 минут (150 минут). Работа включает в себя 15 заданий.

Ответы на задания 1–12 запишите в поля ответов в тексте работы. В случае записи неверного ответа зачеркните его и запишите рядом новый.

Результатом выполнения каждого из заданий 13–15 является отдельный файл. Формат файла, его имя и каталог для сохранения Вам сообщат организаторы.

При выполнении работы не разрешается пользоваться учебником, рабочими тетрадями и другими справочными материалами.

При необходимости можно пользоваться черновиком. Записи в черновике проверяться и оцениваться не будут.

Советуем выполнять задания в том порядке, в котором они даны. В целях экономии времени пропускайте задание, которое не удаётся выполнить сразу, и переходите к следующему. Если после выполнения всей работы у Вас останется время, то Вы сможете вернуться к пропущенным заданиям.

Баллы, полученные Вами за выполненные задания, суммируются. Постарайтесь выполнить как можно больше заданий и набрать наибольшее количество баллов.

Желаем успеха!

Таблица для внесения баллов участника

Номер задания	1	2	3	4	5	6	7	8	9	10	11	12	13	14	15	Сумма баллов	Отметка за работу
Баллы																	

- 1 В кодировке КОИ-8 каждый символ кодируется 8 битами.
Вова написал текст (в нём нет лишних пробелов):

«Лук, репа, горох, свёкла, морковь, кукуруза, картофель, топинамбур – овощи».

Ученик вычеркнул из списка название одного овоща. Заодно он вычеркнул ставшие лишними запятую и пробел – два пробела не должны идти подряд.

При этом размер нового предложения в данной кодировке оказался на 7 байт меньше, чем размер исходного предложения. Напишите в ответе вычеркнутое название овоща.

Ответ: _____.

- 2 От разведчика была получена следующая шифрованная радиграмма, переданная с использованием азбуки Морзе.

--- • - - - - - • • • - - - • - -

При передаче радиграммы было потеряно разбиение на буквы, но известно, что в радиграмме использовались только следующие буквы.

А	Г	М	К	Ю
• -	- - •	- -	- • -	• • - -

Определите текст радиграммы.

В ответе запишите получившееся слово (набор букв).

Ответ: _____.

- 3 Напишите наибольшее трёхзначное число x , для которого ИСТИННО высказывание:
НЕ (Первая цифра нечётная) **И НЕ** (x делится на 3).

Ответ: _____.

4

Между населёнными пунктами А, В, С, D, Е построены дороги, протяжённость которых (в километрах) приведена в таблице.

	А	В	С	D	Е
А		2	3	4	
В	2		1	5	2
С	3	1			5
D	4	5			7
Е		2	5	7	

Определите длину кратчайшего пути между пунктами А и Е. Передвигаться можно только по дорогам, протяжённость которых указана в таблице. Каждый пункт можно посетить только один раз.

Ответ: _____.

5

У исполнителя Вычислитель две команды, которым присвоены номера:

1. прибавь 3

2. умножь на 3

Первая из них увеличивает число на экране на 3, вторая утраивает его.

Составьте алгоритм получения из числа 1 числа 48, содержащий не более пяти команд.

В ответе запишите только номера команд.

(Например, 21211 – это алгоритм:

умножь на 3

прибавь 3

умножь на 3

прибавь 3

прибавь 3,

который преобразует число 2 в число 33.)

Если таких алгоритмов более одного, то запишите любой из них.

Ответ: _____.

6

Ниже приведена программа, записанная на пяти языках программирования.

Алгоритмический язык	Паскаль
<pre> алг нач цел s, t, A ввод s ввод t ввод A если s > A или t > 11 то вывод "YES" иначе вывод "NO" все кон </pre>	<pre> var s, t, A: integer; begin readln(s); readln(t); readln(A); if (s > A) or (t > 11) then writeln("YES") else writeln("NO") end. </pre>
Бейсик	Python
<pre> DIM s, t, A AS INTEGER INPUT s INPUT t INPUT A IF s > A OR t > 11 THEN PRINT "YES" ELSE PRINT "NO" ENDIF </pre>	<pre> s = int(input()) t = int(input()) A = int(input()) if (s > A) or (t > 11): print("YES") else: print("NO") </pre>
C++	
<pre> #include <iostream> using namespace std; int main(){ int s, t, A; cin >> s; cin >> t; cin >> A; if (s > A) or (t > 11) cout << "YES" << endl; else cout << "NO" << endl; return 0; } </pre>	

Было проведено 9 запусков программы, при которых в качестве значений переменных s и t вводились следующие пары чисел:

(-9, 11); (2, 7); (5, 12); (2, -2); (7, -9); (12, 6); (9, -1); (7, 11); (11, -5).

Укажите количество целых значений параметра A , при которых для указанных входных данных программа напечатает «NO» три раза.

Ответ: _____.

7

Доступ к файлу **hello.ppt**, находящемуся на сервере **message.org**, осуществляется по протоколу **http**. Фрагменты адреса файла закодированы цифрами от 1 до 7. Запишите последовательность этих цифр, кодирующую адрес указанного файла в сети Интернет.

- 1) /
- 2) hello
- 3) org
- 4) message.
- 5) .ppt
- 6) ://
- 7) http

Ответ: _____.

8

В языке запросов поискового сервера для обозначения логической операции «ИЛИ» используется символ «|», а для обозначения логической операции «И» – символ «&».

В таблице приведены запросы и количество найденных по ним страниц некоторого сегмента сети Интернет.

Запрос	Найдено страниц (в тысячах)
<i>Сатурн Нептун</i>	3200
<i>Нептун</i>	1700
<i>Сатурн & Нептун</i>	800

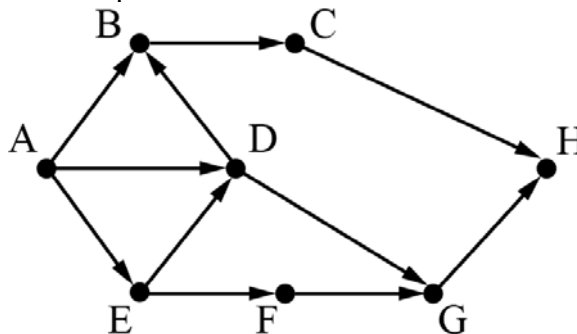
Какое количество страниц (в тысячах) будет найдено по запросу *Сатурн*?

Считается, что все запросы выполнялись практически одновременно, так что набор страниц, содержащих все искомые слова, не изменялся за время выполнения запросов.

Ответ: _____.

9

На рисунке – схема дорог, связывающих города А, В, С, D, E, F, G, H. По каждой дороге можно двигаться только в одном направлении, указанном стрелкой. Сколько существует различных путей из города А в город H?



Ответ: _____.

10 Переведите двоичное число 1101011 в десятичную систему счисления.

Ответ: _____.

Задания этой части (11–15) выполняются на компьютере. Ответами к заданиям 11, 12 являются слово или число, которые следует записать в поле ответа в тексте работы. Результатом выполнения заданий 13–15 является отдельный файл (для одного задания – один файл). Формат файла, его имя и каталог для сохранения Вам сообщат организаторы.

11 В одном из произведений А.П. Чехова, текст которого приведён в подкаталоге каталога **Проза**, присутствует эпизод, в котором щенок «взятый приучаться», услышал выстрел и поджал хвост. С помощью поисковых средств операционной системы и текстового редактора выясните кличку этого щенка.

Ответ: _____.

12 Сколько файлов с расширением htm, объёмом менее 51 200 байт каждый, содержится в подкаталогах каталога **ДЕМО-12**? В ответе укажите только число.

Ответ: _____.

Выберите ОДНО из предложенных ниже заданий: 13.1 или 13.2.

13.1

Используя информацию и иллюстративный материал, содержащийся в каталоге ЗАДАНИЕ 13, создайте презентацию из **трёх** слайдов на тему «Черника». В презентации должны содержаться краткие иллюстрированные сведения о растении и пример его использования в кулинарии. Все слайды должны быть выполнены в едином стиле, каждый слайд должен быть озаглавлен.

Презентацию сохраните в файле, имя которого Вам сообщат организаторы экзамена.

Требования к оформлению презентации

1. Ровно три слайда без анимации. Параметры страницы (слайда): экран (16:9), ориентация альбомная.

2. Содержание, структура, форматирование шрифта и размещение изображений на слайдах:

- первый слайд – титульный слайд с названием презентации, в подзаголовке титульного слайда в качестве информации об авторе презентации указывается идентификационный номер участника экзамена;

- второй слайд – основная информация в соответствии с заданием, размещённая по образцу на рисунке макета слайда 2:


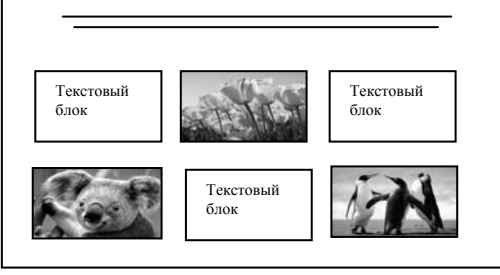
- заголовок слайда;
- два блока текста;
- два изображения;

- третий слайд – дополнительная информация по теме презентации, размещённая по образцу на рисунке макета слайда 3:

- заголовок слайда;
- три изображения;
- три блока текста.

На макетах слайдов существенным является наличие всех объектов, их взаимное расположение. Выравнивание объектов, ориентация изображений выполняются произвольно в соответствии с замыслом автора работы и служат наилучшему раскрытию темы.

<div style="border: 1px solid black; padding: 10px; margin: 0 auto; width: 80%;"> <div style="border: 1px solid black; padding: 5px; margin-bottom: 10px; width: 80%; text-align: center;">Название презентации</div> <div style="border: 1px solid black; padding: 5px; margin: 0 auto; width: 60%; text-align: center;">Информация об авторе</div> </div>	<p>Макет слайда 1 Тема презентации</p>
---	--

	Макет слайда 2 Основная информация по теме презентации
	Макет слайда 3 Дополнительная информация по теме презентации

В презентации должен использоваться единый тип шрифта.

Размер шрифта: для названия презентации на титульном слайде – 40 пунктов; для подзаголовка на титульном слайде и заголовков слайдов – 24 пункта; для подзаголовков на слайдах 2 и 3 и для основного текста – 20 пунктов.

Текст не должен перекрывать основные изображения или сливаться с фоном.

13.2

Создайте в текстовом редакторе документ и напишите в нём следующий текст, точно воспроизведя всё оформление текста, имеющееся в образце.

Данный текст должен быть набран шрифтом размером 14 пунктов обычного начертания. Отступ первой строки первого абзаца основного текста – 1 см. Расстояние между строками текста не менее высоты одинарного, но не более полуторного междустрочного интервала. Основной текст выровнен по ширине; заголовок и текст в ячейках второго столбца таблицы – по центру. Текст в ячейках первого столбца таблицы выровнен по левому краю. В основном тексте и таблице есть слова, выделенные полужирным шрифтом и курсивом или подчёркиванием. Ширина таблицы меньше ширины основного текста. Таблица выровнена на странице по центру.

При этом допустимо, чтобы ширина Вашего текста отличалась от ширины текста в примере, поскольку ширина текста зависит от размеров страницы и полей. В этом случае разбиение текста на строки должно соответствовать стандартной ширине абзаца.

Интервал между текстом и таблицей не менее 12 пунктов, но не более 24 пунктов.

Текст сохраните в файле, имя которого Вам сообщат организаторы.

КРЫЖОВЕННОЕ ВАРЕНЬЕ

<i>Ингредиенты</i>	<i>Количество</i>
Ягоды крыжовника	1 кг
Сахар	1,5 кг
Вода	500 мл
Вишнёвые листья	30 шт.

Для варенья лучше взять незрелые, зелёные ягоды *крыжовника*. Очищенные ягоды промыть и уложить в таз, перекладывая их вишнёвыми листьями. Залить крыжовник с листьями холодной водой и оставить на 5–6 часов. Приготовить сироп. Ягоды с листьями отбросить на дуршлаг и опустить в кипящий сироп. Варить 5 минут. Отсудить. Повторить процедуру 5-минутной варки 4–5 раз. Готовое варенье быстро охладить.

14

В электронную таблицу занесли информацию о грузоперевозках, совершённых некоторым автопредприятием с 1 по 9 октября. Ниже приведены первые пять строк таблицы.

	А	В	С	Д	Е	Ф
1	Дата	Пункт отправления	Пункт назначения	Расстояние	Расход бензина	Масса груза
2	1 октября	Липки	Берёзки	432	63	770
3	1 октября	Орехово	Дубки	121	17	670
4	1 октября	Осинки	Вязово	333	47	830
5	1 октября	Липки	Вязово	384	54	730

Каждая строка таблицы содержит запись об одной перевозке.

В столбце А записана дата перевозки (от «1 октября» до «9 октября»); в столбце В – название населённого пункта отправления перевозки; в столбце С – название населённого пункта назначения перевозки; в столбце Д – расстояние, на которое была осуществлена перевозка (в километрах); в столбце Е – расход бензина на всю перевозку (в литрах); в столбце F – масса перевезённого груза (в килограммах).

Всего в электронную таблицу были занесены данные по 370 перевозкам в хронологическом порядке.

Выполните задание.

Откройте файл с данной электронной таблицей (расположение файла Вам сообщат организаторы экзамена). На основании данных, содержащихся в этой таблице, выполните задания.

1. Какой суммарный расход бензина был при осуществлении перевозок со 2 по 4 октября? Ответ на этот вопрос запишите в ячейку Н2 таблицы.
2. Какова средняя масса груза при автоперевозках, осуществлённых в город Дубки? Ответ на этот вопрос запишите в ячейку Н3 таблицы с точностью не менее одного знака после запятой.
3. Постройте круговую диаграмму, отображающую соотношение количества перевозок в города Берёзки, Буково, Вязово. Левый верхний угол диаграммы разместите вблизи ячейки G6. В поле диаграммы должны присутствовать легенда (обозначение, какой сектор диаграммы соответствует каким данным) и числовые значения данных, по которым построена диаграмма.

Полученную таблицу необходимо сохранить под именем, указанным организаторами экзамена.

Выберите ОДНО из предложенных ниже заданий: 15.1 или 15.2.

15.1

Исполнитель Робот умеет перемещаться по лабиринту, начерченному на плоскости, разбитой на клетки. Между соседними (по сторонам) клетками может стоять стена, через которую Робот пройти не может.

У Робота есть девять команд. Четыре команды – это команды-приказы:

вверх вниз влево вправо

При выполнении любой из этих команд Робот перемещается на одну клетку соответственно: вверх ↑, вниз ↓, влево ←, вправо →. Если Робот получит команду передвижения сквозь стену, то он разрушится.

Также у Робота есть команда **закрасить**, при которой закрашивается клетка, в которой Робот находится в настоящий момент.

Ещё четыре команды – это команды проверки условий. Эти команды проверяют, свободен ли путь для Робота в каждом из четырёх возможных направлений:

сверху свободно снизу свободно слева свободно справа свободно

Эти команды можно использовать вместе с условием «если», имеющим следующий вид:

если условие то

последовательность команд

все

Здесь *условие* – одна из команд проверки условия.

Последовательность команд – это одна или несколько любых команд-приказов.

Например, для передвижения на одну клетку вправо, если справа нет стенки и закрашивания клетки, можно использовать такой алгоритм:

если справа свободно то

вправо

закрасить

все

В одном условии можно использовать несколько команд проверки условий, применяя логические связки **и**, **или**, **не**, например:

если (справа свободно) и (не снизу свободно) то

вправо

все

Для повторения последовательности команд можно использовать цикл «пока», имеющий следующий вид:

нц пока условие

последовательность команд

кц

Например, для движения вправо, пока это возможно, можно использовать следующий алгоритм:


нц пока справа свободно

вправо


кц

Выполните задание

Робот находится в правой клетке узкого горизонтального коридора. Ширина коридора – одна клетка, **длина коридора может быть произвольной**. Возможный вариант начального расположения Робота приведён на рисунке (Робот обозначен буквой «Р»):



Напишите для Робота алгоритм, закрашивающий все клетки внутри коридора и возвращающий Робота в исходную позицию. Например, для приведённого выше рисунка Робот должен закрасить следующие клетки (см. рисунок):



Алгоритм должен решать задачу для произвольного конечного размера коридора. При исполнении алгоритма Робот не должен разрушиться.

Алгоритм может быть выполнен в среде формального исполнителя или записан в текстовом редакторе.

Сохраните алгоритм в формате программы Кумир или в текстовом файле. Название файла и каталог для сохранения Вам сообщат организаторы экзамена.

15.2

Напишите программу для решения следующей задачи.

Ученики 4 класса вели дневники наблюдения за погодой и ежедневно записывали дневную температуру. Найдите самую низкую температуру за время наблюдения. Если температура опускалась ниже -15 градусов, выведите YES, иначе выведите NO.

Программа получает на вход количество дней, в течение которых проводилось измерение температуры N ($1 \leq N \leq 31$), затем для каждого дня вводится температура.

Пример работы программы:

Входные данные	Выходные данные
4 -5 12 -2 8	-5 NO