

Всероссийская проверочная работа
по профильному учебному предмету «МАТЕМАТИКА»
для обучающихся по программам среднего профессионального образования,
завершивших в предыдущем учебном году освоение общеобразовательных предметов,
проходящих обучение по очной форме на базе основного общего образования.

Вариант 81656

Инструкция по выполнению работы

На выполнение работы по математике отводится 2 часа (120 минут). Работа включает в себя 15 заданий.

Ответы на задания запишите в поля ответов в тексте работы. В случае записи неверного ответа зачеркните его и запишите рядом новый.

При выполнении работы не разрешается пользоваться учебниками, рабочими тетрадями, справочниками, калькулятором.

При необходимости можно пользоваться черновиком. Записи в черновике проверяться и оцениваться не будут.

Советуем выполнять задания в том порядке, в котором они даны. Для экономии времени пропускайте задание, которое не удаётся выполнить сразу, и переходите к следующему. Если после выполнения всей работы у Вас останется время, то Вы сможете вернуться к пропущенным заданиям.

Баллы, полученные Вами за выполненные задания, суммируются. Постарайтесь выполнить как можно больше заданий и набрать наибольшее количество баллов.

Желаем успеха!

Таблица для внесения баллов участника

Номер задания	1	2	3	4	5	6	7	8	9	10	11	12	13	14	15	Сумма баллов	Отметка за работу
Баллы																	

1 Найдите значение выражения $4,2 \cdot 3,5 : 0,7$.

Ответ: _____.

2 Налог на доходы составляет 13% от заработной платы. Заработная плата Ивана Кузьмича равна 14 000 рублей. Какую сумму он получит после уплаты налога на доходы? Ответ дайте в рублях.

Ответ: _____.

3 Перевести температуру из шкалы Фаренгейта в шкалу Цельсия позволяет формула $t_C = \frac{5}{9}(t_F - 32)$, где t_C — температура в градусах по шкале Цельсия, t_F — температура в градусах по шкале Фаренгейта. Скольким градусам по шкале Цельсия соответствует 59 градусов по шкале Фаренгейта?

Ответ: _____.

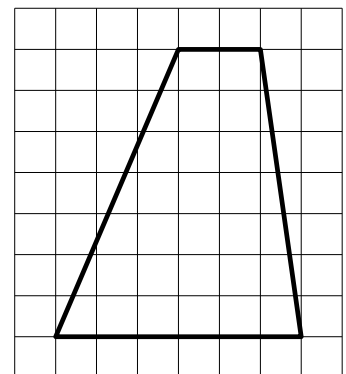
4 Найдите $\sin \alpha$, если $\cos \alpha = -\frac{\sqrt{15}}{4}$ и $180^\circ < \alpha < 270^\circ$.

Ответ: _____.

5 В доме, в котором живёт Петя, один подъезд. На каждом этаже по шесть квартир. Петя живёт в квартире № 69. На каком этаже живёт Петя?

Ответ: _____.

6 На клетчатой бумаге с размером клетки 1×1 изображена трапеция. Найдите длину средней линии этой трапеции.



Ответ: _____.

7

Для обслуживания международного семинара необходимо собрать группу переводчиков. Сведения о кандидатах представлены в таблице.

Номер переводчика	Языки	Стоимость услуг (руб. в день)
1	Английский	3900
2	Испанский, английский	7050
3	Немецкий	2850
4	Немецкий, испанский	6150
5	Немецкий, французский	5800
6	Французский	1900

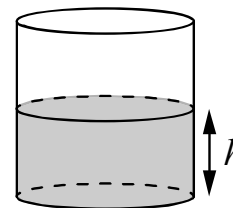
Пользуясь таблицей, соберите хотя бы одну группу, в которой переводчики вместе владеют всеми четырьмя языками: английским, немецким, испанским и французским, а суммарная стоимость их услуг не превышает 12 000 рублей в день.

В ответе укажите какой-нибудь один набор номеров переводчиков без пробелов, запятых и других дополнительных символов.

Ответ: _____.

8

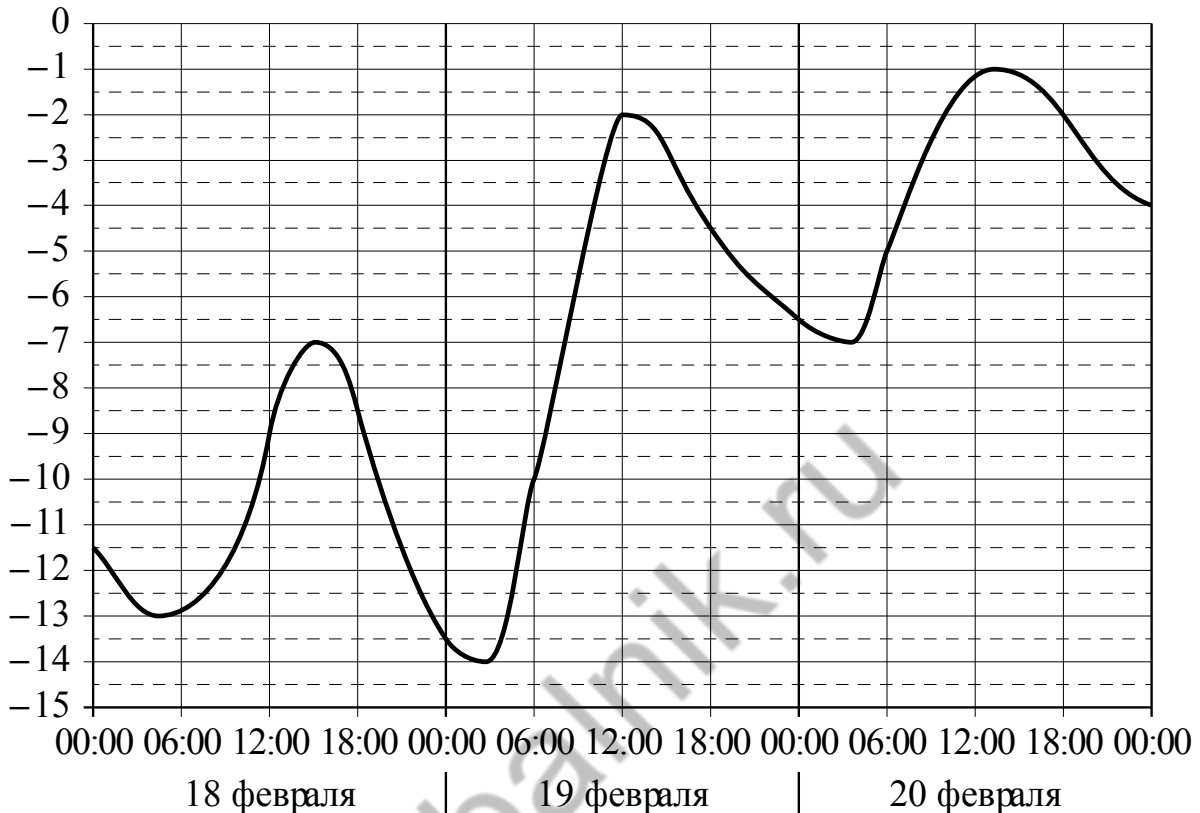
Вода в сосуде цилиндрической формы находится на уровне $h = 90$ см. На каком уровне окажется вода, если её перелить в другой цилиндрический сосуд, у которого радиус основания втрое больше, чем у данного? Ответ дайте в сантиметрах.



Ответ: _____.

9

На рисунке показано изменение температуры воздуха на протяжении трёх суток. По горизонтали указывается дата и время, по вертикали — значение температуры в градусах Цельсия. Определите по рисунку наибольшую температуру воздуха 20 февраля. Ответ дайте в градусах Цельсия.



Ответ: _____.

10

В некоторый момент температура воздуха в Москве была равна 3°C . В этот же момент в Архангельске было на 4°C холоднее, чем в Москве, а в Махачкале на 3°C теплее, чем в Москве. Выберите все утверждения, которые были верны в этот момент при указанных условиях.

- 1) В Москве было теплее, чем в Махачкале.
- 2) В любом городе, помимо указанных, в котором было теплее, чем в Архангельске, также было теплее, чем в Москве.
- 3) В любом городе, помимо указанных, в котором было теплее, чем в Махачкале, также было теплее, чем в Москве.
- 4) В Махачкале было теплее, чем в Архангельске.

В ответе запишите номера выбранных утверждений без пробелов, запятых и других дополнительных символов.

Ответ: _____.

11

На конференцию приехали учёные из трёх стран: 3 из Испании, 5 из Швеции и 7 из Венгрии. Каждый из них делает на конференции один доклад. Порядок докладов определяется жеребьёвкой. Найдите вероятность того, что третьим окажется доклад учёного из Испании.

Ответ: _____.

12

Найдите корень уравнения $\left(\frac{1}{4}\right)^{x-8} = 64$.

Ответ: _____.

13

Число m равно $\sqrt{0,15}$.

Каждому из четырёх чисел в левом столбце соответствует отрезок, которому оно принадлежит. Установите соответствие между числами и отрезками из правого столбца.

ЧИСЛА

ОТРЕЗКИ

А) $-\frac{1}{m}$

Б) m^2

В) $4m$

Г) $m-1$

1) $[-3; -2]$

2) $[-1; 0]$

3) $[0; 1]$

4) $[1; 2]$

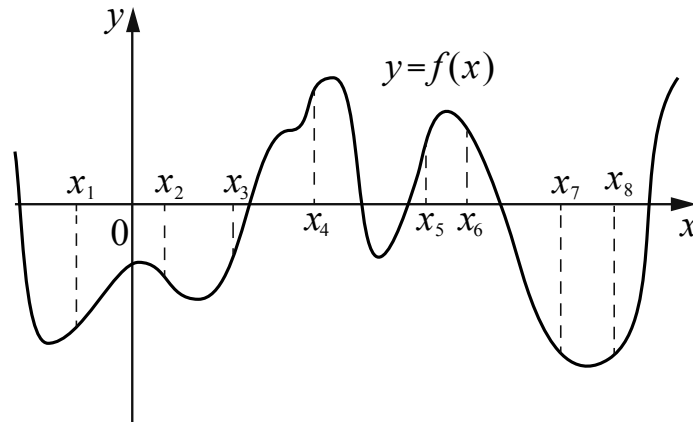
Впишите в приведённую в ответе таблицу под каждой буквой соответствующий отрезку номер.

Ответ:

А	Б	В	Г

14

На рисунке изображён график функции $y = f(x)$. На оси абсцисс отмечено восемь точек: $x_1, x_2, x_3, x_4, x_5, x_6, x_7, x_8$. В ответе укажите количество точек (из отмеченных), в которых производная функции $f(x)$ положительна.



Ответ: _____.

15

Расстояние между городами А и В равно 390 км. Из города А в город В выехал первый автомобиль, а через два часа после этого навстречу ему из города В выехал со скоростью 75 км/ч второй автомобиль. Найдите скорость первого автомобиля, если автомобили встретились на расстоянии 240 км от города А. Ответ дайте в км/ч.

Ответ: _____.

Логин ОО

Система оценивания проверочной работы

Правильный ответ на каждое из заданий 1–15 оценивается 1 баллом. Задание считается выполненным верно, если обучающийся дал правильный ответ в виде целого числа, или конечной десятичной дроби, или последовательности цифр.

Номер задания	Правильный ответ
1	21
2	12180
3	15
4	-0,25
5	12
6	4
7	146;164;416;461;614;641;236;263;326;362;623;632
8	10
9	-1
10	34
11	0,2
12	5
13	1342
14	5
15	60

Система оценивания выполнения всей работы

Максимальный балл за выполнение работы – 15.

Рекомендации по переводу первичных баллов в отметки по пятибалльной шкале

Отметка по пятибалльной шкале	«2»	«3»	«4»	«5»
Первичные баллы	0–5	6–9	10–12	13–15