

Всероссийская проверочная работа
по профильному учебному предмету «МАТЕМАТИКА»
для обучающихся по программам среднего профессионального образования,
завершивших в предыдущем учебном году освоение общеобразовательных предметов,
проходящих обучение по очной форме на базе основного общего образования.

Вариант 42839

Инструкция по выполнению работы

На выполнение работы по математике отводится 2 часа (120 минут). Работа включает в себя 15 заданий.

Ответы на задания запишите в поля ответов в тексте работы. В случае записи неверного ответа зачеркните его и запишите рядом новый.

При выполнении работы не разрешается пользоваться учебниками, рабочими тетрадями, справочниками, калькулятором.

При необходимости можно пользоваться черновиком. Записи в черновике проверяться и оцениваться не будут.

Советуем выполнять задания в том порядке, в котором они даны. Для экономии времени пропускайте задание, которое не удаётся выполнить сразу, и переходите к следующему. Если после выполнения всей работы у Вас останется время, то Вы сможете вернуться к пропущенным заданиям.

Баллы, полученные Вами за выполненные задания, суммируются. Постарайтесь выполнить как можно больше заданий и набрать наибольшее количество баллов.

Желаем успеха!

Таблица для внесения баллов участника

Номер задания	1	2	3	4	5	6	7	8	9	10	11	12	13	14	15	Сумма баллов	Отметка за работу
Баллы																	

1 Найдите значение выражения $\frac{49}{15} : \left(\frac{5}{6} + \frac{4}{5}\right)$.

Ответ: _____.

2 В городе 60 000 жителей, причём 35% — это пенсионеры. Сколько пенсионеров в этом городе?

Ответ: _____.

3 Площадь треугольника можно вычислить по формуле $S = \frac{abc}{4R}$, где a , b и c — стороны треугольника, а R — радиус окружности, описанной около этого треугольника. Пользуясь этой формулой, найдите площадь S , если $a = 16$, $b = 25$, $c = 39$ и $R = \frac{65}{2}$.

Ответ: _____.

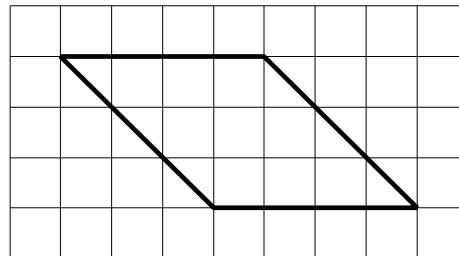
4 Найдите значение выражения $\frac{\sqrt{48}}{\sqrt{3}}$.

Ответ: _____.

5 Мотоциклист проехал 14 километров за 21 минуту. Сколько километров он проедет за 30 минут, если будет ехать с той же скоростью?

Ответ: _____.

6 На клетчатой бумаге с размером клетки 1×1 изображён параллелограмм. Найдите его площадь.



Ответ: _____.

7

В таблице приведены данные о шести чемоданах.

Номер чемодана	Длина (см)	Высота (см)	Ширина (см)	Масса (кг)
1	105	54	42	25
2	78	68	56	24
3	98	67	45	25,5
4	83	62	50	21
5	94	69	45	22
6	101	59	42	19

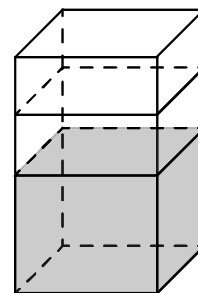
По правилам авиакомпании сумма трёх измерений (длина, высота, ширина) чемодана, сдаваемого в багаж, не должна превышать 203 см, а масса не должна быть больше 23 кг. Какие чемоданы можно сдать в багаж по правилам этой авиакомпании?

В ответе укажите номера всех выбранных чемоданов без пробелов, запятых и других дополнительных символов.

Ответ: _____.

8

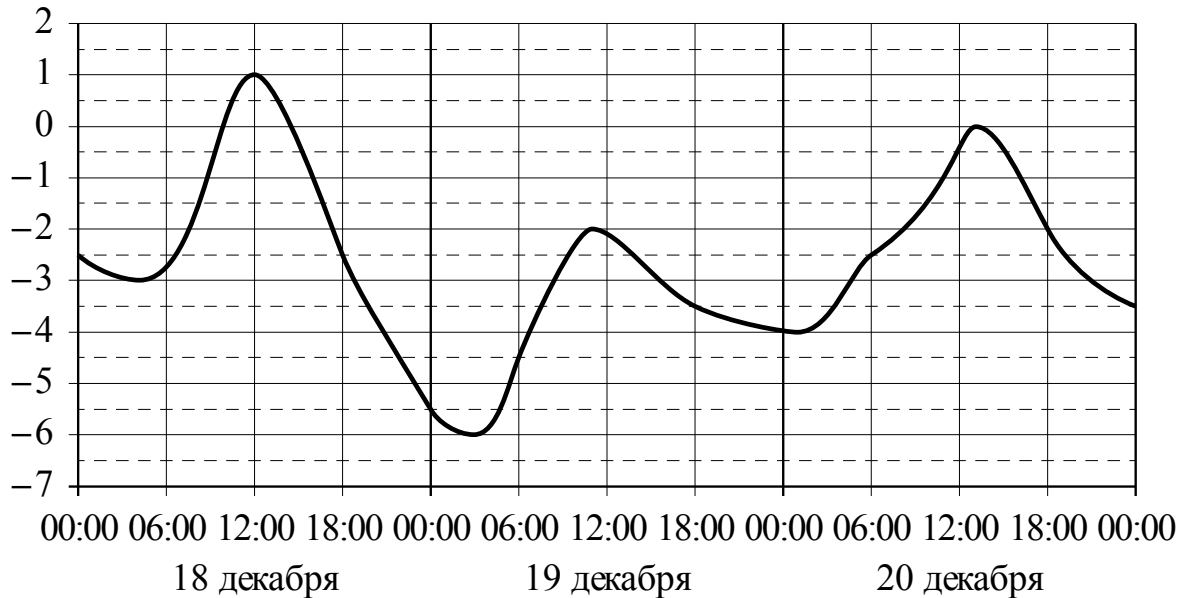
В бак, имеющий форму правильной четырёхугольной призмы, налито 5 л воды. После полного погружения в воду детали уровень воды в баке увеличился в 1,4 раза. Найдите объём детали. Ответ дайте в кубических сантиметрах, зная, что в одном литре 1000 кубических сантиметров.



Ответ: _____.

9

На рисунке показано изменение температуры воздуха на протяжении трёх суток. По горизонтали указывается дата и время, по вертикали — значение температуры в градусах Цельсия. Определите по рисунку разность между наибольшей и наименьшей температурами воздуха 18 декабря. Ответ дайте в градусах Цельсия.



Ответ: _____.

10

Когда учитель физики Николай Дмитриевич ведёт урок, он обязательно отключает свой телефон. Выберите все утверждения, которые верны при приведённом условии.

- 1) Если телефон Николая Дмитриевича включён, значит, он не ведёт урок.
- 2) Если телефон Николая Дмитриевича включён, значит, он ведёт урок.
- 3) Если Николай Дмитриевич проводит на уроке лабораторную работу по физике, значит, его телефон выключен.
- 4) Если Николай Дмитриевич ведёт урок физики, значит, его телефон включён.

В ответе запишите номера выбранных утверждений без пробелов, запятых и других дополнительных символов.

Ответ: _____.

11

Из районного центра в деревню ежедневно ходит автобус. Вероятность того, что в понедельник в автобусе окажется меньше 23 пассажиров, равна 0,87. Вероятность того, что окажется меньше 14 пассажиров, равна 0,61. Найдите вероятность того, что число пассажиров будет от 14 до 22 включительно.

Ответ: _____.

12

Найдите корень уравнения $2^{x-3} = \frac{1}{16}$.

Ответ: _____.

13

Каждому из четырёх неравенств в левом столбце соответствует одно из решений в правом столбце. Установите соответствие между неравенствами и их решениями.

НЕРАВЕНСТВА

- А) $\log_5 x > 1$
 Б) $\log_5 x < -1$
 В) $\log_5 x < 1$
 Г) $\log_5 x > -1$

РЕШЕНИЯ

- 1) $0 < x < \frac{1}{5}$
 2) $x > 5$
 3) $x > \frac{1}{5}$
 4) $0 < x < 5$

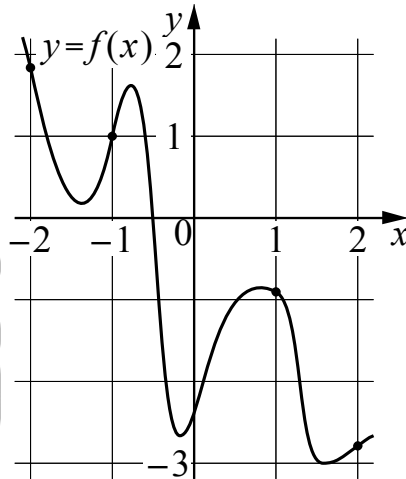
Впишите в приведённую в ответе таблицу под каждой буквой соответствующий решению номер.

Ответ:

А	Б	В	Г

14

На рисунке изображён график функции $y = f(x)$. На оси абсцисс отмечены точки -2 , -1 , 1 , 2 . В какой из этих точек значение производной наибольшее? В ответе укажите эту точку.



Ответ: _____.

15

Первая труба наполняет резервуар на 13 минут дольше, чем вторая. Обе трубы, работая одновременно, наполняют этот же резервуар за 42 минуты. За сколько минут наполняет этот резервуар одна вторая труба?

Ответ: _____.

Логин ОО

Система оценивания проверочной работы

Правильный ответ на каждое из заданий 1–15 оценивается 1 баллом. Задание считается выполненным верно, если обучающийся дал правильный ответ в виде целого числа, или конечной десятичной дроби, или последовательности цифр.

Номер задания	Правильный ответ
1	2
2	21000
3	120
4	4
5	20
6	12
7	46; 64
8	2000
9	6,5
10	13
11	0,26
12	-1
13	2143
14	-1
15	78

Система оценивания выполнения всей работы

Максимальный балл за выполнение работы – 15.

Рекомендации по переводу первичных баллов в отметки по пятибалльной шкале

Отметка по пятибалльной шкале	«2»	«3»	«4»	«5»
Первичные баллы	0–5	6–9	10–12	13–15