

Всероссийская проверочная работа
по профильному учебному предмету «МАТЕМАТИКА»
для обучающихся по программам среднего профессионального образования,
завершивших в предыдущем учебном году освоение общеобразовательных предметов,
проходящих обучение по очной форме на базе основного общего образования.

Вариант 14764

Инструкция по выполнению работы

На выполнение работы по математике отводится 2 часа (120 минут). Работа включает в себя 15 заданий.

Ответы на задания запишите в поля ответов в тексте работы. В случае записи неверного ответа зачеркните его и запишите рядом новый.

При выполнении работы не разрешается пользоваться учебниками, рабочими тетрадями, справочниками, калькулятором.

При необходимости можно пользоваться черновиком. Записи в черновике проверяться и оцениваться не будут.

Советуем выполнять задания в том порядке, в котором они даны. Для экономии времени пропускайте задание, которое не удаётся выполнить сразу, и переходите к следующему. Если после выполнения всей работы у Вас останется время, то Вы сможете вернуться к пропущенным заданиям.

Баллы, полученные Вами за выполненные задания, суммируются. Постарайтесь выполнить как можно больше заданий и набрать наибольшее количество баллов.

Желаем успеха!

Таблица для внесения баллов участника

Номер задания	1	2	3	4	5	6	7	8	9	10	11	12	13	14	15	Сумма баллов	Отметка за работу
Баллы																	

1 Найдите значение выражения $\left(\frac{7}{25} + \frac{1}{5}\right) : \frac{3}{50}$.

Ответ: _____.

2 Налог на доходы составляет 13% от заработной платы. Заработная плата Ивана Кузьмича равна 15 000 рублей. Какую сумму он получит после уплаты налога на доходы? Ответ дайте в рублях.

Ответ: _____.

3 Мощность постоянного тока (в ваттах) вычисляется по формуле $P = \frac{U^2}{R}$, где U — напряжение (в вольтах), R — сопротивление (в омах). Пользуясь этой формулой, найдите P (в ваттах), если $R = 7$ Ом и $U = 14$ В.

Ответ: _____.

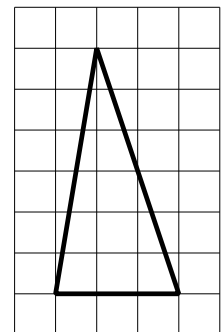
4 Найдите значение выражения $\frac{\sqrt{147}}{\sqrt{3}}$.

Ответ: _____.

5 Стоимость проездного билета на месяц составляет 690 рублей, а стоимость билета на одну поездку — 26 рублей. Аня купила проездной и сделала за месяц 35 поездок. На сколько рублей больше она бы потратила, если бы покупала билеты на одну поездку?

Ответ: _____.

6 На клетчатой бумаге с размером клетки 1×1 изображён треугольник. Найдите его площадь.



Ответ: _____.

7

Для обслуживания международного семинара необходимо собрать группу переводчиков. Сведения о кандидатах представлены в таблице.

Номер переводчика	Языки	Стоимость услуг (руб. в день)
1	Французский, английский	6100
2	Французский, немецкий	5800
3	Французский	2850
4	Испанский	3900
5	Английский, испанский	7100
6	Немецкий	2000

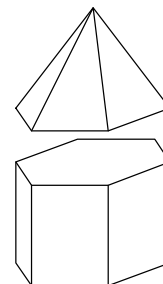
Пользуясь таблицей, соберите хотя бы одну группу, в которой переводчики вместе владеют всеми четырьмя языками: английским, немецким, испанским и французским, а суммарная стоимость их услуг не превышает 12 000 рублей в день.

В ответе укажите какой-нибудь один набор номеров переводчиков без пробелов, запятых и других дополнительных символов.

Ответ: _____.

8

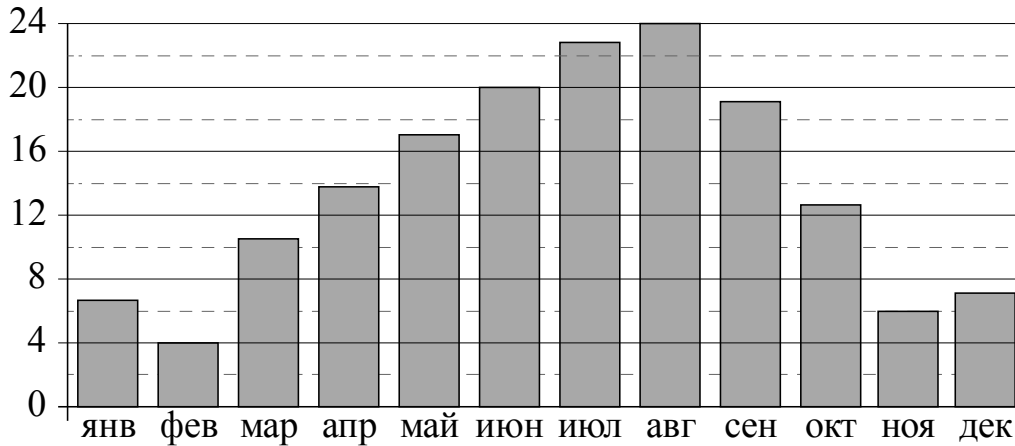
К правильной шестиугольной призме со стороной основания, равной 1, приклеили правильную шестиугольную пирамиду со стороной основания, равной 1, так, что основания совпали. Сколько граней у получившегося многогранника (невидимые рёбра на рисунке не изображены)?



Ответ: _____.

9

На диаграмме показана среднемесячная температура воздуха в Сочи за каждый месяц 1920 года. По горизонтали указываются месяцы, по вертикали — температура в градусах Цельсия. Определите по приведённой диаграмме наименьшую среднемесячную температуру во второй половине 1920 года. Ответ дайте в градусах Цельсия.



Ответ: _____.

10

Каждый раз, когда Надя приезжает в деревню к бабушке в гости, бабушка заплетает ей косички. Также Надя заплетает себе косички всегда, когда идёт на физкультуру. Выберите утверждения, которые верны при приведённых условиях.

- 1) Каждый раз, когда у Нади заплетены косички, она находится в деревне.
- 2) Если Надя без косичек, значит, она не у бабушки в гостях.
- 3) Если Надя без косичек, значит, сегодня физкультура.
- 4) Когда Надя сдаёт норматив по бегу на физкультуре, она с косичками.

В ответе запишите номера выбранных утверждений без пробелов, запятых и других дополнительных символов.

Ответ: _____.

11

В чемпионате по гимнастике участвуют 25 спортсменок: 6 из Венгрии, 7 из Румынии, остальные из Болгарии. Порядок, в котором выступают гимнастки, определяется жребием. Найдите вероятность того, что спортсменка, выступающая первой, окажется из Болгарии.

Ответ: _____.

12

Найдите корень уравнения $2^{-4-x}=16$.

Ответ: _____.

13

Каждому из четырёх неравенств в левом столбце соответствует одно из решений в правом столбце. Установите соответствие между неравенствами и их решениями.

НЕРАВЕНСТВА

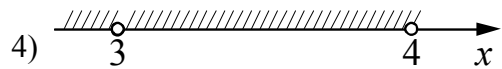
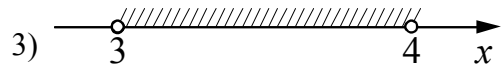
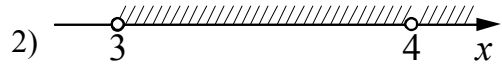

А) $(x-3)(x-4) < 0$

Б) $\frac{x-3}{x-4} > 0$

В) $(x-3)^2(x-4) < 0$

Г) $\frac{(x-4)^2}{x-3} > 0$

РЕШЕНИЯ



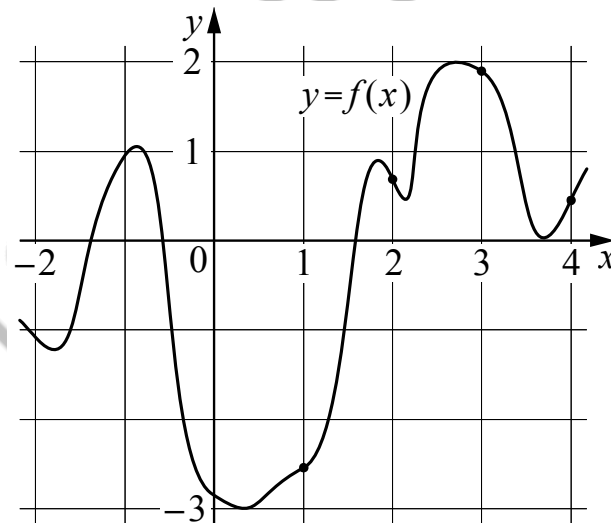
Впишите в приведённую в ответе таблицу под каждой буквой соответствующий решению номер.

Ответ:

А	Б	В	Г

14

На рисунке изображён график функции $y = f(x)$. На оси абсцисс отмечены точки 1, 2, 3, 4. В какой из этих точек значение производной функции $f(x)$ наименьшее? В ответе укажите эту точку.



Ответ: _____.

15

Два велосипедиста одновременно отправились в 120-километровый пробег. Первый ехал со скоростью, на 7 км/ч большей, чем скорость второго, и прибыл к финишу на 7 часов раньше второго. Найдите скорость велосипедиста, пришедшего к финишу вторым. Ответ дайте в км/ч.

Ответ: _____.

Логин ОО

Система оценивания проверочной работы

Правильный ответ на каждое из заданий 1–15 оценивается 1 баллом. Задание считается выполненным верно, если обучающийся дал правильный ответ в виде целого числа, или конечной десятичной дроби, или последовательности цифр.

Номер задания	Правильный ответ
1	8
2	13050
3	28
4	7
5	220
6	9
7	146;164;416;461;614;641;356;365;536;563;635;653
8	13
9	6
10	24
11	0,48
12	-8
13	3142
14	2
15	8

Система оценивания выполнения всей работы

Максимальный балл за выполнение работы – 15.

Рекомендации по переводу первичных баллов в отметки по пятибалльной шкале

Отметка по пятибалльной шкале	«2»	«3»	«4»	«5»
Первичные баллы	0–5	6–9	10–12	13–15