

Всероссийская проверочная работа
по профильному учебному предмету «МАТЕМАТИКА»
для обучающихся первых курсов по очной форме обучения по образовательным
программам среднего профессионального образования на базе основного общего
образования

Вариант 44270

Инструкция по выполнению работы

На выполнение работы по математике отводится 2 часа (120 минут). Работа включает в себя 15 заданий.

Ответы на задания запишите в поля ответов в тексте работы. В случае записи неверного ответа зачеркните его и запишите рядом новый.

При выполнении работы не разрешается пользоваться учебниками, рабочими тетрадями, справочниками, калькулятором.

При необходимости можно пользоваться черновиком. Записи в черновике проверяться и оцениваться не будут.

Советуем выполнять задания в том порядке, в котором они даны. Для экономии времени пропускайте задание, которое не удаётся выполнить сразу, и переходите к следующему. Если после выполнения всей работы у Вас останется время, то Вы сможете вернуться к пропущенным заданиям.

Баллы, полученные Вами за выполненные задания, суммируются. Постарайтесь выполнить как можно больше заданий и набрать наибольшее количество баллов.

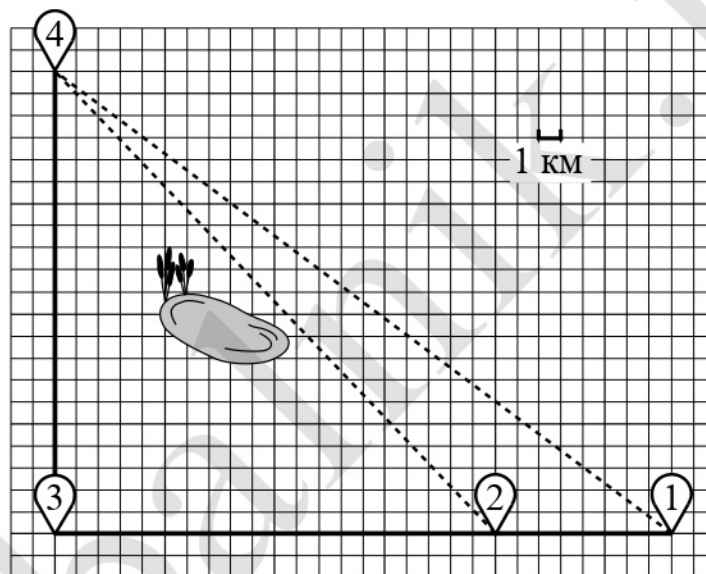
Желаем успеха!

Таблица для внесения баллов участника

Номер задания	1	2	3	4	5	6	7	8	9	10	11	12	13	14	15	Сумма баллов	Отметка за работу
Баллы																	

Прочитайте внимательно текст и выполните задания 1–5.

Ваня летом отдыхает у дедушки в деревне Дивная. В пятницу они собираются съездить на велосипедах в село Ольгино в библиотеку. Из деревни Дивная в село Ольгино можно проехать по прямой лесной дорожке. Есть более длинный путь: по прямолинейному шоссе до села Ровное через деревню Калиновка, где нужно повернуть под прямым углом направо на другое шоссе, ведущее в село Ольгино. Есть и третий маршрут: в деревне Калиновка можно свернуть на прямую тропинку в село Ольгино, которая идёт мимо пруда. Лесная дорожка и тропинка образуют с шоссе прямоугольные треугольники.



По шоссе Ваня с дедушкой едут со скоростью 15 км/ч, а по лесной дорожке и тропинке — со скоростью 10 км/ч. На плане изображено взаимное расположение населённых пунктов, длина стороны каждой клетки равна 1 км.

1

Пользуясь описанием, определите, какими цифрами на плане обозначены населённые пункты.

Запишите в таблицу цифры под названиями соответствующих населённых пунктов.

Насел. пункты	с. Ровное	д. Калиновка	д. Дивная
Цифры			

2

Сколько километров проедут Ваня с дедушкой от деревни Дивная до села Ольгино, если они поедут по шоссе через село Ровное?

Ответ: _____.

3

Найдите расстояние от деревни Дивная до села Ольгино по прямой. Ответ дайте в километрах.

Ответ: _____.

4

Сколько минут затратят на дорогу из деревни Дивная в село Ольгино Ваня с дедушкой, если они поедут сначала по шоссе, а затем свернут в Калиновке на прямую тропинку, которая проходит мимо пруда?

Ответ: _____.

5


В таблице указана стоимость (в рублях) некоторых продуктов в четырёх магазинах, расположенных в селе Ольгино, деревне Дивная, селе Ровное и деревне Калиновка.

Наименование продукта	с. Ольгино	д. Дивная	с. Ровное	д. Калиновка
Молоко (1 л)	35	32	38	36
Хлеб (1 батон)	25	22	19	20
Сыр «Российский» (1 кг)	230	270	250	300
Говядина (1 кг)	370	420	380	350
Картофель (1 кг)	17	18	19	22

Ваня с дедушкой хотят купить 4 л молока, 2 батона хлеба и 1 кг сыра «Российский». В каком магазине такой набор продуктов будет стоить дешевле всего? В ответ запишите стоимость этого набора в этом магазине.

Ответ: _____.

- 6) На координатной прямой точки A , B , C и D соответствуют числам $-0,032$; $0,023$; $0,302$; $-0,203$.



Какой точке соответствует число $-0,203$?

- 1) A 2) B 3) C 4) D

Ответ:

- 7) В среднем из 50 карманных фонариков, поступивших в продажу, семь неисправных. Найдите вероятность того, что выбранный наудачу в магазине фонарик окажется исправен.

Ответ: _____.

- 8) На рисунках изображены графики функций вида $y = ax^2 + bx + c$. Установите соответствие между знаками коэффициентов a и c и графиками функций.

КОЭФФИЦИЕНТЫ

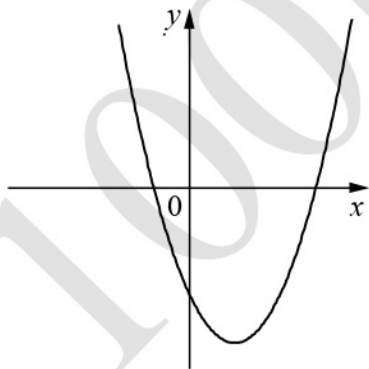
А) $a > 0, c < 0$

Б) $a > 0, c > 0$

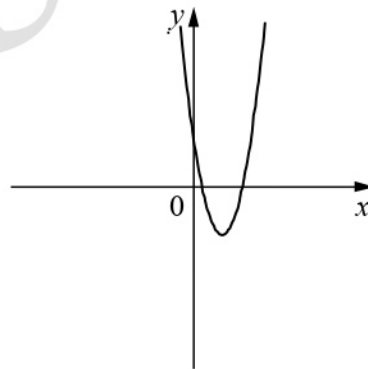
В) $a < 0, c > 0$

ГРАФИКИ

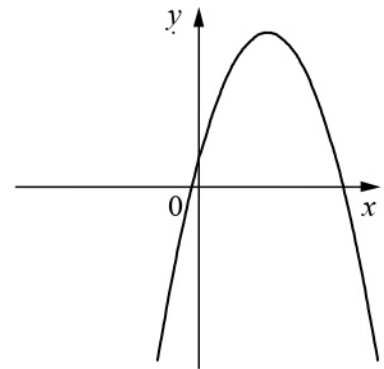
1)



2)



3)



В таблице под каждой буквой укажите соответствующий номер.

Ответ:

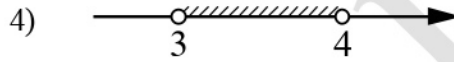
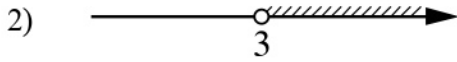
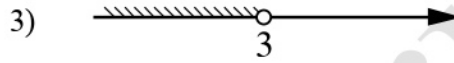
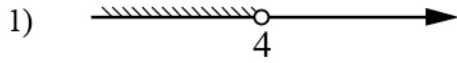
А	Б	В

- 9) Мощность постоянного тока (в ваттах) вычисляется по формуле $P = I^2 R$, где I — сила тока (в амперах), R — сопротивление (в омах). Пользуясь этой формулой, найдите сопротивление R , если мощность составляет 150 Вт, а сила тока равна 5 А. Ответ дайте в омах.

Ответ: _____.

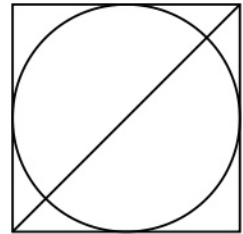
10) Укажите решение системы неравенств

$$\begin{cases} -9 + 3x < 0, \\ 2 - 3x > -10. \end{cases}$$




Ответ.

11) Радиус вписанной в квадрат окружности равен $8\sqrt{2}$. Найдите диагональ этого квадрата.



Ответ: _____.

12) Диагональ прямоугольника образует угол 63° с одной из его сторон. Найдите острый угол между диагоналями этого прямоугольника. Ответ дайте в градусах.



Ответ: _____.

13

Свежие фрукты содержат 79% воды, а высушенные — 16%. Сколько требуется свежих фруктов для приготовления 72 кг высушенных фруктов?

Решение.

Ответ:

14

Постройте график функции

$$y = \frac{(x^2 + x) \cdot |x|}{x + 1}.$$

Определите, при каких значениях m прямая $y = m$ не имеет с графиком ни одной общей точки.

Решение.

Ответ:

15

Биссектриса угла A параллелограмма $ABCD$ пересекает сторону BC в точке K . Найдите периметр параллелограмма, если $BK = 8$, $CK = 13$.

Решение.

Ответ: