

**Всероссийская проверочная работа**  
**по профильному учебному предмету «МАТЕМАТИКА»**  
**для обучающихся первых курсов по очной форме обучения по образовательным**  
**программам среднего профессионального образования на базе основного общего**  
**образования**

**Вариант 19928**

**Инструкция по выполнению работы**

На выполнение работы по математике отводится 2 часа (120 минут). Работа включает в себя 15 заданий.

Ответы на задания запишите в поля ответов в тексте работы. В случае записи неверного ответа зачеркните его и запишите рядом новый.

При выполнении работы не разрешается пользоваться учебниками, рабочими тетрадями, справочниками, калькулятором.

При необходимости можно пользоваться черновиком. Записи в черновике проверяться и оцениваться не будут.

Советуем выполнять задания в том порядке, в котором они даны. Для экономии времени пропускайте задание, которое не удаётся выполнить сразу, и переходите к следующему. Если после выполнения всей работы у Вас останется время, то Вы сможете вернуться к пропущенным заданиям.

Баллы, полученные Вами за выполненные задания, суммируются. Постарайтесь выполнить как можно больше заданий и набрать наибольшее количество баллов.

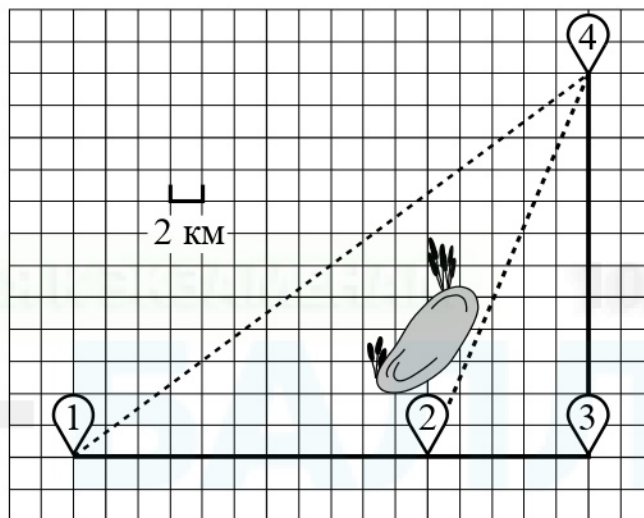
***Желаем успеха!***

*Таблица для внесения баллов участника*

Номер задания	1	2	3	4	5	6	7	8	9	10	11	12	13	14	15	Сумма баллов	Отметка за работу
Баллы																	

**Прочитайте внимательно текст и выполните задания 1–5.**

Полина летом отдыхает у бабушки в деревне Ясная. В четверг они собираются съездить на велосипедах в село Майское в магазин. Из деревни Ясная в село Майское можно проехать по прямой лесной дорожке. Есть более длинный путь: по прямолинейному шоссе через деревню Камышёвка до деревни Хомяково, где нужно повернуть под прямым углом налево на другое шоссе, ведущее в село Майское. Есть и третий маршрут: в деревне Камышёвка можно свернуть на прямую тропинку в село Майское, которая идёт мимо пруда. Лесная дорожка и тропинка образуют с шоссе прямоугольные треугольники.



По шоссе Полина с бабушкой едут со скоростью 20 км/ч, а по лесной дорожке и тропинке — со скоростью 15 км/ч. На плане изображено взаимное расположение населённых пунктов, длина стороны каждой клетки равна 2 км.

1

Пользуясь описанием, определите, какими цифрами на плане обозначены населённые пункты.

Запишите в таблицу цифры под названиями соответствующих населённых пунктов.

Насел. пункты	д. Ясная	д. Камышёвка	с. Майское
Цифры			

2

Сколько километров проедут Полина с дедушкой от деревни Камышёвка до села Майское, если они поедут по шоссе через деревню Хомяково?

Ответ: \_\_\_\_\_.

3

Найдите расстояние от деревни Камышёвка до села Майское по прямой. Ответ дайте в километрах.

Ответ: \_\_\_\_\_.

4

Сколько минут затратят на дорогу из деревни Ясная в село Майское Полина с дедушкой, если они поедут по прямой лесной дорожке?

Ответ: \_\_\_\_\_.

5

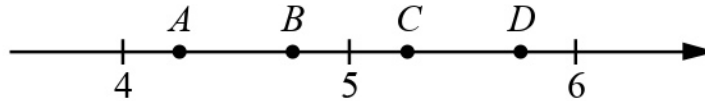
В таблице указана стоимость (в рублях) некоторых продуктов в четырёх магазинах, расположенных в деревне Ясная, селе Майское, деревне Камышёвка и деревне Хомяково.

Наименование продукта	д. Ясная	с. Майское	д. Камышёвка	д. Хомяково
Молоко (1 л)	42	38	41	33
Хлеб (1 батон)	25	21	29	30
Сыр «Российский» (1 кг)	310	320	290	280
Говядина (1 кг)	340	380	410	390
Картофель (1 кг)	15	20	17	18

Полина с дедушкой хотят купить 3 л молока, 1 кг сыра «Российский» и 3 кг картофеля. В каком магазине такой набор продуктов будет стоить дешевле всего? В ответ запишите стоимость данного набора в этом магазине.

Ответ: \_\_\_\_\_.

6 На координатной прямой отмечены точки  $A$ ,  $B$ ,  $C$  и  $D$ .



Одна из них соответствует числу  $\frac{100}{21}$ . Какая это точка?

- 1) точка  $A$       2) точка  $B$       3) точка  $C$       4) точка  $D$

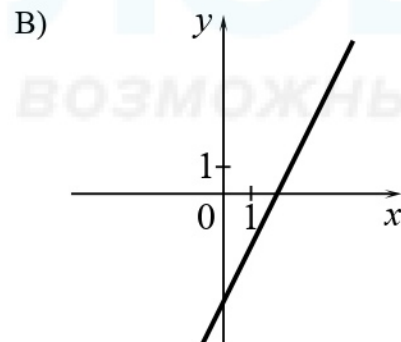
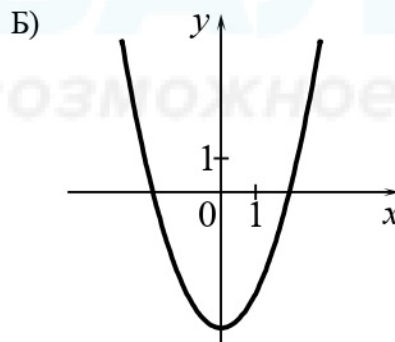
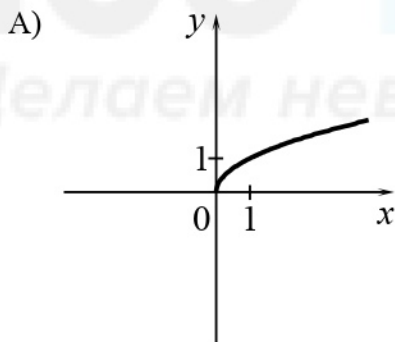
Ответ:

7 У бабушки 15 чашек: 6 с красными цветами, остальные с синими. Бабушка наливает чай в случайно выбранную чашку. Найдите вероятность того, что это будет чашка с синими цветами.

Ответ: \_\_\_\_\_.

8 Установите соответствие между графиками функций и формулами, которые их задают.

ГРАФИКИ



ФОРМУЛЫ

- 1)  $y = \sqrt{x}$       2)  $y = 2x - 4$       3)  $y = x^2 - 4$

В таблице под каждой буквой укажите соответствующий номер.

Ответ: 

А	Б	В

9 Мощность постоянного тока (в ваттах) вычисляется по формуле  $P = I^2 R$ , где  $I$  — сила тока (в амперах),  $R$  — сопротивление (в омах). Пользуясь этой формулой, найдите сопротивление  $R$ , если мощность составляет 224 Вт, а сила тока равна 4 А. Ответ дайте в омах.

Ответ: \_\_\_\_\_.

10) Укажите решение системы неравенств

$$\begin{cases} x + 3,4 \leq 0, \\ x + 5 \geq 1. \end{cases}$$

1)  $(-\infty; -4]$

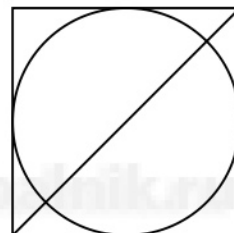
3)  $[-4; -3,4]$

2)  $[-3,4; +\infty)$

4)  $(-\infty; -4] \cup [-3,4; +\infty)$

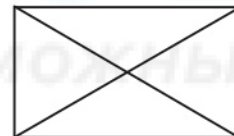
Ответ.

11) Радиус вписанной в квадрат окружности равен  $8\sqrt{2}$ . Найдите диагональ этого квадрата.




Ответ: \_\_\_\_\_.

12) Диагональ прямоугольника образует угол  $63^\circ$  с одной из его сторон. Найдите острый угол между диагоналями этого прямоугольника. Ответ дайте в градусах.




Ответ: \_\_\_\_\_.





