

**Единый государственный экзамен
по МАТЕМАТИКЕ
Профильный уровень**

Инструкция по выполнению работы

Экзаменационная работа состоит из двух частей, включающих в себя 18 заданий. Часть 1 содержит 11 заданий с кратким ответом базового и повышенного уровней сложности. Часть 2 содержит 7 заданий с развёрнутым ответом повышенного и высокого уровней сложности.

На выполнение экзаменационной работы по математике отводится 3 часа 55 минут (235 минут).

Ответы к заданиям 1–11 записываются по приведённому ниже образцу в виде целого числа или конечной десятичной дроби. Числа запишите в поля ответов в тексте работы, а затем перенесите их в бланк ответов № 1.

КИМ Ответ: -0,8 10 - 0,8 Бланк

При выполнении заданий 12–18 требуется записать полное решение и ответ в бланке ответов № 2.

Все бланки ЕГЭ заполняются яркими чёрными чернилами. Допускается использование гелевой или капиллярной ручки.

При выполнении заданий можно пользоваться черновиком. **Записи в черновике, а также в тексте контрольных измерительных материалов не учитываются при оценивании работы.**

Баллы, полученные Вами за выполненные задания, суммируются. Постарайтесь выполнить как можно больше заданий и набрать наибольшее количество баллов.

После завершения работы проверьте, что ответ на каждое задание в бланках ответов №1 и №2 записан под правильным номером.

Желаем успеха!

Справочные материалы

$$\begin{aligned}\sin^2 \alpha + \cos^2 \alpha &= 1 \\ \sin 2\alpha &= 2 \sin \alpha \cdot \cos \alpha \\ \cos 2\alpha &= \cos^2 \alpha - \sin^2 \alpha \\ \sin(\alpha + \beta) &= \sin \alpha \cdot \cos \beta + \cos \alpha \cdot \sin \beta \\ \cos(\alpha + \beta) &= \cos \alpha \cdot \cos \beta - \sin \alpha \cdot \sin \beta\end{aligned}$$

Ответом к заданиям 1–11 является целое число или конечная десятичная дробь. Запишите число в поле ответа в тексте работы, затем перенесите его в БЛАНК ОТВЕТОВ № 1 справа от номера соответствующего задания, начиная с первой клеточки. Каждую цифру, знак «минус» и запятую пишите в отдельной клеточке в соответствии с приведёнными в бланке образцами. Единицы измерений писать не нужно.

Часть 1

- 1** Найдите корень уравнения

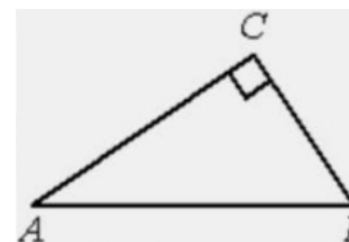
$$\log_7(1 - x) = \log_7 5.$$

Ответ: _____.

- 2** Перед началом футбольного матча судья бросает монетку, чтобы определить, какая из команд начнёт игру с мячом. Команда «Биолог» играет три матча с разными командами. Найдите вероятность того, что в этих матчах команда «Биолог» начнёт игру с мячом все три раза.

Ответ: _____.

- 3** В треугольнике ABC угол C равен 90° , $BC = 12$, $\cos B = \frac{3}{5}$. Найдите AB .



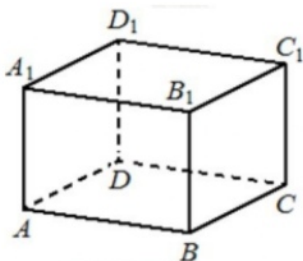
Ответ: _____.

4 Найдите значение выражения

$$\frac{\sqrt[15]{5} \cdot 5 \cdot \sqrt[10]{5}}{\sqrt[6]{5}}$$

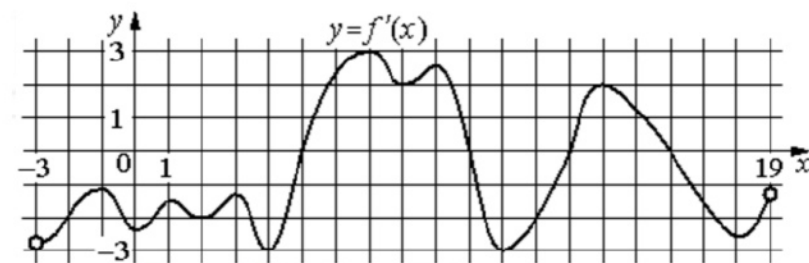
Ответ: _____.

5 В прямоугольном параллелепипеде $ABCD A_1 B_1 C_1 D_1$ известно, что $AB = 5$, $BC = 4$, $AA_1 = 3$. Найдите объём многогранника, вершинами которого являются точки A, B, C, D, A_1, B_1 .



Ответ: _____.

6 На рисунке изображён график $y = f'(x)$ – производной функции $f(x)$, определённой на интервале $(-3; 19)$. Найдите количество точек максимума функции $f(x)$, принадлежащих отрезку $[-2; 15]$.



Ответ: _____.

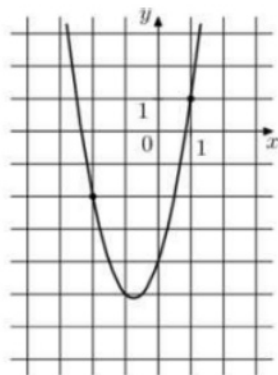
7 В розетку электросети подключена электрическая духовка, сопротивление которой составляет $R_1 = 60$ Ом. Параллельно с ней в розетку предполагается подключить электрообогреватель, сопротивление которого R_2 (в Ом). При параллельном соединении двух электроприборов с сопротивлениями R_1 и R_2 их общее сопротивление вычисляется по формуле $R_{\text{общ}} = \frac{R_1 R_2}{R_1 + R_2}$. Для нормального функционирования электросети общее сопротивление в ней должно быть не меньше 10 Ом. Определите наименьшее возможное сопротивление R_2 электрообогревателя. Ответ дайте в омах.

Ответ: _____.

8 Баржа в 10:00 вышла из пункта А в пункт В, расположенный в 30 км от А. Пробыв в пункте В 4 часа, баржа отправилась назад и вернулась в пункт А в 22:00 того же дня. Определите (в км/ч) скорость течения реки, если известно, что собственная скорость баржи равна 8 км/ч.

Ответ: _____.

- 9 На рисунке изображён график функции $f(x) = 2x^2 + bx + c$. Найдите $f(-5)$.



Ответ: _____.

- 10 Две фабрики выпускают одинаковые стекла для автомобильных фар. Первая фабрика выпускает 25% этих стекол, вторая – 75%. Первая фабрика выпускает 4% бракованных стекол, а вторая – 2%. Найдите вероятность того, что случайно купленное в магазине стекло окажется бракованным.

Ответ: _____.

- 11 Найдите наименьшее значение функции $y = e^{2x} - 4e^x + 4$ на отрезке $[-1; 2]$.

Ответ: _____.

Не забудьте перенести все ответы в бланк ответов № 1 в соответствии с инструкцией по выполнению работы.

Проверьте, чтобы каждый ответ был записан в строке с номером соответствующего задания.

Часть 2

Для записи решений и ответов на задания 12–18 используйте БЛАНК ОТВЕТОВ № 2. Запишите сначала номер выполняемого задания (12, 13 и т. д.), а затем полное обоснованное решение и ответ. Ответы записывайте чётко и разборчиво.

- 12 а) Решите уравнение

$$\frac{1}{\sin^2 x} - \frac{3}{\sin x} + 2 = 0.$$

- б) Найдите все корни этого уравнения, принадлежащие отрезку $\left[-\frac{5\pi}{2}; -\pi\right]$.

- 13 Сечением прямоугольного параллелепипеда $ABCD A_1 B_1 C_1 D_1$ плоскостью α , содержащей прямую BD_1 и параллельной прямой AC , является ромб.

- а) Докажите, что грань $ABCD$ – квадрат.
б) Найдите угол между плоскостями α и BCC_1 , если $AA_1 = 6$, $AB = 4$.

- 14 Решите неравенство

$$\frac{1}{3^x - 1} + \frac{9^{x+\frac{1}{2}} - 3^{x+3} + 3}{3^x - 9} \geq 3^{x+1}.$$

- 15 15-го января планируется взять кредит в банке на шесть месяцев в размере 1 млн рублей. Условия его возврата таковы:

- 1-го числа каждого месяца долг увеличивается на r процентов по сравнению с концом предыдущего месяца, где r – целое число;
- со 2-го по 14-е число каждого месяца необходимо выплатить часть долга;
- 15-го числа каждого месяца долг должен составлять некоторую сумму в соответствии со следующей таблицей.

| Дата | 15.01 | 15.02 | 15.03 | 15.04 | 15.05 | 15.06 | 15.07 |
|---------------------|-------|-------|-------|-------|-------|-------|-------|
| Долг (в млн рублей) | 1 | 0,6 | 0,4 | 0,3 | 0,2 | 0,1 | 0 |

Найдите наибольшее значение r , при котором общая сумма выплат будет меньше 1,2 млн рублей.

16 В прямоугольном треугольнике ABC точки M и N – середины гипотенузы AB и катета BC соответственно. Биссектриса угла BAC пересекает прямую MN в точке L .

а) Докажите, что треугольники AML и BLC подобны.

б) Найдите отношение площадей этих треугольников, если $\cos \angle BAC = \frac{7}{25}$.

17 Найдите все значения a , при каждом из которых уравнение

$$\log_{1-x}(a - x + 2) = 2$$

имеет хотя бы один корень, принадлежащий промежутку $[-1; 1)$.

18 Задумано несколько (не обязательно различных) натуральных чисел. Эти числа и их все возможные суммы (по 2, по 3 и т.д.) выписывают на доску в порядке неубывания. Если какое-то число n , выписанное на доску, повторяется несколько раз, то на доске оставляется одно такое число n , а остальные числа, равные n , стираются. Например, если задуманы числа 1, 3, 3, 4, то на доске будет записан набор 1, 3, 4, 5, 6, 7, 8, 10, 11.

а) Приведите пример задуманных чисел, для которых на доске будет записан набор 1, 2, 3, 4, 5, 6, 7.

б) Существует ли пример таких задуманных чисел, для которых на доске будет записан набор 1, 3, 4, 6, 7, 8, 10, 11, 12, 13, 15, 16, 17, 19, 20, 22?

в) Приведите все примеры задуманных чисел, для которых на доске будет записан набор 7, 9, 11, 14, 16, 18, 20, 21, 23, 25, 27, 30, 32, 34, 41.

Проверьте, чтобы каждый ответ был записан рядом с номером соответствующего задания.

**Система оценивания экзаменационной работы по математике
(профильный уровень)**

Каждое из заданий 1–11 считается выполненным верно, если экзаменуемый дал верный ответ в виде целого числа или конечной десятичной дроби. Верный ответ на каждое задание оценивается 1 баллом.

| Номер задания | Правильный ответ | Видео решение |
|---------------|--|---------------|
| 1 | -4 | |
| 2 | 0,125 | |
| 3 | 20 | |
| 4 | 5 | |
| 5 | 30 | |
| 6 | 1 | |
| 7 | 12 | |
| 8 | 2 | |
| 9 | 31 | |
| 10 | 0,025 | |
| 11 | 0 | |
| 12 | а) $\frac{\pi}{2} + 2\pi n, \frac{\pi}{6} + 2\pi n, \frac{5\pi}{6} + 2\pi n; n \in Z$ б) $-\frac{11\pi}{6}; -\frac{3\pi}{2}; -\frac{7\pi}{6}$ | |
| 13 | $\arctg \frac{5}{3}$ | |
| 14 | $(0; 1] \cup (2; +\infty)$ | |
| 15 | 7 | |
| 16 | 25/36 | |
| 17 | $[-1,25; -1) \cup (-1; 1]$ | |
| 18 | а) 1, 1, 1, 1, 1, 1, 1 б) нет в) 7, 7, 7, 9, 11 или 7, 9, 11, 14 | |

**Решения и критерии оценивания выполнения заданий
с развёрнутым ответом**

Количество баллов, выставленных за выполнение заданий 12–18, зависит от полноты решения и правильности ответа.

Общие требования к выполнению заданий с развёрнутым ответом: решение должно быть математически грамотным, полным, все возможные случаи должны быть рассмотрены. **Методы решения, формы его записи и формы записи ответа могут быть разными. За решение, в котором обоснованно получен правильный ответ, выставляется максимальное количество баллов. Правильный ответ при отсутствии текста решения оценивается в 0 баллов.**

Эксперты проверяют только математическое содержание представленного решения, а особенности записи не учитывают.

При выполнении задания могут использоваться без доказательства и ссылок любые математические факты, содержащиеся в учебниках и учебных пособиях, входящих в Федеральный перечень учебников, рекомендуемых к использованию при реализации имеющих государственную аккредитацию образовательных программ среднего общего образования.