




17

17. Носухи живут в центральной части Южной Америки. Длинный хвост им помогает ...

- А) общаться друг с другом;
- Б) перемещаться по деревьям;
- В) греться;
- Г) отпугивать врагов;
- Д) следить за детёнышами.

..... Задания, оцениваемые в 5 баллов

18. На иллюстрациях художника Виктора Ефимовича Цигалья, сделанных к стихотворению Владимира Владимировича Маяковского «Что ни страница, – то слон, то львица», представлены разные животные. Какое из них обитает в Южной Америке?




19. Какие орехи, произрастающие в Южной Америке, изображены на фотографии?

- А) грецкие;
- Б) кедровые;
- В) лесные;
- Г) бразильские;
- Д) фисташки.



19

20. Эхеверия – суккулентное растение, распространённое в пустынных регионах Америки. Его часто в быту называют «каменная роза». Оно изображено на фотографии ...



А

Б

В

Г

Д

Время, отведённое на выполнение заданий, – 40 минут.

Институт продуктивного обучения
Новосибирский центр продуктивного обучения

1–2
классы

Человек и природа

МЕЖДУНАРОДНЫЙ ИГРОВОЙ КОНКУРС
www.konkurs-chip.ru


12 апреля 2018 года



МИР ЛЕСА

..... Задания, оцениваемые в 3 балла

1. Какая из этих картин известного русского художника Ивана Ивановича Шишкина называется «Утро в сосновом лесу»?



А

Б

В


Г

Д

2. На каком материке не растут леса?

- А) Австралия;
- Б) Антарктида;
- В) Африка;
- Г) Евразия;
- Д) Южная Америка.

3. Какое из этих животных живёт не в лесу?



А

Б

В

Г

Д

4. Как называется профессия человека, который заботится о лесных животных?

- А) егерь;
- Б) геодезист;
- В) агроном;
- Г) спелеолог;
- Д) ихтиолог.

..... Задания, оцениваемые в 4 балла

5. Какая из этих птиц не заботится о потомстве и подбрасывает свои яйца в гнёзда других птиц?



А

Б

В

Г

Д

6. Леса состоят из растений разной высоты. Самые высокие деревья составляют верхний ярус леса, а на нижних ярусах растут такие растения, как травы, мхи, цветы. На какой фотографии изображены растения среднего яруса леса?




7. На рисунках изображены дети, гуляющие в лесу. На каком рисунке дети нарушают рекомендованные правила поведения в лесу?



Задания, оцениваемые в 5 баллов

8. На какой из этих фотографий изображено лесное животное, которое является родственником домашней собаки?



9. В стихотворении Ивана Алексеевича Бунина читаем:


*И тихо дремлет бор зелёный.
И в серебре лесных озёр –
Ещё стройней его колонны ...*

Бор – это ...

- А) берёзовый лес;
- Б) лес из высоких дубов;
- В) хвойный лес на песчаных почвах;
- Г) высокие ивы, растущие по берегам озёр;
- Д) заросли камыша у берега водоёма.



10. На фотографии справа изображены плоды шиповника. На какой из фотографий, расположенных ниже, изображена цветущая ветка шиповника?



ЮЖНАЯ АМЕРИКА

Задания, оцениваемые в 3 балла

11. Какой цифрой на карте обозначена Южная Америка?


- А) 1;
- Б) 2;
- В) 3;
- Г) 4;
- Д) 5.



12. Южная Америка расположена ...

- А) между Тихим и Атлантическим океанами;
- Б) между Индийским и Атлантическим океанами;
- В) между Тихим и Индийским океанами;
- Г) внутри Тихого океана;
- Д) внутри Атлантического океана.

13. Дождевые леса Амазонии – самый крупный тропический лесной массив в мире. На какой фотографии изображён этот лес?



Задания, оцениваемые в 4 балла

14. Какая из этих стран расположена в Южной Америке?

- А) Канада;
- Б) Франция;
- В) Индия;
- Г) Эфиопия;
- Д) Аргентина.

15. Традиционная верхняя одежда коренных жителей горных районов Чили.



16. Шоколад получают из какао-бобов, которые растут ...

- А) на деревьях;
- Б) на кустах;
- В) на травянистых растениях;
- Г) в земле;
- Д) в воде.



16