

Единый государственный экзамен по ИСТОРИИ

Инструкция по выполнению работы

Экзаменационная работа состоит из двух частей, включающих в себя 25 заданий. Часть 1 содержит 19 заданий, часть 2 содержит 6 заданий.

На выполнение экзаменационной работы по истории отводится 3 часа 55 минут (235 минут).

Ответы к заданиям 1–19 записываются по приведённым ниже образцам в виде последовательности цифр, цифры или слова (словосочетания). Ответ запишите в поле ответа в тексте работы, а затем перенесите в бланк ответов №1.

КИМ

Ответ:	А	Б	В	Г																	
	3	1	4	2	9	3	1	4	2												
Ответ:	НИКОЛАЙ ВТОРОЙ																				
Ответ:	1	3	2	4	5	1	2	3	2	4	5										

Бланк

Задания части 2 (20–25) требуют развернутого ответа. В бланке ответов № 2 укажите номер задания и запишите ответ к нему.

Все бланки ЕГЭ заполняются яркими чёрными чернилами. Допускается использование гелевой или капиллярной ручки.

При выполнении заданий можно пользоваться черновиком. **Записи в черновике, а также в тексте контрольных измерительных материалов не учитываются при оценивании работы.**

Баллы, полученные Вами за выполненные задания, суммируются. Постарайтесь выполнить как можно больше заданий и набрать наибольшее количество баллов.

После завершения работы проверьте, что ответ на каждое задание в бланках ответов №1 и №2 записан под правильным номером.

Желаем успеха!

Часть 1

Ответом к заданиям 1–19 является последовательность цифр или слово (словосочетание). Сначала укажите ответы в тексте работы, а затем перенесите их в БЛАНК ОТВЕТОВ № 1 справа от номера соответствующего задания, начиная с первой клеточки, без пробелов, запятых и других дополнительных символов. Каждую цифру или букву пишите в отдельной клеточке в соответствии с приведёнными в бланке образцами. Имена российских государей следует писать только буквами (например: НиколайВторой).

1 Расположите в хронологической последовательности исторические события. Запишите цифры, которыми обозначены исторические события, в правильной последовательности в таблицу.

- 1) Аншлюс Австрии
- 2) Объединение Киева и Новгорода под властью Олега
- 3) Крымская война

Ответ:

--	--	--

2 Установите соответствие между событиями и годами: к каждой позиции первого столбца подберите соответствующую позицию из второго столбца.


СОБЫТИЯ	ГОДЫ
А) ввод советских войск в Афганистан	1) 1240 г.
Б) циркуляр о кухаркиных детях	2) 1654 г.
В) Переяславская Рада	3) 1380 г.
Г) Невская битва	4) 1979 г.
	5) 1989 г.
	6) 1887 г.

Запишите в таблицу выбранные цифры под соответствующими буквами.

Ответ:

А	Б	В	Г





3 Ниже приведён список терминов. Все они, за исключением двух, относятся к событиям (явлениям) XIX в.

- 1) декабристы; 2) народники; 3) петрашевцы; 4) октябристы; 5) марксисты; 6) верховники.

Найдите и запишите порядковые номера терминов, относящихся к другому историческому периоду.

Ответ:

--	--

4 Запишите термин, о котором идёт речь.
Сборник законов, принятый в XV в. и сыгравший большую роль в централизации Российского государства и создании системы общерусского права.

Ответ: _____

5 Установите соответствие между процессами (явлениями, событиями) и фактами, относящимися к этим процессам (явлениям, событиям): к каждой позиции первого столбца подберите соответствующую позицию из второго столбца.

ПРОЦЕССЫ

(ЯВЛЕНИЯ, СОБЫТИЯ)

- А) Совершенствование Русского законодательства
- Б) Деятельность М.М. Сперанского
- В) Перестройка в СССР
- Г) Народные волнения в XVII в.

ФАКТЫ

- 1) принятие судебника Иваном Великим
- 2) кооперативное движение
- 3) отмена местничества
- 4) создание свода законов Российской империи
- 5) восстание смердов и закупов в Киеве
- 6) соловецкое сидение

Запишите в таблицу выбранные цифры под соответствующими буквами.

Ответ:

А	Б	В	Г

6 Установите соответствие между фрагментами исторических источников и их краткими характеристиками: к каждому фрагменту, обозначенному буквой, подберите по две соответствующие характеристики, обозначенные цифрами.

ФРАГМЕНТЫ ИСТОЧНИКОВ	
А)	«Князь, собрав множество воинов, двинулся на Москву, на великого князя Дмитрия Ивановича. Он по своему обычаю тайно выступил и скрытно вёл своё войско. Когда же до великого князя (московского) дошли вести, что ... идёт войной, он приказал без промедления рассыпать грамоты по городам и начал собирать воинов, но было уже поздно, ниоткуда из дальних мест военные отряды уже не могли подойти... Великий князь (московский)... затворился в крепости с князьями, с боярами и со всем народом. И... стоял под стенами три дня и три ночи, сжёг всё на посаде, и церкви многие и монастыри и отступил от Москвы, не взяв Кремля».
Б)	«И когда пришёл, повелел опрокинуть идолы – одних изрубить, а других сжечь. Перуна же приказал привязать к хвосту коня и волочить его с горы по Боричеву взвозу к Ручью и приставил 12 мужей колотить его палками. Делалось это не потому, что дерево что-нибудь чувствует, но для поругания беса, который обманывал людей в этом образе, – чтобы принял он возмездие от людей. «Велик ты, Господи, и чудны дела твои!» Вчера ещё был чтим людьми, а сегодня поругаем. И, притащив, кинули его в Днепр».

ХАРАКТЕРИСТИКИ

- 1) Описанные события происходили в Киеве.
- 2) Противником Дмитрия Ивановича был князь Ольгерд.
- 3) Приказ об уничтожении идолов отдал князь Ярослав Мудрый.
- 4) Москву удалось отстоять благодаря белокаменным укреплениям.
- 5) Уничтожение идолов произошло вскоре после похода на Корсунь.
- 6) Описанные события относятся к 1238 г.

Запишите в таблицу выбранные цифры под соответствующими буквами.

Ответ:

Фрагмент А	Фрагмент Б



7 Какие три мероприятия советской власти были осуществлены в октябре 1917 г. – июле 1918 г.? Выберите три ответа и запишите цифры, под которыми они указаны.

- 1) национализация железнодорожного транспорта
- 2) разработка первого пятилетнего плана развития народного хозяйства
- 3) принятие Декларации прав трудящегося и эксплуатируемого народа
- 4) массовая коллективизация сельского хозяйства
- 5) принятие Декрета о земле
- 6) замена продразвёрстки продналогом

Ответ:

--	--	--

8 Заполните пропуски в данных предложениях, используя приведённый ниже список пропущенных элементов: для каждого предложения, обозначенного буквой и содержащего пропуск, выберите номер нужного элемента.

- A) _____ – лётчик-герой, трижды герой Советского Союза, сбивший наибольшее количество самолётов противника, в годы Великой Отечественной войны.
- Б) Василий Чуйков прославился при обороне г. _____.
- В) Варшава была освобождена в _____ г.

Пропущенные элементы:

- 1) 1944 г.
- 2) А. Маресьев
- 3) 1945 г.
- 4) Москва
- 5) И. Кожедуб
- 6) Сталинград

Запишите в таблицу выбранные цифры под соответствующими буквами.

Ответ:

А	Б	В

9 Установите соответствие между событиями (процессами, явлениями) и участниками этих событий (процессов, явлений): к каждой позиции первого столбца подберите соответствующую позицию из второго столбца.

СОБЫТИЯ (ПРОЦЕССЫ, ЯВЛЕНИЯ)	УЧАСТНИКИ
A) Битва на р. Листвене	1) А. Меншиков
Б) Переправа русских войск через Альпы	2) Г. Жуков
В) Русско-Турецкая война 1877—1878 гг.	3) Н. Лохвицкий
Г) Первая Мировая война	4) Э. Тотлебен
	5) Мстислав Тмураканский
	6) А. Суворов

Запишите в таблицу выбранные цифры под соответствующими буквами.

Ответ:

А	Б	В	Г

10 Прочтите отрывок из воспоминаний современника событий и укажите битву, о которой идёт речь.

«Перебрав все возможные варианты, мы решили предложить И. В. Сталину следующий план действий: первое — активной обороной продолжать изматывать противника, второе — приступить к подготовке контрнаступлениями, чтобы нанести противнику... такой удар, который резко изменил стратегическую обстановку на юге в нашу пользу...»

При оценке противника мы исходили из того, что фашистская Германия уже не в состоянии выполнить свой стратегический план 1942 года. Тех сил и средств, которыми к осени 1942 года располагала Германия, не хватит для завершения задач ни на Северном Кавказе, ни в районе Дона и Волги...

Генеральный штаб на основе данных фронтов изучил сильные и слабые стороны немецких, венгерских, итальянских и румынских войск. Войска сателлитов по сравнению с немецкими были хуже вооружены, менее опытные, недостаточно боеспособны даже в обороне. И самое главное — их солдаты да и многие офицеры не хотели умирать за чужие интересы на далеких полях России...

Положение противника усугублялось ещё и тем, что... у него было очень мало войск в оперативном резерве, не более шести дивизий, да и те были разбросаны на широком фронте... Нам благоприятствовала и оперативная конфигурация всего фронта противника: наши войска занимали охватывающее положение...»

Ответ: _____.

- 11** Заполните пустые ячейки таблицы, используя приведённый ниже список пропущенных элементов: для каждого пропуска, обозначенного буквой, выберите номер нужного элемента.

Век	Событие истории России	Событие истории зарубежных стран
XIX в.	_____ (А)	Провозглашение доктрины Монро в США
_____ (Б)	Правление Ивана Грозного	Люблинская уния
_____ (В)	Распад СССР	_____ (Г)
XV в.	_____ (Д)	_____ (Е)

Пропущенные элементы:

- 1) Столетняя война
- 2) XVI в.
- 3) Гражданская война в Англии
- 4) Смутное время
- 5) Стояние на реке Угра
- 6) XIV в.
- 7) Революция в Германии
- 8) XX в.
- 9) Выступление декабристов

Запишите в таблицу выбранные цифры под соответствующими буквами.

Ответ:

А	Б	В	Г	Д	Е

- 12** Прочтите отрывок из выступления политического деятеля.

«Господа члены Государственной Думы, я соглашусь с тезисом предыдущего оратора, члена Государственной Думы Миллюкова, что мы вступаем в критический период трёхлетних боёв...

Военный кризис вступил в свою последнюю фазу решительного столкновения, и попытками, которые делает и будет делать демократия всей Европы, оставшаяся трезвой и не поддавшаяся кровавому урагану, она бессильна остановить этот вихрь, в который с безумством бросились все правящие классы Европы. Но, господа, этот кризис, этот последний акт, в который вступает кровавая трагедия, исход этого акта ещё не предreshён. Силы истощаются, но истощаются у всех, и прежде чем быть уверенным в исходе и думать, что мы можем без конца, беспредельно продолжать расточать народную кровь, народное имущество, вы должны, господа, более глубоко и с большим сознанием вашей политической, я бы сказал, человеческой ответственности взглянуть в глубину вашей политической совести. Вы должны спросить себя: за эти три года вы, беспрестанно провозглашающие с этой кафедры "победу во что бы то ни стало" и торжеству России во что бы то ни стало, вы, призывавшие всех к единению и союзу всех живых сил страны, с какими результатами и с чем идёте вы на этот последний суд истории, на эту последнюю, открывающуюся перед нами весеннюю и летнюю кампании, когда новые и небывалые до сих пор ещё потоки крови прольются по всей Европе?».

Используя отрывок и знания по истории, выберите в приведённом списке три верных суждения.

- 1) Данное выступление относится к 1915 г.
- 2) В войне, о ходе которой идёт речь в отрывке, Франция была союзницей России.
- 3) Автор выступления считает, что решающие события войны уже позади.
- 4) Автор упоминает в своём выступлении лидера партии кадетов.
- 5) Автор заявляет, что результат будущего этапа войны предreshён.
- 6) Россия вышла из войны, о ходе которой идёт речь в отрывке, подписав Брест-Литовский мирный договор.

Запишите в таблицу цифры, под которыми они указаны.

Ответ:

--	--	--



Рассмотрите схему и выполните задания 13–16.



13) Напишите название города, обозначенного на схеме цифрой «1».

Ответ: _____.

14) Укажите название периода русской истории, в ходе которого Россией была утрачена часть территорий, изображённых на карте.

Ответ: _____.

15) Напишите имя правителя России, при котором заштрихованная территория вошла в состав России.

Ответ: _____.

16) Какие суждения, относящиеся к событиям, связанных с присоединением указанных территорий, являются верными? Выберите три суждения из шести предложенных. Запишите в таблицу **цифры**, под которыми они указаны.

- 1) Присоединение данных территорий относится к XVII в.
- 2) Присоединению данных территорий способствовало восстание местных жителей против прежней власти.
- 3) До присоединения к России данные территории принадлежали Османской империи.
- 4) Указанные территории при присоединении получили автономные права.
- 5) Договор о признании данных территорий за Россией был заключён в Смоленске.
- 6) Война, которую Россия вела за эти территории, получила название Смоленской.

Ответ:

--	--	--

17) Установите соответствие между памятниками культуры и их краткими характеристиками: к каждой позиции первого столбца подберите соответствующую позицию из второго столбца.

ПАМЯТНИКИ КУЛЬТУРЫ

ХАРАКТЕРИСТИКИ

- | | |
|---|---|
| <p>А) Софийский собор в Киеве</p> <p>Б) «Юности честное зерцало»</p> <p>В) «Бурлаки на Волге»</p> <p>Г) «Доктор Живаго»</p> | <p>1) Автор данного произведения был вынужден покинуть СССР в 50-е гг.</p> <p>2) Автор данного творения являлся передвижником.</p> <p>3) Автор данного произведения В. Суриков.</p> <p>4) Данные правила утверждены в XVIII в.</p> <p>5) Этот памятник культуры создан в честь победы над внешним врагом.</p> <p>6) Автору данного творения была присуждена Нобелевская премия.</p> |
|---|---|

Запишите в таблицу выбранные цифры под соответствующими буквами.

Ответ:

А	Б	В	Г





Рассмотрите изображение и выполните задания 18, 19.



18





Какие суждения о данном изображении являются верными? Выберите два суждения из пяти предложенных. Запишите в таблицу цифры, под которыми они указаны.

- 1) В ходе перелёта, которому посвящена марка, его участники преодолели более 2 тыс. километров.
- 2) Событие, которому посвящена почтовая марка, связано с одним из достижений советского морского флота.
- 3) Событие, которому посвящена почтовая марка, произошло в 1930-х гг.
- 4) Руководитель перелёта, которому посвящена марка, прославился в годы Великой Отечественной войны.
- 5) Участники перелёта, которому посвящена марка, провели несколько дней на Северном полюсе.

Ответ:

19

Укажите изображение, на котором представлен объект, построенный в период руководства страной политического деятеля, при котором состоялась обозначенная на марке экспедиция. В ответе запишите две цифры, под которыми они указаны.

- 1) 
- 2) 
- 3) 
- 4) 

Ответ:

Не забудьте перенести все ответы в бланк ответов № 1 в соответствии с инструкцией по выполнению работы.

Часть 2

Для записи ответов на задания этой части (20–25) используйте **БЛАНК ОТВЕТОВ № 2**. Запишите сначала номер задания (20, 21 и т. д.), а затем развёрнутый ответ на него. Ответы записывайте чётко и разборчиво.

Прочтите отрывок из исторического источника и кратко ответьте на вопросы 20–22. Ответы предполагают использование информации из источника, а также применение исторических знаний по курсу истории соответствующего периода.

Из исторического очерка

«Кандидатура представителя семьи Романовых устраивала разные слои населения и даже классы общества. Для боярства Романовы были свои — выходцы из одного из самых знатных боярских родов страны. Их считали своими и те, кто был близок к опричному двору... но и пострадавшие не чувствовали себя чуждыми этому семейству; среди его членов встречались казненные и опальные в годы опричнины, сам Филарет оказался в сеннике при бывшем опричнике Борисе Годунове. Наконец, Романовы пользовались большой популярностью среди казачества, с ним связывались многие иллюзии, и длительное пребывание Филарета в Тушине... заставляло и бывших тушинцев не опасаться за свою судьбу при новом правительстве. Поскольку Филарет возглавил в своё время делегацию, которая пригласила на русский трон Владислава, то и сторонники польского королевича не беспокоились за своё будущее при Романовых».

- 20 О каком событии идёт речь в документе? В каком году оно произошло, и чем было вызвано?
- 21 На основе текста и знаний по истории укажите, почему предпочтение было отдано Романовым? Укажите не менее трёх аргументов.
- 22 Какие обстоятельства предшествовали началу правления династии Романовых на русском престоле? Укажите не менее двух положений. Кто был первым представителем этой династии?

- 23 Согласно летописной легенде, перед князем Владимиром стоял вопрос о выборе религии между христианством западным, восточным (православием), исламом и иудаизмом. В результате он остановился на православии. Дайте не менее трёх объяснений такого выбора.

- 24 По историческим вопросам высказываются различные, часто противоречивые точки зрения. Ниже приведена одна из противоречивых точек зрения.

«Историк С.М. Соловьев полагал, что главным фактором было выгодное географическое положение Москвы».

Используя исторические знания, приведите два аргумента, которыми можно подтвердить данную точку зрения, и два аргумента, которыми можно опровергнуть её. При изложении аргументов обязательно используйте исторические факты.

Ответ запишите в следующем виде.

Аргументы в подтверждение:

- 1) ...
- 2) ...

Аргументы в опровержение:

- 1) ...
- 2) ...

25 Вам необходимо написать историческое сочинение об ОДНОМ из исторических процессов:

- 1) городские бунты и восстания в России в XVII веке;
- 2) внешняя политика России в 1881–1894 гг.;
- 3) Первая Мировая война.

В сочинении необходимо:

- указать не менее двух событий (явлений, процессов), произошедших в рамках выбранного Вами процесса;
- назвать две исторические личности, деятельность которых связана с указанными Вами событиями (явлениями, процессами), произошедшими в рамках выбранного процесса, и, используя знание исторических фактов, охарактеризовать роли названных Вами личностей в этих событиях (явлениях, процессах);


Внимание!

При характеристике роли каждой названной Вами личности необходимо указать конкретные действия этой личности, в значительной степени повлиявшие на ход и (или) результат указанных событий (процессов, явлений).

- указать не менее двух причинно-следственных связей, характеризующих причины возникновения указанных Вами событий (явлений, процессов), произошедших в рамках выбранного процесса;
- используя знание исторических фактов, указать значение (последствие) выбранного Вами процесса для истории России.

В ходе изложения необходимо корректно использовать исторические термины, понятия, относящиеся к данному периоду.





Система оценивания экзаменационной работы по истории

Часть 1

Задание с кратким ответом считается выполненным верно, если правильно указаны требуемое слово (словосочетание), последовательность цифр.

Полный правильный ответ на каждое из заданий 1, 4, 10, 13–15, 18, 19 оценивается 1 баллом; неполный, неверный ответ или его отсутствие – 0 баллов.

Полный правильный ответ на каждое из заданий 2, 3, 5–9, 12, 16, 17 оценивается 2 баллами; если допущена одна ошибка – 1 баллом; если допущено две и более ошибки или ответ отсутствует – 0 баллов.

Полный правильный ответ на задание 11 оценивается 3 баллами; если допущена одна ошибка – 2 баллами; если допущено две-три ошибки – 1 баллом; если допущено четыре и более ошибки или ответ отсутствует – 0 баллов.

№ задания	Ответ
1	231
2	4621
3	46
4	судебник
5	1426
6	2415
7	135
8	563
9	5643
10	Сталинградская битва
11	928751
12	246
13	Киев
14	Смутное время; Смута
15	Алексей Михайлович; Алексей Романов
16	124
17	5426
18	13
19	13

Часть 2

Критерии оценивания заданий с развёрнутым ответом

Из исторического очерка

«Кандидатура представителя семьи Романовых устраивала разные слои населения и даже классы общества. Для боярства Романовы были свои — выходцы из одного из самых знатных боярских родов страны. Их считали своими и те, кто был близок к опричному двору... но и пострадавшие не чувствовали себя чуждыми этому семейству; среди его членов встречались казенные и опальные в годы опричнины, сам Филарет оказался в сеннике при бывшем опричнике Борисе Годунове. Наконец, Романовы пользовались большой популярностью среди казачества, с ним связывались многие иллюзии, и длительное пребывание Филарета в Тушине... заставляло и бывших тушинцев не опасаться за свою судьбу при новом правительстве. Поскольку Филарет возглавил в своё время делегацию, которая пригласила на русский трон Владислава, то и сторонники польского королевича не беспокоились за своё будущее при Романовых».

20

О каком событии идёт речь в документе? В каком году оно произошло, и чем было вызвано?

Содержание верного ответа и указания по оцениванию (допускаются иные формулировки ответа, не искажающие его смысла)	Баллы
Правильный ответ должен содержать следующие элементы: — речь идёт об избрании нового царя, которое должно было состояться на Земском соборе. — событие относится к 1613 г. — оно было обусловлено необходимостью восстановления государственности и обретения новой династии.	
Названы три элемента ответа	2
Названы два элемента ответа	1
Правильно указан один любой элемент. ИЛИ Ответ неправильный	0
<i>Максимальный балл</i>	2

- 21 На основе текста и знаний по истории укажите, почему предпочтение было отдано Романовым? Укажите не менее трёх аргументов.

Содержание верного ответа и указания по оцениванию (допускаются иные формулировки ответа, не искажающие его смысла)	Баллы
Может быть указано, что выбор династии Романовых был обусловлен: <ul style="list-style-type: none"> – Романовы в наибольшей степени устраивали все сословия, политические группы, что давало возможность достичь примирения интересов – Романовы – знатный боярский род, связанный родственными узами с династией Рюриковичей – Романовы пользовались немалой популярностью, в том числе и в среде казачества 	
Названы три аргумента	2
Названы два аргумента	1
Правильно указан один любой аргумент. ИЛИ Ответ неправильный	0
<i>Максимальный балл</i>	2

- 22 Какие обстоятельства предшествовали началу правления династии Романовых на русском престоле? Укажите не менее двух положений. Кто был первым представителем этой династии?

Содержание верного ответа и указания по оцениванию (допускаются иные формулировки ответа, не искажающие его смысла)	Баллы
Могут быть указаны следующие обстоятельства: <ul style="list-style-type: none"> – Смута – борьба за власть – хозяйственное разорение страны – социальные конфликты – иностранная интервенция 	
Первый представитель династии Романовых - Михаил Фёдорович.	
Правильно назван первый представитель династии, указано два обстоятельства	2
Правильно назван первый представитель династии, указано одно обстоятельство	1
Правильно назван первый представитель династии. ИЛИ Правильно указано одно-два обстоятельства ИЛИ Ответ неправильный	0
<i>Максимальный балл</i>	2

- 23 Согласно летописной легенде, перед князем Владимиром стоял вопрос о выборе религии между христианством западным, восточным (православием), исламом и иудаизмом. В результате он остановился на православии. Дайте не менее трёх объяснений такого выбора.

Содержание верного ответа и указания по оцениванию (допускаются иные формулировки ответа, не искажающие его смысла)	Баллы
Могут быть приведены следующие объяснения: <ul style="list-style-type: none"> – при выборе религии решающую роль сыграли прочные связи Руси с Византией; – Византия была самым развитым государством того времени, наследницей античной цивилизации, что предопределило выбор религии, исповедуемой византийцами; – принятие христианства позволяло использовать церковную организацию в интересах княжеской власти. – согласно летописному рассказу, послов князя Владимира привлекла торжественность и красота православного богослужения – к концу X века православное христианство уже было достаточно распространено на Руси, о чем, например, свидетельствует крещение княгини Ольги 	
<i>Могут быть приведены другие объяснения.</i>	
Правильно приведены три объяснения	3
Правильно приведены два объяснения	2
Правильно приведена одно объяснение	1
Приведены рассуждения общего характера, не соответствующие требованию задания. ИЛИ Ответ неправильный	0
<i>Максимальный балл</i>	3

24 По историческим вопросам высказываются различные, часто противоречивые точки зрения. Ниже приведена одна из противоречивых точек зрения.

«Историк С.М. Соловьев полагал, что главным фактором было выгодное географическое положение Москвы».

Используя исторические знания, приведите два аргумента, которыми можно подтвердить данную точку зрения, и два аргумента, которыми можно опровергнуть её. При изложении аргументов обязательно используйте исторические факты.

Ответ запишите в следующем виде.

Аргументы в подтверждение:

- 1) ...
- 2) ...

Аргументы в опровержение:

- 1) ...
- 2) ...

Содержание верного ответа и указания по оцениванию (допускаются иные формулировки ответа, не искажающие его смысла)	Баллы
<p>Правильный ответ должен содержать следующие элементы:</p> <p><u>Аргументы в подтверждение:</u></p> <ul style="list-style-type: none"> – Москва была расположена по дороге переселенцев с юга, посредине между Киевской землёй, с одной стороны, и Владимиро-Суздальской – с другой; – через Москву проходили важные торговые пути; – она обладала плодородными землями, притягивавшими к себе трудовое население и бояр; – Москва была защищена от набегов ордынских отрядов лесами <p><u>Аргументы в опровержение:</u></p> <ul style="list-style-type: none"> – московские князья сделали ставку на союз с Золотой Ордой; – использовали все средства в борьбе за лидерство Москвы; – Иван Калита получил ярлык на великое княжение, который с тех пор оставался у московских князей; – Иван Калита получил право собирать дань со всей Русской земли; – право сбора дани позволило московским князьям сосредоточить в своих руках больше материальные средства, 	

которые они использовали для расширения и укрепления своих владений. <i>Могут быть приведены другие аргументы.</i>	
Приведены два аргумента в подтверждение и два в опровержение оценки	4
Приведены два аргумента в подтверждение и один в опровержение оценки. ИЛИ Приведены один аргумент в подтверждение и два в опровержение оценки	3
Приведены один аргумент в подтверждение и один в опровержение оценки	2
Приведены только два аргумента в подтверждение оценки. ИЛИ Приведены только два аргумента в опровержение оценки	1
Приведён только один любой аргумент. ИЛИ Приведены только факты, иллюстрирующие события (явления, процессы), связанные с данной точкой зрения, но не являющиеся аргументами. ИЛИ Приведены рассуждения общего характера, не соответствующие требованию задания. ИЛИ Ответ неправильный	0
<i>Максимальный балл</i>	4

25 Вам необходимо написать историческое сочинение об ОДНОМ из исторических процессов:

- 1) городские бунты и восстания в России в XVII веке;
- 2) внешняя политика России в 1881–1894 гг.;
- 3) Первая Мировая война.

В сочинении необходимо:

- указать не менее двух событий (явлений, процессов), произошедших в рамках выбранного Вами процесса;
- назвать две исторические личности, деятельность которых связана с указанными Вами событиями (явлениями, процессами), произошедшими в рамках выбранного процесса, и, используя знание исторических фактов, охарактеризовать роли названных Вами личностей в этих событиях (явлениях, процессах);



В н и м а н и е!

При характеристике роли каждой названной Вами личности необходимо указать конкретные действия этой личности, в значительной степени повлиявшие на ход и (или) результат указанных событий (процессов, явлений).

- указать не менее двух причинно-следственных связей, характеризующих причины возникновения указанных Вами событий (явлений, процессов), произошедших в рамках выбранного процесса;
- используя знание исторических фактов, указать значение (последствие) выбранного Вами процесса для истории России.

В ходе изложения необходимо корректно использовать исторические термины, понятия, относящиеся к данному периоду.

В случае, когда исторические события (явления, процессы) не указаны или все указанные исторические события (явления, процессы) не относятся к выбранному процессу, ответ оценивается 0 баллов (по каждому из критериев К1–К7 выставляется 0 баллов).

	Критерии оценивания	Баллы
К1	Указание событий (явлений, процессов)	2
	Правильно указаны два события (явления, процесса)	2
	Правильно указано одно событие (явление, процесс)	1
	События (явления, процессы) не указаны или указаны неверно	0
К2	Исторические личности и их роль в указанных событиях (явлениях, процессах)	2
	Правильно названы две исторические личности; правильно охарактеризована роль каждой из этих личностей с указанием их конкретных действий, в значительной степени повлиявших на ход и (или) результат названных событий (явлений, процессов) в рамках выбранного процесса	2
	Правильно названы одна-две исторические личности; правильно охарактеризована роль только одной личности с указанием её конкретных действий (или конкретного действия), в значительной степени повлиявших на ход и (или) результат названных событий (явлений, процессов) в рамках выбранного процесса	1
	Правильно названы одна-две исторические личности; роль каждой из них в указанных событиях (явлениях, процессах) в рамках выбранного процесса не охарактеризована / охарактеризована неправильно.	0

	ИЛИ Правильно названы одна-две исторические личности; при характеристике роли каждой из них в указанных событиях (явлениях, процессах), относящихся к выбранному процессу, приведены рассуждения общего характера без указания их конкретных действий, в значительной степени повлиявших на ход и (или) результат названных событий (явлений, процессов). ИЛИ Исторические личности названы неверно. ИЛИ Исторические личности не названы.	
К3	Причинно-следственные связи <i>По данному критерию не засчитываются причинно-следственные связи, названные при указании роли личности и засчитанные по критерию К2</i>	2
	Правильно указаны две причинно-следственные связи, характеризующие причины возникновения событий (явлений, процессов) в рамках выбранного процесса	2
	Правильно указана одна причинно-следственная связь, характеризующая причину возникновения событий (явлений, процессов) в рамках выбранного процесса	1
	Причинно-следственные связи указаны неверно / не указаны	0
К4	Значение (последствие) выбранного процесса для истории России	1
	Указано значение (последствие) выбранного процесса для истории России с опорой на исторические факты	1
	Значение (последствие) выбранного процесса для истории России сформулировано в общей форме или на уровне обыденных представлений, без привлечения исторических фактов. ИЛИ Значение (последствие) выбранного процесса для истории России не указано	0
К5	Использование исторической терминологии	1
	При изложении корректно использована историческая терминология	1
	Все исторические термины, понятия использованы некорректно. ИЛИ Исторические термины, понятия не использованы	0



К6	Наличие фактических ошибок. <i>1, 2 или 3 балла по критерию К6 может быть выставлено только в случае, если по критериям К1–К4 выставлено в сумме не менее 6 баллов</i>	3
	В историческом сочинении отсутствуют фактические ошибки	3
	Допущена одна фактическая ошибка	2
	Допущены две фактические ошибки	1
	Допущено три или более фактические ошибки	0
К7	Форма изложения. <i>1 балл по критерию К7 может быть выставлен только в случае, если по критериям К1–К4 выставлено в сумме не менее 5 баллов</i>	1
	Ответ представлен в виде исторического сочинения (последовательное, связное изложение материала)	1
	Ответ представлен в виде отдельных отрывочных положений	0
	<i>Максимальный балл</i>	12

В соответствии с Порядком проведения государственной итоговой аттестации по образовательным программам среднего общего образования (приказ Минпросвещения России и Рособрнадзора от 07.11.2018 №190/1512, зарегистрирован Минюстом России 10.12.2018 № 52952)

«82. <...> По результатам первой и второй проверок эксперты независимо друг от друга выставляют баллы за каждый ответ на задания экзаменационной работы ЕГЭ с развёрнутым ответом. <...>

В случае существенного расхождения в баллах, выставленных двумя экспертами, назначается третья проверка. Существенное расхождение в баллах определено в критериях оценивания по соответствующему учебному предмету.

Эксперту, осуществляющему третью проверку, предоставляется информация о баллах, выставленных экспертами, ранее проверявшими экзаменационную работу».

Существенными считаются следующие расхождения.

1. Расхождение в баллах, выставленных двумя экспертами за выполнение любого из заданий 20–24, составляет 2 или более балла. В этом случае третий эксперт проверяет только те ответы на задания (из заданий 20–24), которые были оценены со столь существенным расхождением.

2. Расхождение между суммами баллов, выставленных двумя экспертами за выполнение задания 25 по всем (семи) позициям оценивания выполнения данного задания, составляет 5 или более баллов. В этом случае третий эксперт выставляет баллы по всем семи позициям оценивания выполнения задания 25.

3. Расхождение в баллах, выставленных двумя экспертами за выполнение задание 25 по любому из критериев К1–К3, К6 составляет 2 или более балла. В этом случае третий эксперт выставляет баллы по всем критериям оценивания выполнения задания 25.

4. Расхождения в баллах, выставленных двумя экспертами, выявлены по любым четырём или более позициям оценивания ответа на задание 25. В этом случае третий эксперт выставляет баллы по всем позициям оценивания выполнения задания 25.

