

Всероссийская проверочная работа
по профильному учебному предмету «ГЕОГРАФИЯ»
для обучающихся первых курсов по очной форме обучения по образовательным
программам среднего профессионального образования на базе основного общего
образования

Образец

Инструкция по выполнению работы

На выполнение работы по географии отводится 1 час 30 минут (90 минут). Работа включает в себя 17 заданий.

Ответы на задания запишите в поля ответов в тексте работы. В случае записи неверного ответа зачеркните его и запишите рядом новый.

При выполнении работы не разрешается пользоваться учебником, рабочими тетрадями и другими справочными материалами. Разрешается использовать географические атласы и линейку.

При необходимости можно пользоваться черновиком. Записи в черновике проверяться и оцениваться не будут.

Советуем выполнять задания в том порядке, в котором они даны. В целях экономии времени пропускайте задание, которое не удаётся выполнить сразу, и переходите к следующему. Если после выполнения всей работы у Вас останется время, то Вы сможете вернуться к пропущенным заданиям.

Баллы, полученные Вами за выполненные задания, суммируются. Постарайтесь выполнить как можно больше заданий и набрать наибольшее количество баллов.

Желаем успеха!

Таблица для внесения баллов участника

Номер задания	1	2	3	4	5	6	7	8	9	10	11	12	13	14	15	16	17	Сумма баллов	Отметка за работу
Баллы																			

1 Вставьте название государства на место пропуска.

Одним из приграничных субъектов Российской Федерации является Еврейская автономная область, которая имеет выход к Государственной границе Российской Федерации с _____.

Ответ: _____.

2 Группа школьников из Мурманска хочет своими глазами увидеть необычную для них природу степей и лесостепей средней полосы России. Какой из перечисленных заповедников для этого им необходимо посетить?

- 1) Кандалакшский
- 2) Воронежский
- 3) Корякский
- 4) Баргузинский

Ответ.

Задания 3 и 4 выполняются с использованием приведённой ниже карты погоды.



3 Какой из перечисленных городов, показанных на карте, находится в зоне действия циклона?

- 1) Мурманск
- 2) Нарьян-Мар
- 3) Хабаровск
- 4) Якутск

Ответ.

4 Карта погоды составлена на 7 декабря. В каком из перечисленных городов, показанных на карте, на следующий день наиболее вероятно существенное потепление?

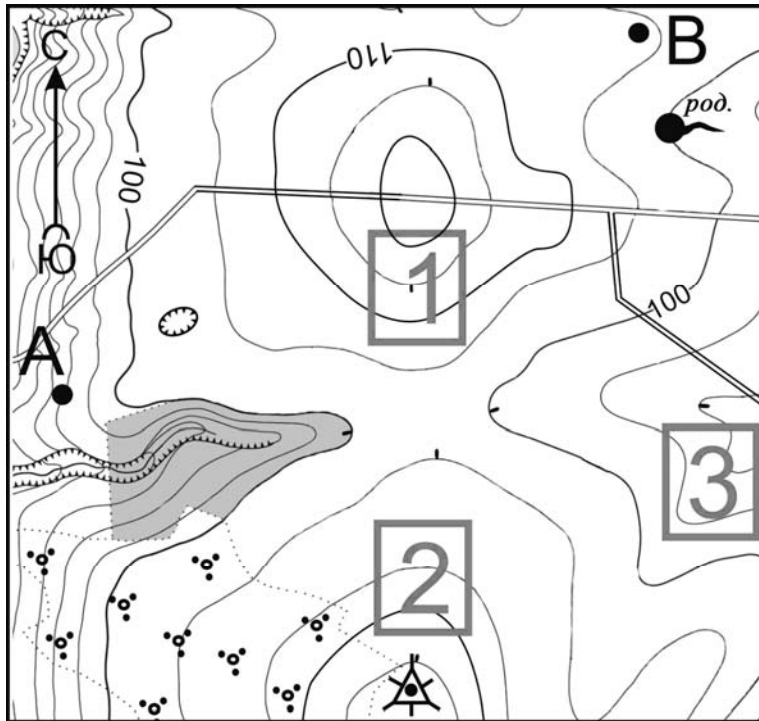
- 1) Воронеж
- 2) Красноярск
- 3) Новороссийск
- 4) Нижневартовск





Ответ.


5 Определите, какой город – столица государства, имеет географические координаты 33° с.ш. 13° в.д.

Ответ: _____.

Задания 6–9 выполняются с использованием приведённого ниже фрагмента топографической карты.



-  род. Родник
-  Пункт государственной геодезической сети
-  Яма
-  Шоссе



Масштаб 1: 10 000

В 1 см 100 м

Горизонтالي проведены через 5 метров

- 6) Определите по карте расстояние на местности по прямой от точки А до пункта государственной геодезической сети. Измерение проводите между точкой и центром условного знака. Полученный результат округлите до десятков метров. Ответ запишите в виде числа.

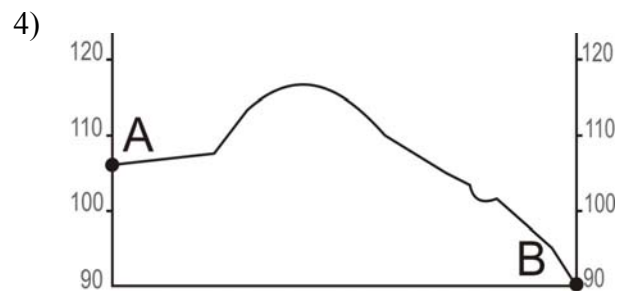

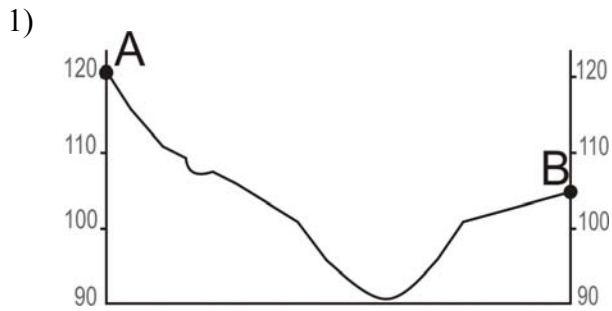
□ Ответ: _____.

- 7) Определите по карте, в каком направлении от точки А находится пункт государственной геодезической сети.

□ Ответ: _____.

8

На рисунках представлены варианты профиля рельефа местности, построенные на основе карты по линии А – В разными учащимися. Какой из профилей построен верно?



□

Ответ.

□

9

Фермер выбирает участок для закладки нового фруктового сада. Ему нужен участок, на котором весной рано сходит снег, а летом почва лучше всего прогревается солнцем. Он также должен иметь расположение, удобное для вывоза собранного урожая на консервный завод. Определите, какой из участков, обозначенных на карте цифрами 1, 2 и 3, больше всего отвечает указанным требованиям. Для обоснования Вашего ответа приведите два довода.

Ответ. _____

□

10 Многолетняя мерзлота оказывает влияние на хозяйственную деятельность человека: разработку полезных ископаемых, прокладку дорог, строительство. В каких двух из перечисленных регионов России необходимо учитывать последствия оттаивания многолетней мерзлоты в результате потепления климата? Запишите в таблицу цифры, под которыми указаны эти регионы.

- 1) Чувашская Республика
- 2) Тульская область
- 3) Красноярский край
- 4) Республика Саха (Якутия)
- 5) Челябинская область

Ответ.

--	--

11 Какие два из перечисленных видов хозяйственной деятельности способствуют охране почв от ветровой эрозии? Запишите в таблицу цифры, под которыми указаны выбранные виды хозяйственной деятельности.

- 1) создание полевых защитных лесополос
- 2) высаживание кустарников и деревьев
- 3) распашка территории
- 4) добыча полезных ископаемых открытым способом
- 5) выпас скота

Ответ.

--	--

Задания 12, 13 выполняются с использованием приведённого ниже текста.

Школьники из нескольких населённых пунктов России обменялись данными, полученными на местных метеостанциях 22 января 2013 г. Собранные ими данные представлены в следующей таблице.

Название пункта	Географические координаты	Высота над уровнем моря, м	Среднесуточная температура воздуха	Продолжительность дня
Воронеж	51° с.ш. 39° в.д.	101	-8 °С	8 ч 38 мин.
Уфа	55° с.ш. 56° в.д.	105	-6 °С	8 ч 13 мин.
Вологда	59° с.ш. 40° в.д.	131	-18 °С	7 ч 22 мин.
Архангельск	65° с.ш. 41° в.д.	18	-8 °С	5 ч 55 мин.

12

Учащиеся проанализировали собранные данные в целях выявления зависимостей между полученными характеристиками. У всех учащихся выводы получились разные. Кто из учащихся сделал верный вывод на основе представленных данных?

- 1) Михаил: «Среднесуточная температура воздуха повышается при движении с востока на запад».
- 2) Дарья: «Продолжительность дня уменьшается при движении с юга на север».
- 3) Борис: «Среднесуточная температура воздуха понижается с увеличением высоты местности».
- 4) Глеб: «Чем больше продолжительность дня, тем выше среднесуточная температура воздуха».

Ответ.

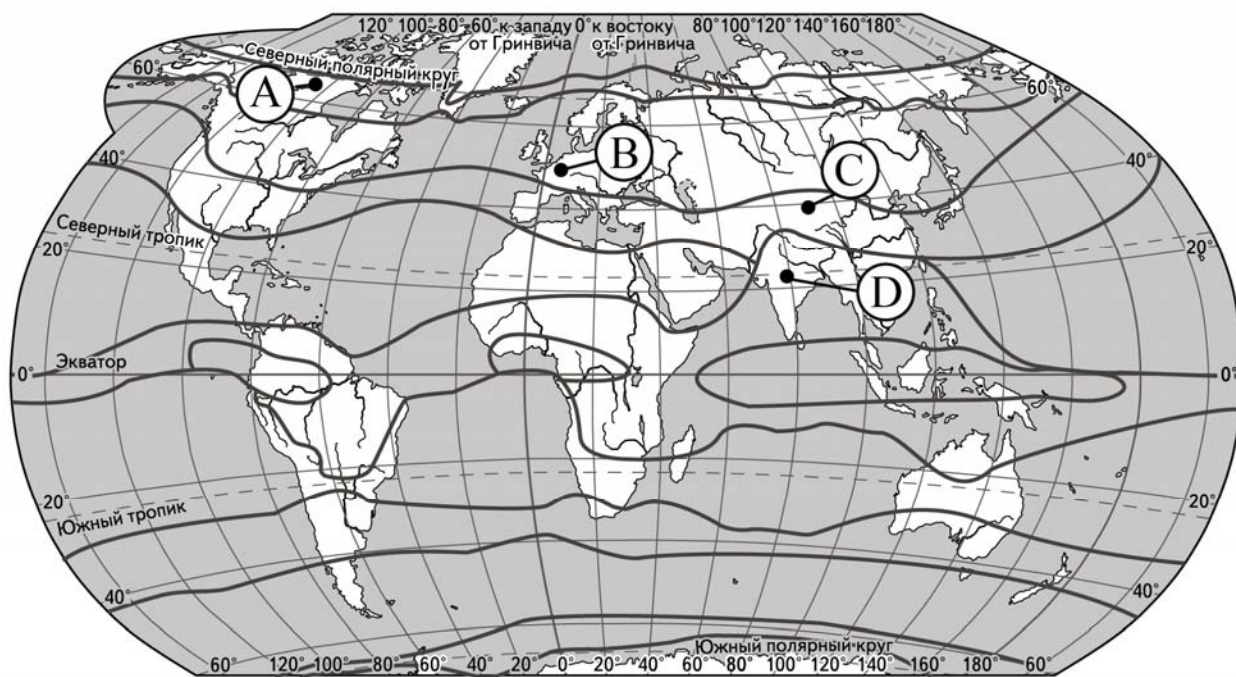
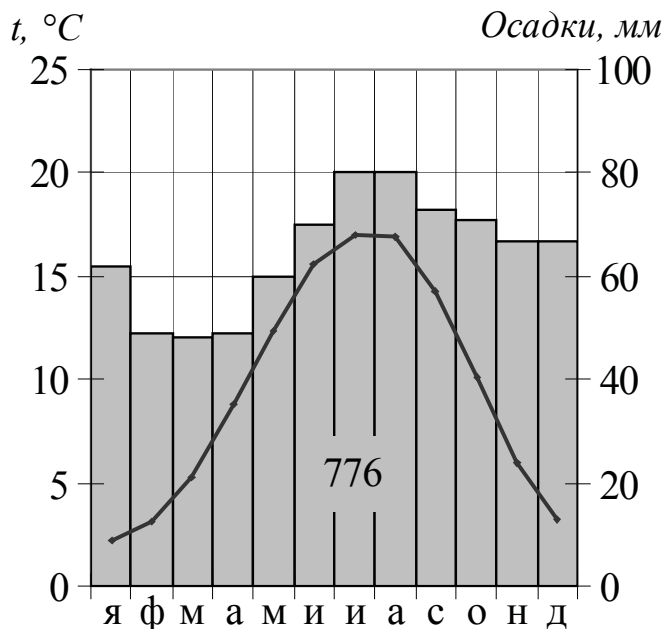
13

В каком из перечисленных городов 1 мая высота Солнца в полдень будет наименьшей?

- 1) Архангельск
- 2) Вологда
- 3) Уфа
- 4) Воронеж

Ответ.

14) Проанализируйте климатограмму и определите, какой буквой на карте обозначен пункт, характеристики климата которого отражены в климатограмме.



— границы климатических поясов

- 1) А 2) В 3) С 4) D

Ответ.

15) Расположите регионы России в той последовательности, в которой их жители встречают Новый год. Запишите в таблицу получившуюся последовательность цифр.

- 1) Кемеровская область
- 2) Чувашская Республика
- 3) Камчатский край

Ответ.

--	--	--

16) Туристические фирмы разных регионов России разработали слоганы (рекламные лозунги) для привлечения туристов в свои регионы. Установите соответствие между слоганами и регионами: к каждому элементу первого столбца подберите соответствующий элемент из второго столбца.

СЛОГАНЫ

- А) Мы предлагаем сплав по реке Катунь, которая берёт начало в ледниках высочайшей горы Сибирь.
- Б) Здесь можно любоваться красотой озера Ильмень, побывать в национальном парке Валдайский – жемчужине средней полосы России!

РЕГИОНЫ

- 1) Новгородская область
- 2) Амурская область
- 3) Ставропольский край
- 4) Республика Алтай

Запишите в таблицу выбранные цифры под соответствующими буквами.

Ответ:

А	Б

17) Какие два из перечисленных народов являются коренными жителями Северного Кавказа? Запишите в таблицу цифры, под которыми указаны эти народы.

- 1) буряты
- 2) марийцы
- 3) карачаевцы
- 4) осетины
- 5) тувинцы

Ответ.

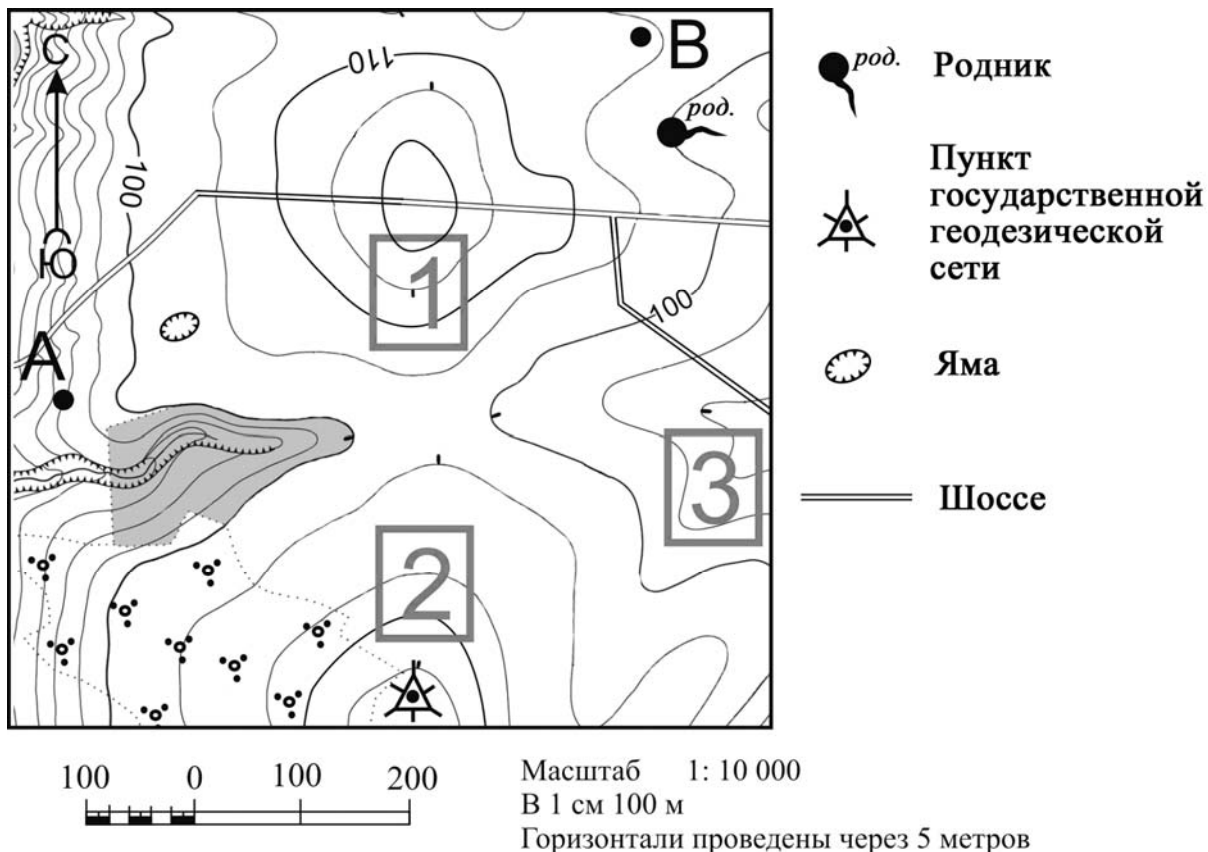
--	--

Система оценивания проверочной работы по географии

Правильный ответ на каждое из заданий 1–8, 10–17 оценивается 1 баллом.

Номер задания	Правильный ответ
1	Китай; Китаем; КНР
2	2
3	3
4	2
5	Триполи
6	390; 400; 410; 420; 430
7	Ю-В; юго-восток; на юго-восток; в юго-восточном
8	3
10	34
11	12
12	2
13	1
14	2
15	312
16	41
17	34

Критерии оценивания выполнения задания с развёрнутым ответом



9

Фермер выбирает участок для закладки нового фруктового сада. Ему нужен участок, на котором весной рано сходит снег, а летом почва лучше всего прогревается солнцем. Он также должен иметь расположение, удобное для вывоза собранного урожая на консервный завод. Определите, какой из участков, обозначенных на карте цифрами 1, 2 и 3, больше всего отвечает указанным требованиям. Для обоснования Вашего ответа приведите два довода.

Содержание верного ответа и указания по оцениванию (допускаются иные формулировки ответа, не искажающие его смысл)	Баллы
В ответе говорится о том, что больше всего указанным требованиям отвечает 1) участок 1. В обосновании приведены следующие доводы: 2) участок находится близко к шоссе; 3) участок находится на склоне южной экспозиции	
Ответ включает в себя все три названных выше элемента	2
ИЛИ В ответе отсутствует 1-й элемент, но говорится, что больше всего указанным требованиям отвечает участок 3, и в обосновании приводится 2-й элемент. ИЛИ В ответе отсутствует 1-й элемент, но в нём верно указаны положение по отношению к шоссе и экспозиция склонов каждого из трёх обозначенных на карте участков	1
Все ответы, которые не соответствуют вышеуказанным критериям выставления оценок в 1 и 2 балла	0
<i>Максимальный балл</i>	2

Система оценивания выполнения всей работы

Максимальный балл за выполнение работы – 18.

Рекомендации по переводу первичных баллов в отметки по пятибалльной шкале

Отметка по пятибалльной шкале	«2»	«3»	«4»	«5»
Первичные баллы	0–6	7–10	11–14	15–18