

4 Из предложенного перечня выберите два вещества, в которых присутствует ковалентная неполярная связь.

- 1) хлор
- 2) сульфид цинка
- 3) иодид калия
- 4) вода
- 5) этан

Запишите в поле ответа номера выбранных веществ.

Ответ:

--	--

5 Установите соответствие между формулой вещества и классом/группой, к которому(-ой) это вещество принадлежит: к каждой позиции, обозначенной буквой, подберите соответствующую позицию из второго столбца, обозначенную цифрой.

ФОРМУЛА ВЕЩЕСТВА	КЛАСС/ГРУППА
A) N_2O_3	1) основания
Б) Al_2O_3	2) кислоты
В) $HClO_4$	3) амфотерные оксиды
	4) основные оксиды
	5) кислотные оксиды
	6) несолообразующие оксиды

Запишите в таблицу выбранные цифры под соответствующими буквами.

Ответ:

А	Б	В

6 Из предложенного перечня выберите два вещества, с которыми реагирует водород.

- 1) хлор
- 2) метан
- 3) оксид меди(II)
- 4) кремний
- 5) фосфор

Запишите в поле ответа номера выбранных веществ.

Ответ:

--	--

7 Сульфат меди(II) добавили к раствору хлорида бария. Выпавший осадок X отфильтровали. К оставшемуся раствору добавили иодид калия, при этом наблюдали образование осадка Y и изменение цвета раствора. Из предложенного перечня выберите вещества X и Y, которые соответствуют приведенному описанию.

- 1) $BaSO_3$
- 2) $BaSO_4$
- 3) CuI_2
- 4) CuI
- 5) KCl

Запишите в таблицу номера выбранных веществ под соответствующими буквами.

Ответ:

X	Y



- 8 Установите соответствие между формулой вещества и реагентами, с каждым из которых это вещество может взаимодействовать: к каждой позиции, обозначенной буквой, подберите соответствующую позицию, обозначенную цифрой.

ФОРМУЛА ВЕЩЕСТВА	РЕАГЕНТЫ
А) Ca	1) HCl, BaCl ₂ , HNO ₃
Б) ZnO	2) Al, NaOH, Na ₂ S
В) CuSO ₄	3) Cu, HCl, BaCl ₂
Г) Na ₂ SO ₃	4) H ₂ , HCl, NaOH
	5) P, HCl, O ₂

Запишите в таблицу выбранные цифры под соответствующими буквами.

Ответ:

А	Б	В	Г

- 9 Установите соответствие между реагирующими веществами и продуктами, которые образуются при взаимодействии этих веществ: к каждой позиции, обозначенной буквой, подберите соответствующую позицию, обозначенную цифрой.

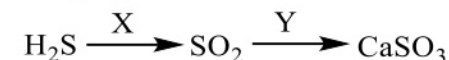
РЕАГИРУЮЩИЕ ВЕЩЕСТВА	ПРОДУКТЫ РЕАКЦИИ
А) Fe ₃ O ₄ и избыток HCl	1) FeCl ₂ и H ₂ O
Б) FeO и избыток HCl	2) FeCl ₂ , Cl ₂ и H ₂ O
В) Fe ₂ O ₃ и избыток HI	3) FeCl ₂ , FeCl ₃ и H ₂ O
Г) Fe ₃ O ₄ и избыток HI	4) FeI ₂ , FeI ₃ и H ₂ O
	5) FeI ₂ , I ₂ и H ₂ O
	6) FeI ₃ и H ₂ O

Запишите в таблицу выбранные цифры под соответствующими буквами.

Ответ:

А	Б	В	Г

- 10 Задана следующая схема превращений веществ:



Определите, какие из указанных веществ являются веществами X и Y.

- O₂ (избыток)
- CO₂
- Ca(NO₃)₂
- Ca(OH)₂
- HNO₃ (конц.)

Запишите в таблицу номера выбранных веществ под соответствующими буквами.

Ответ:

X	Y

- 11 Установите соответствие между названием соединения и классом (группой), к которому(-ой) оно принадлежит: к каждой позиции, обозначенной буквой, подберите соответствующую позицию из второго столбца, обозначенную цифрой.

НАЗВАНИЕ СОЕДИНЕНИЯ	КЛАСС (ГРУППА)
А) крахмал	1) фенолы
Б) рибоза	2) кетоны
В) глицерин	3) спирты
	4) углеводы
	5) аминокислоты
	6) простые эфиры

Запишите в таблицу выбранные цифры под соответствующими буквами.

Ответ:

А	Б	В



12 Из предложенного перечня выберите два вещества, которые являются изомерами циклопентана.

- 1) пентен-2
- 2) 1,2-диметилциклопропан
- 3) циклобутан
- 4) бутен-1
- 5) изобутан

Запишите в поле ответа номера выбранных веществ.

Ответ:

13 Из предложенного перечня выберите два вещества, которые обесцвечивают сернокислый раствор перманганата калия.

- 1) циклогексан
- 2) стирол
- 3) метилбензол
- 4) бензол
- 5) 2-метилпропан

Запишите в поле ответа номера выбранных веществ.

Ответ:

14 Из предложенного перечня выберите два вещества, которые не взаимодействуют с фенолом.

- 1) углекислый газ
- 2) соляная кислота
- 3) формальдегид
- 4) хлорид железа(III)
- 5) азотная кислота

Запишите в поле ответа номера выбранных веществ.

Ответ:

15 Из предложенного перечня выберите два вещества, которые подвергаются гидролизу.

- 1) сахароза
- 2) глюкоза
- 3) целлюлоза
- 4) рибоза
- 5) фруктоза

Запишите в поле ответа номера выбранных веществ.

Ответ:

16 Установите соответствие между реагирующими веществами и углеродсодержащими продуктами их взаимодействия: к каждой позиции, обозначенной буквой, подберите соответствующую позицию, обозначенную цифрой.

РЕАГИРУЮЩИЕ ВЕЩЕСТВА	ПРОДУКТ ВЗАИМОДЕЙСТВИЯ
А) $C_2H_2 + Ag_2O (NH_3)$	1) метан
Б) $C_2H_4 + H_2O (H^+)$	2) этилен
В) $Al_4C_3 + HCl$	3) этанол
Г) $C_2H_4Br_2 + NaOH$ (спирт. р-р)	4) ацетилен
	5) ацетат серебра
	6) ацетиленид серебра

Запишите в таблицу выбранные цифры под соответствующими буквами.

Ответ:

А	Б	В	Г
<input type="text"/>	<input type="text"/>	<input type="text"/>	<input type="text"/>



- 17 Установите соответствие между реагирующими веществами и органическим веществом, которое является продуктом реакции: к каждой позиции, обозначенной буквой, подберите соответствующую позицию, обозначенную цифрой.

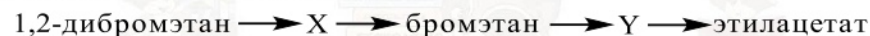
РЕАГИРУЮЩИЕ ВЕЩЕСТВА	ПРОДУКТ РЕАКЦИИ
А) пропанол-1 и сернокислый раствор перманганата калия	1) пропилен
Б) пропанол-2 и сернокислый раствор перманганата калия	2) пропанол-1
В) пропаналь и сернокислый раствор перманганата калия	3) пропанол-2
Г) пропанол-2 и оксид меди(II) (при нагревании)	4) пропандиол-1,2
	5) пропанон
	6) пропионовая кислота

Запишите в таблицу выбранные цифры под соответствующими буквами.

Ответ:

А	Б	В	Г

- 18 Задана следующая схема превращений веществ:



Определите, какие из указанных веществ являются веществами X и Y.

- этанол
- этаналь
- этилен
- ацетилен
- хлорэтан

Запишите в таблицу номера выбранных веществ под соответствующими буквами.

Ответ:

X	Y

- 19 Из предложенного перечня выберите все вещества, которые вступают в окислительно-восстановительную реакцию с раствором серной кислоты.

- цинк
- ацетат бария
- железо
- оксид меди(II)
- гидроксид железа(III)

Запишите в поле ответа номера выбранных веществ.

Ответ: _____

- 20 Из предложенного перечня выберите все внешние воздействия, которые приведут к увеличению скорости химической реакции между азотом и водородом.

- уменьшение концентрации аммиака
- увеличение давления
- уменьшение давления
- уменьшение температуры
- увеличение концентрации водорода

Запишите в поле ответа номера выбранных внешних воздействий.

Ответ: _____



- 21** Установите соответствие между схемой реакции и изменением степени окисления окислителя в этой реакции: к каждой позиции, обозначенной буквой, подберите соответствующую позицию, обозначенную цифрой.

СХЕМА РЕАКЦИИ

ИЗМЕНЕНИЕ СТЕПЕНИ

ОКИСЛЕНИЯ

ОКИСЛИТЕЛЯ

- | | |
|--|------------------------|
| A) $Mg + H_2SO_4 \rightarrow MgSO_4 + H_2S + H_2O$ | 1) $0 \rightarrow -1$ |
| B) $H_2S + H_2O_2 \rightarrow H_2SO_4 + H_2O$ | 2) $-1 \rightarrow -2$ |
| B) $Na_2SO_3 \rightarrow Na_2S + Na_2SO_4$ | 3) $+4 \rightarrow 0$ |
| | 4) $+6 \rightarrow -2$ |
| | 5) $+4 \rightarrow -2$ |
| | 6) $+5 \rightarrow -3$ |

Запишите в таблицу выбранные цифры под соответствующими буквами.

Ответ:

А	Б	В

- 22** Установите соответствие между формулой вещества и продуктами электролиза, которые выделяются на инертных электродах: к каждой позиции, обозначенной буквой, подберите соответствующую позицию, обозначенную цифрой.

ФОРМУЛА ВЕЩЕСТВА

ПРОДУКТЫ ЭЛЕКТРОЛИЗА

- | | |
|--|-------------------------------------|
| A) NaCl (р-р) | 1) Na, Cl ₂ |
| B) CuCl ₂ (р-р) | 2) Cu, Cl ₂ |
| B) NaCl (распл.) | 3) Cu, O ₂ |
| Г) Na ₂ SO ₄ (р-р) | 4) H ₂ , Cl ₂ |
| | 5) Na, O ₂ |
| | 6) H ₂ , O ₂ |

Запишите в таблицу выбранные цифры под соответствующими буквами.

Ответ:

А	Б	В	Г

- 23** Установите соответствие между формулой соли и средой её водного раствора: к каждой позиции, обозначенной буквой, подберите соответствующую позицию, обозначенную цифрой.

ФОРМУЛА СОЛИ

СРЕДА РАСТВОРА

- | | |
|--------------------------------------|----------------|
| A) Fe(NO ₃) ₂ | 1) щелочная |
| B) CH ₃ COONa | 2) кислая |
| B) Na ₂ SO ₄ | 3) нейтральная |
| Г) Pb(NO ₃) ₂ | |

Запишите в таблицу выбранные цифры под соответствующими буквами.

Ответ:

А	Б	В	Г

- 24** Установите соответствие между способом воздействия на равновесную систему



и смещением химического равновесия в результате этого воздействия: к каждой позиции, обозначенной буквой, подберите соответствующую позицию, обозначенную цифрой.

ВОЗДЕЙСТВИЕ НА СИСТЕМУ

СМЕЩЕНИЕ ХИМИЧЕСКОГО РАВНОВЕСИЯ

- | | |
|----------------------------------|-------------------------------|
| A) понижение давления | 1) в сторону прямой реакции |
| B) понижение температуры | 2) в сторону обратной реакции |
| B) уменьшение концентрации хлора | 3) практически не смещается |
| Г) повышение температуры | |

Запишите в таблицу выбранные цифры под соответствующими буквами.

Ответ:

А	Б	В	Г



- 25 Установите соответствие между двумя веществами и признаком реакции, протекающей между ними: к каждой позиции, обозначенной буквой, подберите соответствующую позицию, обозначенную цифрой.

ВЕЩЕСТВА	ПРИЗНАК РЕАКЦИИ
А) Br_2 (водн.) и этилен	1) выделение газа
Б) KMnO_4 (H^+) и пропен	2) обесцвечивание раствора
В) KOH и уксусная кислота	3) образование осадка
Г) CaC_2 и H_2O	4) растворение осадка
	5) видимые признаки реакции отсутствуют

Запишите в таблицу выбранные цифры под соответствующими буквами.

Ответ:

А	Б	В	Г

- 26 Установите соответствие между названием вещества и основной областью применения этого вещества: к каждой позиции, обозначенной буквой, подберите соответствующую позицию, обозначенную цифрой.

НАЗВАНИЕ ВЕЩЕСТВА	ОБЛАСТЬ ПРИМЕНЕНИЯ
А) аммиак	1) производство удобрений
Б) ацетон	2) получение капрона
В) тетрагидрид углерода	3) в качестве растворителя
	4) получение высокомолекулярных соединений
	5) в качестве топлива

Запишите в таблицу выбранные цифры под соответствующими буквами.

Ответ:

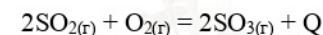
А	Б	В

Ответом к заданиям 27–29 является число. Запишите это число в поле ответа в тексте работы, соблюдая при этом указанную степень точности. Затем перенесите это число в БЛАНК ОТВЕТОВ № 1 справа от номера соответствующего задания, начиная с правой клеточки. Каждый символ пишете в отдельной клеточке в соответствии с приведёнными в бланке образцами. Единицы измерения физических величин писать не нужно.

- 27 Вычислите массу уксусной кислоты, которую следует растворить в 150 г столового 5%-ного уксуса для получения 10%-ного раствора. (Запишите число с точностью до десятых.)

Ответ: _____ г

- 28 При взаимодействии оксида серы(IV) с 5,6 л (н.у.) кислорода в соответствии с уравнением



выделилось 19 кДж теплоты. Определите тепловой эффект этой реакции. (Запишите число с точностью до целых.)

Ответ: _____ кДж

- 29 Какой объём (в литрах при н.у.) кислорода образуется при разложении 0,6 моль оксида ртути(II)? (Запишите число с точностью до сотых.)

Ответ: _____ л

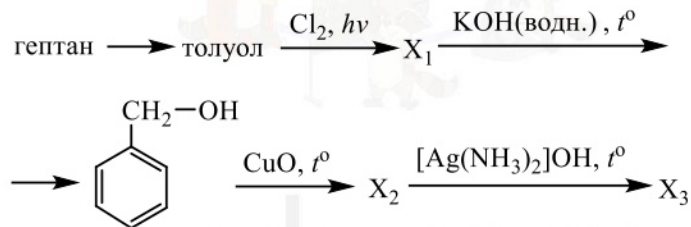
Не забудьте перенести все ответы в бланк ответов № 1 в соответствии с инструкцией по выполнению работы.

Часть 2

Для записи ответов на задания 30–35 используйте БЛАНК ОТВЕТОВ № 2. Запишите сначала номер задания (30, 31 и т.д.), а затем его подробное решение. Ответы записывайте чётко и разборчиво.

Для выполнения заданий 30, 31 используйте следующий перечень веществ: сульфид натрия, серная кислота, оксид углерода(IV), оксид марганца(IV), сульфат аммония, фтороводород. Допустимо использование водных растворов этих веществ.

- 30 Из предложенного перечня веществ выберите вещества, окислительно-восстановительная реакция между которыми приводит к образованию двух солей и простого вещества. Запишите уравнение только одной из возможных окислительно-восстановительных реакций. Составьте электронный баланс, укажите окислитель и восстановитель.
- 31 Из предложенного перечня веществ выберите сильную кислоту и вещество, которое вступает с этой кислотой в реакцию ионного обмена. Запишите молекулярное, полное и сокращённое ионные уравнения только одной из возможных реакций.
- 32 Сульфат железа(III) обработали раствором гидроксида калия. Выделившийся бурый осадок отделили и прокалили. Полученное твердое вещество растворили в иодоводородной кислоте. Образовавшуюся соль выделили и смешали с раствором нитрата серебра. Напишите уравнения четырёх описанных реакций.
- 33 Напишите уравнения реакций, с помощью которых можно осуществить следующие превращения:




При написании уравнений реакций используйте структурные формулы органических веществ.

- 34 Образец нитрата железа(III) массой 363 г разделили на две части. При нагревании первой части образовалась твёрдая смесь оксида железа(III) и нитрата железа(III) с молярным соотношением 3 : 4. К этой смеси последовательно добавили 266 мл воды и 480 г 15%-ного раствора гидроксида натрия. При этом массовая доля гидроксида натрия уменьшилась в 5 раз. Вторую часть добавили к 170 г 34%-ного водного раствора аммиака. Определите массовую долю аммиака в конечном растворе. В ответе запишите уравнения реакций, которые указаны в условии задачи, и приведите все необходимые вычисления (указывайте единицы измерения искомых физических величин).
- 35 Органическое вещество А содержит 1,65% водорода, 39,67% углерода, 26,45% кислорода и 32,23% калия по массе. В веществе А функциональные группы расположены у соседних атомов углерода. Известно, что вещество А образуется при нагревании вещества Б состава $\text{C}_8\text{H}_4\text{Cl}_6$ с избытком раствора гидроксида калия. На основании данных условия задания:
1) произведите вычисления, необходимые для установления молекулярной формулы органического вещества А и запишите молекулярную формулу органического вещества А;
2) составьте структурную формулу вещества А, которая однозначно отражает порядок связи атомов в его молекуле;
3) напишите уравнение реакции, протекающей при нагревании вещества Б с избытком раствора гидроксида калия.







РАСТВОРИМОСТЬ КИСЛОТ, СОЛЕЙ И ОСНОВАНИЙ В ВОДЕ																				
	H ⁺	Li ⁺	K ⁺	Na ⁺	NH ₄ ⁺	Ba ²⁺	Ca ²⁺	Mg ²⁺	Sr ²⁺	Al ³⁺	Cr ³⁺	Fe ²⁺	Fe ³⁺	Mn ²⁺	Zn ²⁺	Ag ⁺	Hg ²⁺	Pb ²⁺	Sn ²⁺	Cu ²⁺
OH ⁻		P	P	P	P	P	M	H	M	H	H	H	H	H	H	-	-	H	H	H
F ⁻	P	M	P	P	P	M	H	H	H	M	H	H	H	P	P	P	-	H	P	P
Cl ⁻	P	P	P	P	P	P	P	P	P	P	P	P	P	P	P	H	P	M	P	P
Br ⁻	P	P	P	P	P	P	P	P	P	P	P	P	P	P	P	H	M	M	P	P
I ⁻	P	P	P	P	P	P	P	P	P	P	?	P	?	P	P	H	H	H	M	?
S ²⁻	P	P	P	P	P	-	-	-	H	-	-	H	-	H	H	H	H	H	H	H
HS ⁻	P	P	P	P	P	P	P	P	P	?	?	?	?	?	?	?	?	?	?	?
SO ₃ ²⁻	P	P	P	P	P	H	H	M	H	?	-	H	?	?	M	H	H	H	?	?
SO ₄ ²⁻	P	P	P	P	P	H	M	P	H	P	P	P	P	P	P	M	-	H	P	P
HSO ₄ ⁻	P	P	P	P	P	?	?	?	-	?	?	?	?	?	?	?	?	H	?	?
NO ₃ ⁻	P	P	P	P	P	P	P	P	P	P	P	P	P	P	P	P	P	P	-	P
NO ₂ ⁻	P	P	P	P	P	P	P	P	P	?	?	?	?	?	?	M	?	?	?	?
PO ₄ ³⁻	P	H	P	P	-	H	H	H	H	H	H	H	H	H	H	H	H	H	H	H
HPO ₄ ²⁻	P	?	P	P	P	H	H	M	H	?	?	H	?	H	?	?	?	M	H	?
H ₂ PO ₄ ⁻	P	P	P	P	P	P	P	P	P	?	?	P	?	P	P	P	?	-	?	?
CO ₃ ²⁻	P	P	P	P	P	H	H	H	H	?	?	H	-	H	H	H	H	H	?	H
HCO ₃ ⁻	P	P	P	P	P	P	P	P	P	?	?	P	?	?	?	?	?	P	?	?
CH ₃ COO ⁻	P	P	P	P	P	P	P	P	P	-	P	P	-	P	P	P	P	P	-	P
SiO ₃ ²⁻	H	H	P	P	?	H	H	H	H	?	?	H	?	H	H	?	?	H	?	?
MnO ₄ ⁻	P	P	P	P	P	P	P	P	P	P	?	?	?	?	P	?	?	?	?	?
Cr ₂ O ₇ ²⁻	P	P	P	P	P	M	P	?	H	?	?	?	P	?	?	H	H	M	?	P
CrO ₄ ²⁻	P	P	P	P	P	H	P	P	H	?	?	?	H	H	H	H	H	H	H	H
ClO ₃ ⁻	P	P	P	P	P	P	P	P	P	P	P	?	?	P	P	P	P	P	?	P
ClO ₄ ⁻	P	P	P	P	P	P	P	P	P	P	P	P	P	P	P	P	P	P	?	P

«P» – растворяется (> 1 г на 100 г H₂O); «M» – мало растворяется (от 0,1 г до 1 г на 100 г H₂O)
 «H» – не растворяется (меньше 0,01 г на 1000 г воды); «-» – в водной среде разлагается
 «?» – нет достоверных сведений о существовании соединений

РЯД АКТИВНОСТИ МЕТАЛЛОВ / ЭЛЕКТРОХИМИЧЕСКИЙ РЯД НАПРЯЖЕНИЙ
 Li Rb K Ba Sr Ca Na Mg Al Mn Zn Cr Fe Cd Co Ni Sn Pb (H₂) Sb Bi Cu Hg Ag Pt Au
 ↓
 активность металлов уменьшается



Периодическая система химических элементов Д.И. Менделеева

		Г р у п п ы										
		I	II	III	IV	V	VI	VII	VIII			
П е р и о д ы	1	1 H 1,008 Водород						(H)				2 He 4,00 Гелий
	2	3 Li 6,94 Литий	4 Be 9,01 Бериллий	5 10,81 B Бор	6 12,01 C Углерод	7 14,00 N Азот	8 16,00 O Кислород	9 19,00 F Фтор				10 Ne 20,18 Неон
	3	11 Na 22,99 Натрий	12 Mg 24,31 Магний	13 26,98 Al Алюминий	14 28,09 Si Кремний	15 30,97 P Фосфор	16 32,06 S Сера	17 35,45 Cl Хлор				18 Ar 39,95 Аргон
	4	19 K 39,10 Калий	20 Ca 40,08 Кальций	21 Sc 44,96 Скандий	22 Ti 47,90 Титан	23 V 50,94 Ванадий	24 Cr 52,00 Хром	25 Mn 54,94 Марганец	26 Fe 55,85 Железо	27 Co 58,93 Кобальт	28 Ni 58,69 Никель	
		29 63,55 Cu Медь	30 65,39 Zn Цинк	31 69,72 Ga Галлий	32 72,69 Ge Германий	33 74,92 As Мышьяк	34 78,96 Se Селен	35 79,90 Br Бром				36 Kr 83,80 Криптон
	5	37 Rb 85,47 Рубидий	38 Sr 87,62 Стронций	39 Y 88,91 Иттрий	40 Zr 91,22 Цирконий	41 Nb 92,91 Ниобий	42 Mo 95,94 Молибден	43 Tc 98,91 Технеций	44 Ru 101,07 Рутений	45 Rh 102,91 Родий	46 Pd 106,42 Палладий	
		47 107,87 Ag Серебро	48 112,41 Cd Кадмий	49 114,82 In Индий	50 118,69 Sn Олово	51 121,75 Sb Сурьма	52 127,60 Te Теллур	53 126,90 I Иод				54 Xe 131,29 Ксенон
	6	55 Cs 132,91 Цезий	56 Ba 137,33 Барий	57 La* 138,91 Лантан	72 Hf 178,49 Гафний	73 Ta 180,95 Тантал	74 W 183,85 Вольфрам	75 Re 186,21 Рений	76 Os 190,2 Осмий	77 Ir 192,22 Иридий	78 Pt 195,08 Платина	
		79 196,97 Au Золото	80 200,59 Hg Ртуть	81 204,38 Tl Таллий	82 207,2 Pb Свинец	83 208,98 Bi Висмут	84 [209] Po Полоний	85 [210] At Астат				86 Rn [222] Радон
	7	87 Fr [223] Франций	88 Ra 226 Радий	89 Ac** [227] Актиний	104 Rf [261] Резерфордий	105 Db [262] Дубний	106 Sg [266] Сиборгий	107 Bh [264] Борий	108 Hs [269] Хассий	109 Mt [268] Мейтнерий	110 Ds [271] Дармштадтий	
		111 [280] Rg Рентгений	112 [285] Cn Коперниций	113 [286] Nh Нихоний	114 [289] Fl Флеровий	115 [290] Mc Московий	116 [293] Lv Ливерморий	117 [294] Ts Теннесси				118 Og [294] Оганесон

* Лантаноиды

58 Ce 140 Церий	59 Pr 141 Прозеодим	60 Nd 144 Неодим	61 Pm [145] Прометий	62 Sm 150 Самарий	63 Eu 152 Европий	64 Gd 157 Гадолиний	65 Tb 159 Тербий	66 Dy 162,5 Диспрозий	67 Ho 165 Гольмий	68 Er 167 Эрбий	69 Tm 169 Тулий	70 Yb 173 Иттербий	71 Lu 175 Лютеций
-----------------------	---------------------------	------------------------	----------------------------	-------------------------	-------------------------	---------------------------	------------------------	-----------------------------	-------------------------	-----------------------	-----------------------	--------------------------	-------------------------

** Актиноиды

90 Th 232 Торий	91 Pa 231 Протактиний	92 U 238 Уран	93 Np 237 Нептуний	94 Pu [244] Плутоний	95 Am [243] Америций	96 Cm [247] Кюрий	97 Bk [247] Берклий	98 Cf [251] Калифорний	99 Es [252] Эйнштейний	100 Fm [257] Фермий	101 Md [258] Менделеевий	102 No [259] Нобелий	103 Lr [262] Лоуренсий
-----------------------	-----------------------------	---------------------	--------------------------	----------------------------	----------------------------	-------------------------	---------------------------	------------------------------	------------------------------	---------------------------	--------------------------------	----------------------------	------------------------------

Система оценивания экзаменационной работы по химии**Часть 1**

За правильный ответ на каждое из заданий 1–6, 11–15, 19–21, 26–29 ставится 1 балл.

Задание считается выполненным верно, если экзаменуемый дал правильный ответ в виде последовательности цифр или числа с заданной степенью точности.

№ задания	Ответ
1	23
2	213
3	45
4	15
5	532
6	13
11	443
12	12
13	23
14	12
15	13
19	13
20	25
21	425
26	133
27	8,3
28	76
29	6,72

Задания 7–10, 16–18, 22–25 считаются выполненными верно, если правильно указана последовательность цифр.

За полный правильный ответ в заданиях 7–10, 16–18, 22–25 ставится 2 балла; если допущена одна ошибка – 1 балл; за неверный ответ (более одной ошибки) или его отсутствие – 0 баллов.

№ задания	Ответ
7	24
8	5421
9	3155
10	14
16	6314
17	6565
18	31
22	4216
23	2132
24	2122
25	2251



Часть 2

Критерии оценивания заданий с развёрнутым ответом

Для выполнения заданий 30, 31 используйте следующий перечень веществ: сульфид натрия, серная кислота, оксид углерода(IV), оксид марганца(IV), сульфат аммония, фтороводород. Допустимо использование водных растворов этих веществ.

30 Из предложенного перечня веществ выберите вещества, окислительно-восстановительная реакция между которыми приводит к образованию двух солей и простого вещества. Запишите уравнение только одной из возможных окислительно-восстановительных реакций. Составьте электронный баланс, укажите окислитель и восстановитель.

Содержание верного ответа и указания по оцениванию (допускаются иные формулировки ответа, не искажающие его смысла)	Баллы
Вариант ответа Элементы ответа: 1) Выбраны вещества, и записано уравнение окислительно-восстановительной реакции: $\text{Na}_2\text{S} + \text{MnO}_2 + 2\text{H}_2\text{SO}_4 = \text{S} + \text{MnSO}_4 + \text{Na}_2\text{SO}_4 + 2\text{H}_2\text{O}$ 2) Составлен электронный баланс, указаны окислитель и восстановитель: $\begin{array}{l} 1 \quad \text{Mn}^{+4} + 2\bar{e} \rightarrow \text{Mn}^{+2} \\ 1 \quad \text{S}^{-2} - 2\bar{e} \rightarrow \text{S}^0 \end{array}$ Сера в степени окисления -2 (или сульфид натрия) является восстановителем. Марганец в степени окисления $+4$ (или оксид марганца(IV)) – окислителем.	
Ответ правильный и полный, содержит все названные выше элементы	2
Правильно записан один элемент ответа	1
Все элементы ответа записаны неверно	0
<i>Максимальный балл</i>	2

31 Из предложенного перечня веществ выберите сильную кислоту и вещество, которое вступает с этой кислотой в реакцию ионного обмена. Запишите молекулярное, полное и сокращённое ионные уравнения только одной из возможных реакций.

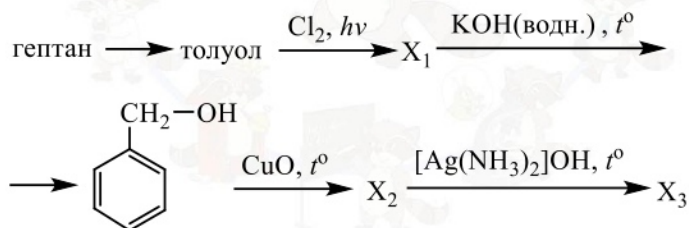
Содержание верного ответа и указания по оцениванию (допускаются иные формулировки ответа, не искажающие его смысла)	Баллы
Вариант ответа Элементы ответа: 1) Выбраны вещества, и записано молекулярное уравнение реакции ионного обмена: $\text{Na}_2\text{S} + \text{H}_2\text{SO}_4 = \text{Na}_2\text{SO}_4 + \text{H}_2\text{S}$ 2) Записаны полное и сокращённое ионные уравнения реакций: $2\text{Na}^+ + \text{S}^{2-} + 2\text{H}^+ + \text{SO}_4^{2-} = 2\text{Na}^+ + \text{SO}_4^{2-} + \text{H}_2\text{S}$ $\text{S}^{2-} + 2\text{H}^+ = \text{H}_2\text{S}$	
Ответ правильный и полный, содержит все названные выше элементы	2
Правильно записан один элемент ответа	1
Все элементы ответа записаны неверно	0
<i>Максимальный балл</i>	2



- 32 Сульфат железа(III) обработали раствором гидроксида калия. Выделившийся бурый осадок отделили и прокалили. Полученное твердое вещество растворили в подоводородной кислоте. Образовавшуюся соль выделили и смешали с раствором нитрата серебра. Напишите уравнения четырёх описанных реакций

Содержание верного ответа и указания по оцениванию (допускаются иные формулировки ответа, не искажающие его смысла)	Баллы
<p>Вариант ответа</p> <p>Ответ включает в себя четыре уравнения возможных реакций, соответствующих описанным превращениям:</p> <p>1) $\text{Fe}_2(\text{SO}_4)_3 + 6\text{KOH} = 2\text{Fe}(\text{OH})_3\downarrow + 3\text{K}_2\text{SO}_4$</p> <p>2) $2\text{Fe}(\text{OH})_3 \xrightarrow{t^\circ} \text{Fe}_2\text{O}_3 + 3\text{H}_2\text{O}$</p> <p>3) $\text{Fe}_2\text{O}_3 + 6\text{HI} = 2\text{FeI}_2 + \text{I}_2 + 3\text{H}_2\text{O}$</p> <p>4) $\text{FeI}_2 + 2\text{AgNO}_3 = 2\text{AgI} + \text{Fe}(\text{NO}_3)_2$</p>	
Правильно записаны 4 уравнения реакций	4
Правильно записаны 3 уравнения реакций	3
Правильно записаны 2 уравнения реакций	2
Правильно записано 1 уравнение реакции	1
Все уравнения реакций записаны неверно	0
<i>Максимальный балл</i>	4

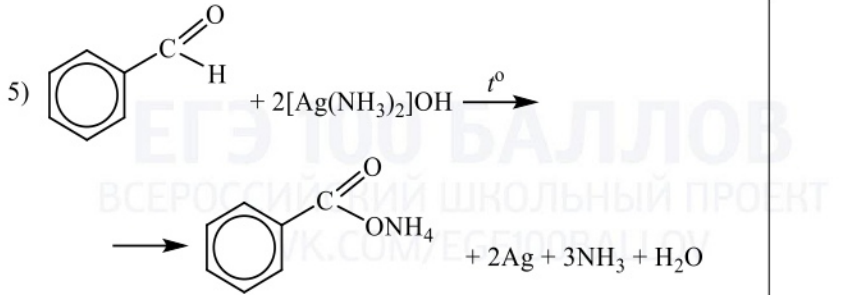
- 33 Напишите уравнения реакций, с помощью которых можно осуществить следующие превращения:



При написании уравнений реакций используйте структурные формулы органических веществ.

Содержание верного ответа и указания по оцениванию (допускаются иные формулировки ответа, не искажающие его смысла)	Баллы
<p>Вариант ответа</p> <p>Ответ включает в себя пять уравнений реакций, соответствующих схеме превращений:</p> <p>1) $\text{CH}_3\text{---CH}_2\text{---CH}_2\text{---CH}_2\text{---CH}_2\text{---CH}_2\text{---CH}_3 \xrightarrow{\text{Pt}, t^\circ} \text{C}_6\text{H}_5\text{CH}_3 + 4\text{H}_2$</p> <p>2) $\text{C}_6\text{H}_5\text{CH}_3 + \text{Cl}_2 \xrightarrow{h\nu} \text{C}_6\text{H}_5\text{CH}_2\text{Cl} + \text{HCl}$</p> <p>3) $\text{C}_6\text{H}_5\text{CH}_2\text{Cl} + \text{KOH} \xrightarrow{\text{водн. р-р}, t^\circ} \text{C}_6\text{H}_5\text{CH}_2\text{OH} + \text{KCl}$</p> <p>4) $\text{C}_6\text{H}_5\text{CH}_2\text{OH} + \text{CuO} \xrightarrow{t^\circ} \text{C}_6\text{H}_5\text{CHO} + \text{Cu} + \text{H}_2\text{O}$</p>	



<p>5) </p>	
Правильно записаны 5 уравнений реакций	5
Правильно записаны 4 уравнения реакций	4
Правильно записаны 3 уравнения реакций	3
Правильно записаны 2 уравнения реакций	2
Правильно записано 1 уравнение реакции	1
Все уравнений реакций записаны неверно	0
<i>Максимальный балл</i>	5

Примечание. Допустимо использование структурных формул разного вида (развёрнутой, сокращённой, скелетной), однозначно отражающих порядок связи атомов и взаимное расположение заместителей и функциональных групп в молекуле органического вещества.

- 34 Образец нитрата железа(III) массой 363 г разделили на две части. При нагревании первой части образовалась твёрдая смесь оксида железа(III) и нитрата железа(III) с молярным соотношением 3 : 4. К этой смеси последовательно добавили 266 мл воды и 480 г 15%-ного раствора гидроксида натрия. При этом массовая доля гидроксида натрия уменьшилась в 5 раз. Вторую часть добавили к 170 г 34%-ного водного раствора аммиака. Определите массовую долю аммиака в конечном растворе. В ответе запишите уравнения реакций, которые указаны в условии задачи, и приведите все необходимые вычисления (указывайте единицы измерения искомых физических величин).

Содержание верного ответа и указания по оцениванию (допускаются иные формулировки ответа, не искажающие его смысла)	Баллы
<p>Вариант ответа Записаны уравнения реакций: [1] $4\text{Fe}(\text{NO}_3)_3 = 2\text{Fe}_2\text{O}_3 + 12\text{NO}_2 + 3\text{O}_2$ [2] $\text{Fe}(\text{NO}_3)_3 + 3\text{NaOH} = \text{Fe}(\text{OH})_3 + 3\text{NaNO}_3$ [3] $\text{Fe}(\text{NO}_3)_3 + 3\text{NH}_3 + 3\text{H}_2\text{O} = \text{Fe}(\text{OH})_3 + 3\text{NH}_4\text{NO}_3$ Приведены необходимые вычисления: $n(\text{Fe}(\text{NO}_3)_3 \text{ в исх. образце}) = 363 / 242 = 1,5 \text{ моль}$ Пусть в полученной смеси $4x$ моль $\text{Fe}(\text{NO}_3)_3$ $n(\text{Fe}_2\text{O}_3) = 3/4n(\text{Fe}(\text{NO}_3)_3 \text{ в полученной смеси}) = 3x \text{ моль}$ $m(\text{Fe}(\text{NO}_3)_3 \text{ в полученной смеси}) = 242 \cdot 4x = 968x \text{ г}$ $n(\text{Fe}(\text{OH})_3)_{[2]} = n(\text{Fe}(\text{NO}_3)_3 \text{ в полученной смеси}) = 4x \text{ моль}$ $m(\text{Fe}(\text{OH})_3)_{[2]} = 107 \cdot 4x = 428x \text{ г}$ $m(\text{NaOH исх.}) = 480 \cdot 0,15 = 72 \text{ г}$ $n(\text{NaOH исх.}) = 72 / 40 = 1,8 \text{ моль}$ $n(\text{NaOH прореаг.}) = 3n(\text{Fe}(\text{NO}_3)_3 \text{ в полученной смеси}) = 12x \text{ моль}$ $n(\text{NaOH ост.}) = 1,8 - 12x \text{ моль}$ $40(1,8 - 12x) = 968x + 266 + 480 - 428x$ $x = 0,1 \text{ моль}$ $n(\text{Fe}_2\text{O}_3) = 3x = 0,3 \text{ моль}$ $n(\text{Fe}(\text{NO}_3)_3 \text{ в полученной смеси}) = 4x = 0,4 \text{ моль}$ $n(\text{Fe}(\text{NO}_3)_3 \text{ разложилось}) = 2n(\text{Fe}_2\text{O}_3) = 0,6 \text{ моль}$ $n(\text{Fe}(\text{NO}_3)_3 \text{ исх.})_{[1]} = 0,6 + 0,4 = 1 \text{ моль}$ $n(\text{Fe}(\text{NO}_3)_3 \text{ исх.})_{[3]} = 1,5 - 1 = 0,5 \text{ моль}$ $m(\text{Fe}(\text{NO}_3)_3 \text{ исх.})_{[3]} = 242 \cdot 0,5 = 121 \text{ г}$ $m(\text{NH}_3 \text{ исх.})_{[3]} = 170 \cdot 0,34 = 57,8 \text{ г}$ $n(\text{NH}_3 \text{ исх.})_{[3]} = 57,8 / 17 = 3,4 \text{ моль}$ $n(\text{NH}_3 \text{ прореаг.})_{[3]} = 3n(\text{Fe}(\text{NO}_3)_3 \text{ исх.})_{[3]} = 1,5 \text{ моль}$ $n(\text{NH}_3 \text{ ост.})_{[3]} = 3,4 - 1,5 = 1,9 \text{ моль}$ $m(\text{NH}_3 \text{ ост.})_{[3]} = 17 \cdot 1,9 = 32,3 \text{ г}$ $n(\text{Fe}(\text{OH})_3)_{[3]} = n(\text{Fe}(\text{NO}_3)_3 \text{ исх.})_{[3]} = 0,5 \text{ моль}$ $m(\text{Fe}(\text{OH})_3)_{[3]} = 107 \cdot 0,5 = 53,5 \text{ г}$ $m(\text{р-ра}) = 121 + 170 - 53,5 = 237,5 \text{ г}$ $\omega(\text{NH}_3) = 32,3 / 237,5 = 0,136$, или 13,6%</p>	
<p>Ответ правильный и полный, содержит следующие элементы:</p> <ul style="list-style-type: none"> • правильно записаны уравнения реакций, соответствующих условию задания; 	4



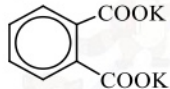
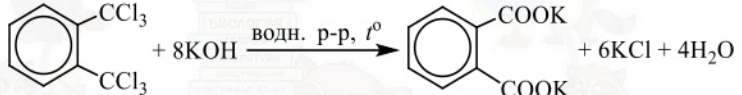
<ul style="list-style-type: none"> правильно произведены вычисления, в которых используются необходимые физические величины, заданные в условии задания; продемонстрирована логически обоснованная взаимосвязь физических величин, на основании которых проводятся расчёты; в соответствии с условием задания определена искомая физическая величина 	
Правильно записаны три элемента ответа	3
Правильно записаны два элемента ответа	2
Правильно записан один элемент ответа	1
Все элементы ответа записаны неверно	0
<i>Максимальный балл</i>	<i>4</i>

Примечание. В случае, когда в ответе содержится ошибка в вычислениях в одном из трёх элементов (втором, третьем или четвёртом), которая привела к неверному ответу, оценка за выполнение задания снижается только на 1 балл.

35 Органическое вещество А содержит 1,65% водорода, 39,67% углерода, 26,45% кислорода и 32,23% калия по массе. В веществе А функциональные группы расположены у соседних атомов углерода. Известно, что вещество А образуется при нагревании вещества Б состава $C_8H_4Cl_6$ с избытком раствора гидроксида калия.

На основании данных условия задания:

- произведите вычисления, необходимые для установления молекулярной формулы органического вещества А и запишите молекулярную формулу органического вещества А;
- составьте структурную формулу вещества А, которая однозначно отражает порядок связи атомов в его молекуле;
- напишите уравнение реакции, протекающей при нагревании вещества Б с избытком раствора гидроксида калия.

Содержание верного ответа и указания по оцениванию (допускаются иные формулировки ответа, не искажающие его смысла)	Баллы
<p>Вариант ответа Элементы ответа: Общая формула вещества А – $C_xH_yO_zK_m$ 1) Составлено выражение для определения соотношения числа атомов углерода, водорода, кислорода и калия в составе вещества А: $x : y : z : m = 39,67 / 12 : 1,65 / 1 : 26,45 / 16 : 32,23 / 39$ Установлено соотношение числа атомов С, Н, О и К в веществе А: $x : y : z : m = 3,306 : 1,65 : 1,653 : 0,826 = 8 : 4 : 4 : 2$ Молекулярная формула вещества А – $C_8H_4O_4K_2$ 2) Составлена структурная формула вещества:</p>  <p>3) Составлено уравнение реакции:</p> 	
<p>Ответ правильный и полный, содержит следующие элементы:</p> <ul style="list-style-type: none"> правильно произведены вычисления, необходимые для установления молекулярной формулы вещества и записана молекулярная формула вещества; записана структурная формула органического вещества, которая отражает порядок связи и взаимное расположение заместителей и функциональных групп в молекуле в соответствии с условием задания; с использованием структурной формулы органического вещества записано уравнение реакции, на которую даётся указание в условии задания 	3
Правильно записаны два элемента ответа	2
Правильно записан один элемент ответа	1
Все элементы ответа записаны неверно	0
<i>Максимальный балл</i>	<i>3</i>

